


Сьогодні
04.04.2023


Урок №96




**Числа 41 – 90. Читання і запис чисел. Додавання та віднімання 1.
Задача, яка містить два**




→ 10




→ 20




→ 30




→ 40




→ 50




→ 60




→ 70



→ 80



→ 90



→ 100

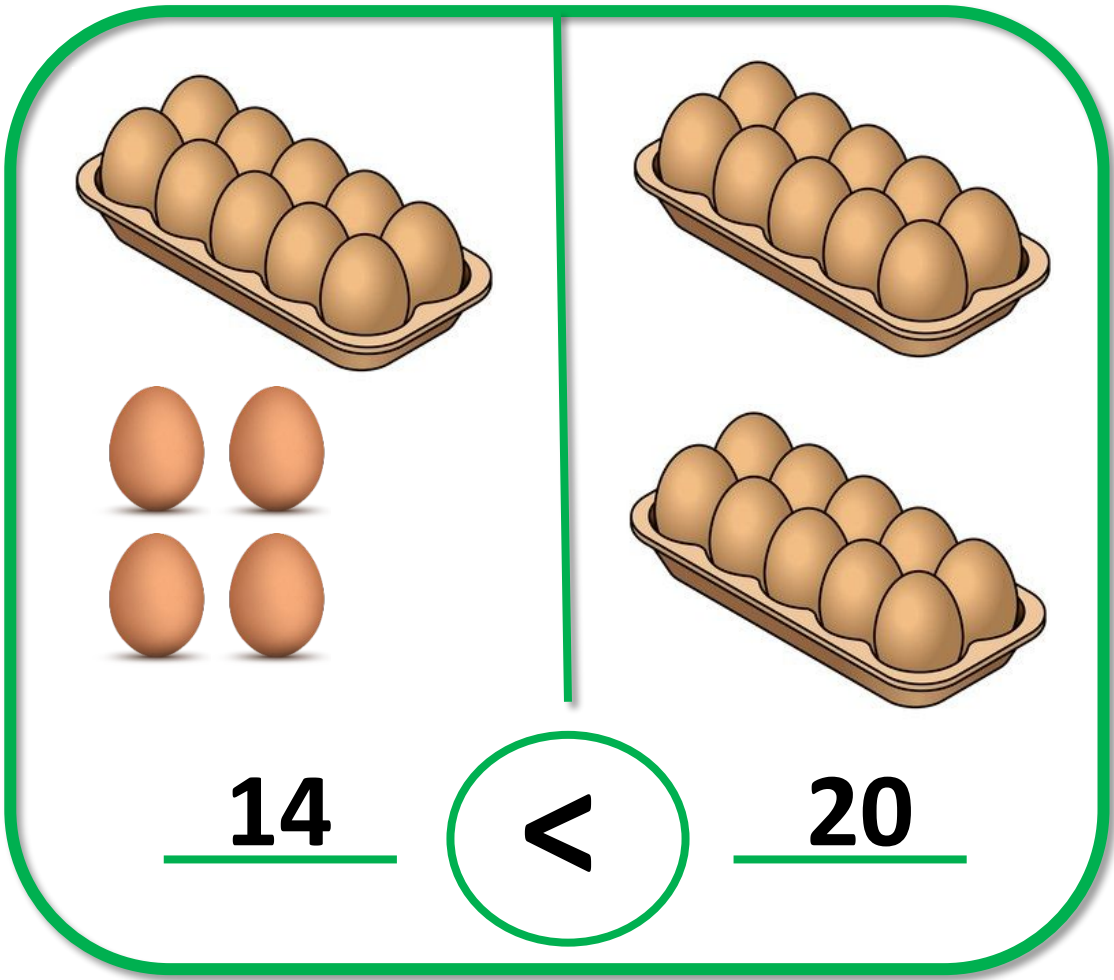


Illustration of 14 eggs (10 in a tray, 4 loose) and 20 eggs (10 in a tray, 10 in another tray).

14 < 20

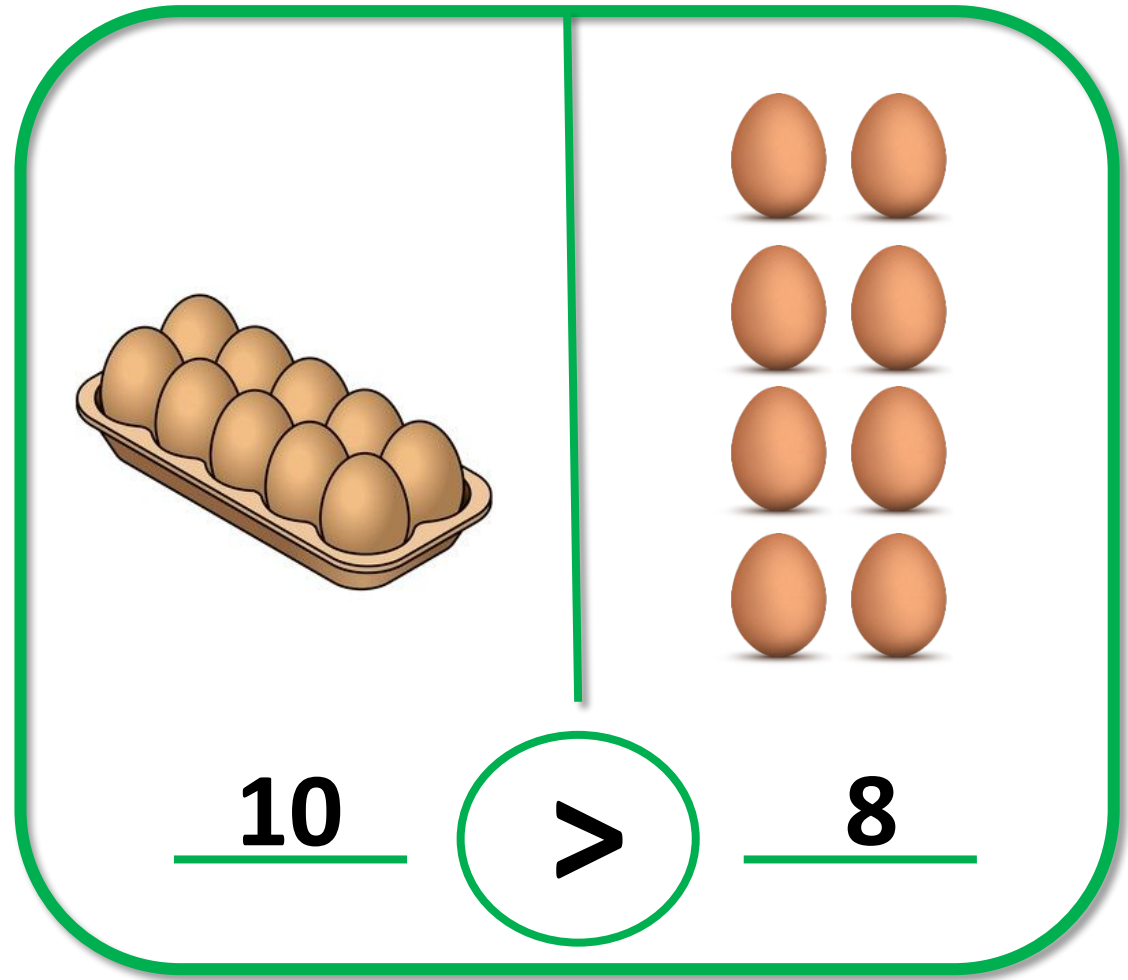










Illustration of 10 eggs in a tray and 8 eggs arranged in two columns of four.

10 > 8



13 < 16



15 < 18

Сім цукерок Толя мав.
Дві цукерки мамі дав.
Дві – малій сестричці Ол
Залишилось скільки в
Толі?

$$7 - 2 - 2 = 3$$



У Оксаночки в руці є чотири
олівці.

А в її подружки Віри


Ось погляньте, ще чотири.

Полічіть-но всі оці кольорові
олівці! $4 + 4 = 8$



В буслів вивелись малята,
Довгоногі бусленята.
Два для тата, два для мами.
Скільки всіх з батьками?

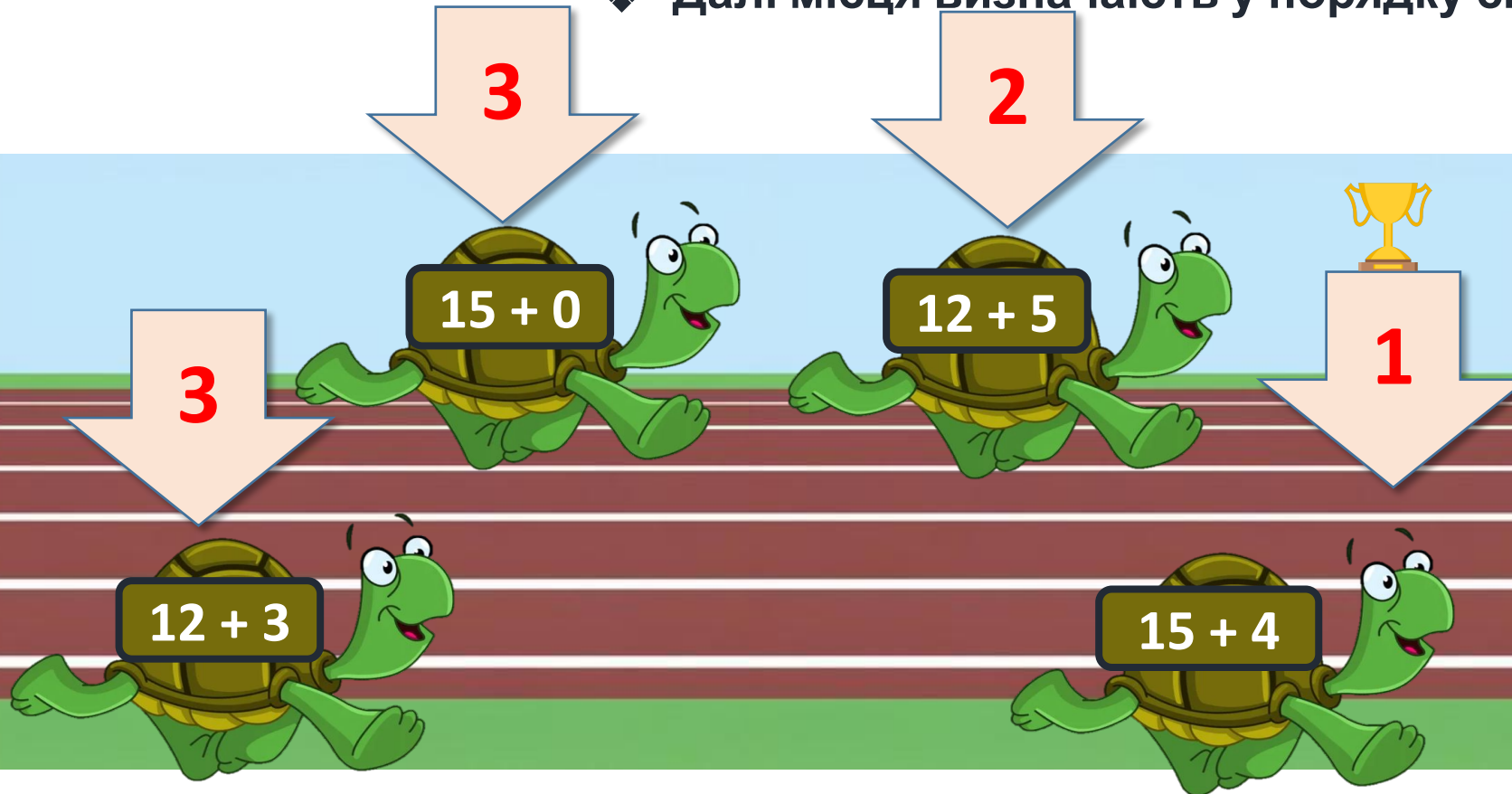
$$2 + 2 + 2 = 6$$



Сьогодні
04.04.2023

Мотивація навчальної діяльності. Дослідження


- ❖ Черепашки вирішили позмагатися.
- ❖ Обчисліть приклади й визначте, хто з черепашок посів призові місця.
- ❖ Виграє в перегонах та, що має найбільше число-відповідь.
- ❖ Далі місця визначають у порядку спадання.



ФІНІШ

Робота з підручником. Десятковий склад числа

- ❖ Скільки предметів на кожному малюнку?
- ❖ Що позначає кожна цифра в записі числа?



$$48 = 40 + 8$$

Сьогодні
04.04.2023

Робота з підручником. Десятковий склад числа

- ❖ Скільки предметів на кожному малюнку?
- ❖ Що позначає кожна цифра в записі числа?

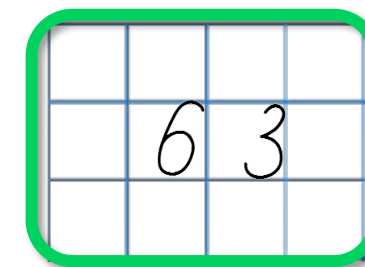



$$72 = 70 + 2$$

Сьогодні
04.04.2023

Робота з підручником. Десятковий склад числа

- ❖ Скільки предметів на кожному малюнку?
- ❖ Що позначає кожна цифра в записі числа?



$$63 = 60 + 3$$

Сьогодні
04.04.2023

Робота з підручником. Обчислення виразів

Обчисли.



$$7 + 1 = 8$$

$$9 + 1 = 10$$

$$17 + 1 = 18$$

$$59 + 1 = 60$$

$$47 + 1 = 48$$

$$89 + 1 = 90$$

Сьогодні
04.04.2023

Робота з підручником. Обчислення виразів

Обчисли.



$$40 - 1 = 39$$

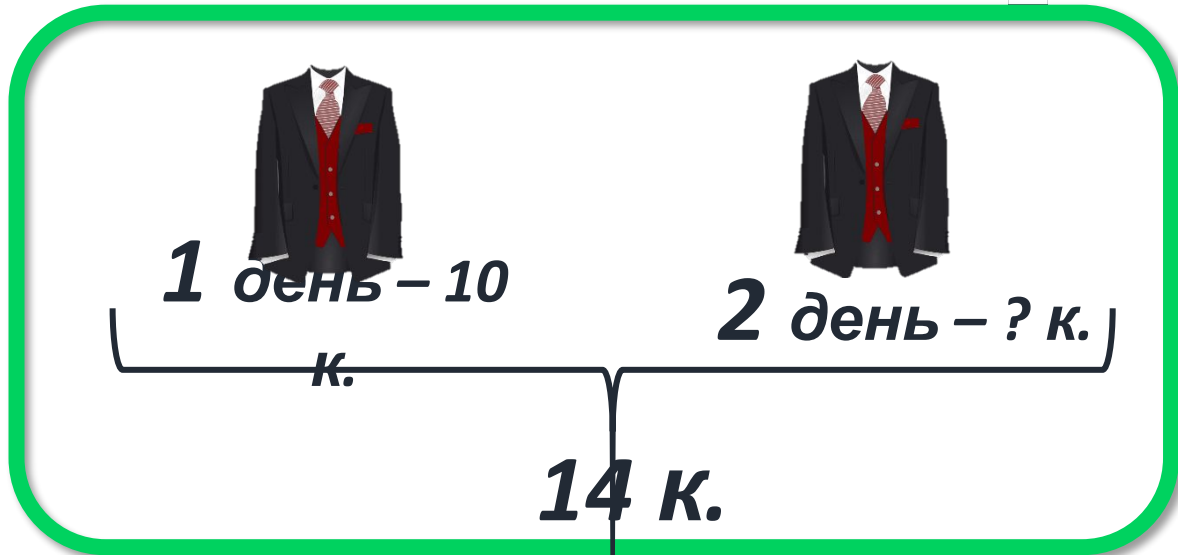
$$4 + 1 - 1 = 4$$

$$60 - 1 = 59$$

$$16 - 3 + 1 = 14$$

$$70 - 1 = 69$$

$$29 + 1 + 1 = 31$$



14	-	10	=	4	(к.)
10	-	4	=	6	(к.)

- ➡ За два дні в магазині продали 14 костюмів. За перший день продали 10 костюмів.
- ➡ 1) Скільки костюмів продали за другий день?
- ➡ 2) За який день продали більше костюмів? На скільки більше?

Відповідь: 4 костюми продали за другий день – це на 6 костюмів менше, ніж за перший день.

Сьогодні
04.04.2023

**Робота у зошиті
(сторінка 27).**



Робота в зошиті

- Напиши за зразком.



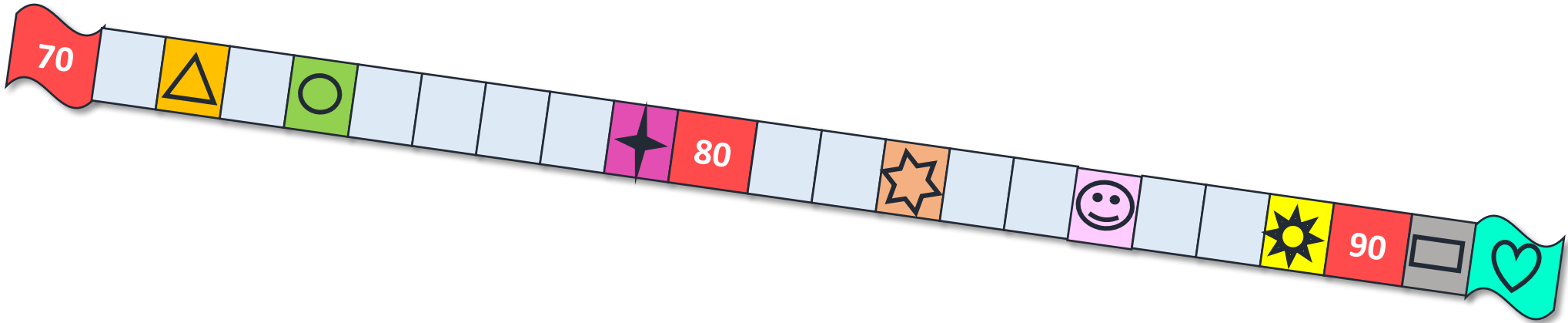
4	5	4	5	4	5	4	5	4	5	4	5	4	5	4	5
6	8	6	8	6	8	6	8	6	8	6	8	6	8	6	8

- Запиши всі числа шостого десятка.




5	1	5	2	5	3	5	4	5	5										
5	6	5	7	5	8	5	9	6	0										

• Укажи номер кожної фігури.



7 4	7 9	8 3	9 2	7 2	8 6	8 9	9 1

- Порівняй.

 $>$ $=$ $<$ 

$67 < 76$

$4 + 5 < 10$


$86 - 1 < 86$

$80 > 8$

$9 - 0 > 0$

$47 + 1 = 48$

- Запиши пропущені числа.



$$67 = 60 + \boxed{7}$$

$$59 = \boxed{50} + 9$$

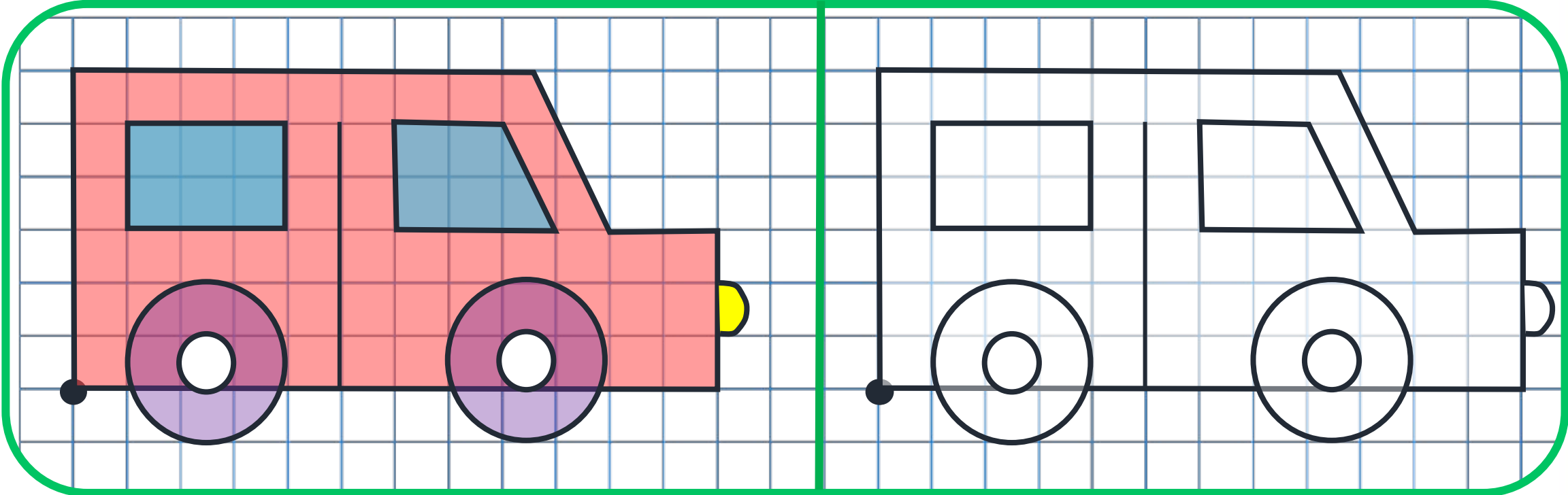
$$45 = \boxed{40} + \boxed{5}$$

$$81 = 80 + \boxed{1}$$

$$73 = \boxed{70} + 3$$

$$88 = \boxed{80} + \boxed{8}$$

- Відтвори малюнок.



Сьогодні
04.04.2023

(щоби відкрити інтерактивне завдання, натисніть на помаранчевий прямокутник)

**Відкрити онлайнове
інтерактивне завдання**