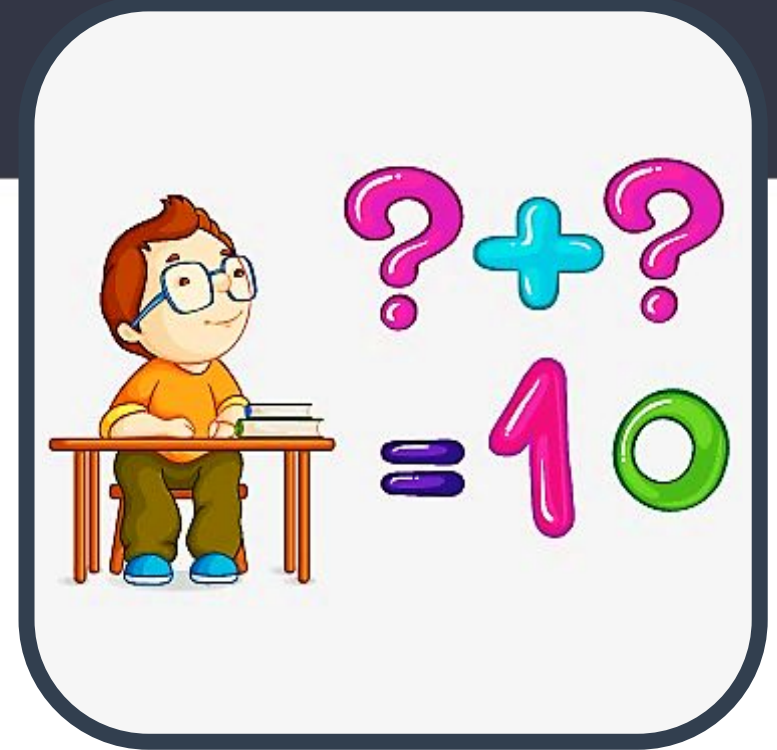


Сьогодні
17.02.2023

Урок
№ 73



**Десятковий склад числа.
Робота над задачами:
аналіз задачі, схеми.**

Гарно й зручно ми
сідаєм,
Щось нове завжди
вивчаєм.

Те, що вчили - пригадаєм,
Будь уважний, починаєм!



Гра «Закінчи речення»

11 – це 10 і

1



14 – це 10 і

4



16 – це 10 і

6



17 – це 10 і

7



13 – це 10 і

3



20 – це 10 і

10





7

$5 + 2$

Illustration of a wooden beehive with a red roof and a circular entrance hole. A yellow and black striped bee is perched on top. The beehive sits on a wooden stand in a garden with green grass, pink flowers, and white daisies.



13

$10 + 3$

Illustration of a wooden beehive with a red roof and a circular entrance hole. A yellow and black striped bee is perched on top. The beehive sits on a wooden stand in a garden with green grass, pink flowers, and white daisies.



2

$6 - 4$

Illustration of a wooden beehive with a red roof and a circular entrance hole. A yellow and black striped bee is perched on top. The beehive sits on a wooden stand in a garden with green grass, pink flowers, and white daisies.



16

$10 + 6$

Illustration of a wooden beehive with a red roof and a circular entrance hole. A yellow and black striped bee is perched on top. The beehive sits on a wooden stand in a garden with green grass, pink flowers, and white daisies.



0

$7 - 7$



Illustration of a wooden beehive with a red roof and a circular entrance hole. A yellow and black striped bee is perched on top. The beehive sits on a wooden stand in a garden with green grass, pink flowers, and white daisies. In the background, a beehive is hanging from a tree branch with several bees flying around it.



11

$10 + 1$

A cartoon bee is perched on top of a wooden beehive. The beehive has a red roof and a circular entrance hole. Below the beehive is a sign with the equation $10 + 1$. Above the sign is a yellow oval containing the number 11. The beehive is surrounded by green grass and small white and pink flowers.



10

$5 + 5$

A cartoon bee is perched on top of a wooden beehive. The beehive has a red roof and a circular entrance hole. Below the beehive is a sign with the equation $5 + 5$. Above the sign is a yellow oval containing the number 10. The beehive is surrounded by green grass and small white and pink flowers.



5

$6 - 1$

A cartoon bee is perched on top of a wooden beehive. The beehive has a red roof and a circular entrance hole. Below the beehive is a sign with the equation $6 - 1$. Above the sign is a yellow oval containing the number 5. The beehive is surrounded by green grass and small white and pink flowers.



18

$10 + 8$

A cartoon bee is perched on top of a wooden beehive. The beehive has a red roof and a circular entrance hole. Below the beehive is a sign with the equation $10 + 8$. Above the sign is a yellow oval containing the number 18. The beehive is surrounded by green grass and small white and pink flowers.



7

$9 - 2$

A cartoon bee is perched on top of a wooden beehive. The beehive has a red roof and a circular entrance hole. Below the beehive is a sign with the equation $9 - 2$. Above the sign is a yellow oval containing the number 7. The beehive is surrounded by green grass and small white and pink flowers. In the background, there is a tree branch with a beehive hanging from it, and several other bees are flying around.

Ведмежатко вранці встало
І важливе щось згадало.
Математику відкрило
Десять прикладів зробило.
Потім встало, потягнулось
І шість раз перевернулось.
Ще задач **сім** розв'язало,
А, втомившись, устало
І замислилось на мить:
Скільки всіх завдань устиг
зробить?

$$10 + 7 = 17$$





Сьогодні
17.02.2023

Повторення про одноцифрове та двоцифрове числа.
Гра «Вилучи зайве число»





- Щоб записати числа 1, 2, 3, 4, 5, 6, 7, 8, 9, потрібна одна цифра.
 - 1, 2, 3, 4, 5, 6, 7, 8, 9 — **одноцифрові числа.**
- Щоб записати числа 10, 11, 12, 13, 14 ... потрібно дві цифри.
 - 10, 11, 12, 13, 14 ... — **двоцифрові числа.**



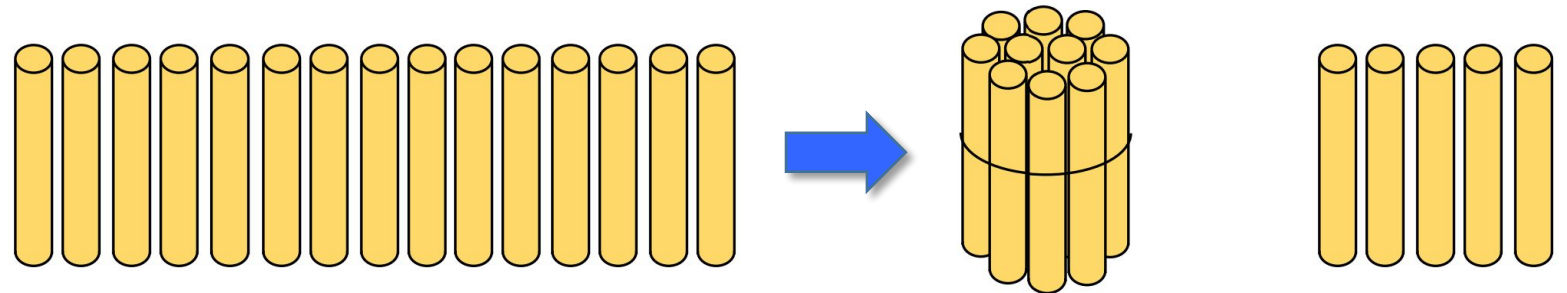
$$12 = 10 + 2$$

Візьmemo 12 кружечків. Відсунемо вниз стільки кружечків, щоб утворити один десяток. Скільки кружечків відсунули? (10.) Покладіть картку з числом. Скільки кружечків залишилося зверху? (2.) На які числа ми розклали число 12? Який вираз можна скласти? ($12 = 10 + 2.$)

Сьогодні
17.02.2023

Робота з підручником. Десятковий склад числа

Розглянь
малюнок.
Прочитай
пояснення.



15

10

+

5

Двоцифрові числа складаються з
десятків та одиниць.



Сьогодні
17.02.2023

Робота з підручником. Розклад числа на доданки

Розклади числа
на доданки за
зразком:



$$11 = 10 + 1$$

$$15 = 10 + 5 \quad 13 = 10 + 3$$

Сьогодні
17.02.2023

Робота з підручником. Розклад числа на доданки

Розклади числа
на доданки за
зразком:

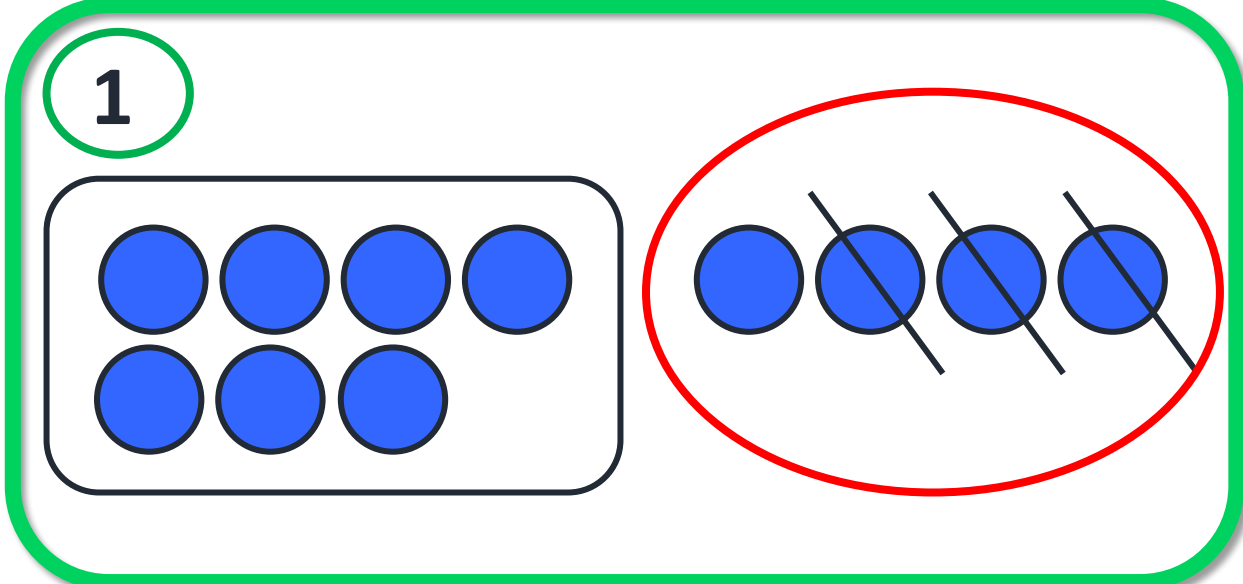


$$11 = 10 + 1$$

$$17 = 10 + 7 \quad 12 = 10 + 2$$

The image illustrates the decomposition of five numbers into tens and units using smiley faces and hands. Each smiley face is positioned between two hands. The hands hold circles containing the tens and units digits, respectively. The numbers are arranged in two rows: 10, 13, and 11 in the top row; 18 and 15 in the bottom row.

Number	Tens Digit	Unit Digit	Unit Label
10	1	0	од.
13	1	3	од.
11	1	1	од.
18	1	8	од.
15	1	5	од.



➡ На куці росло 4 троянди, Тетянка зрізала 3 троянди.

➡ Скільки квітів залишилося на куці?


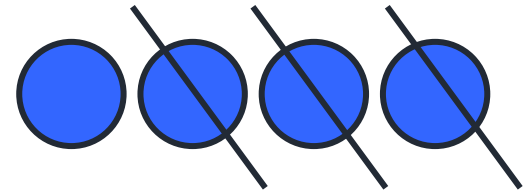
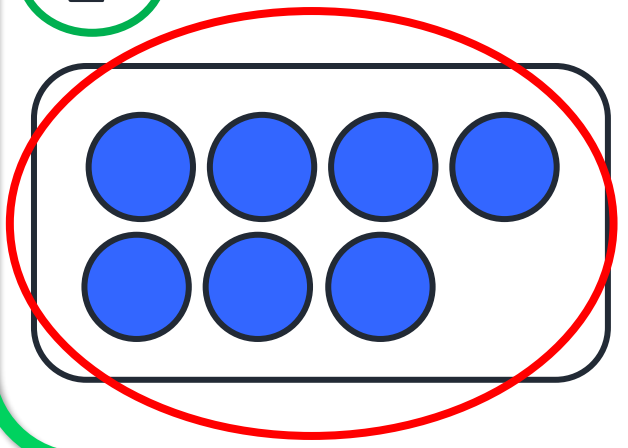
До кожної задачі добери схему. Запиши розв'язання.

$4 - 3 = 1$



Відповідь: 1 квітка залишилася

2



Тетянка зрізала з куща 4 троянди, а потім — ще 3.



Скільки троянд зрізала Тетянка?

До кожної задачі
добери схему.
Запиши розв'язання.


		4	+	3	=	7			

Відповідь: 7 троянд.






=



В Олеся

**у
Руслана**



В Олеся й Руслана є однакова кількість маркерів.



Скільки маркерів міститься в пеналі?



5 - 2 = 3

Відповідь: 3 маркери в пеналі

Сьогодні
17.02.2023

Робота у зошиті.
(сторінка 10).



- З'єднай вираз і його значення.
- Запиши пропущені числа.

10 + 6

10 + 4

10 + 9

10 + 2

10 + 7

10 + 8

- Склади задачу за таблицею.
- Розв'яжи задачу.

у Любомира	В Уляни	Усього
	Стільки само	о ?

$$\boxed{} \quad 3 \quad + \quad 3 \quad = \quad 6 \quad \boxed{}$$

Відповідь: $\boxed{6}$ кульок.



Сьогодні
17.02.2023

Робота в зошиті

- Порівняй.

$>$ $=$ $<$




$$5 + 1 = 6$$

$$4 + 5 = 5 + 4$$

$$6 - 1 < 6$$

$$7 - 3 < 7 + 3$$

- Відтвори малюнок.



Сьогодні
17.02.2023

(щоби відкрити інтерактивне завдання, натисніть на помаранчевий прямокутник)

**Відкрити онлайнове
інтерактивне завдання**



- *На уроці я дізнався (лася)...*
- *Мене найбільш зацікавило...*
- *Було складно...*
- *Вдома я розкажу про...*

