

Сьогодні
14.03.2023






Урок
№ 88



**Числа 21 – 40.
Утворення, читання, запис
чисел. Творча робота над
задачею. Відтворення**

Сьогодні
14.03.2023

Лічба десятками в прямому й зворотньому порядку



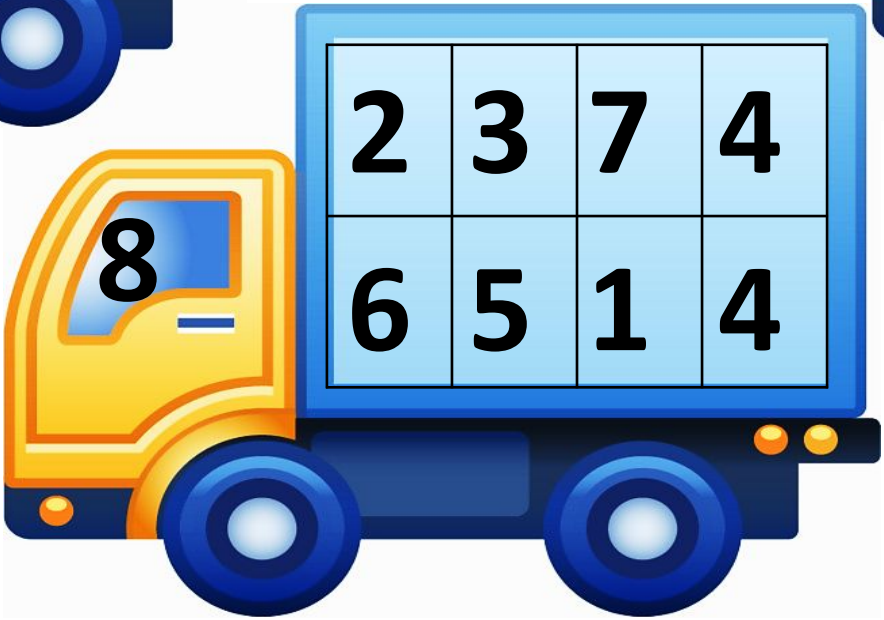
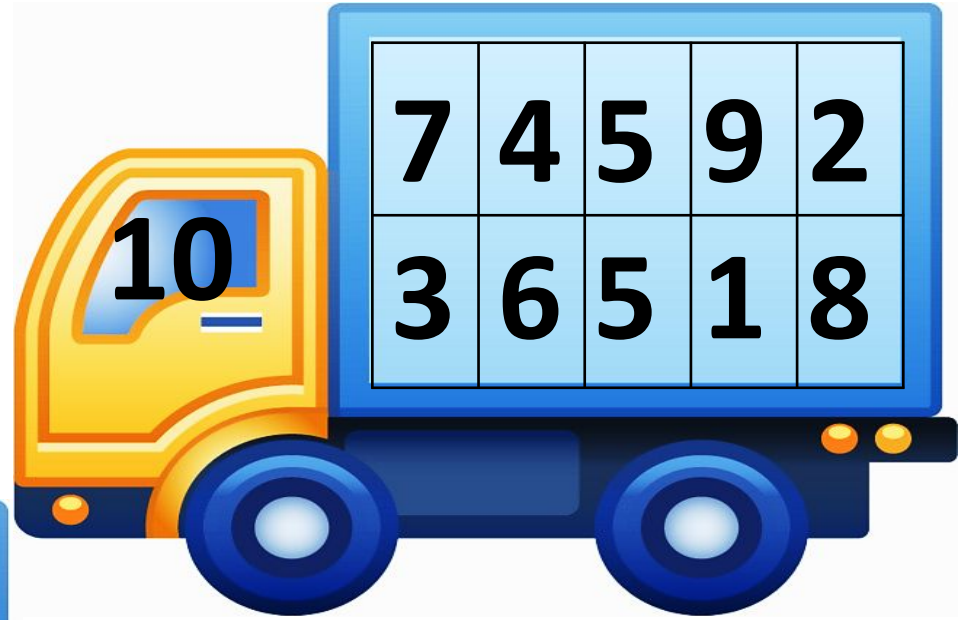
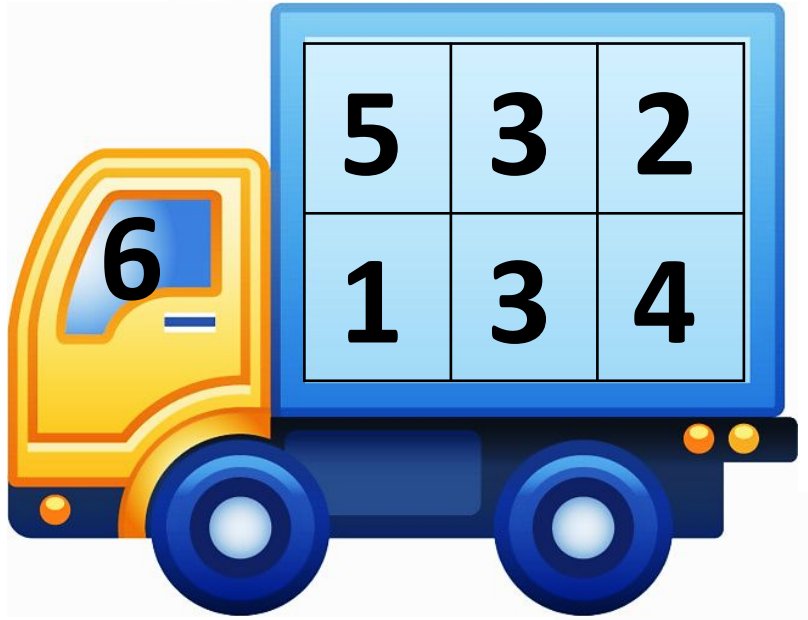
Сьогодні
14.03.2023

Підготовчі вправи. Гра з м'ячиком



Сьогодні
14.03.2023

Повторення складу чисел 6, 5, 10. Гра «Вантажник»



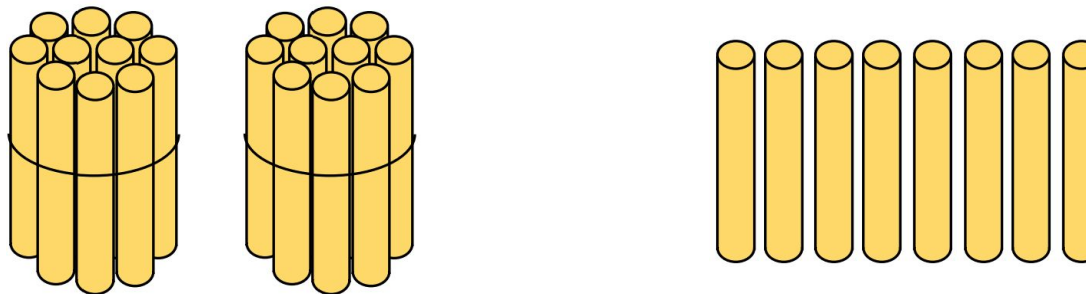


- Які арифметичні дії ви знаєте?
- Як називаються числа при додаванні?
- Яке число при додаванні зазвичай найбільше?
- Чи можна при додаванні отримати те саме число? Коли?
- Як називаються числа при відніманні?
- Яке число при відніманні зазвичай найбільше?

Сьогодні
14.03.2023

Робота з підручником. Десятковий склад числа

Яке число
утворилося?



20

і

7

27

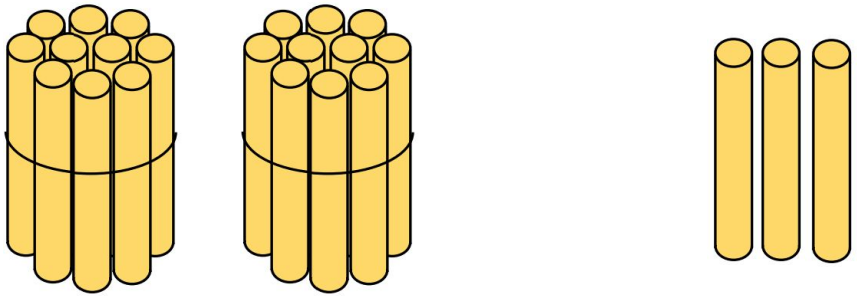
Два десятки і сім одиниць, або
двадцять сім.



Сьогодні
14.03.2023

Робота з підручником. Десятковий склад числа

Скільки паличок на кожному малюнку?
Прочитай і запам'ятай, як ці числа записують цифрами.

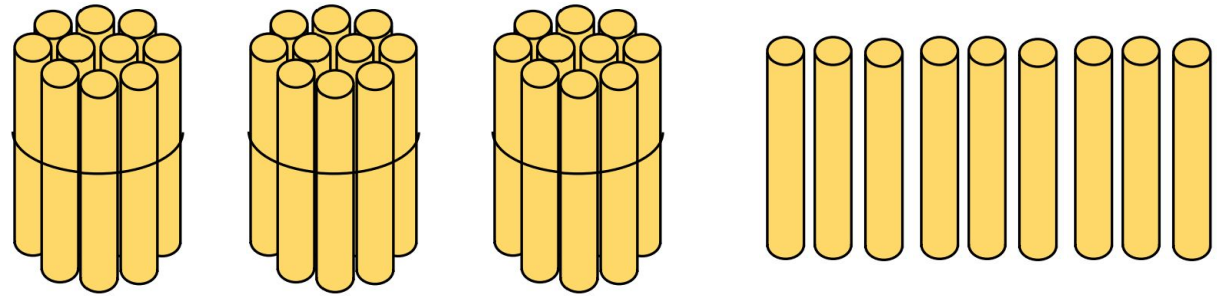


20 і 3



23

двадцять три



30 і 9



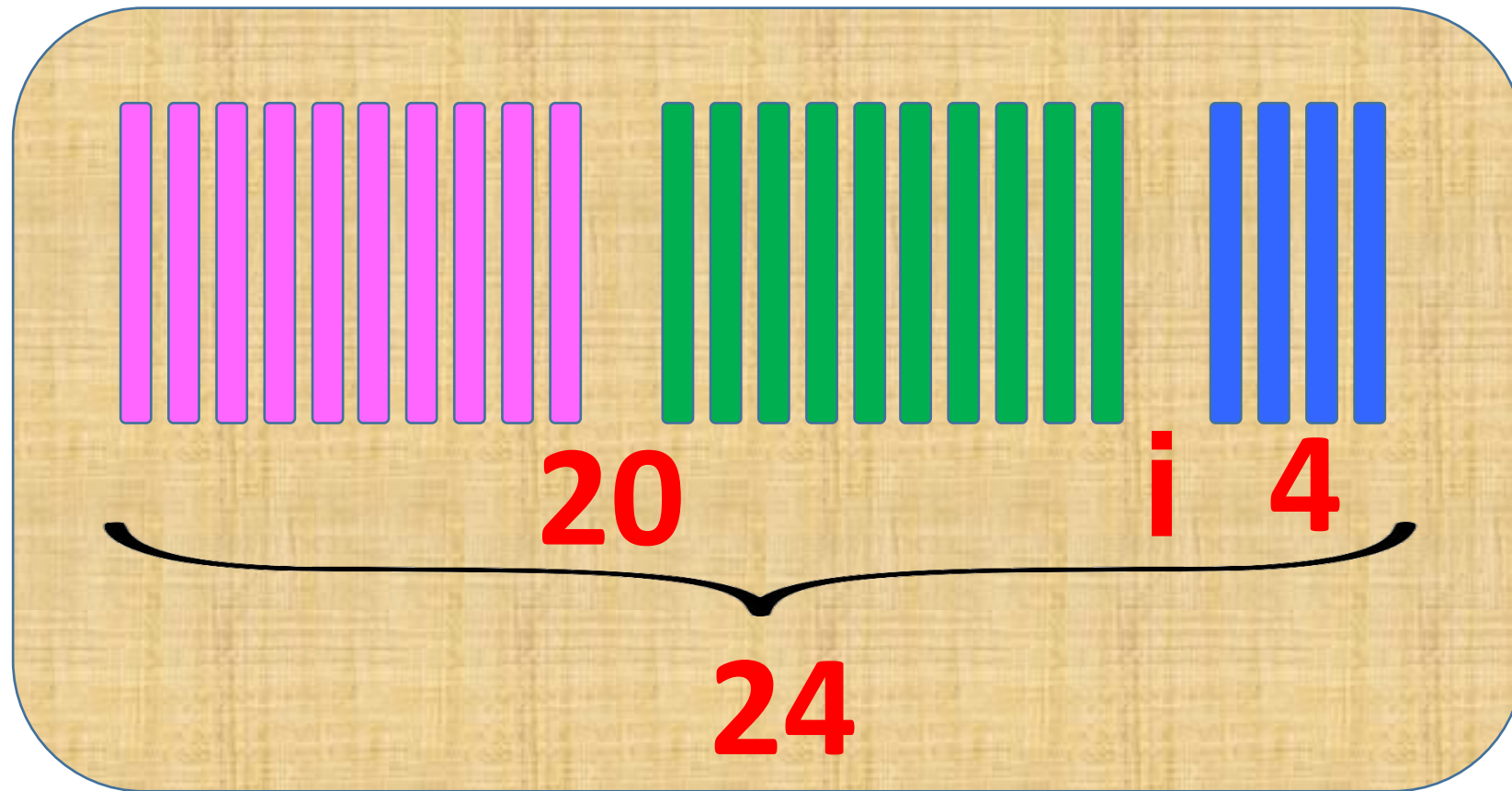
39

тридцять дев'ять

Сьогодні
14.03.2023

Робота з підручником. Практичне завдання

Двадцять чотири.



Покладемо 2 десятки паличок і ще 4 палички. Назви число, яке утворилося?

Скільки олівців на малюнку?
Утвори число.



10 10 10

і 6

36

3	6
---	---

Сьогодні
14.03.2023

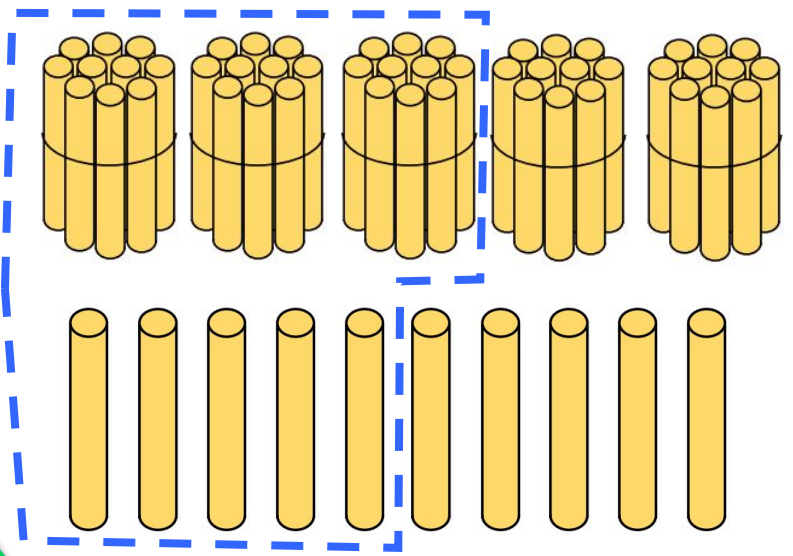
**Робота у зошиті
(сторінка 20).**



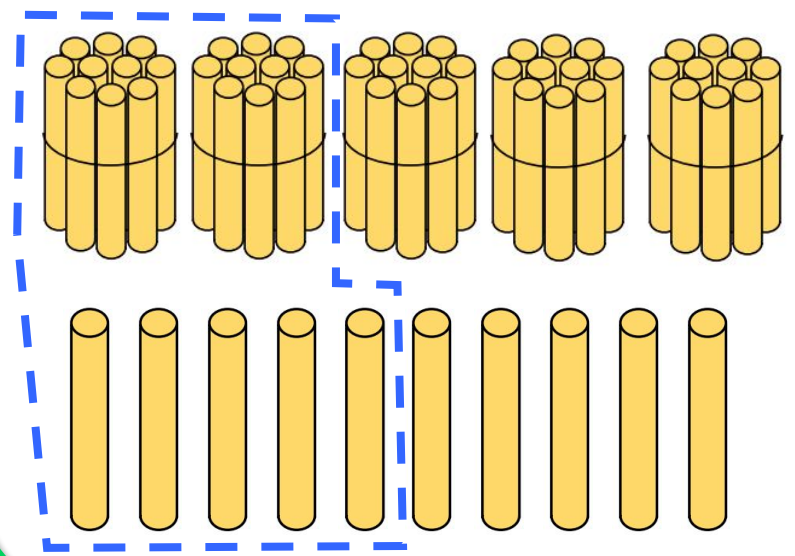
- Обведи на кожному малюнку вказану кількість паличок.



тридцять п'ять



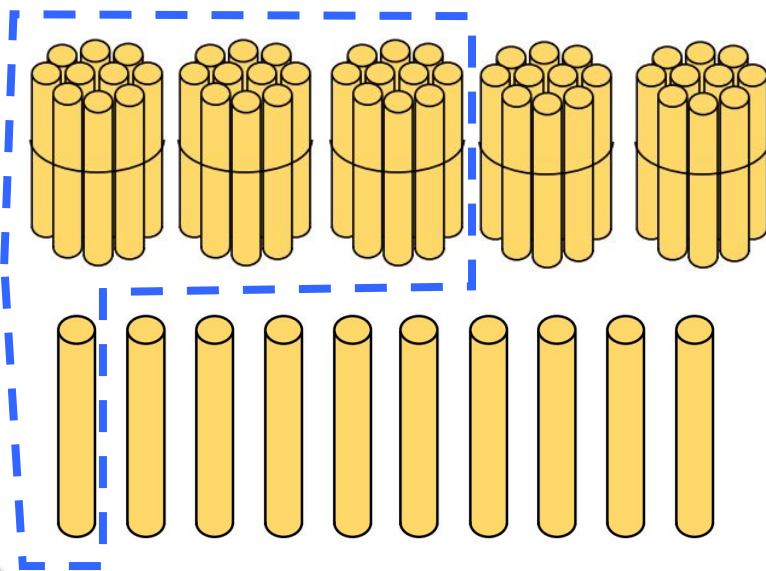
двадцять п'ять



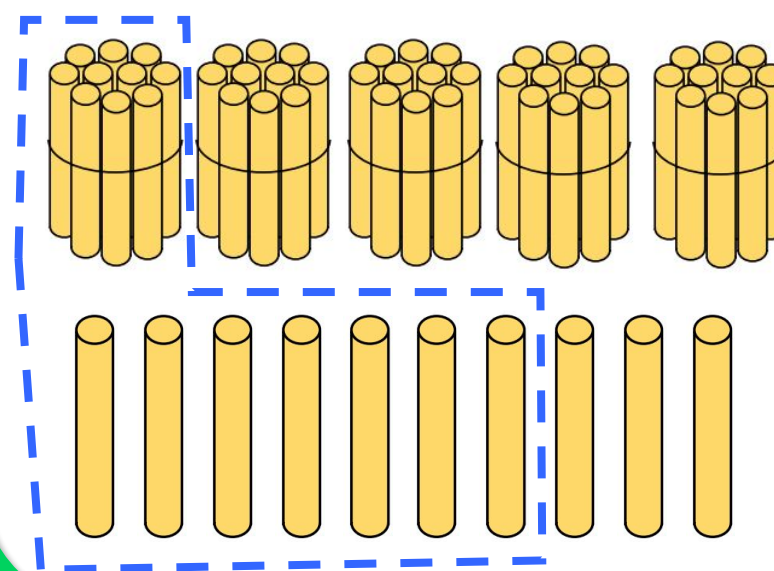
- Обведи на кожному малюнку вказану кількість паличок.



тридцять одна



сімнадцять



- У вазі 6 тюльпанів, в ірисів – на 3 квітки менше.
 - Скільки ірисів у вазі?

*Обведи вираз,
за допомогою якого
можна розв'язати
задачу.*



$$3 + 6$$

$$6 + 3$$

$$6 - 3$$

Сьогодні
14.03.2023

Робота в зошиті

- Порівняй.

$>$ $=$ $<$



$$15 > 5$$

$$10 > 0$$

$$12 - 2 > 2$$

$$15 + 0 = 15$$

$$10 + 0 = 10 - 0$$

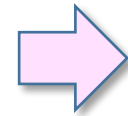
$$15 - 2 < 15 + 2$$

- Розділи п'ятикутник відрізком на трикутник і шестикутник.



Сьогодні
14.03.2023

Усне розв'язування задач



На святі Ганнуся та Петрик виграли цукерки. Ганнуся — 10 цукерок, а Петрик — 7. Хлопчик свої цукерки з'їв.




Скільки цукерок залишилося у дітей?

$$10 + 7 - 7 = 10$$

Сьогодні
14.03.2023

Усне розв'язування задач



У вазі стояв букет із 19 квіток.
Серед них було 8 ромашок, які
наступного дня зів'яли.




Скільки тепер квітів у
букеті?

$$19 - 8 = 11$$

Сьогодні
14.03.2023

Усне розв'язування задач



Для проведення конкурсів аніматор надув 15 повітряних кульок. Раптом 3 кульки луснули.



Скільки кульок залишилося цілими?

$$15 - 3 = 12$$

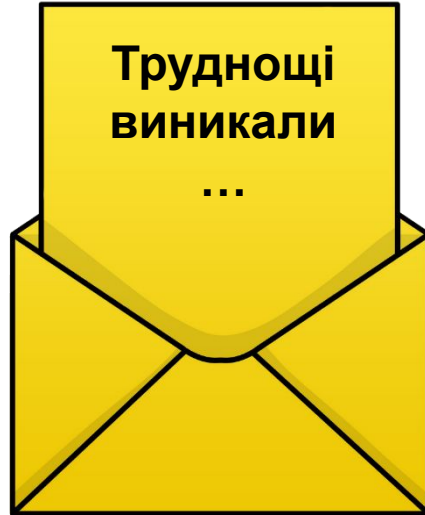
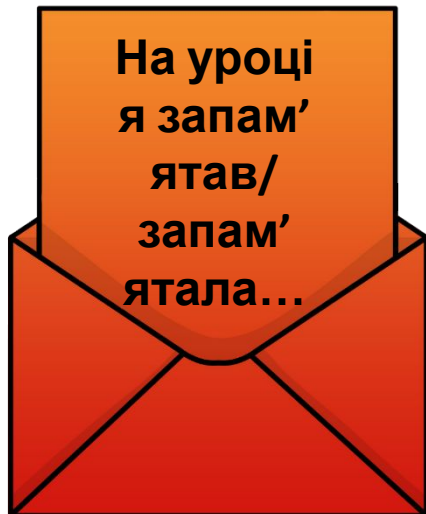
Сьогодні
14.03.2023

(щоби відкрити інтерактивне завдання, натисніть на помаранчевий прямокутник)

**Відкрити онлайнове
інтерактивне завдання**

Сьогодні
14.03.2023

Рефлексія «Загадкові листи»



**Обери лист, який ти хочеш
відкрити**
(для відкриття по листі варто натиснути)

