

Математика

Сьогодні
26.11.2022

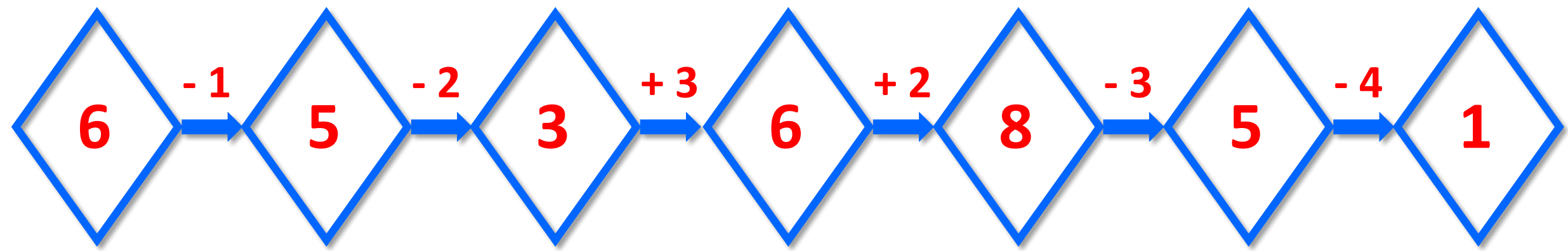
Урок
№41






**Додавання і віднімання
числа 5. Взаємозв'язок дій
додавання і віднімання.**

A red flower with a yellow center containing the equation $+4$. The petals contain the numbers 4, 2, 3, 5, and 6. Five purple butterflies are flying around it, each with a number on its wings: 8, 6, 7, 9, and 10.

A cyan flower with a yellow center containing the equation -4 . The petals contain the numbers 4, 10, 8, 5, and 6. Five blue butterflies are flying around it, each with a number on its wings: 0, 6, 4, 1, and 2.



Повторення переставного закону додавання



Сьогодні
26.11.2022

Актуалізація знання складу числа 5. Вправа «Посади дерево»

Згадайте
склад числа 5.



5

4	1
3	2
0	5
1	4
3	2
0	5





Ось ця цифра жартівлива,
Діток всіх розвеселила.
Як на хвостик
повернеться,
В цифру два враз
обернеться.

П'ять





- Сьогодні на уроці ми дізнаємося, яким чином легко і просто можна додавати і віднімати число 5.

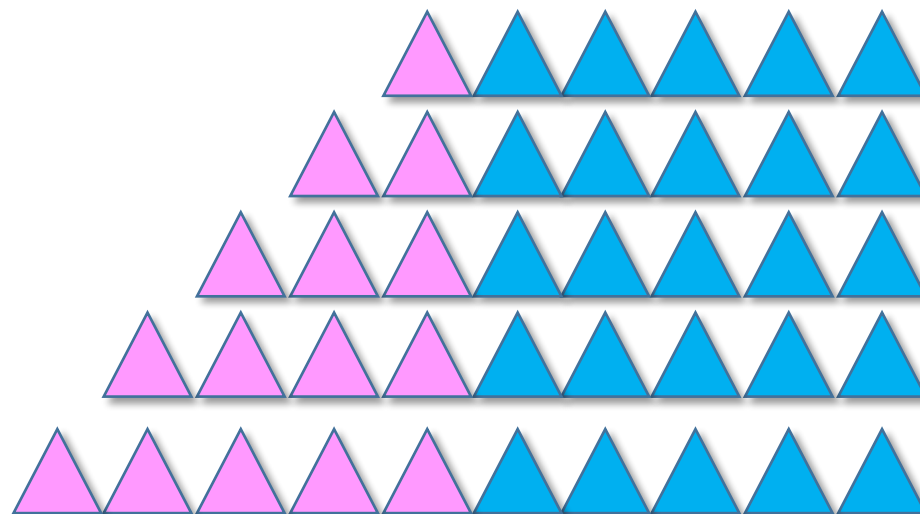


Сьогодні
26.11.2022

Робота з підручником. Додавання і віднімання числа 5

- ❖ Полічи фігури в кожному рядку.
- ❖ Поясни, як утворені таблиці.

Запам'ятай
результати
додавання і
віднімання числа 5.



$$1 + 5 = 6$$

$$2 + 5 = 7$$

$$3 + 5 = 8$$

$$4 + 5 = 9$$

$$5 + 5 = 10$$

$$6 - 5 = 1$$

$$7 - 5 = 2$$

$$8 - 5 = 3$$

$$9 - 5 = 4$$

$$10 - 5 = 5$$



Прочитай вирази, які можна скласти за малюнком.



$$4 + 3 = 7$$

$$7 - 3 = 4$$

$$7 - 4 = 3$$

Обчисли ці вирази.
Що в них спільного й що відмінного?

Сьогодні
26.11.2022

Робота з підручником. Складання та обчислення різниці

$$5 + 3 = 8$$

$$8 - 3 = 5$$

$$8 - 5 = 3$$

$$4 + 2 = 6$$

$$6 - 2 = 4$$

$$6 - 4 = 2$$

$$5 + 4 = 9$$

$$9 - 4 = 5$$

$$9 - 5 = 4$$

$$3 + 1 = 4$$

$$4 - 1 = 3$$

$$4 - 3 = 1$$

Обчисли суми й склади та обчисли різниці за зразком.

Сьогодні
26.11.2022

**Робота у зошиті
(сторінка 40).**



- Виконай додавання числа 5.



$1 + 5 = 6$

$4 + 5 = 9$

$2 + 5 = 7$

$5 + 5 = 10$

$3 + 5 = 8$

- Виконай віднімання числа 5.



$$6 - 5 = 1$$

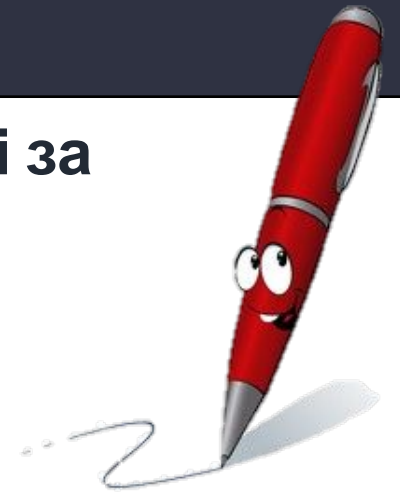
$$9 - 5 = 4$$

$$7 - 5 = 2$$

$$10 - 5 = 5$$

$$8 - 5 = 3$$

- Обчисли суми та склади різниці за зразком.



$$5 + 4 = 9$$

$$6 + 2 = 8$$

$$7 + 1 = 8$$

$$9 - 4 = 5$$

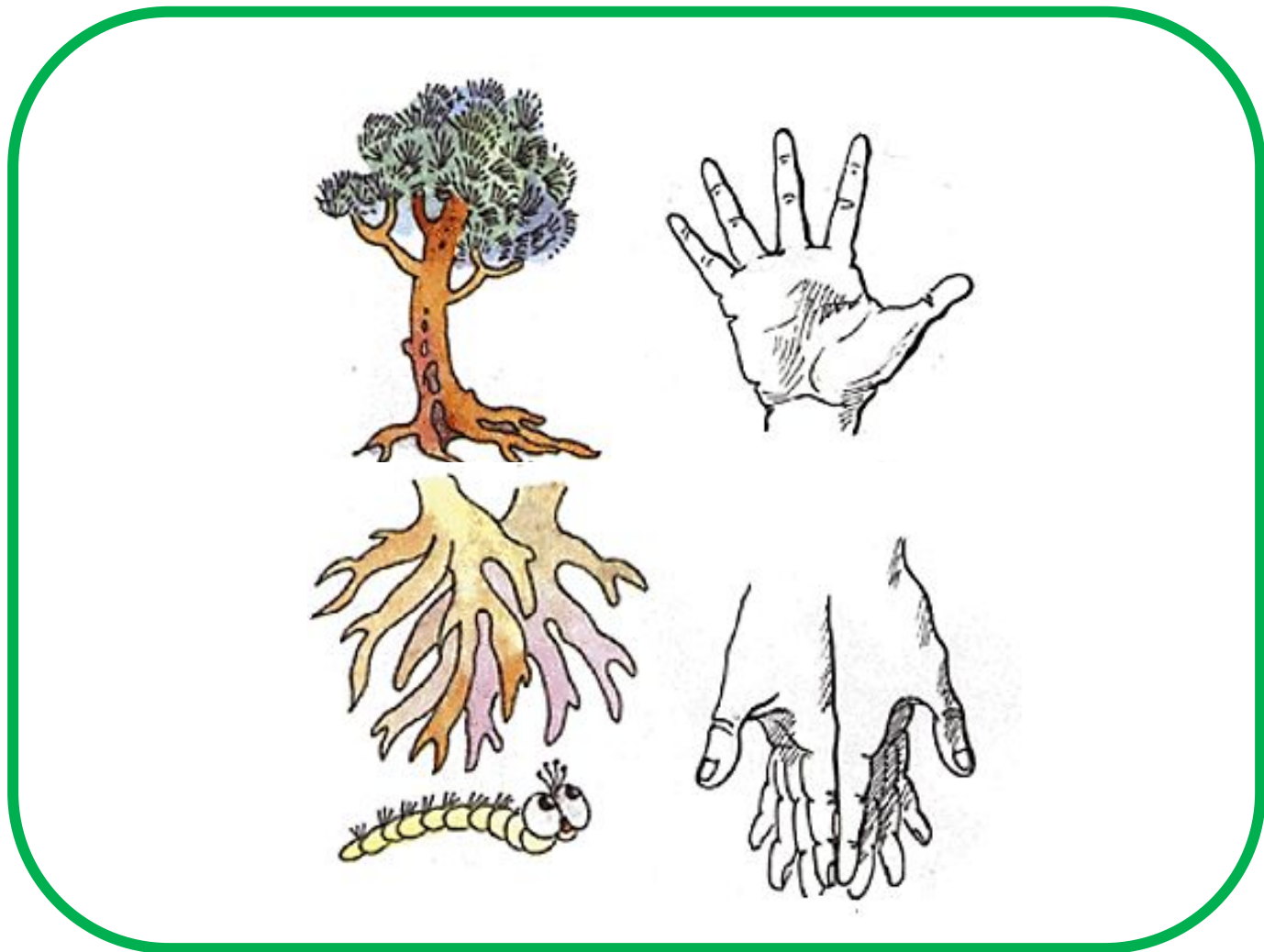
$$8 - 2 = 6$$

$$8 - 1 = 7$$

$$9 - 5 = 4$$

$$8 - 6 = 2$$

$$8 - 7 = 1$$



- Збільш на 3 кожне число в таблиці.



5	1	7	3	2	6	4
<input type="text"/> 8	<input type="text"/> 4	10	<input type="text"/> 6	<input type="text"/> 5	<input type="text"/> 9	<input type="text"/> 7

- Запиши «сусідів» числа 5 і числа 7.









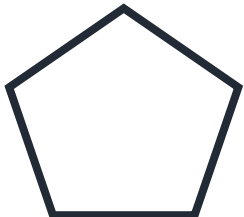
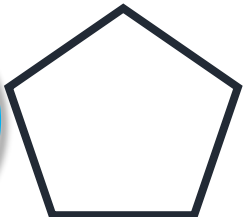
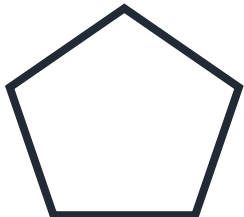

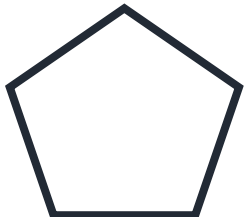
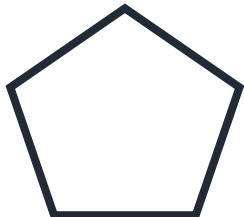





4, 5, 6



6, 7, 8



- У кожному рядку геометричних фігур обведи п'яту зліва фігуру, а п'яту справа – зафарбуй.





- *На уроці я дізнався (лася)...*
- *Мене найбільш зацікавило...*
- *Було складно...*
- *Вдома я розкажу про...*

