

Сьогодні
21.03.2023

Урок
№92



**Порівняння чисел у межах 40.
Задача на знаходження
невідомого доданка.**

Сьогодні
21.03.2023

Організація класу

**Любе сонечко
ясно світить,
Посилає всім
привіти,
Ніжно гріє і
ласкає,**



**До роботи
закликає.
Не баріться,
поспішайте,
І навчатись
починайте.**

Сьогодні
21.03.2023

Підготовчі вправи. Лічба десятками в порядку зростання



10



20



30



40



50



60



70



80



90



100

Сьогодні
21.03.2023

Підготовчі вправи. Лічба десятками в порядку спадання



10



20



30



40



50



60



70



80



90



100

Сьогодні
21.03.2023

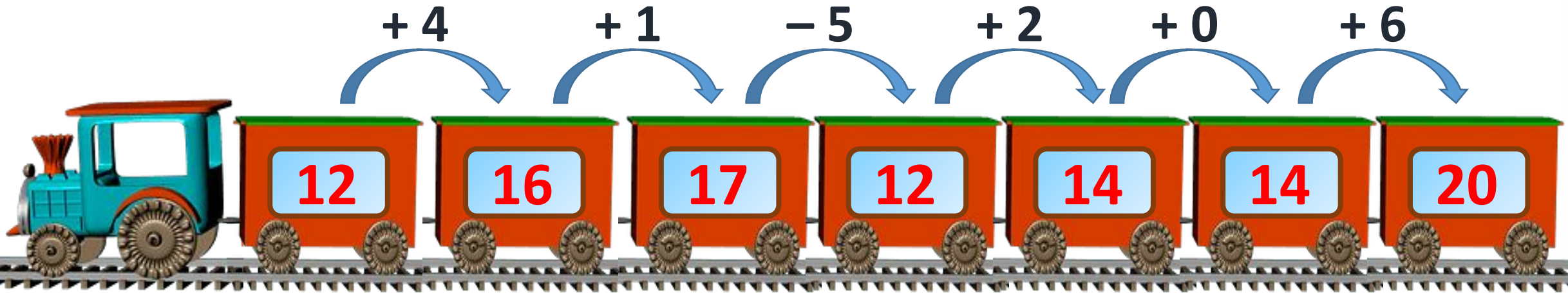
Повторення вивченого про утворення попереднього та наступного чисел



Сьогодні
21.03.2023

Підготовчі вправи. Гра «Намисто»





Обчисли ланцюжком.

Сьогодні
21.03.2023

Усні обчислення. Гра «Чи дістануться Вовчик і Капітошка м'яча?»



$5 + 2$

$- 1$

$+ 4$

$+ 1$


20

$+ 10$

$+ 2$

$+ 8$

$5 - 5$



Сьогодні
21.03.2023

Відновлення таблиці розрядів. Гра «Вантажник»





- Запишіть числа, більші за 27, але менші за 30.
- Перший доданок — 17, другий доданок — 2. Чому дорівнює сума?
- На скільки 27 більше, ніж 25?
- На скільки 10 менше, ніж 18?
- Зменшуване — 15, від'ємник — 4. Чому дорівнює різниця?

Сьогодні
21.03.2023

Порівняння двоцифрових чисел

$>$ $=$ $<$



Порівняй.

$$26 < 39$$

$$36 > 19$$

$$6 < 36$$

Сьогодні
21.03.2023

Порівняння двоцифрових чисел


$>$ $=$ $<$

$20 < 30$


$26 > 12$



Порівняй.




22




30

<




35




18

>




25

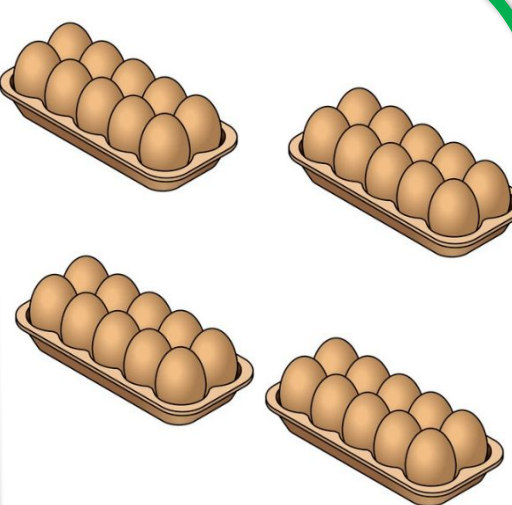


30

<



35



40

<




Висновок:

Із двох двоцифрових чисел більшим є те, у якого більше десятків.

Сьогодні
21.03.2023

Розв'язування задачі. Запис задачі в зошит.



$$\left. \begin{array}{l} \text{Червоних} - 4 \\ \text{Зелених} - ? \end{array} \right\} 8$$

- ➡ У Марійки 8 олівців. Із них 4 — червоного кольору, а решта — зеленого.
- ➡ Скільки у Марійки олівців зеленого кольору?

$$8 - 4 = 4 \text{ (ол.)}$$

В: 4 зелені олівці.

Сьогодні
21.03.2023

(щоби відкрити інтерактивне завдання, натисніть на помаранчевий прямокутник)

**Відкрити онлайнове
інтерактивне завдання**