

СЬОГОДН
03.12.2022

Урок
№ 65

Всім.ррtх
Нова українська школа



**Лічба десятками, сотнями.
Задачі на спільну роботу.**

Усний рахунок. Гра «Листопад»



Усний рахунок. Гра «Листопад»



СЬОГОДН
03.12.2022

Усний рахунок. Гра «Листопад»




Усний рахунок. Гра «Листопад»



Сьогодні
03.12.2022

Усний рахунок. Гра «Листопад»





5 грудня
Класна робота

1 2 3 1 2 3 1 2 3 1 2 3 1 2 3 1 2 3

Запиши каліграфічно число, яке складається з 1 сотні, 2 десятків і 3 одиниць.

Сьогодні
03.12.2022

Полічи.

Лічи десятками від 10 до 100;

10 20 30 40 50 60 70 80 90 100

Лічи сотнями від 100 до 1000.

100 200 300 400 500

600 700 800 900 1000

СЬОГОДН
03.12.2022

Запиши як одне число кожну суму.

$500 + 30 + 7$

$700 + 7$

$500 + 80$

$900 + 90 + 9$

$700 + 70$

$500 + 8$

Завдання 581

537

Сьогодні
03.12.2022

Розглянь записи й поясни, як знаходили суму і різницю.

$$300 + 400 = 700$$
$$3 \text{ с.} + 4 \text{ с.} = 7 \text{ с.}$$

$$800 - 500 = 300$$
$$8 \text{ с.} - 5 \text{ с.} = 3 \text{ с.}$$



Сьогодні
03.12.2022

Обчисли усно з поясненням.

$$400 + 200 = 600$$

$$4 \text{ с.} + 2 \text{ с.} = 6$$

с

$$700 + 100 = 800$$

$$7 \text{ с.} + 1 \text{ с.} = 8$$

с

$$900 - 400 = 500$$

$$9 \text{ с.} - 4 \text{ с.} = 5$$

с

$$500 - 400 = 100$$

$$5 \text{ с.} - 4 \text{ с.} = 1$$

с

Сьогодні
03.12.2022

Обчисли з поясненням.



$$300 + 600 - 200 = 700$$

$$3 \text{ с.} + 6 \text{ с.} - 2 \text{ с.} = 7$$

с

$$500 + 500 - 300 = 700$$

$$5 \text{ с.} + 5 \text{ с.} - 3 \text{ с.} = 7$$

с

Вирази 5 8 4

$$300 + 100 + 7 =$$

$$200 + 200 + 50 =$$

$$500 - 200 + 50 =$$

$$50 - 10 + 600 =$$

$$449 + 1 =$$

$$380 - 1 =$$



СЬОГОДН
03.12.2022

Прочитай масу кожної тварини. Дай відповіді
на запитання.



600кг



200кг



400кг

Сьогодні
03.12.2022

Прочитай масу кожної тварини. Дай відповіді
на запитання.

На скільки кілограмів поні легший, ніж
кінь?



600 кг



200 кг



400 кг

Сьогодні
03.12.2022

Прочитай масу кожної тварини. Дай відповіді
на запитання.

На скільки кілограмів кінь важчий, ніж
зебра?



600кг



200кг



400кг

Сьогодні
03.12.2022

Прочитай масу кожної тварини. Дай відповіді
на запитання.

Яка маса коня і поні разом?



600кг



200кг



400кг

Сьогодні
03.12.2022

Прочитай масу кожної тварини. Дай відповіді
на запитання.

Яка маса коня і зебри разом?



600кг




200кг



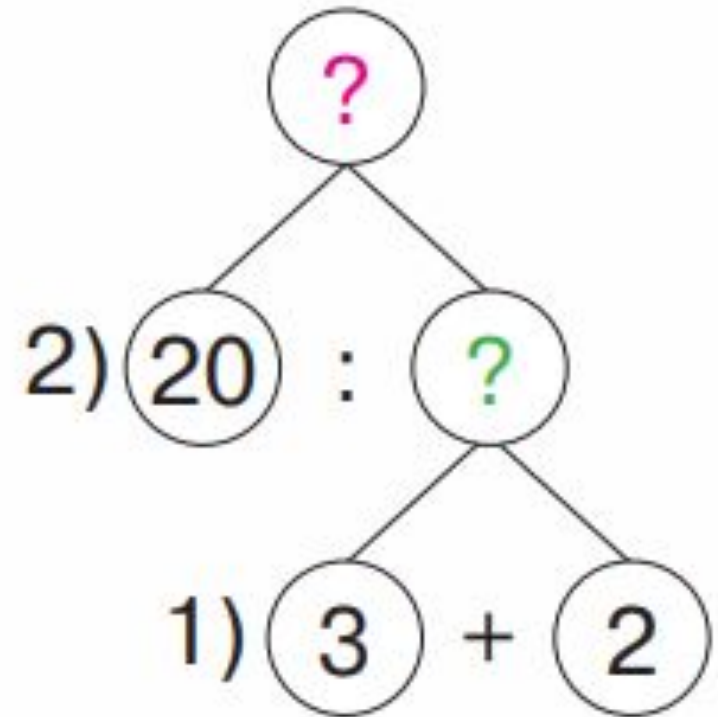
400кг

Сьогодні
03.12.2022

Прочитай задачу та розглянь схему до неї. Що знаходимо в першій дії? А що — у другій?



Одна вишивальниця вишиває 3 серветки за день, а інша — 2. За скільки днів вони вишиють 20 серветок, якщо працюватимуть



Задача 586

1) = (с.) - за 1 день;

2) = (дн.)

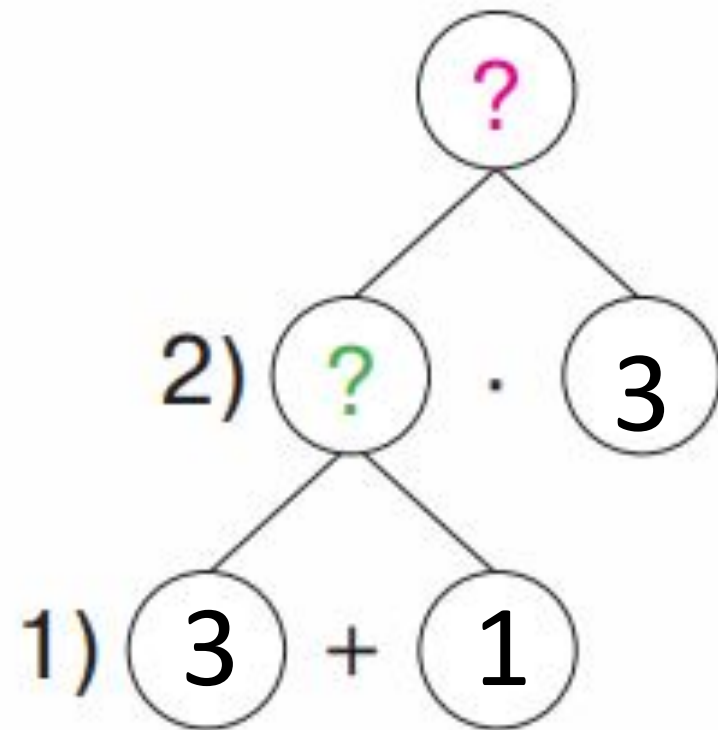
(дн.)

Відповідь: за дні вишиють 20 серветок.





Тесляр за 1 год
виготовляє 3 дерев'
яні ложки, а його
учень — 1 ложку.
Скільки ложок
вони виготовлять за
3 год, якщо



Задача 587

1) = (л.) - разом за 1 годину;

2) = (л.)

(л.)

Відповідь: ложка виготовлять за 3 години.



Сьогодні
03.12.2022

Домашнє завдання.



**На с. 105 у підручнику,
знайди значення
виразів № 588,
розв'яжи задачу № 589.**

*Короткий запис в
щоденник
С. 105, № 588,
589*

$$37 - 7 + 300 =$$

$$700 + (45 - 38) =$$

$$100 + (78 - 8) =$$





589. Одна друкарка за 1 год друкує 5 сторінок тексту, а інша — 4 сторінки. Скільки сторінок вони надрукують за 4 год, якщо працюватимуть разом?

