

Математика

Сьогодні
01.06.2023

Урок
№ 13

1




**Узагальнення і
систематизація вивченого**

Сьогодні
01.06.2023

Організація класу

**Дзвоник всім нам
дав наказ –
До роботи
швидше, клас!
Попрацюємо
старанно,**



**Щоб сказати у
кінці.
Що у нашій
дружній класі
Діти – просто
молодці!**

Сьогодні
01.06.2023

Підготовчі вправи. Вправа «Числові кульки»


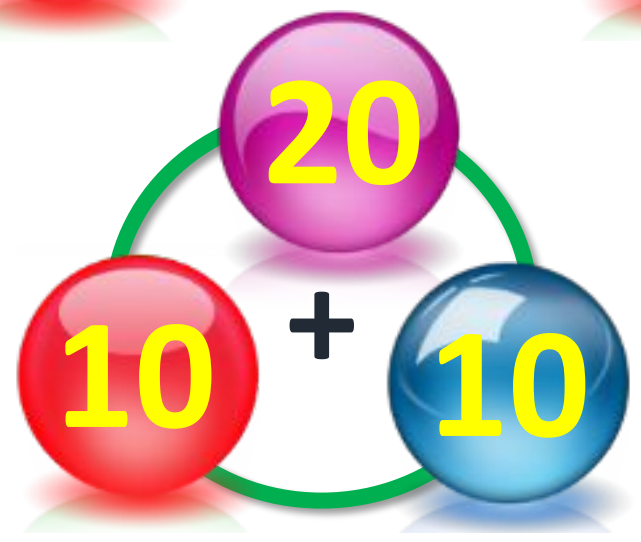
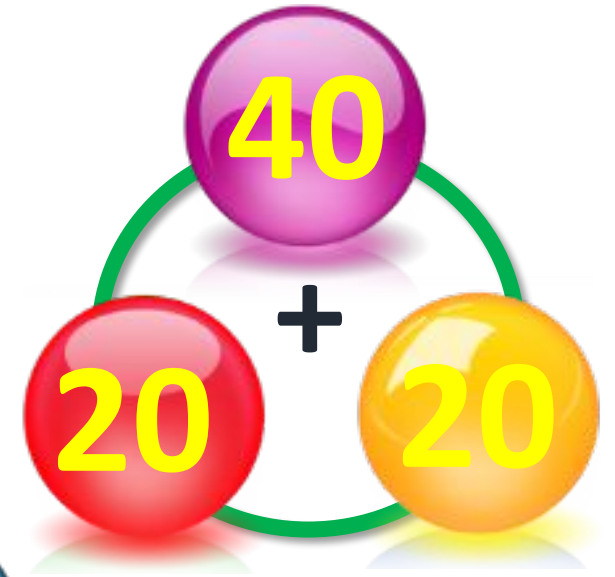

85
 $95 - 10$

0
 $10 - 10$

80
 $82 - 2$

90
 $60 + 30$

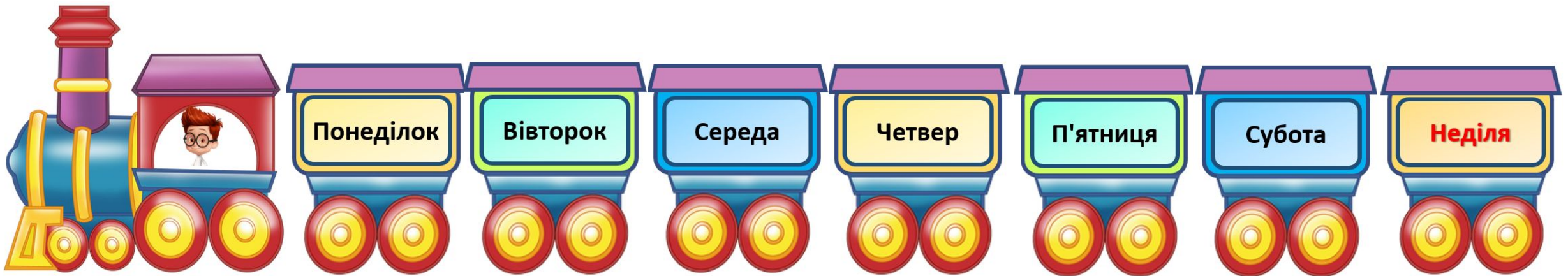
65
 $55 + 10$



Сьогодні
01.06.2023



- Якщо сьогодні четвер, який день буде завтра?
- А який день був учора?
- Як називаються вихідні дні?



Сьогодні
01.06.2023

Повторення нумерації чисел першої сотні

Які числа заховалися за фруктами? Назвіть сусідів цих чисел.

Назвіть числа третього (шостого) десятка



1	2	3	4		6	7	8	9	10
11	12	13	14	15	16		18	19	20
21	22		24	25	26	27	28	29	30
31	32	33	34	35	36		38	39	40
41	42	43	44	45	46	47	48	49	50
51	52	53	54	55	56	57	58	59	
61	62		64	65	66	67	68	69	70
71	72	73	74	75	76	77	78	79	80
81	82	83	84		86	87		89	90
91		93	94	95	96	97	98	99	100


Вісім сов і ***два*** сичі,
Скільки разом,
полічи.

$$8 + 2 = 10$$




Задачу вам задам просту:
На день народження коту.
Подарували **сім** котлет
І **три** сосиски на десерт.
То робіть же підрахунки,
Скільки всього
подарунків?

$$7 + 3 = 10$$



Посадив ведмідь в лісочку
Шість берізок, **три** дубочки.
Рахувати сам не вмів
І зозулю попросив.
Почала вона літати,
Почала вона кувати.
Та не може полічить,
Ану ж ви допоможіть.

$$6 + 3 = 9$$



Біля річки на галявці.
Знайшли моркву сірі зайці,



Вісім морквин – це немало.
Одну з'їли. Скільки стало?

$$8 - 1 = 7$$

Киця Мурка на всі ніжки
Взула шовкові панчішки.
Та **одна** десь загубилась.
Скільки в киці
залишилось?

$$4 - 1 = 3$$



Сьогодні
01.06.2023

Повторення вивченого на попередніх уроках

11, 31, 90, 72, 45

97, 41, 79, 59, 61




Розташуй числа в яблучках у порядку зростання.

Вправа «Знайди пару»

З'єднайте приклади з
вірними відповідями.





Ціна 14 грн



Розрахуйся за покупки.





Ціна 16 грн



Розрахуйся за покупки.





Ціна 55 грн



Розрахуйся за покупки.






55 грн



?, на 40 грн <



Вартість коробки з цукерками 55 грн, а солодкої вати – на 40 грн менша.



Скільки коштує солодка вата?

$$55 \text{ грн} - 40 \text{ грн} = 15 \text{ (грн)}$$

Відповідь: 15 гривень коштує солодка вата.



Сьогодні
01.06.2023

**Робота у зошиті
(сторінка 53).**



• Яке сьогодні число місяця? Запиши

• Який сьогодні день тижня?
Зафарбуй відповідний прямокутник.



- Виконай завдання.



Данилко зібрав жолуді. Їх потрібно розкласти в пакети по 10 штук. Об'єднай на малюнку жолуді по 10 і визнач, скільки потрібно пакетів і скільки жолудів залишиться.

пакетів і ще жолудів. Це десятків одиниць
Запиши це число цифрами і словами.



Сімдесят п'ять

Д.

Од.


- Запиши десятковий склад кожного числа.



Число	Д.	Од.
34	3	4
50	5	0
48	4	8
93	9	3
21	2	1

- Збільш на 20 кожне число.



24	 + 20	44
47		67
56		76
12		32
9		29
69		89

Цеглинку лего підійміть, зустріч нашу оцініть



Все було
легко!

Я дуже
втомився!

Було
цікаво!

У мене все
вийшло!

Було складно!