

Математика

Сьогодні  
15.05.2023

Урок  
№ 12

1



**Віднімання виду  $45 - 20$   
(ознайомлення).**

**Задача на знаходження невідомого  
від'ємника**

Гарно й зручно ми  
сідаєм,  
Щось нове завжди  
вивчаєм.

Те, що вчили - пригадаєм,  
Будь уважний, починаєм!








**Кулю шкіряну ганяють,  
Лиш одну на полі мають!  
По ногах не б'ють – це  
фол!  
Називають гру ...**

**Футбол**






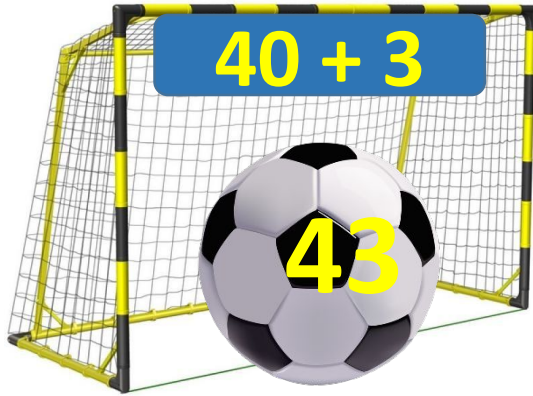
СЬОГОДН  
15.05.2023

Підготовчі вправи. Гра «Гол»



Сьогодні  
15.05.2023

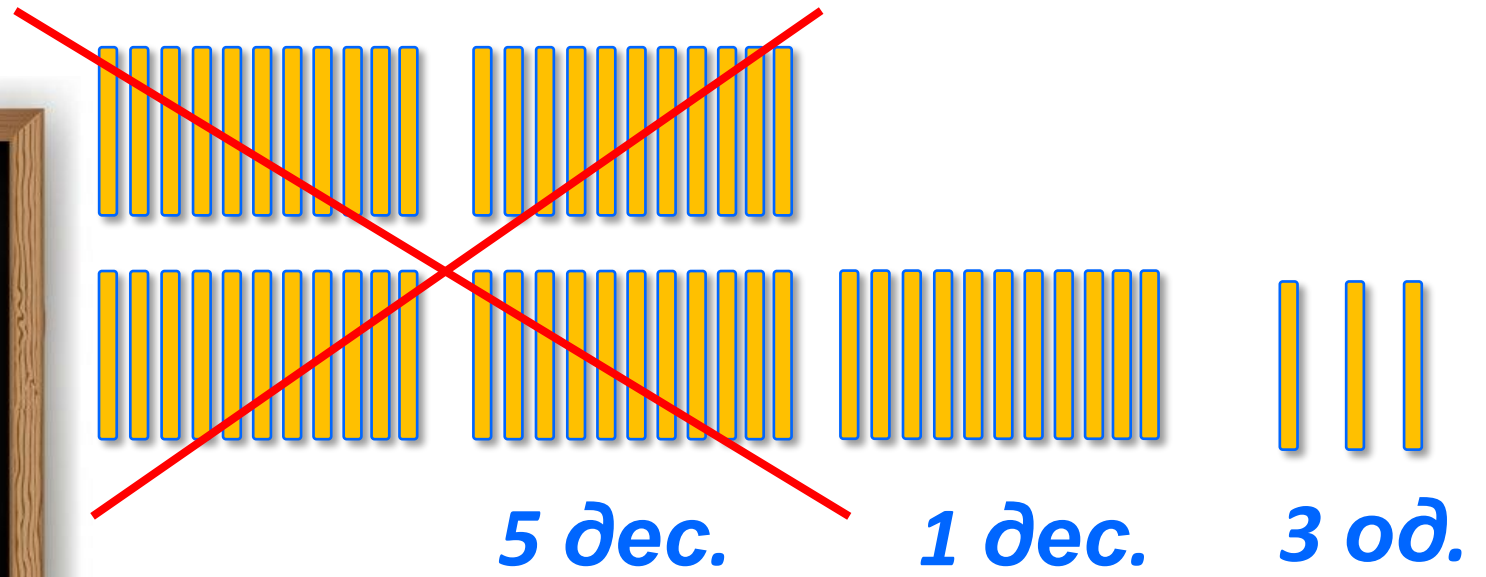

## Математичні приклади. Гра «Гол»



В мамі зайчихи **5** малят,  
Неслухняних зайченят.  
Бігають, стрибають,  
Тата й маму розважають.  
Скільки всього вушок у  
малят,  
Пустотливих зайченят?

$$2 + 2 + 2 + 2 + 2 = 10$$

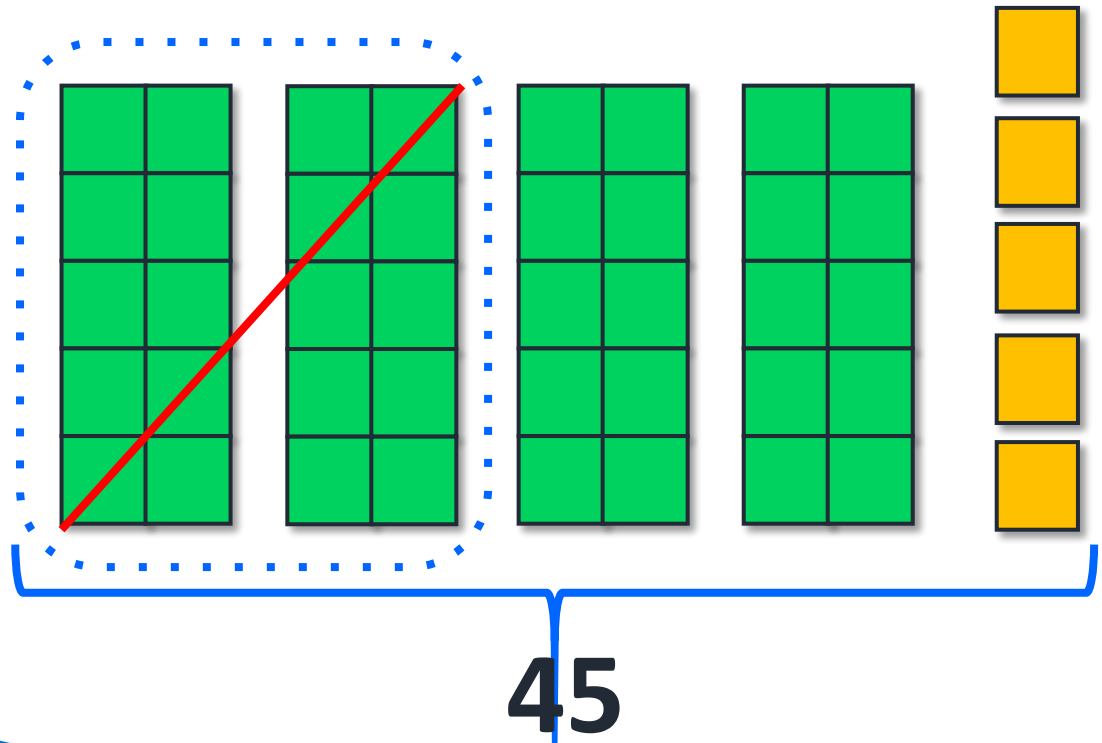




$$53 - 40 = 13$$

**Висновок.** При відніманні круглого числа десятків працюємо з десятками. Кількість одиниць залишається незмінною.

з яким розрядом працювали (з десятками)



$$4 \text{ д.} - 2 \text{ д.} = 2 \text{ д.}$$

$$40 - 20 = 20$$

$$45 - 20 = 25$$

Розглянь схему та поясни обчислення.





- Десятки віднімаємо від десятків.

$$45 - 20 = 25$$

Сьогодні  
15.05.2023

## Робота з підручником. Обчислення виразів

Обчисли.



$$5 \text{ д.} - 3 \text{ д.} = 2 \text{ д.}$$

$$50 - 30 = 20$$

$$52 - 30 = 22$$

$$59 - 30 = 29$$

Обчисли.



$$7 \text{ д.} - 4 \text{ д.} = 3 \text{ д.}$$

$$70 - 40 = 30$$

$$77 - 40 = 37$$

$$79 - 40 = 39$$

Сьогодні  
15.05.2023

## Робота з підручником. Обчислення виразів

Обчисли.



$$9 \text{ д.} - 8 \text{ д.} = 1 \text{ д.}$$

$$90 - 80 = 10$$

$$97 - 80 = 17$$

$$92 - 80 = 12$$

Було – 100 грн  
Купила кв. –  
Залишилось – 60  
грн



У Марійки було 100 грн. Після

Чи змогла б Марійка взяти із собою в кіно ще й подружку Оксанку? Чи вистачило б їй грошей на 2 квитки? Скільки б грошей у неї залишилося у цьому випадку? А на третій квиток вистачить грошей?

$$100 \text{ грн} - 60 \text{ грн} = 40 \text{ (грн)}$$

**Відповідь: 40 гривень коштує квиток.**



Сьогодні  
15.05.2023

Робота у зошиті  
(сторінка 46).



- Обчисли.



$$8 \text{ д.} - 4 \text{ д.} = \boxed{4} \text{ д.}$$

$$80 - 40 = \boxed{4} \boxed{0}$$

$$82 - 40 = \boxed{4} \boxed{2}$$

$$89 - 40 = \boxed{4} \boxed{9}$$

$$4 \text{ д.} - 3 \text{ д.} = \boxed{1} \text{ д.}$$

$$40 - 30 = \boxed{1} \boxed{0}$$

$$46 - 30 = \boxed{1} \boxed{6}$$

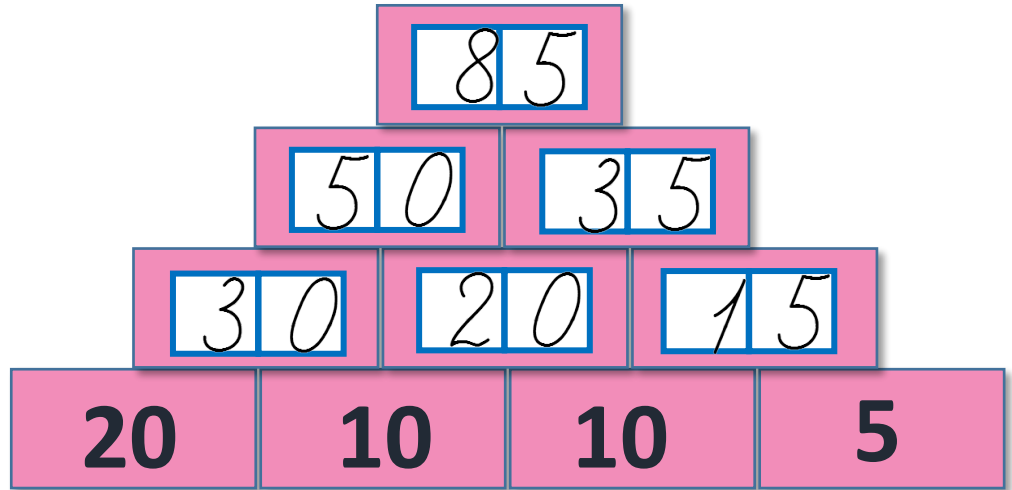
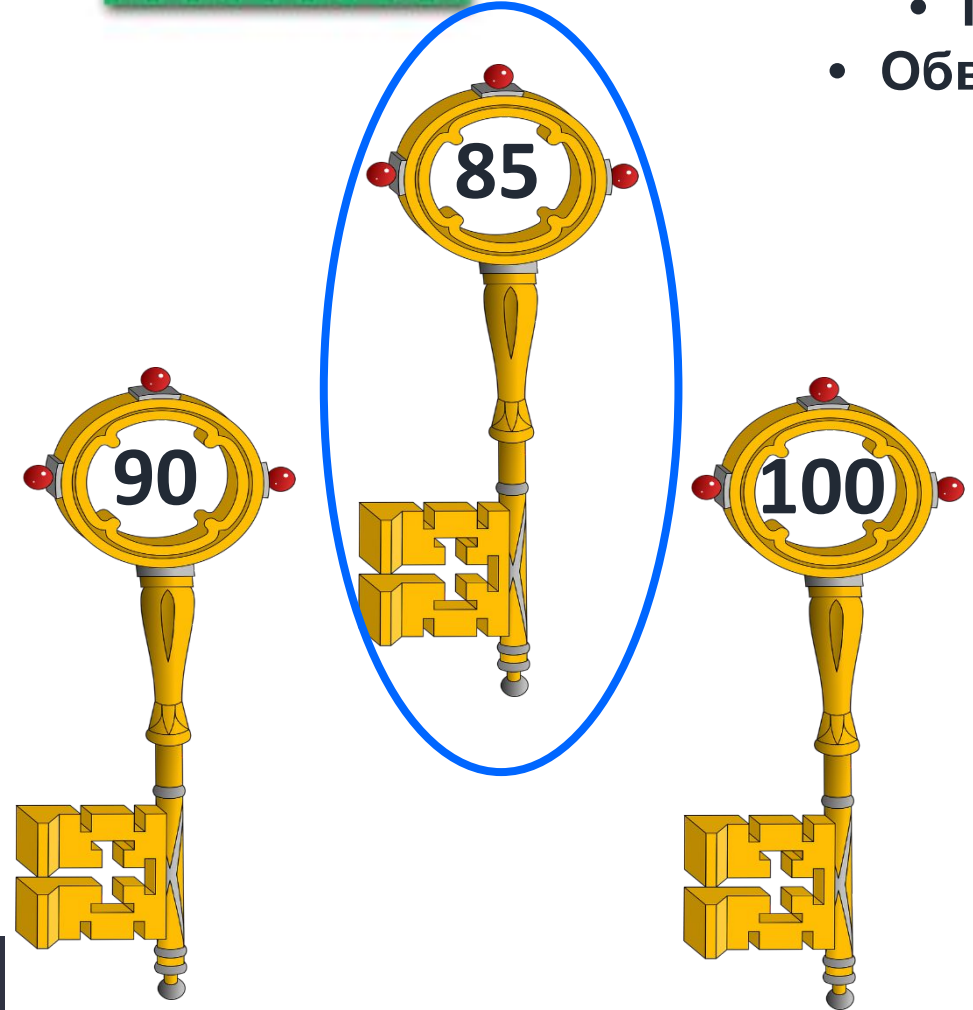
$$45 - 30 = \boxed{1} \boxed{5}$$

- Заповни таблицю.

	65	87	99	52	70	55	77	83
Зменшити на 50	15	37	49	□ 2	20	□ 5	27	33



- Піднімися на вершину числової вежі.
- Обведи ключ, яким можна відімкнути вежу.




Сьогодні  
15.05.2023

# Робота у зошиті

Виміряй і запиши довжину відрізка.  
Побудуй відрізок на 10 см коротший від даного.

$$\boxed{12} \text{ см} = \boxed{1} \text{ дм } \boxed{2} \text{ см}$$





Розв'яжіть приклади та визначте місце та ряд, де сидить Марійка та Оксанка. Розшифруйте, який мультфільм будуть дивитися дівчата.

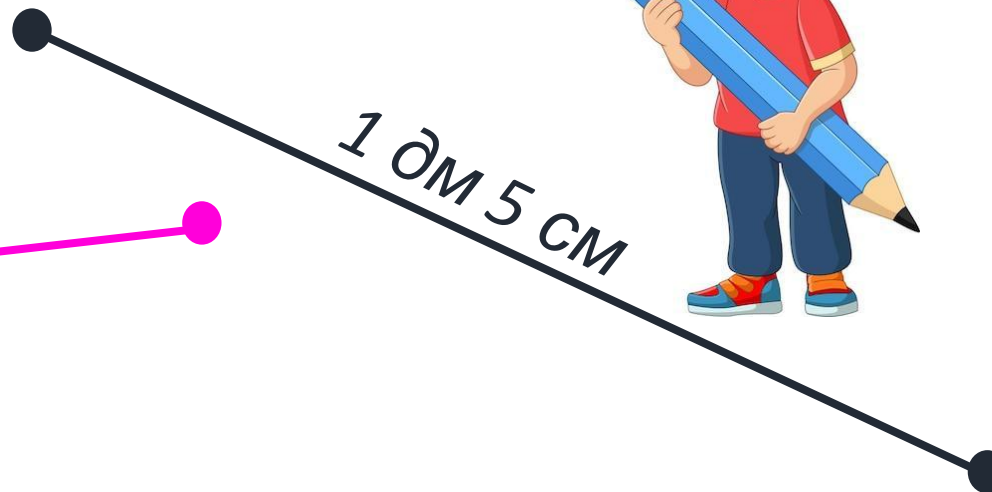
Петрик намалював відрізок 15 см, а Марійка — 1 дм 5 см. Хто з дітей намалював довший відрізок?



15 см



1 дм 5 см



Сьогодні  
15.05.2023

*(щоби відкрити інтерактивне завдання, натисніть на помаранчевий прямокутник)*

**Відкрити онлайнове  
інтерактивне завдання**