












Математика

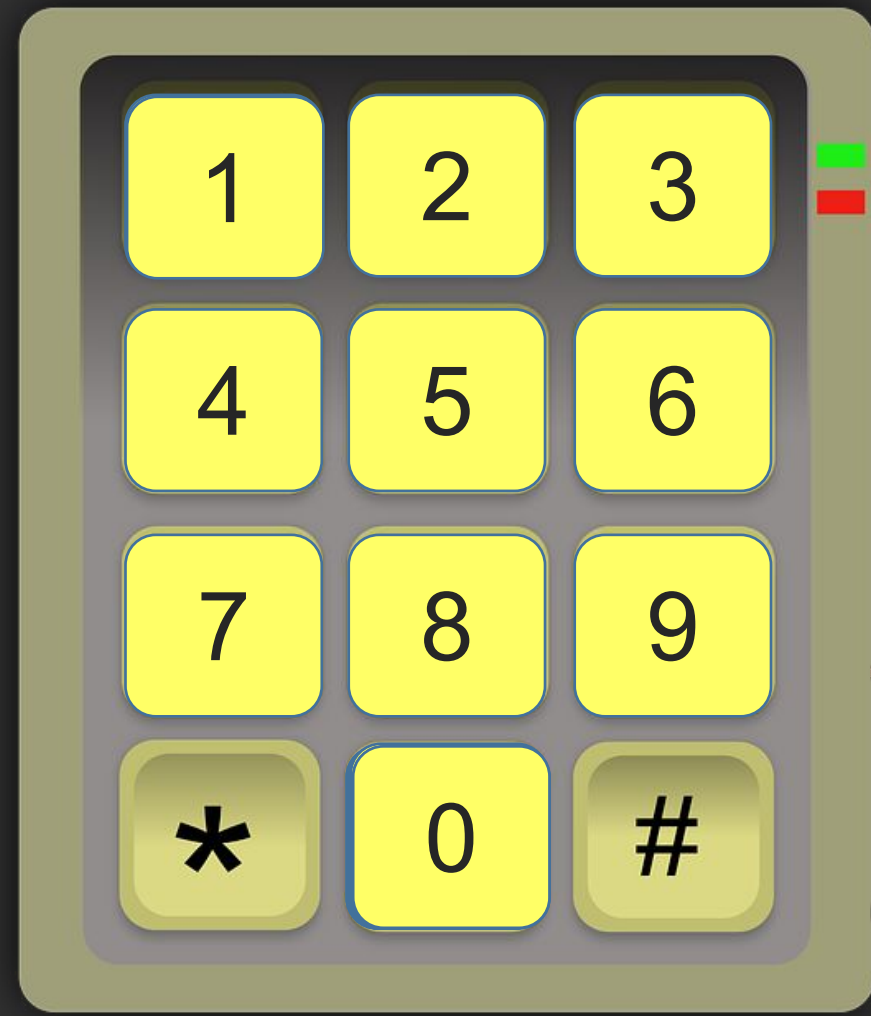
Сьогодні
09.04.2023

Урок
№99



Порівняння чисел у межах сотні. Задача на знаходження невідомого доданка.

	= 1
	дес.
	двс.
	двс.
	дес.
	дес.
	дес.
	двс.
	двс.
	дес.
	дес.



Сьогодні
09.04.2023

Підготовчі вправи. Гра «Намисто»



Сьогодні
09.04.2023

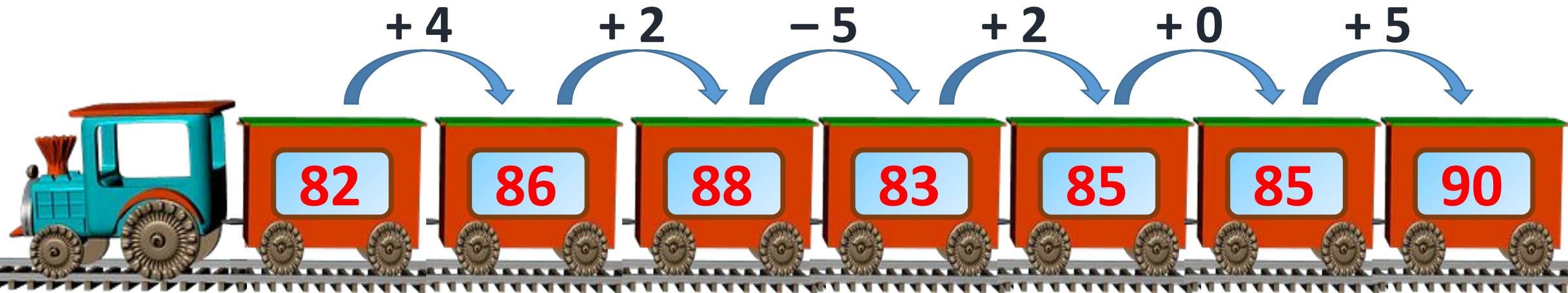
Повторення вивченого про утворення попереднього та наступного чисел



Сьогодні
09.04.2023

Відновлення таблиці розрядів. Гра «Вантажник»





Обчисли ланцюжком.





- **Що означає порівняти два числа?**
- **Як дізнатися, на скільки одне число більше чи менше іншого?**

Сьогодні
09.04.2023

Робота з підручником. Порівняння чисел у межах сотні

Розглянь і
запам'ятай, як
порівнюють
числа.





$$100 > 34$$

Сьогодні
09.04.2023

Робота з підручником. Порівняння чисел у межах сотні

Розглянь і
запам'ятай, як
порівнюють
числа.



$$100 > 5$$



**Трицифрове число
більше, ніж
двоцифрове та
одноцифрове числа.**


$$100 > 34$$

$$100 > 5$$

Сьогодні
09.04.2023


Робота з підручником. Порівняння кількості предметів

Порахуй та
порівняй кубики.



35

<



44

Сьогодні
09.04.2023

Робота з підручником. Порівняння чисел у межах сотні

$>$ $=$ $<$



Порівняй.

$$80 > 18$$

$$50 < 100$$

$$10 + 5 < 100$$

Сьогодні
09.04.2023

Робота з підручником. Порівняння чисел у межах сотні

$>$ $=$ $<$


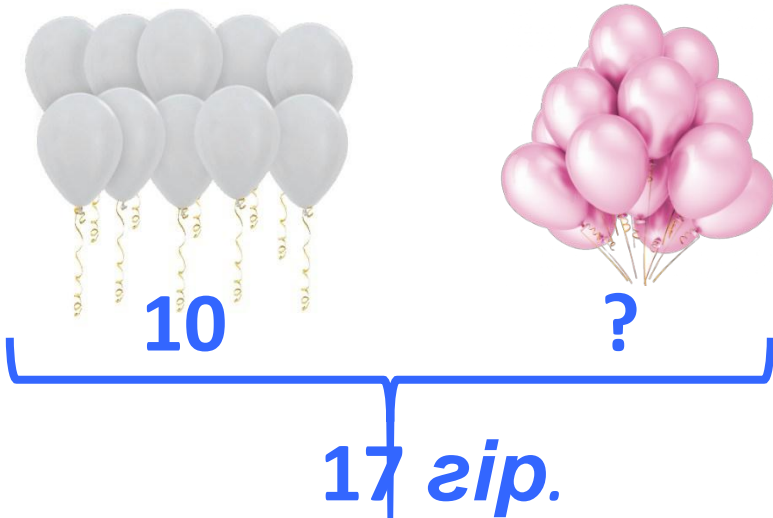


Порівняй.

$$18 - 1 > 8$$

$$100 - 0 = 100$$

$$30 > 3$$



Для оздоблення кав'ярні використали 17 гірлянд повітряних кульок. 10 гірлянд були виготовлені з кульок білого кольору, а решта — з



кульок рожевого кольору. Скільки гірлянд із кульками рожевого кольору використали?

$$17 - 10 = 7 \text{ (гір.)}$$

Відповідь: 7 гірлянд.

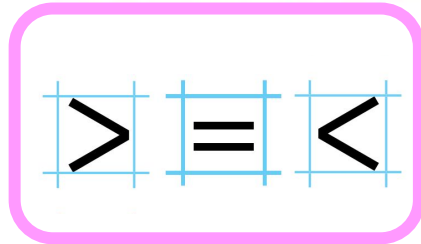


Сьогодні
09.04.2023

**Робота у зошиті
(сторінка 30).**




- Порівняй.



$30 > 13$	$80 + 5 > 58$
$70 < 100$	$100 = 100 + 0$
$65 - 5 < 100$	$10 + 0 < 100$

- Полічи й запиши, скільки цукерок має кожна дівчинка.

• Познач, у кого з них більше цукерок.

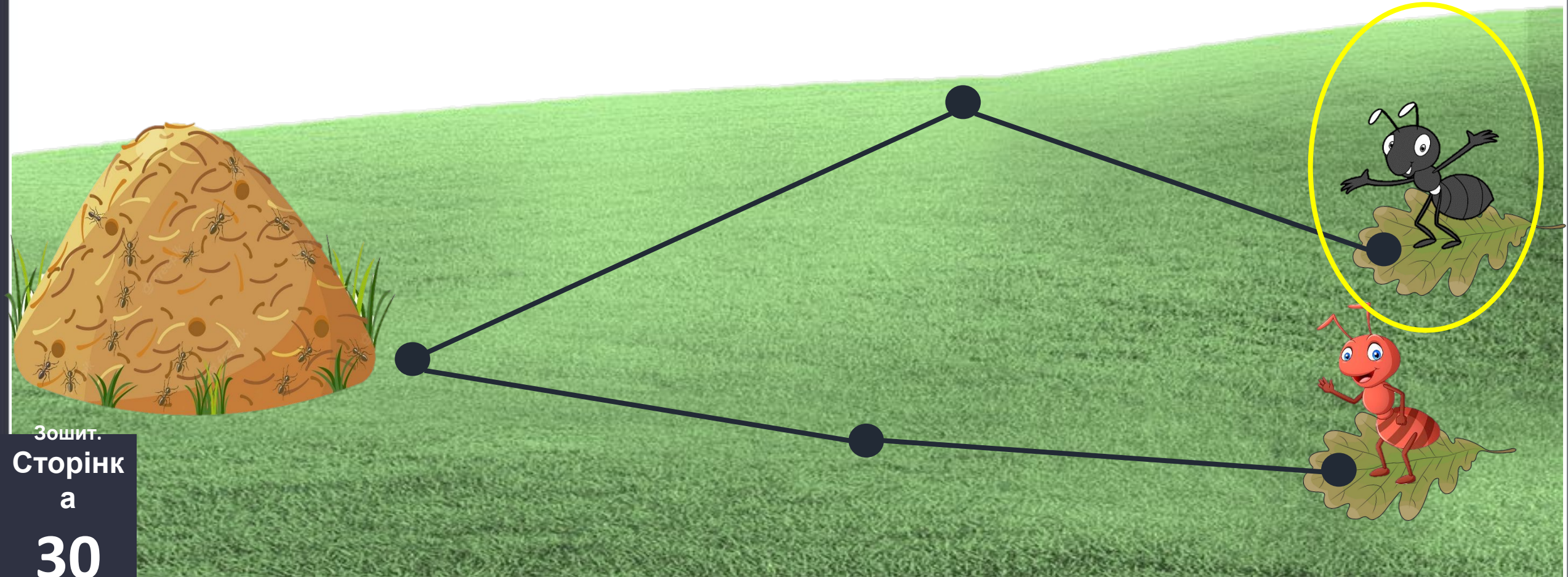


Єва

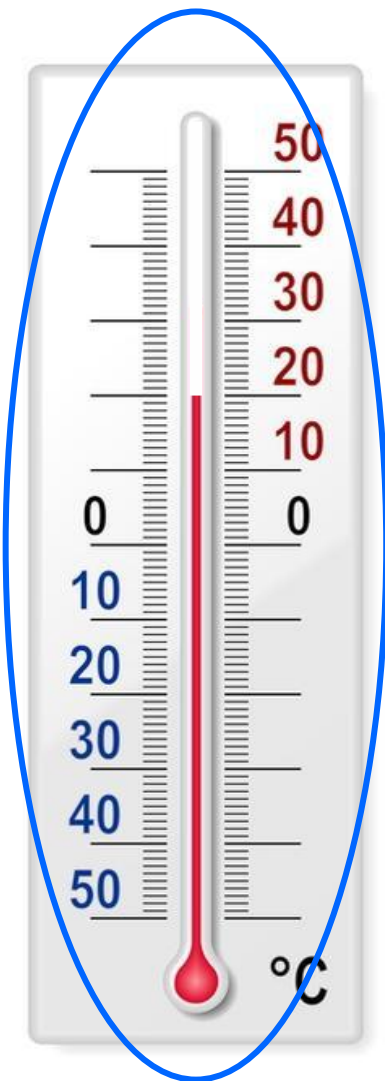



Ліза

- Яка з мурашок – чорна чи руда – подолає більшу відстань до мурашника? Обведи.



- Який з термометрів показує вищу температуру?
 - Обведи.



Сьогодні
09.04.2023

(щоби відкрити інтерактивне завдання, натисніть на помаранчевий прямокутник)

**Відкрити онлайнове
інтерактивне завдання**