

Математика

Сьогодні
17.05.2023

Урок
№ 12

3



**Додавання виду $24 + 35$
(ознайомлення).**

**Задача на знаходження невідомого
від'ємника**

Сьогодні
17.05.2023

Організація класу

*Вушка, прислухайтесь!
Очки, придивляйтесь!
Носик, глибше дихай!
Ротик, посміхнись!*

*Спинки,
розправляйтесь!
Ручки, піднімайтесь!
Нумо до роботи
Дружно всі взялись!*



Сьогодні
17.05.2023

Підготовчі вправи. Вправа «Числові кульки»


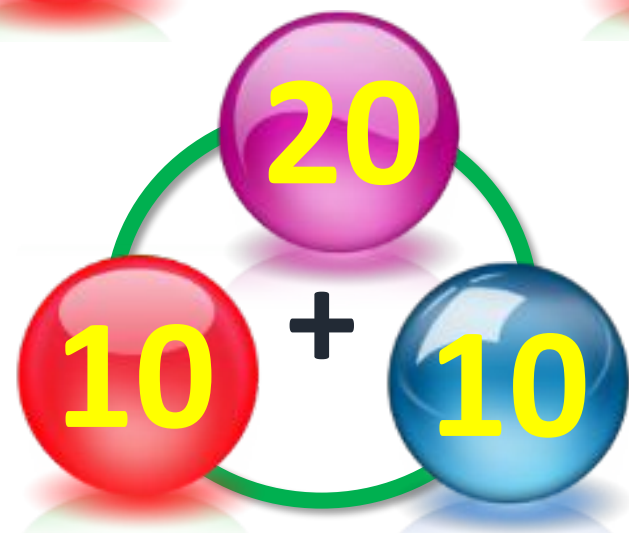


$$85 - 10 = 95$$

$$0 - 10 = 10$$

$$80 - 2 = 82$$

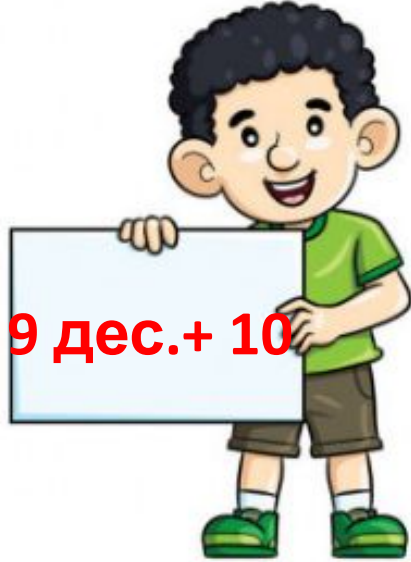
$$60 + 30 = 90$$

$$55 + 10 = 65$$



Сьогодні
17.05.2023

Підготовчі вправи. Гра з м'ячиком

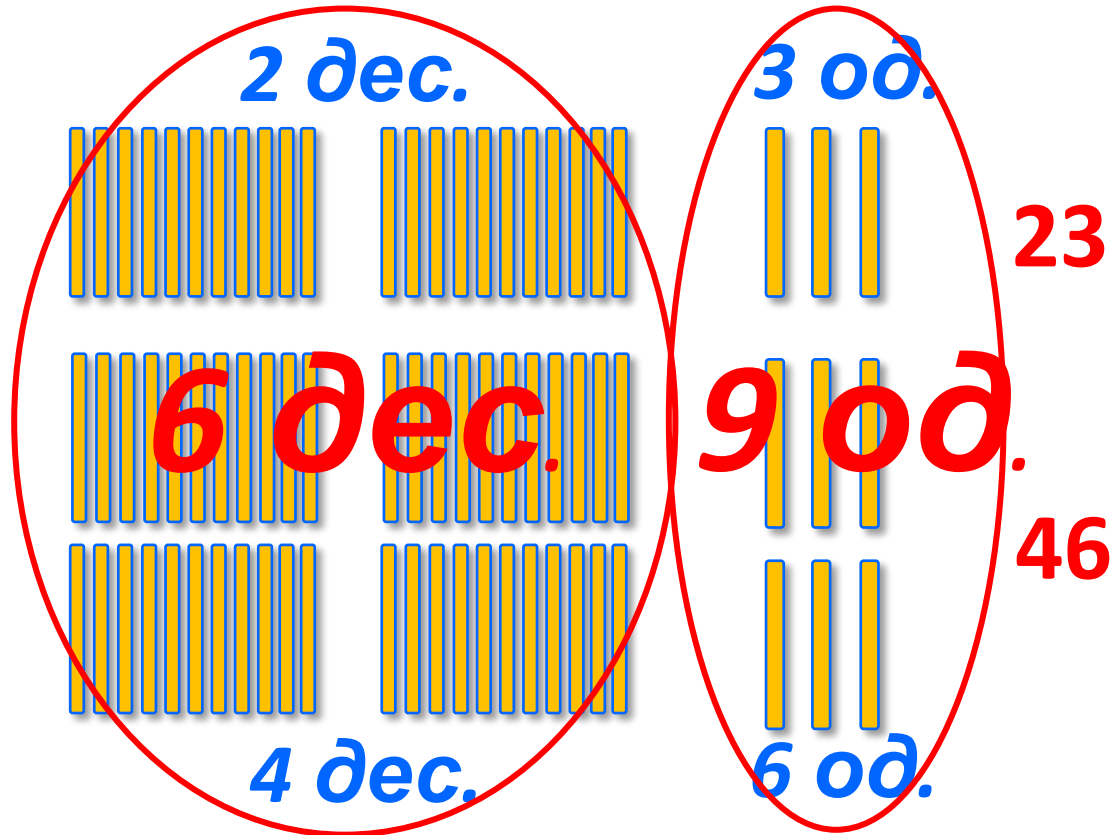





Жолудів аж **сім**
десятків

Назбирали поросятка.
Три десятка вранці з'
їли.

Скільки на обід
7 д. - 3 д. = 4 д.
лишили?



$$23 + 46 = 69$$

Десятки об'єднуємо з десятками, одиниці з одиницями.
Складіть арифметичний приклад, що демонструє виконані дії.

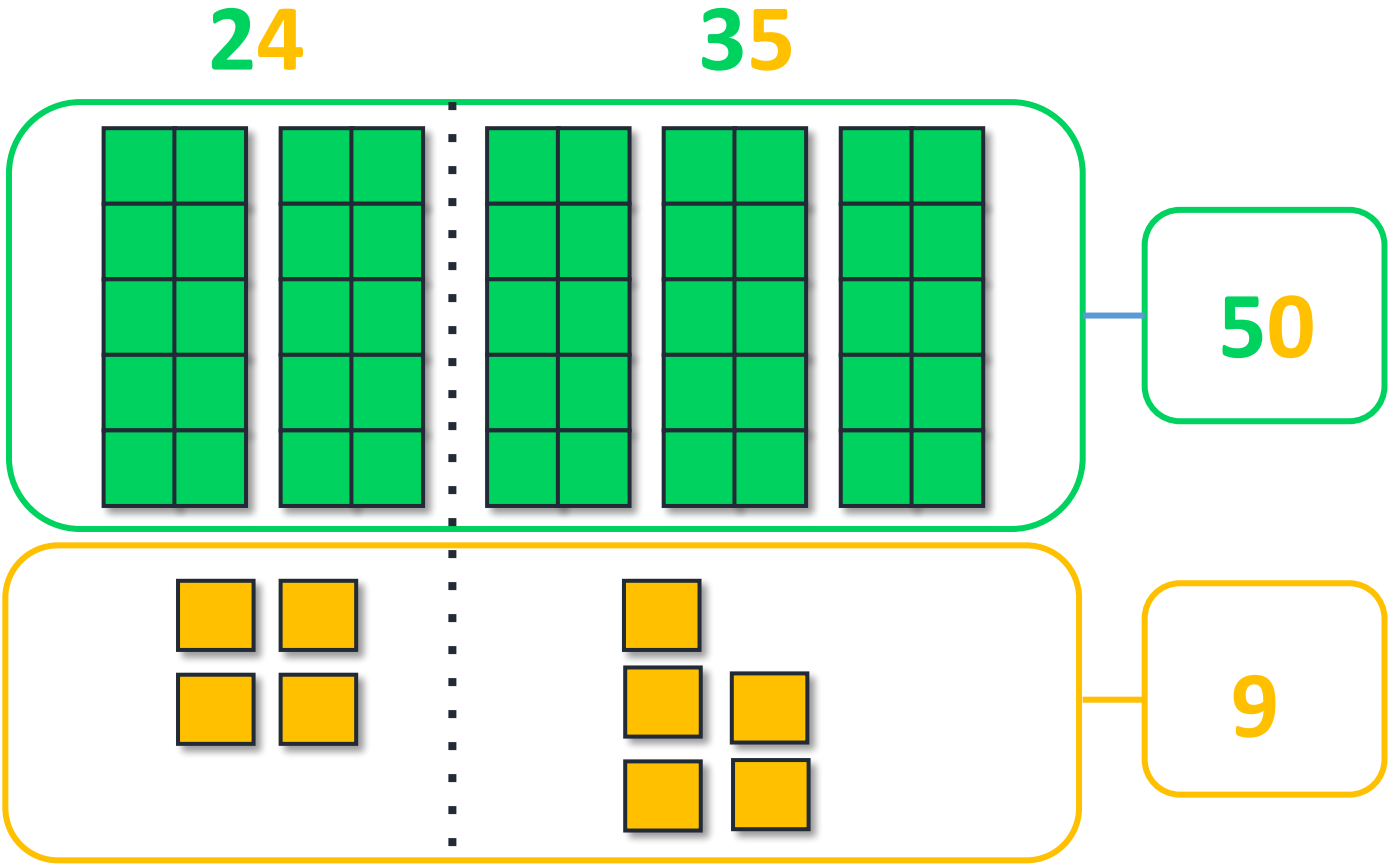
способу



ПАМ'ЯТКА

1. Розклади компоненти арифметичної дії на розрядні доданки.
2. Виконай дії з десятками.
3. Виконай дії з одиницями.
4. Об'єднай десятки та одиниці.
5. Назви число-відповідь.

Десятки додаємо до десятків,
одиниці додаємо до одиниць.
Знайдені суми додаємо.



$$24 + 35 = 20 + 30 + 4 + 5 = 50 + 9 = 59$$

50 9

Сьогодні
17.05.2023

Робота з підручником. Обчислення виразів

Обчисли.



$$\textcircled{45} + \textcircled{31} = 76$$

$$81 + 17 = 98$$

$$54 + 15 = 69$$

$$16 + 42 = 58$$

Сьогодні
17.05.2023

Робота з підручником. Обчислення виразів

Обчисли.



$$63 + 25 = 88$$

$$24 + 62 = 86$$

$$37 + 41 = 78$$

$$73 + 26 = 99$$

Сьогодні
17.05.2023

Робота з підручником. Обчислення виразів


Обчисли.



$$36 + 52 = 88$$

$$21 + 47 = 68$$

Було – 90
Використав
Залишилось – 30
дет.



У конструкторі Олеся було 90 деталей. Після того як він склав будинок, у нього залишилось 30 деталей.




Скільки деталей використав Олесь для будинку?

$$90 - 30 = 60 \text{ (дет.)}$$

Відповідь 60 деталей використав Олесь.

:

Розквітло – 15 тр.
Зрізали – ?
Залишилось – 10
тр.



На куці розквітло 15 троянд.
Кілька квіток зрізали для
букета,



і на куці залишилось 10
троянд.
Скільки троянд зрізали?

$$15 - 10 = 5 \text{ (тр.)}$$

Відповідь 15 троянд зрізали.

:

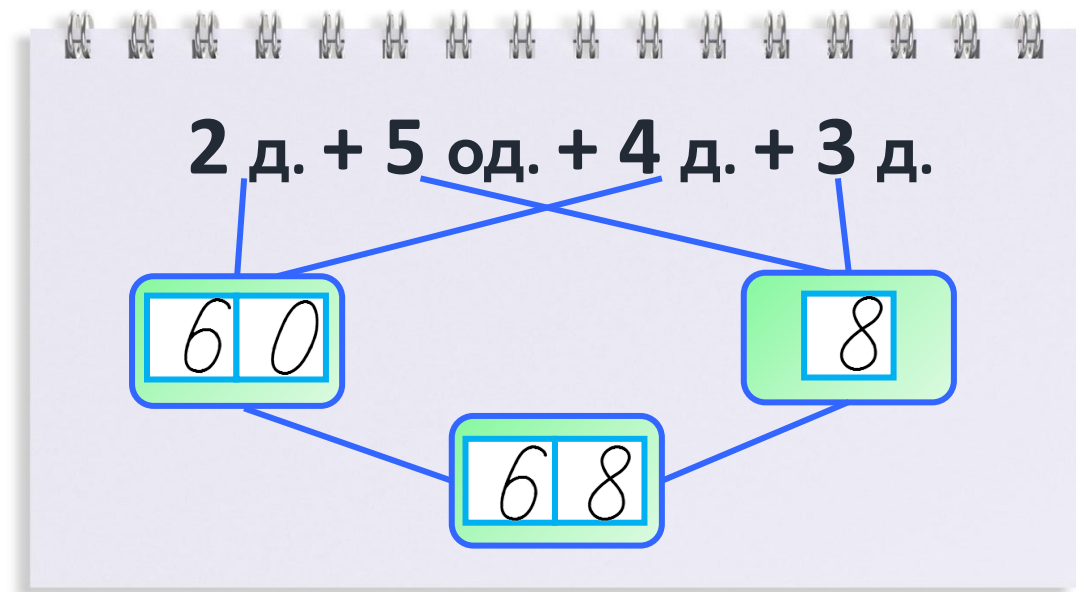
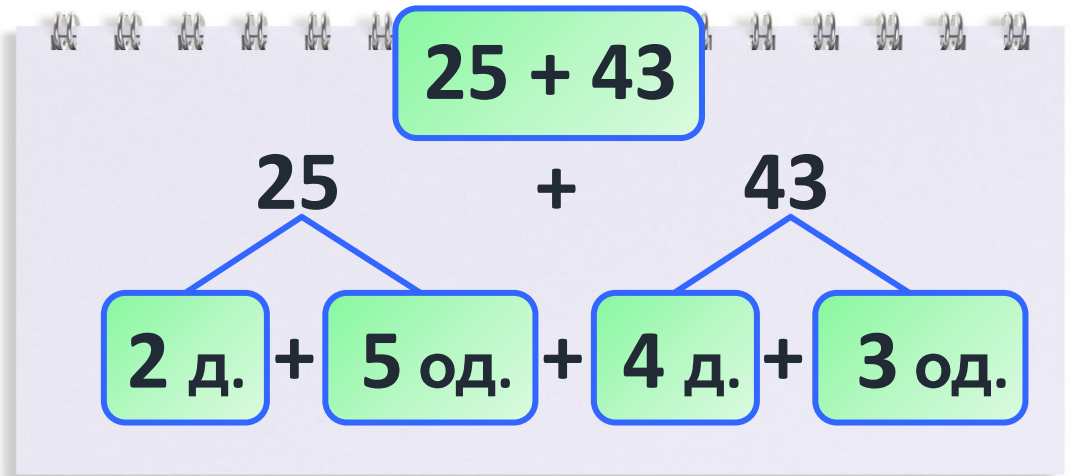
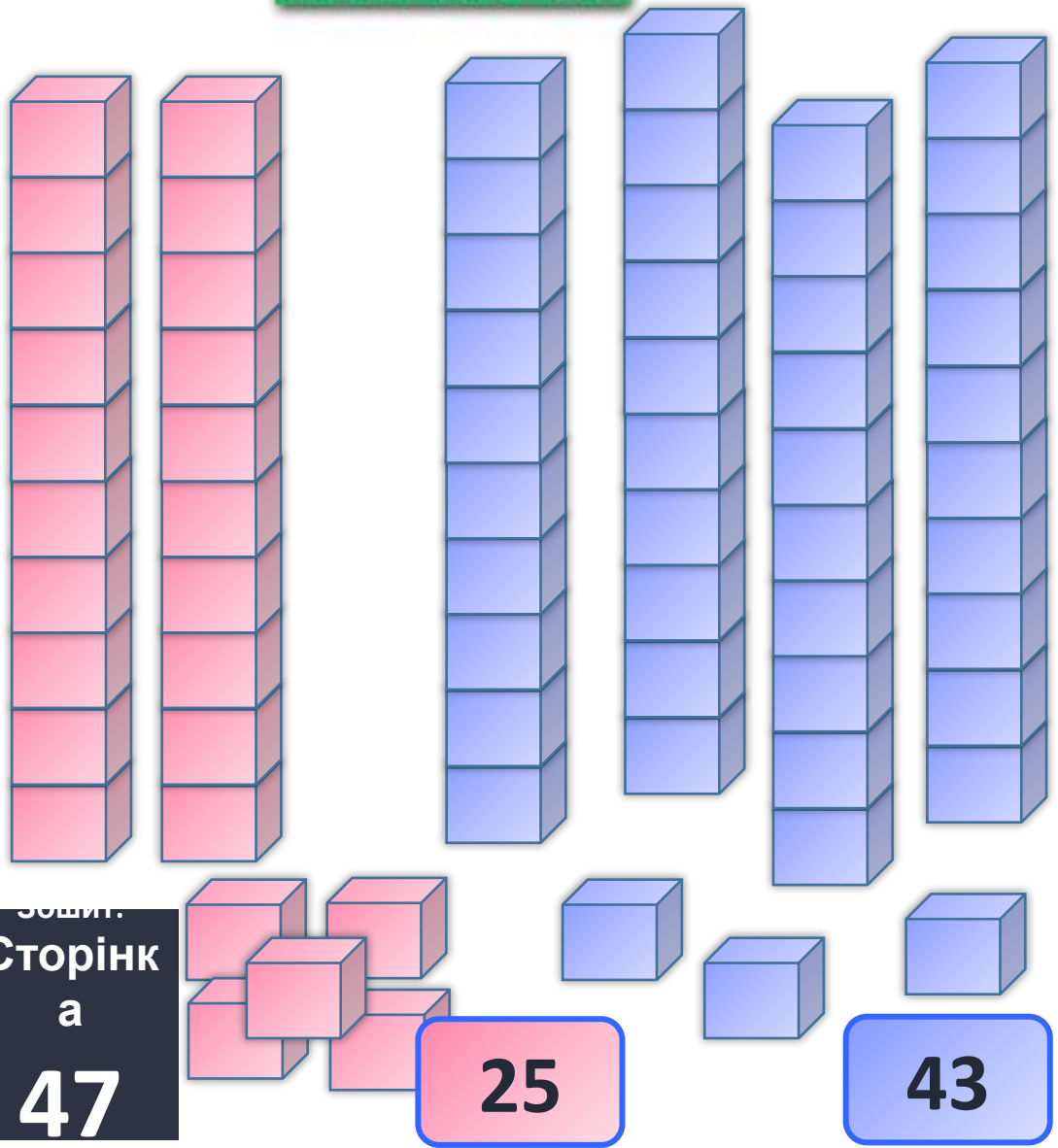
Сьогодні
17.05.2023

**Робота у зошиті
(сторінка 47).**



Робота в зошиті

- Заповни схему й обчисли значення виразу $25 + 43$.
- д. – десятки; од. – одиниці.



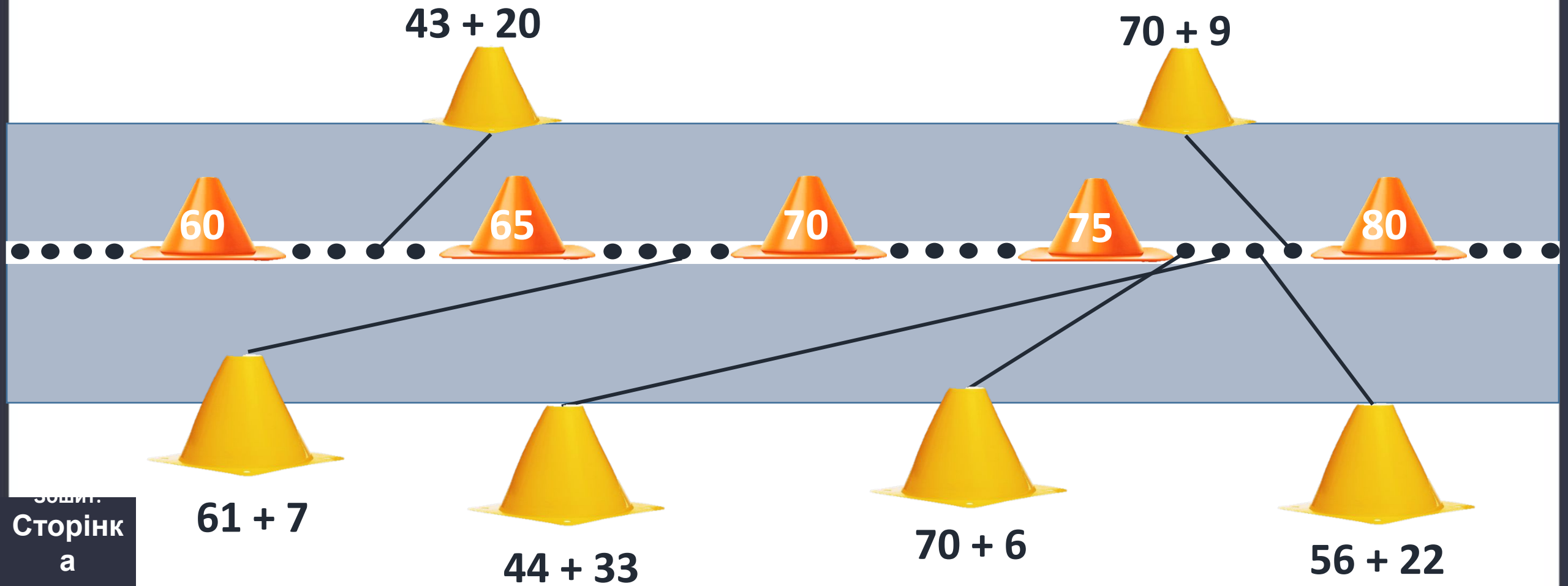
- Виконай додавання.



+	45	55	25	35	65	15	5
32	77	87	57	67	97	47	37

Робота в зошиті

- З'єднай жовту фішку з її місцем на доріжці.



Сьогодні
17.05.2023

Гра «Чи правильно ведмедик обчислив вирази?»

$$36 + 11 = 47$$

$$10 + 25 = 35$$

$$77 + 11 = \del{66} 88$$

$$81 + 11 = 92$$

$$21 + 21 = 42$$

$$50 + 10 = 60$$

$$80 + 15 = 95$$

$$43 + 34 = \del{17} 77$$



Сьогодні
17.05.2023

Рефлексія. Оберіть відповідну цеглинку LEGO

Цеглинку лего підійміть, зустріч нашу оцініть

