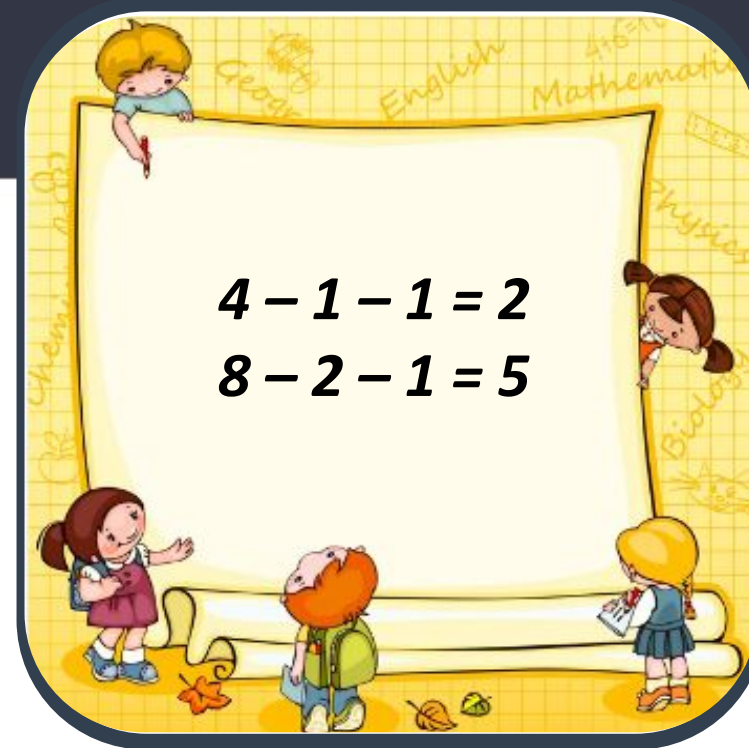


СЬОГОДН
18.12.2022

Урок
№56




**Віднімання кількох чисел.
Задачі. Обчислення в
межах 10.**

Сьогодні
18.12.2022

Організація класу

**Дзвоник всім нам
дав наказ –
До роботи
швидше, клас!
Попрацюємо
старанно,**



**Щоб сказати у
кінці.
Що у нашій
дружній класі
Діти – просто
молодці!**



СЬОГДН
18.12.2022

Підготовчі вправи. Гра «Увімкни світло»



Сьогодні
18.12.2022

Підготовчі вправи. Гра «Увімкни світло»



Сьогодні
18.12.2022

Математично – мовленнєве завдання

Обчисліть
значення виразів
та дізнайтеся
зашифроване
слово.



| <i>Математичний вираз</i> | <i>Слово</i> |
|---------------------------|--------------|
| $9 - 7 = 2$ | К |
| $2 + 2 = 4$ | О |
| $8 - 3 = 5$ | С |
| $2 + 6 = 8$ | М |
| $10 - 6 = 4$ | О |
| $4 + 1 = 5$ | С |

Шифр


| | | | | | | | | | |
|---|---|---|---|---|---|---|---|---|----|
| 1 | 2 | 3 | 4 | 5 | 6 | 7 | 8 | 9 | 10 |
| А | К | Р | О | С | У | Т | М | Л | Е |




$$8 - 3 = 5$$

$$8 - 3 - 2 = 3$$

Приберемо ще 2. Скільки залишилося цеглинок? Складіть приклад.



6 

$$7 - 1 - 2 = 4$$

Від зменшуваного віднімаємо перший від'ємник, запам'ятовуємо результат і від нього віднімаємо другий від'ємник.



- 1. Віднімаємо перший від'ємник.**
- 2. Запам'ятай отриманий результат.**
- 3. Від отриманого результату віднімаємо другий від'ємник.**



$$6 - 1 - 1 = 4$$

$$9 - 3 - 3 = 3$$


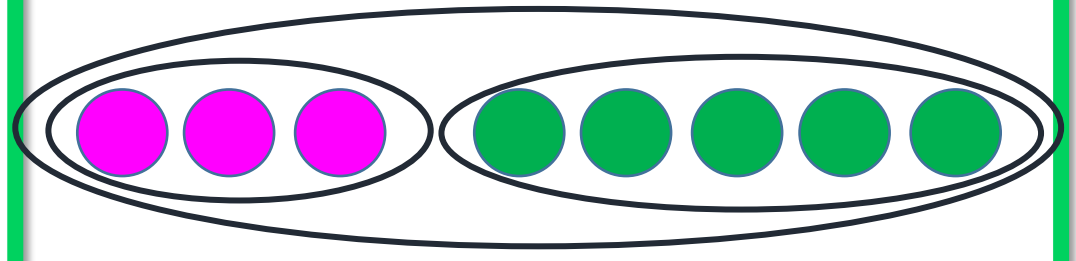
$$5 - 3 - 1 = 1$$

$$4 - 2 - 2 = 0$$

У кожній різниці назви зменшуване та від'ємники.
Обчисли.



1



Для школи купили 3
волейбольні та 5 футбольних




м'ячів.
Скільки всього м'ячів
придбали для школи?



| | | | | | | | | | | | |
|--|--|---|---|---|---|---|--|--|--|--|--|
| | | | | | | | | | | | |
| | | 3 | + | 5 | = | 8 | | | | | |
| | | | | | | | | | | | |

Відповідь: 8 м'ячів.



2

У магазині було 5 м'ячів.
Спортсмен купив 3 м'ячі.



Скільки м'ячів залишилося
в магазині?



| | | | | | | | | | | |
|--|--|---|---|---|---|---|--|--|--|--|
| | | | | | | | | | | |
| | | 5 | - | 3 | = | 2 | | | | |
| | | | | | | | | | | |

Відповідь: 2 м'ячі.



Сьогодні
18.12.2022

**Робота у зошиті
(сторінка 51).**



- Напиши за зразком.



| | | | | | | | | | | |
|---|---|---|---|---|---|---|---|---|---|---|
| 1 | 1 | 1 | 1 | 1 | 1 | 1 | 1 | 1 | 1 | 1 |
| 4 | 4 | 4 | 4 | 4 | 4 | 4 | 4 | 4 | 4 | 4 |
| | | | | | | | | | | |
| | | | | | | | | | | |
| | | | | | | | | | | |

- Обчисли.



$10 - 5 - 3 = 2$

$5 - 1 - 0 = 4$


$9 - 5 - 3 = 1$

$4 - 2 - 2 = 0$


$7 - 1 - 6 = 0$

$10 - 0 - 1 = 9$


• Обчисли. Знайди відповіді в кружечках і зафарбуй їх



| | | | | | | | | | | | | |
|---|---|---|---|----|---|---|---|---|---|---|---|---|
| 1 | 0 | - | 3 | = | 7 | 8 | - | 1 | - | 3 | = | 4 |
| 3 | + | 6 | = | 9 | 4 | + | 2 | + | 2 | = | 8 | |
| 7 | - | 5 | = | 2 | 6 | - | 3 | - | 2 | = | 1 | |
| 5 | + | 5 | = | 10 | 1 | + | 0 | + | 4 | = | 5 | |



- Запиши, котру годину показує кожний годинник.




3 ГОД



1 0 ГОД





5 ГОД



8 ГОД



Сьогодні
18.12.2022

Повторення вивченого матеріалу. Склад чисел




Сьогодні
18.12.2022

Повторення вивченого матеріалу. Склад чисел



Сьогодні
18.12.2022

Рефлексія «Емоційна ромашка». Оберіть відповідну цеглинку LEGO



**Мені під силу
всі завдання**

**Було складно
та не зрозуміло**

**Все було
легко та**

**Мені
потрібна**