


Урок математики в 5 классе

учебник 4 кл. Моро М.И., Бантовой М.А.

20.02.17



Задачи на движение



*Тема. Взаимосвязь между
скоростью, временем и
расстоянием*

Разминка

- Самолет пролетает расстояние от города А до города В за 1 ч. 20 мин. Однако обратный перелет занимает 80 мин. Как вы это объясните?
- «Мерседес» проехал 20км. Сколько километров проехало каждое из его четырех колес?
- Шел человек в город и по дороге догнал трех своих знакомых. Сколько человек шло в город?
- Три человека ждали поезда 3 часа. Сколько времени ждал каждый?

Расположи числа в порядке возрастания
и составь слово из слогов

1900
Я

1200
рас

4260
е


1700
сто

3600
ни

РАССТОЯНИЕ

Отгадайте ребус

”””



С



”””

Ь

СКОРОСТЬ

Отгадайте загадку

Без ног и без крыльев оно,
быстро летит,
не догонишь его.

Время



Расстояние – S


(км, м, дм, см)

Время - t

(сут., ч, мин, с)

Скорость – U

(км/ч, км/мин, м/с)

	Средняя скорость	Время	Расстояние
	60 км/ч	2 ч	120 км



Расстояние = Скорость · Время

$$S = v \cdot t$$

Скорость = Расстояние : время

$$v = S : t$$

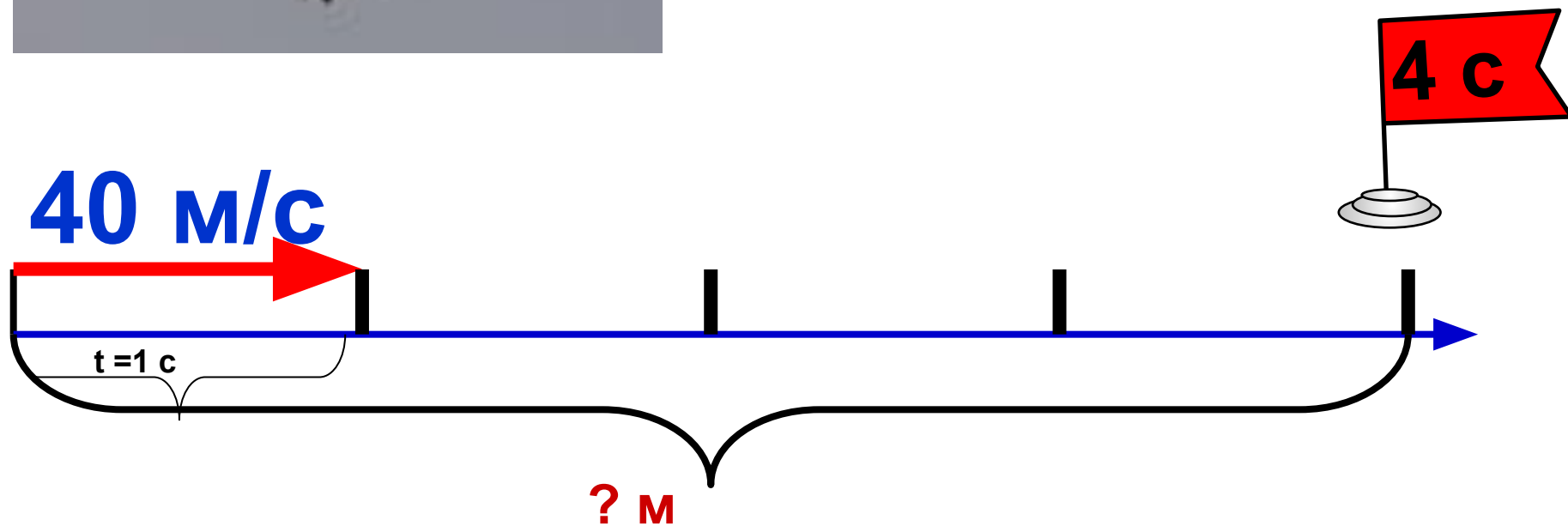
Время = Расстояние : Скорость

$$t = S : v$$

Аист может лететь со средней скоростью 40 м/с. Какое расстояние он может пролететь за 4 с?

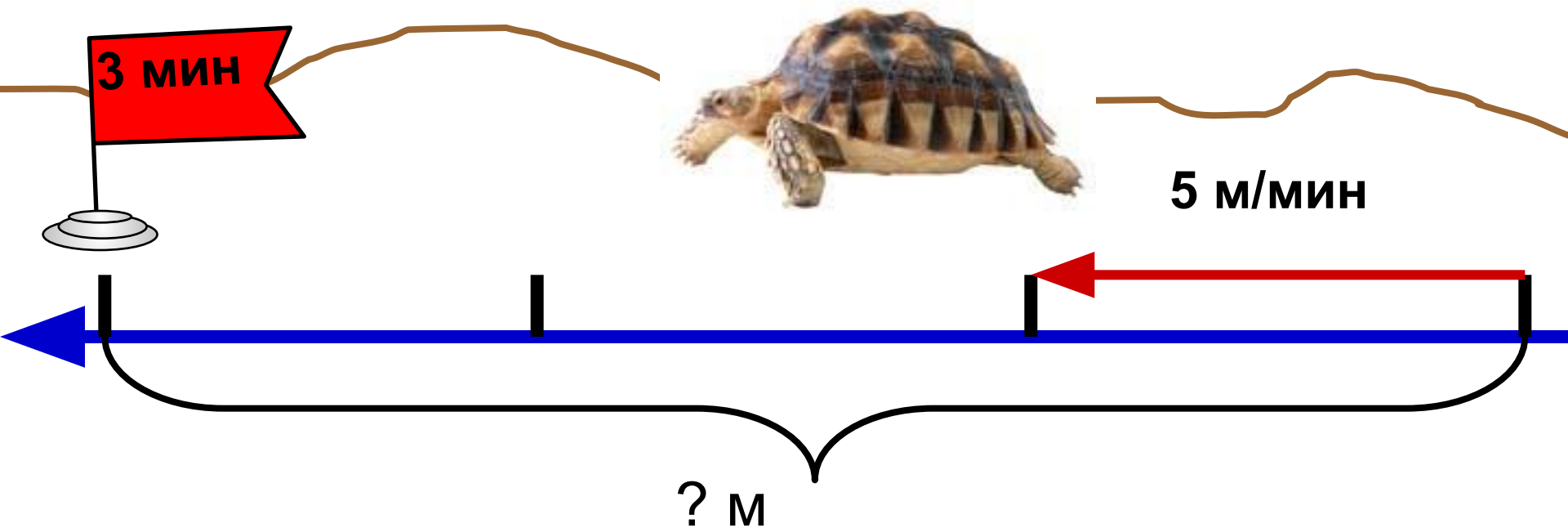


$$40 \cdot 4 = 160 \text{ (м)} - \text{расстояние}$$




Черепаша двигалась со средней скоростью 5 м/мин. Какое расстояние прошла она за 3 мин?

$$5 \cdot 3 = 15 \text{ (м)} - \text{расстояние}$$

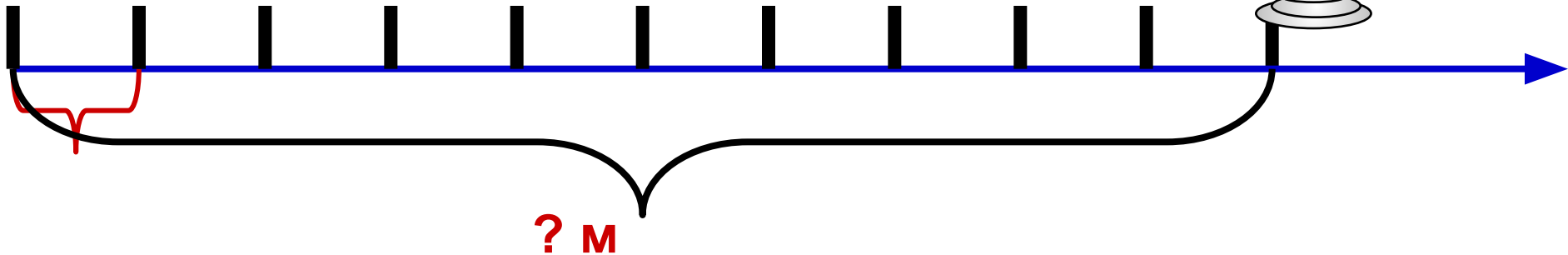


Слон двигался со средней скоростью 100 м/мин. Какое расстояние он прошёл за 10 мин?



$$100 \cdot 10 = 1000 \text{ (м)} - \text{расстояние}$$

100 м/мин





ФИЗМИНУТКА

**Качу, лечу
Во весь опор.**

(Выполняют ходьбу на месте.)

Я сам - шофер

(Имитируют управление автомобилем
рулем.)

И сам - мотор.

(Круговые движения плечами вперед-назад.)

Нажимаю на педаль,

(Имитируют нажимание на педаль.)

И машина мчится вдаль!

(Бег на месте.)



За какое время можно пройти
30 км с постоянной скоростью 5 км/ч?



$$30 : 5 = 6 \text{ (ч)}$$



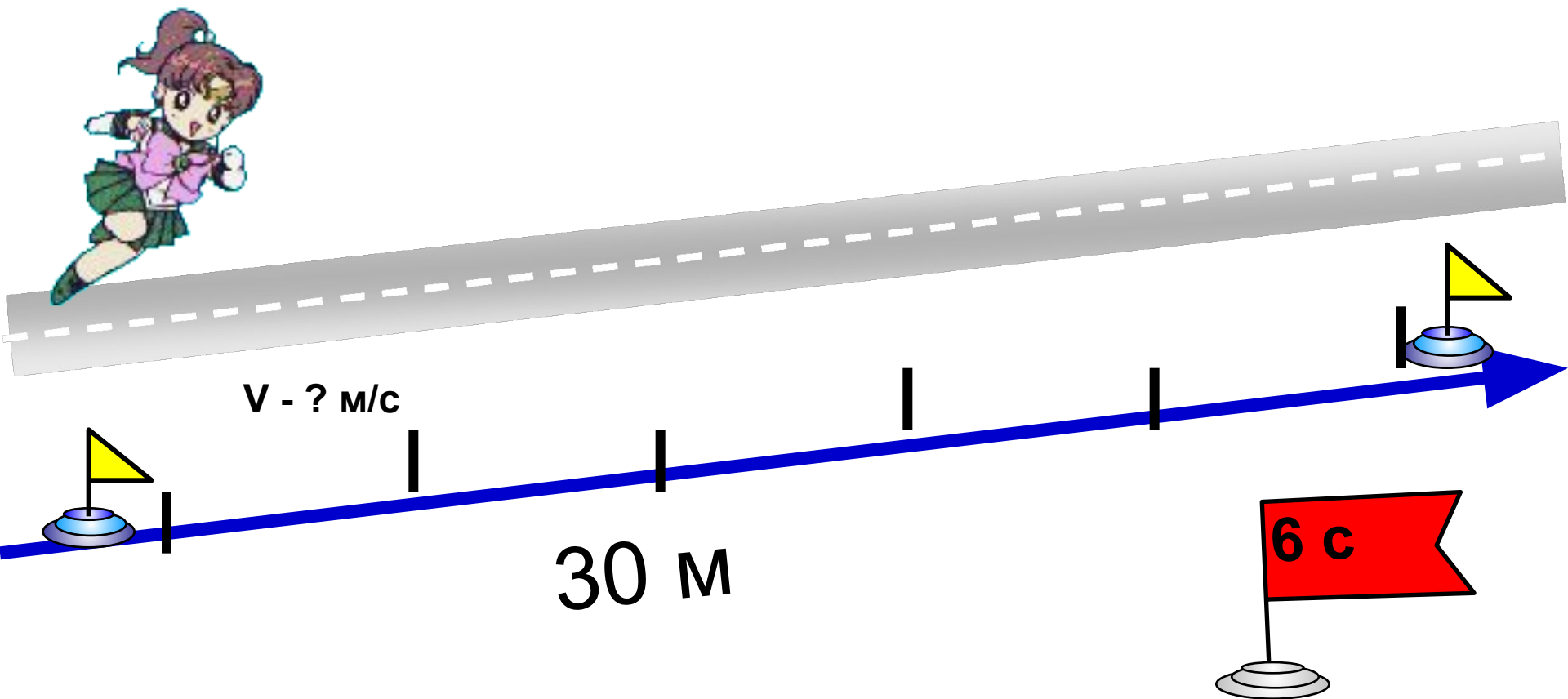
$t - ? \text{ ч}$

$v - 5 \text{ км/ч}$

30 км


Таня пробежала 30 м за 6 с. С какой средней скоростью она бежала?

$$30 : 6 = 5 \text{ (м/с)-ср. скорость}$$

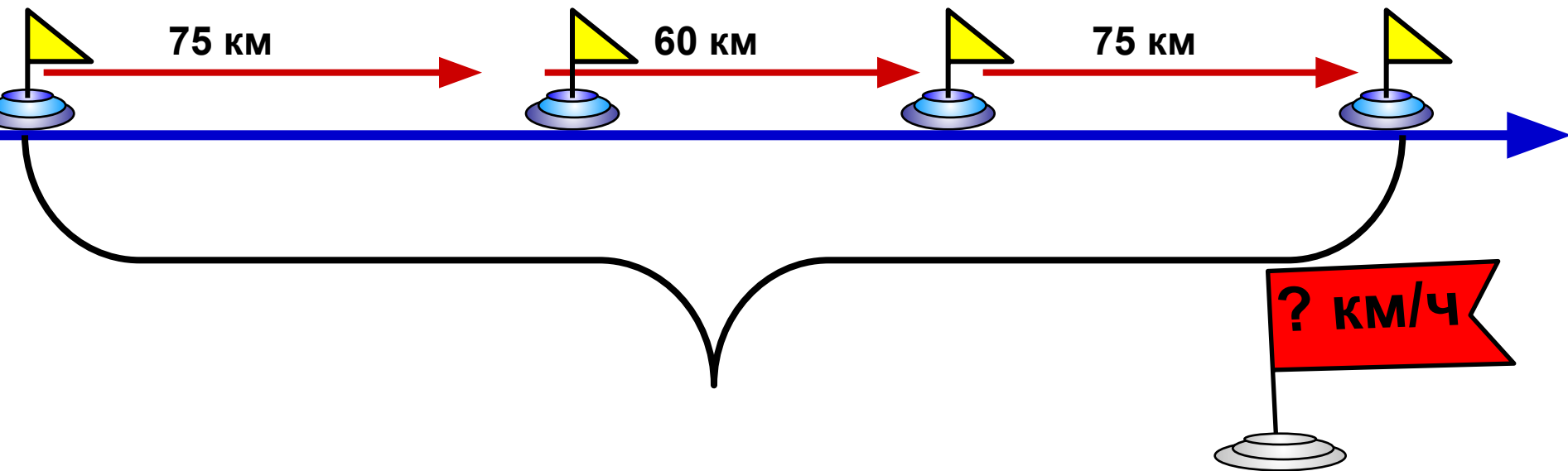


Пассажирский поезд прошёл 75 км за первый час, 60 км за второй час и 75 км за третий час. С какой средней скоростью он двигался?

$$(75 + 60 + 75) : 3 =$$

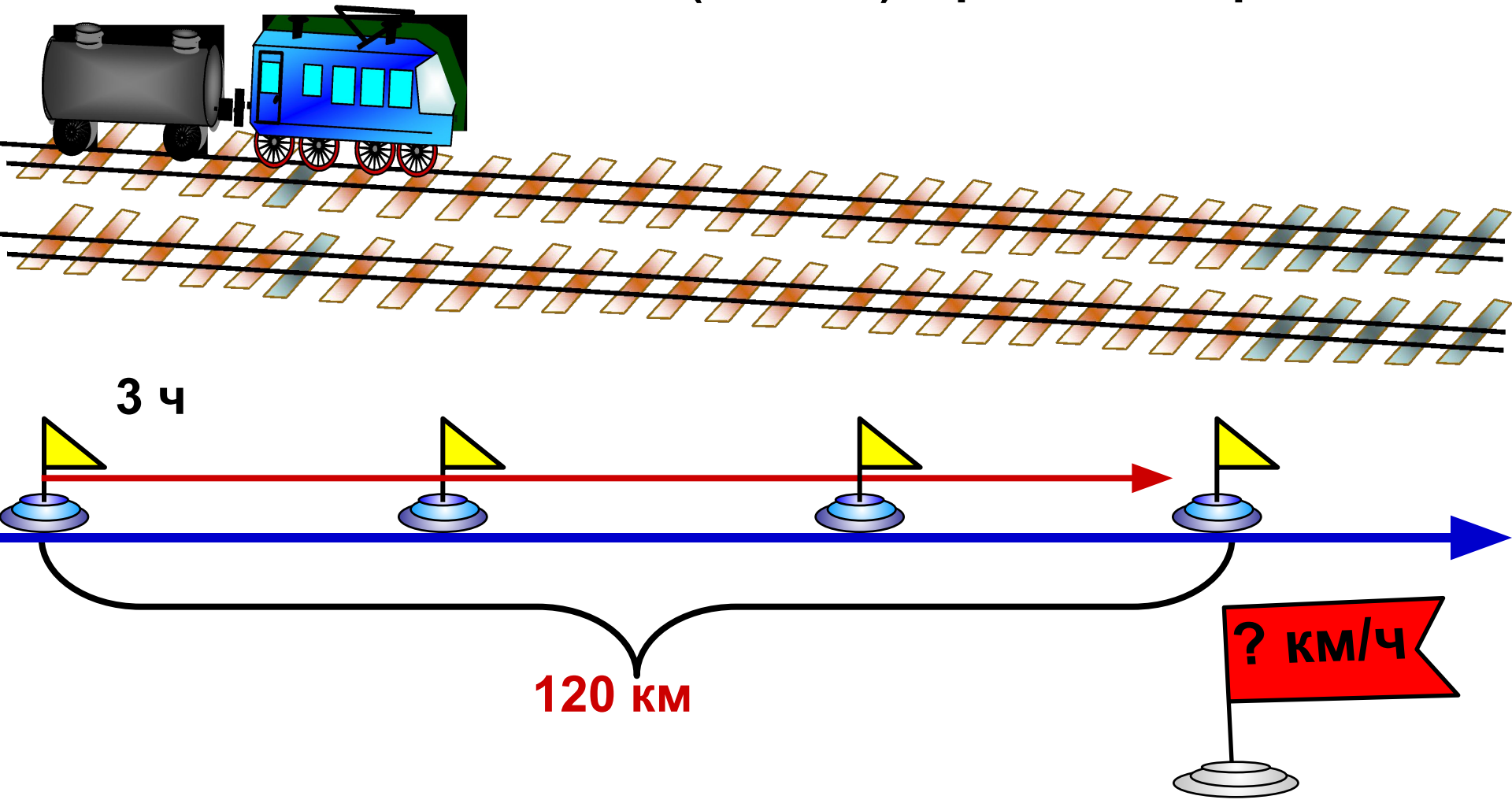


3 ч



Товарный поезд прошёл 120 км за 3 ч, проходя за каждый час одинаковое расстояние. С какой средней скоростью он двигался?

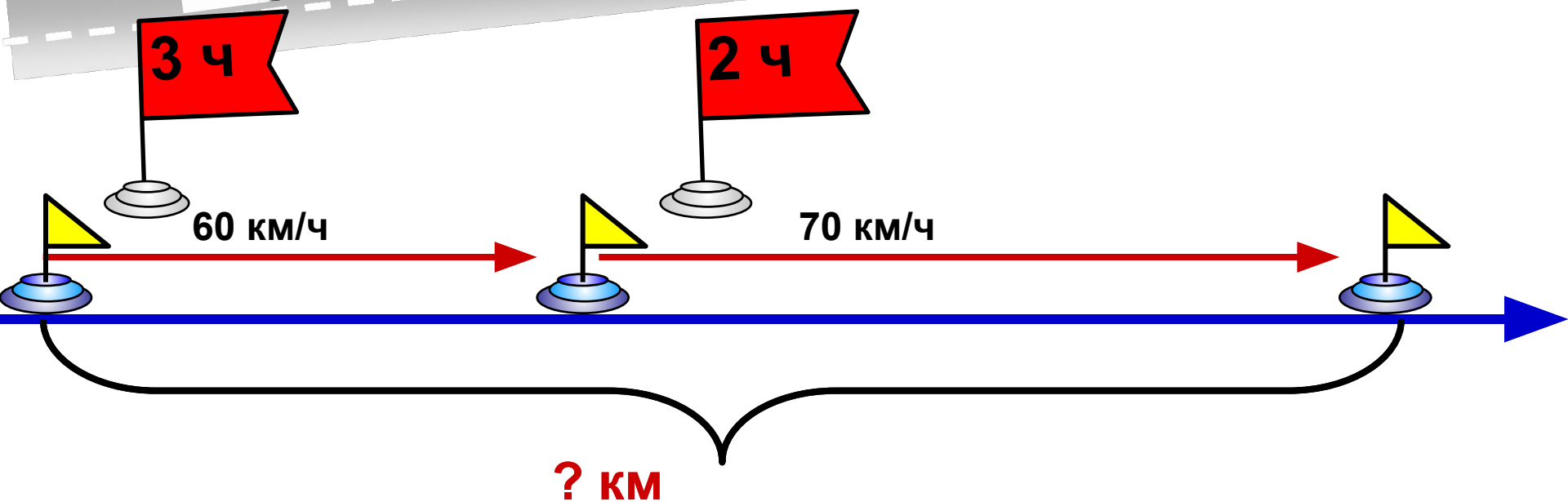
$$120 : 3 = (40 \text{ км/ч}) - \text{средняя скорость}$$



Мотоциклист ехал 3 ч со средней скоростью 60 км/ч и 2 ч со средней скоростью 70 км/ч. Какое расстояние он проехал за всё это время? Узнай среднюю скорость его движения.

$$60 \cdot 3 + 70 \cdot 2 = 320 \text{ (км)}$$

$$320 : 5 = 64 \text{ (км/ч) ср. скорость}$$



Расстояние = Скорость · Время

$$S = v \cdot t$$

Скорость = Расстояние : время

$$v = S : t$$

Время = Расстояние : Скорость

$$t = S : v$$