

**Задачі на дві дії різного ступеня
(множення і додавання або
віднімання)
2 клас**



Міркуємо разом

Купили 6 коробок печива по 3 гривні кожна, і цукерок на 20 гривень. Знайди вартість покупки.



- 6 кор. по 3 грн



- 20грн



?

- 1) Яка вартість печива?
- 2) Яка вартість покупки?



Розв'яжемо задачу

1) $3 \cdot 6 = 18$ (грн) – вартість печива;

2) $18 + 20 = 38$ (грн) – вартість покупки.

Відповідь: 38 гривень.



Складемо вираз

$3 \cdot 6$ – вартість печива;

$3 \cdot 6 + 20$ – вартість покупки;

$3 \cdot 6 + 20$.



Міркуємо разом



У зоомагазині у 4 клітках було по 3 папуги в кожній. Продали 5 папуг. Скільки папуг залишилося в зоомагазині?

Було – 4 клітки по 3 п.

Продали – 5 п.

Залишилося - ?

1) Скільки папуг було в 4 клітках?

2) Скільки папуг залишилося в зоомагазині?



Розв'яжемо задачу

- 1) $3 \cdot 4 = 12$ (п.) - було в 4 клітках;
 - 2) $12 - 5 = 7$ (п.) - залишилося в зоомагазині.
- Відповідь: 7 папуг.

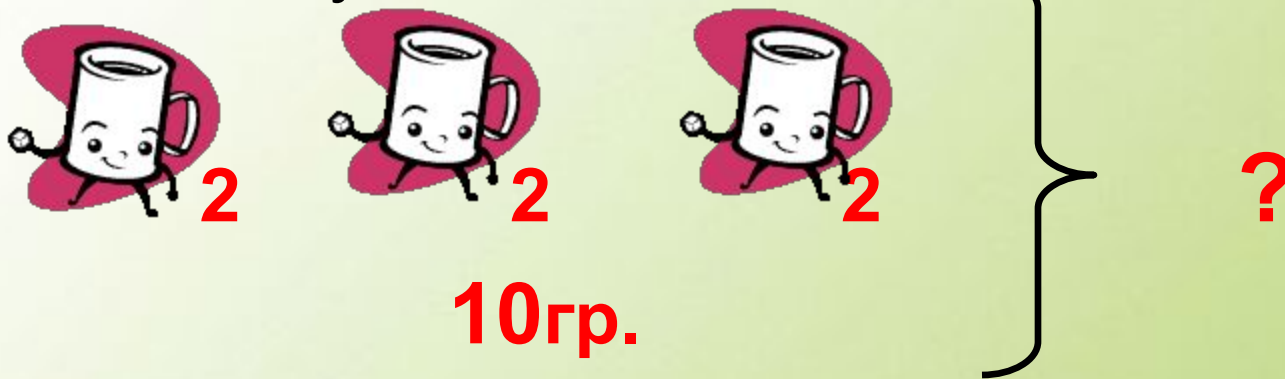
Складемо вираз

- $3 \cdot 4$ - було в 4 клітках;
- $3 \cdot 4 - 5$ - залишилося в зоомагазині;
- $3 \cdot 4 - 5$



Розв'яжи задачу самостійно

У 3 чашки чаю поклали по 2 грудочки цукру. У цукорниці залишилося ще 10 грудочок цукру. Скільки грудочок цукру було в цукорниці спочатку?



1) · = (гр.)

2) + = (гр.)



Склади і розв'яжи задачу



9 л



9 л



9 л



30 л

?

Перевір
себе:

Відповідь: 57 літрів.



Склади і розв'яжи задачу

Було – 6 банок по 3 л

Використали – 7 л

Залишилося - ?



Знайди помилку в розв'язку задачі

На 5 суконь витрачали по 2 м тканини,
а на костюм – 3 м.

Скільки всього метрів тканини витратили?

$$5 + 3 = 8 \text{ (м)}$$

Відповідь: 8 метрів тканини.

Розв'яжи задачу правильно.

Перевір
себе:

Відповідь: 13 метрів
тканини.



Розв'яжи задачу

У Юрка – 3 конверти з двома листівками в кожному.

У Сашка – 5 листівок.

Скільки всього листівок у хлопчиків?



Доповни і розв'яжи задачу



У саду росли вишні та 2 ряди слив, по 4 дерева в кожному ряду. Скільки всього дерев росло в саду?

У саду росло 11 вишень та 2 ряди слив, по 4 дерева в кожному ряду. Скільки всього дерев росло в саду?



Заміни числа буквами і склади вираз

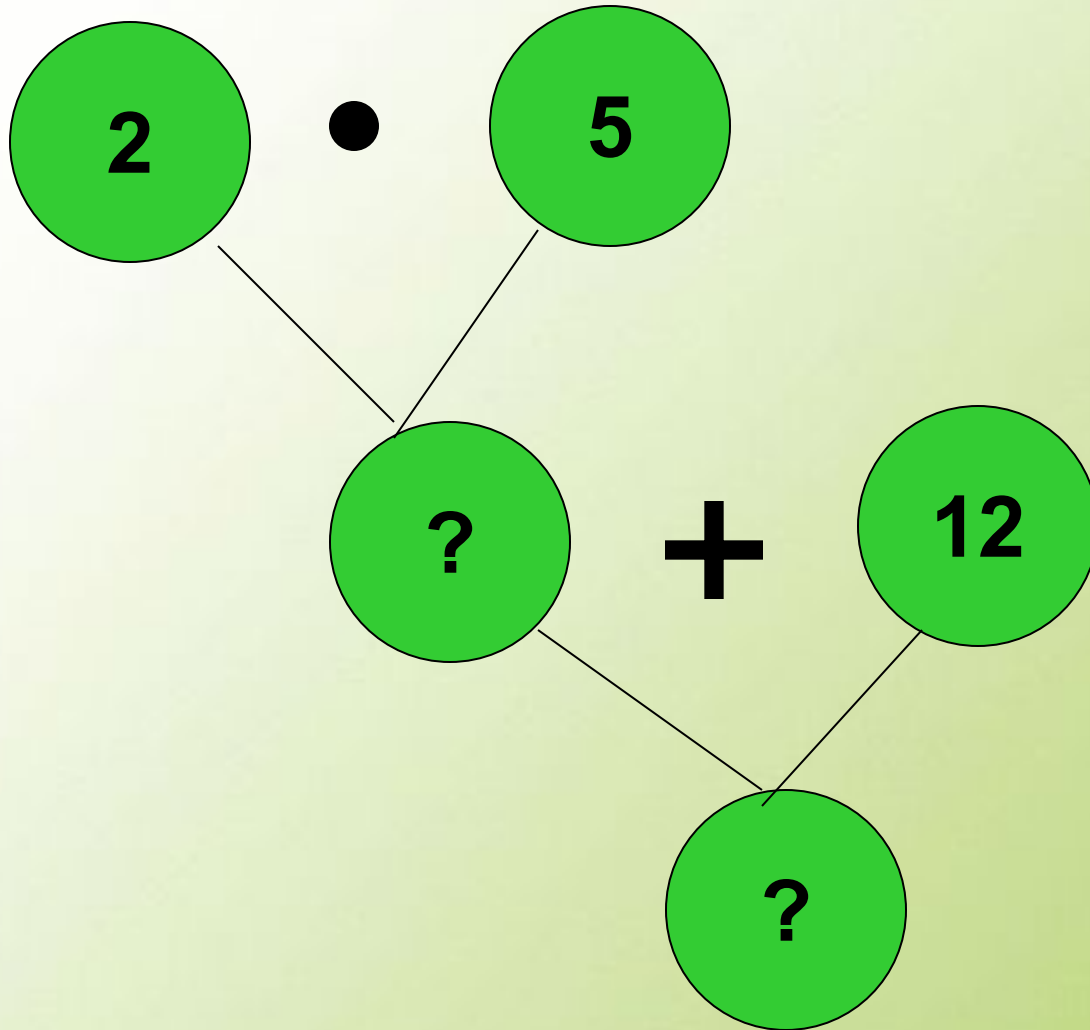
Тато купив **а** головки капусти, по **в** кілограми кожна, і **с** кілограмів моркви. Скільки всього кілограмів овочів купив тато?

Перевір
себе:

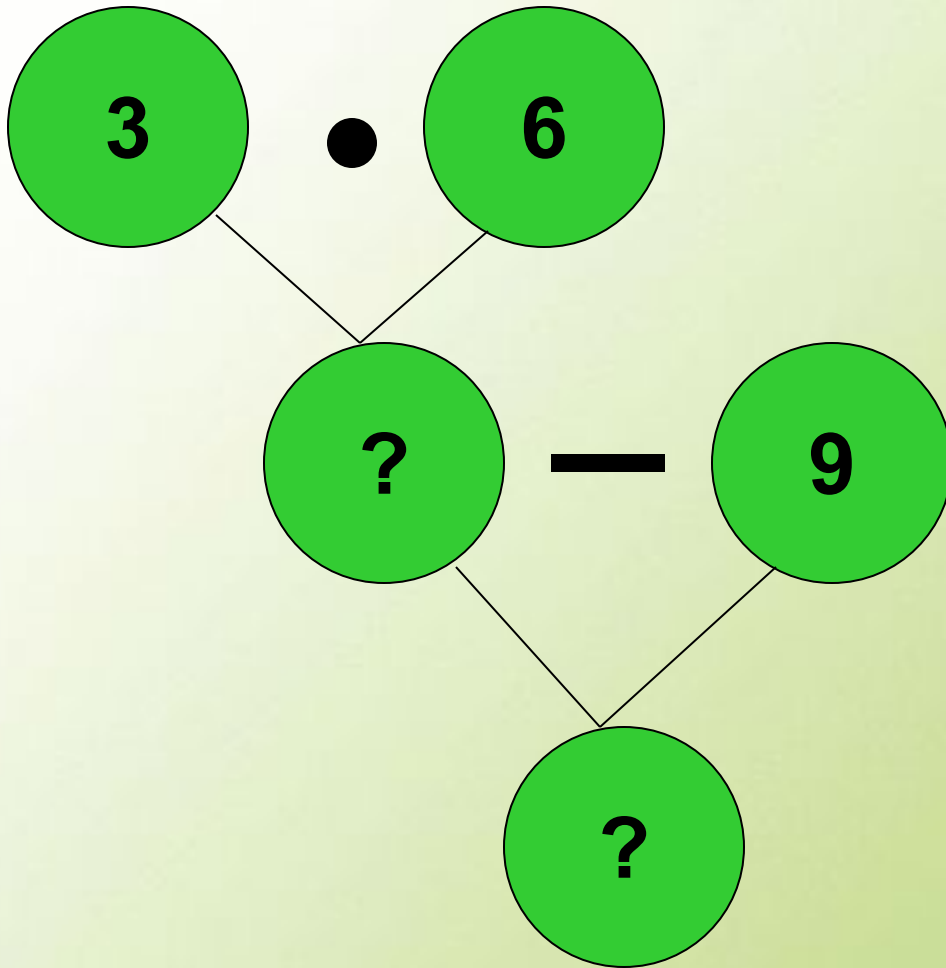
$$в \cdot а + с$$



Склади задачу за схемою



Склади задачу за схемою



Склади задачу за виразом



$9 - 7$

*Чи потрібні були ці
завдання?*



Ми

чудово

попрацювали.

Дякую !



Виконайте завдання у підручнику:

- С. 90-91, №583, 584, 591, 592

