

Урок математики в 3 классе

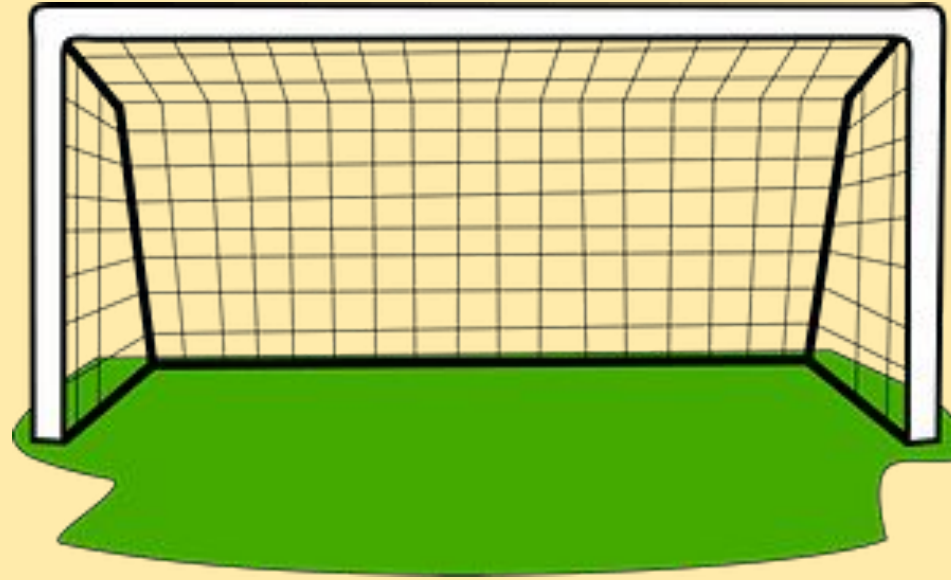
Автор презентации: Кадырова Ольга Игоревна,
Учитель начальных классов МАОУ СОШ №52 города Тюмени
2021



**Настрой на
урок**

**Чтоб быть
метким надо**





10

36

16

6

12

28

23

24

4

12

8

20

32

Проверим умножение

4·2

4·6

4·3

4·7

4·4

4·8

4·5

4·9



соревнование

Проверим деление

$8:4$

$24:4$

$12:4$

$28:4$

$16:4$

$32:4$

$20:4$

$36:4$



соревнование

Проверим умножение и деление

$4 \cdot 7$

$36 : 4$

$12 : 4$

$4 \cdot 8$

$16 : 4$

$24 : 4$

$4 \cdot 2$

$4 \cdot 5$



соревновани

е

Реши устно

Команда «Спартак»
забила 6 голов, а
команда «Зенит»
на 2 гола больше.

$$6 + 2 = 8 \text{ (г.)}$$



Команда «Спартак»
забила 6 голов, а
команда «Зенит»
в 2 раза больше.

$$6 \times 2 = 12 \text{ (г.)}$$

Сравн и

Команда «Спартак»
забила 6 голов, а
команда «Зенит»
на 2 гола меньше.

Команда «Спартак»
забила 6 голов, а
команда «Зенит»
в 2 раза меньше.



Тема урока

Задачи на уменьшение числа в несколько раз



Объясн

и



в 4 раза меньше



Объясн


и



в 3 раза меньше



Объясни
и



в 2 раза меньше



Сделай рисунок

Команда «Спартак» забила 8 голов, а команда «Зенит» в 4 раза меньше. Сколько голов забила команда «Зенит»?

Сп.

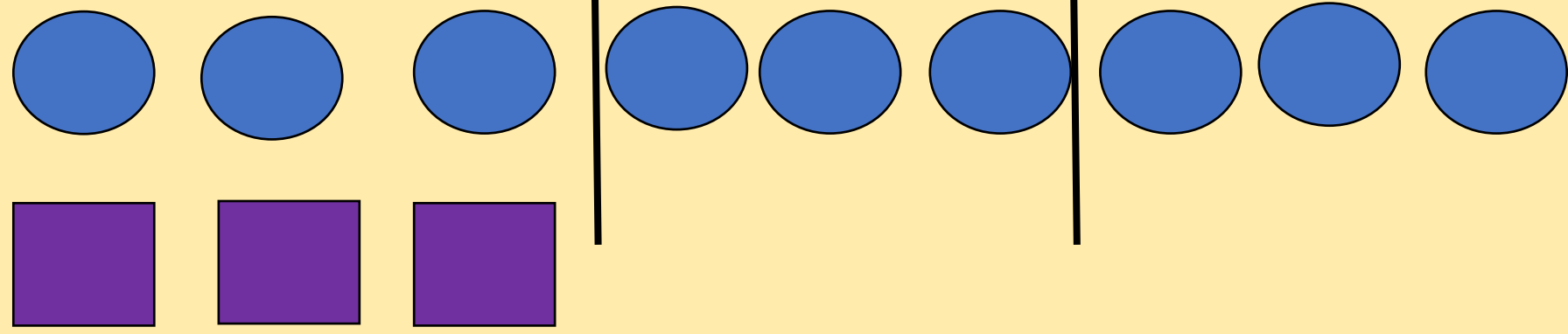


Зен.



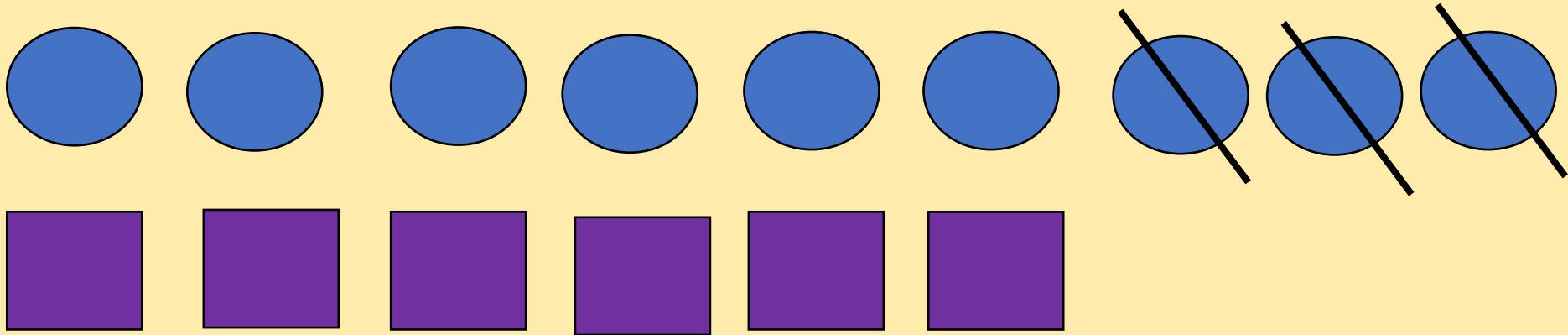
Нарисуй

**Нарисуй 9 кружков, а
квадратов в 3 раза
меньше**



Нарисуй

Нарисуй 9 кружков, а
квадратов на 3 меньше



Найди задачу по теме урока

Для команды «Динамо» купили 12 мячей, а для команды «Локомотив» на 3 мяча меньше.

Для команды «Динамо» купили 12 мячей, а для команды «Локомотив» в 3 раза больше.

Для команды «Динамо» купили 12 мячей, а для команды «Локомотив» на 3 мяча больше.

Для команды «Динамо» купили 12 мячей, а для команды «Локомотив» в 3 раза меньше.



Проверь!

Дима вырезал 9 красных флажков, а синих в 3 раза больше. Сколько синих флажков вырезал Дима?

$$9 + 3$$

Дима вырезал 9 красных флажков, а синих на 3 меньше. Сколько синих флажков вырезал Дима?

$$9 \times 3$$

Дима вырезал 9 красных флажков, а синих на 3 больше. Сколько синих флажков вырезал Дима?

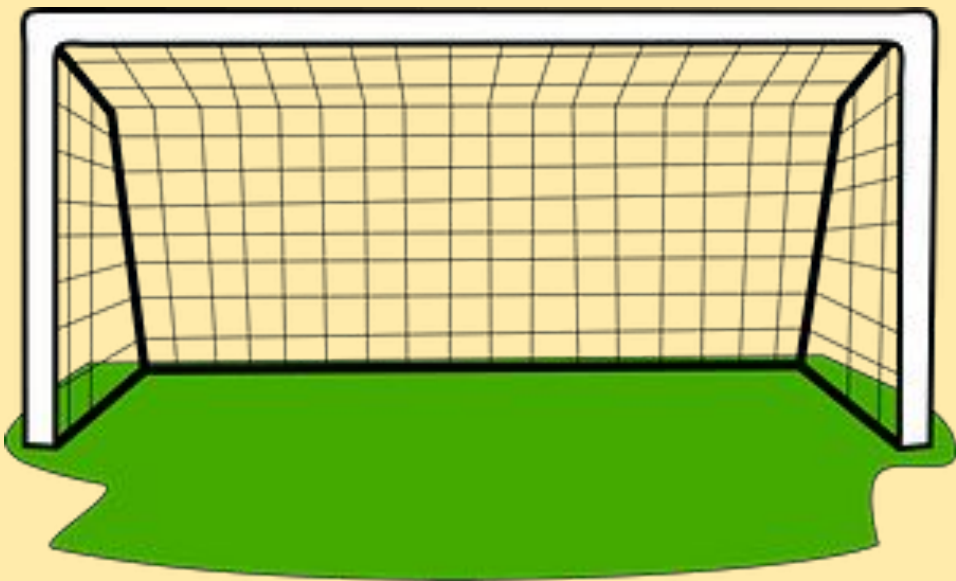
$$9 : 3$$

Дима вырезал 9 красных флажков, а синих в 3 раза меньше. Сколько синих флажков вырезал Дима?

$$9 - 3$$



Самооценка



Итог урока

Мы познакомились ...

**Рекомендую для решения
задачи ...**

