

Викторина «СВОЯ ИГРА»




[Начать игру](#)

1 РАУНД

КАТЕГОРИИ

РЕБУСЫ	<u>10</u>	<u>20</u>	<u>50</u>	<u>100</u>
ЛОГИЧЕСКИЕ ЗАДАЧИ	<u>10</u>	<u>20</u>	<u>50</u>	<u>100</u>
УГАДАЙ МЕЛОДИЮ	<u>10</u>	<u>20</u>	<u>50</u>	<u>100</u>



Смекай, гадай, решай	<u>10</u>	<u>20</u>	<u>3</u>	<u>4</u>	<u>5</u>
Ребусы	<u>1</u>	<u>2</u>	<u>3</u>	<u>4</u>	<u>5</u>
Литературн ые герои	<u>1</u>	<u>2</u>	<u>3</u>	<u>4</u>	<u>5</u>
Анаграммы	<u>1</u>	<u>2</u>	<u>3</u>	<u>4</u>	<u>5</u>

Разминка с часами	<u>10</u>	<u>20</u>	<u>30</u>	<u>40</u>	<u>50</u>
Перевёртыш и	<u>10</u>	<u>20</u>	<u>30</u>	<u>40</u>	<u>50</u>
Знаменитост и	<u>10</u>	<u>20</u>	<u>30</u>	<u>40</u>	<u>50</u>
Собачья жизнь	<u>10</u>	<u>20</u>	<u>30</u>	<u>40</u>	<u>50</u>



Да - нет	<u>10</u>	<u>20</u>	<u>30</u>	<u>40</u>
Птицы	<u>1</u> <u>0</u>	<u>2</u> <u>0</u>	<u>3</u> <u>0</u>	<u>4</u> <u>0</u>

На столе 4 яблока.
Одно из них
разрезали пополам.
Сколько яблок на
столe?



ОТВЕТ:

4 ЯБЛОКА



Стол стоит на расстоянии
4-х метров от шкафа.
Сколько метров будет
между ними, если стол и
шкаф передвинуть на 2
метра вправо?



**ОТВЕТ:
4 МЕТРА**



Продремав полдня, кот Матроскин проснулся в 3 часа.

- Шарик, я не проспал? Не пора ли нам отправляться в поле за коровой?
- Ещё рано: её надо доить через 4 часа.
- Бедная Бурёнка заждалась нас. Когда же мы пойдём?
- Мы выйдем из дома ровно за час до вечерней дойки.
- Когда Матроскин и Шарик выйдут из дома?



**ОТВЕТ:
В 6 ЧАСОВ**



У Серёжи в кармане
2 монеты на общую
сумму 6 рублей.
Одна из монет не
пятирублёвая. Какие
это монеты?



**ОТВЕТ:
1 И 5 РУБЛЕЙ**



У кошки их два, у
собаки и коровы –
три.

А сколько их у дога?



ОТВЕТ:

ОДИН. ЭТО СЛОГ В СЛОВЕ



Л = Р



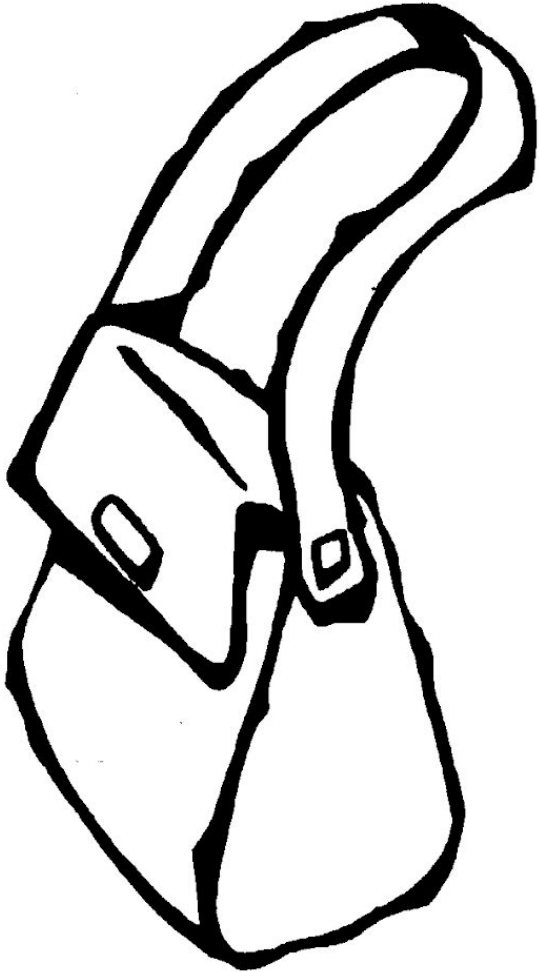
ОТВЕТ: КОЛОБОК






ОТВЕТ:
ЛУЖАЙКА





”



”



ОТВЕТ:

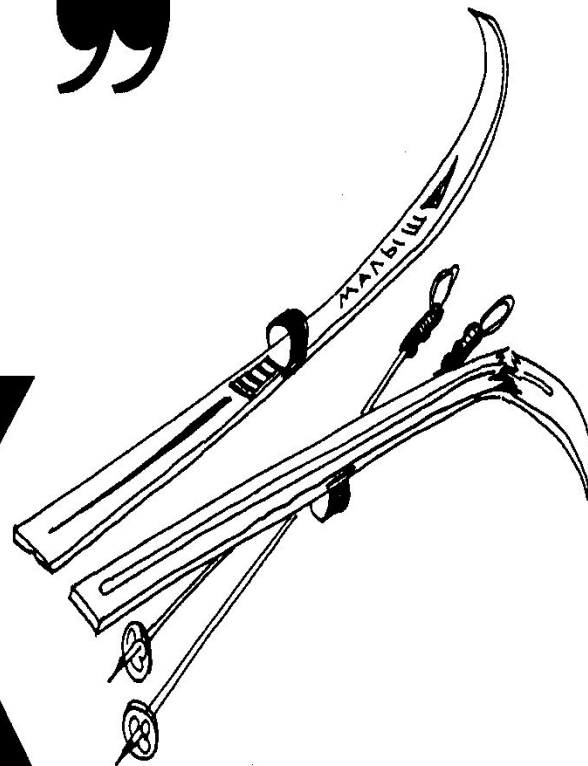
СУММА





”


Ж



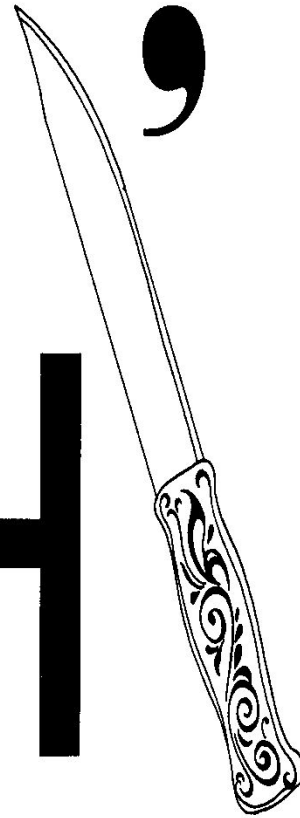
ОТВЕТ:
ЖУЖЖИТ



Д



Н



Е

”

’



**ОТВЕТ:
ДЛИННОЕ**



Как звали сына
царя Салтана в
сказке Пушкина?



ОТВЕТ:
ГВИДОН



Как звали мужичка,
который ведром
поймал говорящую
рыбу?



ОТВЕТ:
ЕМЕЛЯ



Этот сказочный
герой был другом
Редиски и Вишенки.
Как его зовут?



ОТВЕТ:
ЧИППОЛЛИНО



Сказочный мореход,
сражавшийся
с циклопами.



**ОТВЕТ:
СИНДБАД**



НОВЫЙ ВИД
ЖИВОТНОГО
ВЫВЕДЕННОГО В КНИГЕ
ЭДУАРДА
УСПЕНСКОГО?



ЯМКА



ОТВЕТ:

МАЯК



ШПАЛА



ОТВЕТ:

ЛАПША



МАРШ



ОТВЕТ:

ШРАМ



TOPC



ОТВЕТ:

ТРОС



APKA



ОТВЕТ:

РАКА



Сумма двух рядом
стоящих цифр на
циферблате часов
равна 21.

Какие это цифры?



ОТВЕТ:

10 И 11



**Когда сутки
короче – летом
или зимой ?**



ОТВЕТ:

ОДИНАКОВЫЕ. 24 ЧАСА

Сколько времени будет
отсутствовать дома
человек, вышедший из
дома в полдень, а
вернувшийся в полночь?



**ОТВЕТ:
12 ЧАСОВ**



Сейчас ровно 8 часов.
Сколько будет времени,
если поменять часовую
и
минутную стрелку
местами?



ОТВЕТ:

11 ЧАСОВ 40 МИНУТ

Если минутная стрелка из 12 часов переместилась на прямой угол, то сколько прошло времени?



ОТВЕТ:

15 МИНУТ, 45 МИНУТ

Сытый как заяц.



**ОТВЕТ:
4 МЕТРА**



Имей одну копейку,
а не имей одного
врага.



ОТВЕТ:

НЕ ИМЕЙ 100 РУБЛЕЙ, А ИМЕЙ
100 ДРУЗЕЙ

Многие в лесу
бойцы.



ОТВЕТ:

ОДИН В ПОЛЕ НЕ ВОИН



Новый враг хуже
одного старого.



ОТВЕТ:

СТАРЫЙ ДРУГ, ЛУЧШЕ НОВЫХ
ДВУХ

Обжорство - дядька



ОТВЕТ:
ГОЛОД НЕ ТЁТКА



ПОЭТЫ:

ЧУКОВСКИЙ.....

Барто.....

Пушкин



ОТВЕТ:
КОРНЕЙ
АГНИЯ
АЛЕКСАНДР



Литературные герои:

Сойер.....

Крузо.....

Перестукин



**ОТВЕТ:
ТОМ
РОБИНЗОН
ВИКТОР**



Певцы и певицы:

Пугачёва

Киркоров.....

Королёва



ОТВЕТ:

АЛЛА
ФИЛИПП
НАТАША



Писатели:

Успенский.....

ЖИТКОВ.....

Носов.....



ОТВЕТ:
ЭДУАРД
БОРИС
НИКОЛАЙ



Композиторы:

Бах.....

Бетховен.....

Кабалевский.....



ОТВЕТ:

ИОГАНН СЕБАСТЬЯН
ЛЮДВИГ
ДМИТРИЙ БОРИСОВИЧ

Как называется
домик собаки?



ОТВЕТ:

БУДКА



Как звали собаку
дяди Фёдора?



ОТВЕТ:

ШАРИК



Как звали
собаку
Мальвины?



**ОТВЕТ:
АРТЕМОВ**



Как звали собаку,
которая
сопроводжала
Элли в изумрудный
город?



ОТВЕТ:
ТОТОШКА



Назовите три
«профессии»
собак?



ОТВЕТ:

**ПОВОДЫРЬ, СПАСАТЕЛЬ,
ПАСТУХ, МИНЁР**



**Мясо овцы
называется
*овчина.***



**ОТВЕТ:
НЕТ. БАРАНИНА**



На зебрах водятся
полосатые блохи.



OTBET:

HET



**Крабы поднимаются
на поверхность
воды на дельфинах.**



ОТВЕТ:

НЕТ, ОНИ ПОДНИМАЮТСЯ ПРИ
ПОМОЩИ ЛАПОК

**Маленькие
крокодильчики могут
взбираться на
деревья.**



ОТВЕТ:

**ДА, МОЛОДЫЕ КРОКОДИЛЫ
ХОРОШО ЛАЗЯТ ПО ДЕРЕВЬЯМ
И ЧАСТО ОТДЫХАЮТ ТАМ**

Эта птица никогда не
строит для себя
гнезда, соседкам яйца
оставляет и о птенцах
своих не вспоминает.



**ОТВЕТ:
КУКУШКА**



Он в своей лесной
палате носит
пёстренький халатик,
он деревья лечит,
постучит и легче.



ОТВЕТ:

ДЯТЕЛ



И петь не поёт,
и летать не летает. За
что же тогда его
птицей считают?



ОТВЕТ:

СТРАУС



Эта птица встречается
на току.

Она издаёт различные
пощёлкивания.



ОТВЕТ:
ГЛУХАРЬ



КАТЕГОРИЯ «РЕБУСЫ» за 10

ВОПРОС :



Правильный ответ :

ЖЕЛЕЗО



КАТЕГОРИЯ «РЕБУСЫ» за 20

ВОПРОС :



Правильный ответ :

ОТРЕЗОК



КАТЕГОРИЯ «РЕБУСЫ» за 50

ВОПРОС :



Правильный ответ :

ЗАДАЧА



КАТЕГОРИЯ «РЕБУСЫ» за 100

ВОПРОС :



Правильный ответ :

ТОЧКА



КОТ В МЕШКЕ

ВОПРОС :



Правильный ответ :

КВАДРАТ



КАТЕГОРИЯ «ШАРАДЫ» за 20

ВОПРОС :

**Первое-нота, второе- тоже,
А в целом на горох похоже.**

Правильный ответ :

ФА-СОЛЬ



КАТЕГОРИЯ «ШАРАДЫ» за 50

ВОПРОС :

Когда мы знаем человека,
Ему слог первый говорим.

Второй – в прудах лягушки скажут летом,
А целое в деревне мы едим.

Правильный ответ :

ТЫ-КВА



КАТЕГОРИЯ «ШАРАДЫ» за 100

ВОПРОС :

Предлог с игрой соедините,
И чудо вдруг произойдет:
Цветок Египта знаменитый
Пред вами сразу зацветет.

Правильный ответ :

ЛОТО-С



КАТЕГОРИЯ «ЛОГИЧЕСКИЕ ЗАДАЧИ» за 10

ВОПРОС :

Около столовой, где обедали лыжники, пришедшие из похода, стояли 20 лыж, а в снег было воткнуто 20 палок. Сколько лыжников ходило в поход?

Правильный ответ :

10 лыжников



КАТЕГОРИЯ «ЛОГИЧЕСКИЕ ЗАДАЧИ» за 20

ВОПРОС :

Кто старше?

Три брата – Ваня, Саша, Коля – учились в разных классах. Ваня был не старше Коли, а Саша – не старше Вани. Назовите имена старшего, среднего и младшего братьев.

Правильный ответ :

Если Ваня был не старше Коли, то значит, что Ваня младше Коли, а Коля старше Вани. Если Саша – не старше Вани, то значит, что Саша младше Вани, а Ваня старше Саши. Получается, что Старший – Коля, средний – Ваня, младший – Саша.



КАТЕГОРИЯ «ЛОГИЧЕСКИЕ ЗАДАЧИ» за 50

ВОПРОС :

У Незнайки было пять целых груш, шесть половинок и 8 четвертинок. Сколько всего груш было у Незнайки?

Правильный ответ :

$$5 + 3 + 2 = 10 \text{ яблок}$$




КАТЕГОРИЯ «ЛОГИЧЕСКИЕ ЗАДАЧИ» за 100

ВОПРОС :

Во дворе находятся куры и поросята. Всего 5 голов и 14 ног. Сколько во дворе кур и сколько поросят?

Правильный ответ :

3 курицы и 2 поросёнка



КАТЕГОРИЯ «УГАДАЙ МЕЛОДИЮ» за 10

ВОПРОС :



Правильный ответ :



КОТ В МЕШКЕ

ВОПРОС :



Правильный ответ :

«В стране невыученных уроков»



КАТЕГОРИЯ «УГАДАЮ МЕЛОДИЮ» за 50

ВОПРОС :



Правильный ответ :



КАТЕГОРИЯ «УГАДАЙ МЕЛОДИЮ» за 100

ВОПРОС :



Правильный ответ :





2 РАУНД

Тема раунда:

«Внимание! Внимание!»

Замок стоит на берегу пруда. Всё ли в воде отобразилось так, как есть на самом деле? Найди 6 отличий.





Выполнила
Овсова А.А. (учитель начальных классов)
МБОУ г.Костромы «СОШ №29»
2019 г.

