

# Число и цифра 4

## СТУДИЯ «УМНИКИ»



# УСТНЫЙ СЧЁТ

- СЧИТАЕМ ОТ 1 ДО 10
- СЧИТАЕМ ОТ 10 ДО 1







**Куда войдет больше воды:  
в трехлитровый чайник  
или трехлитровый  
самовар?**



# Сколько зайцев в корзине?



3



$$1 + 2$$



1

2

3

4

5

6

7

8

9

10



3 - 1

1

2

3

4

5

6

7

8

9

10





2+2



1

2

3

4

5

6

7

8

9

10

# Практическая работа

- Положите 1 КАРАНДАШ
- Как сделать, чтобы их стало 2?
- Как сделать, чтобы их стало 3?
- Сколько станет, если + 1?



# Цифра 4

За тремя идёт четыре,  
Острый локоть оттопыря..

4


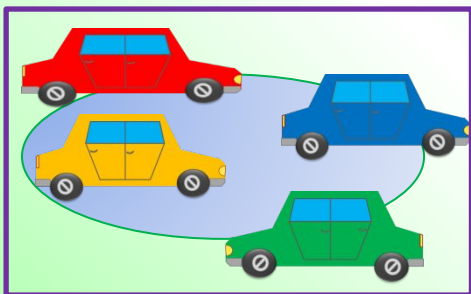


# Цифра 4


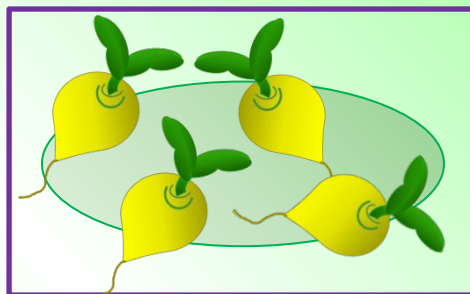
*Гляди, четыре – это стул,  
Который я перевернул.*




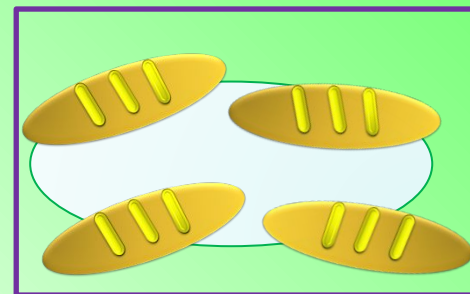
3. Назови число предметов на каждом рисунке:



четыре

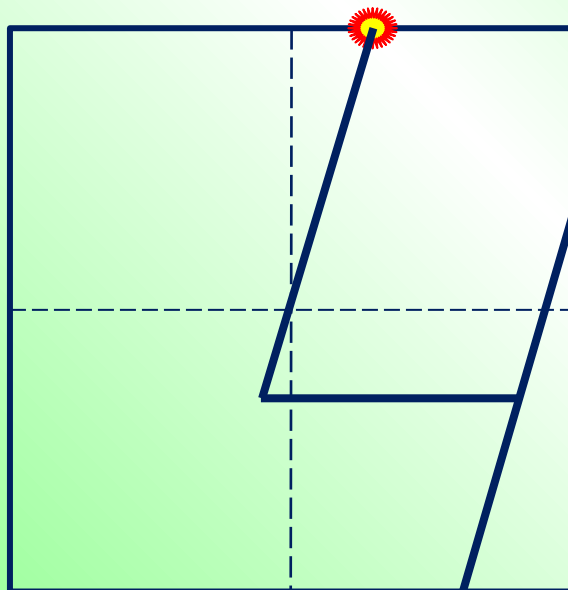


четыре



четыре

Число четыре записывают знаком - **цифрой 4.**



# Физкультминутка

Вы наверное устали?

Ну тогда все дружно встали.





Ножками потопали,  
Ручками похлопали,



Покрутились, повертелись,  
И за парты все уселись.





Глазки крепко закрываем,  
Дружно до семи считаем.



Открываем, поморгаем  
И работать продолжаем



# Задачи.

В садике гулял павлин,  
Подошёл ещё один,  
Два павлина за кустами.  
Сколько их? Считайте сами.



Четыре зайца шли из школы,  
И вдруг на них напали пчёлы.  
Два зайчика спаслись едва.  
А сколько не успело? ...

# Состав числа 4



# Состав числа 4


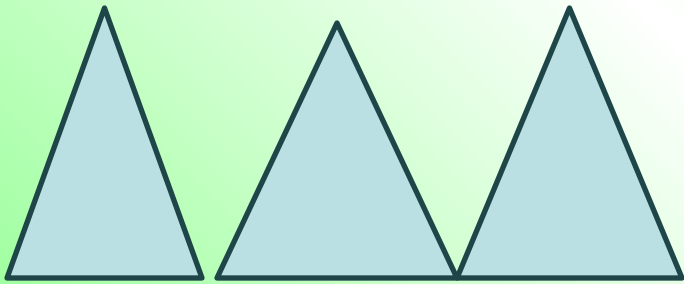


# Состав числа 4

2	2
3	1



# Сравнение 3 и 4



$$3 < 4$$



# Какое у вас настроение?

1



2





# Домашнее задание

- 6-7 лет –учебник урок 9, тетрадь на печатной основе «Изучаем математику» №2-стр 9
- 5лет –учебник урок 8, тетрадь на печатной основе «Изучаем математику» №1-стр 8
- 4 года –учебник урок 8, тетрадь на печатной основе «Математика для малышей» №8-стр 8-9



Спасибо за урок!

