

Числа 6,7.
Письмо
цифры 6
стр. 52-53



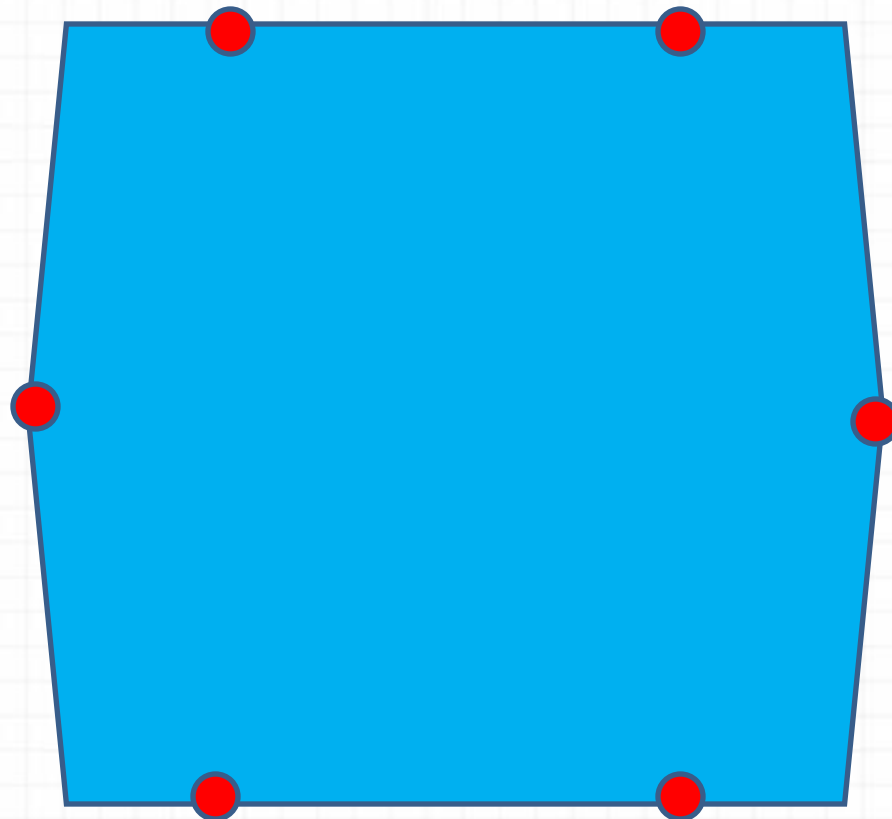

Школа России
Математика 1 класс






Устный счёт


Сосчитай стороны и вершины многоугольника.



Новый материал



Цифра **6** - дверной замочек:
Сверху крюк, внизу кружочек.
С.Я.Маршак

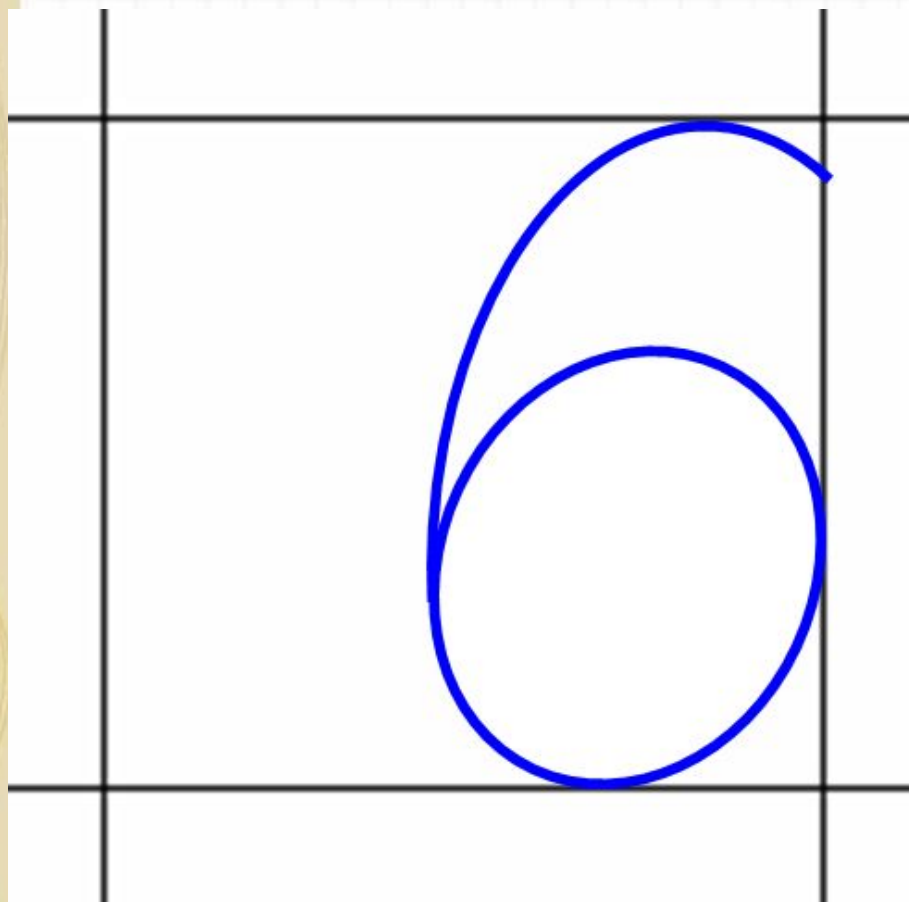



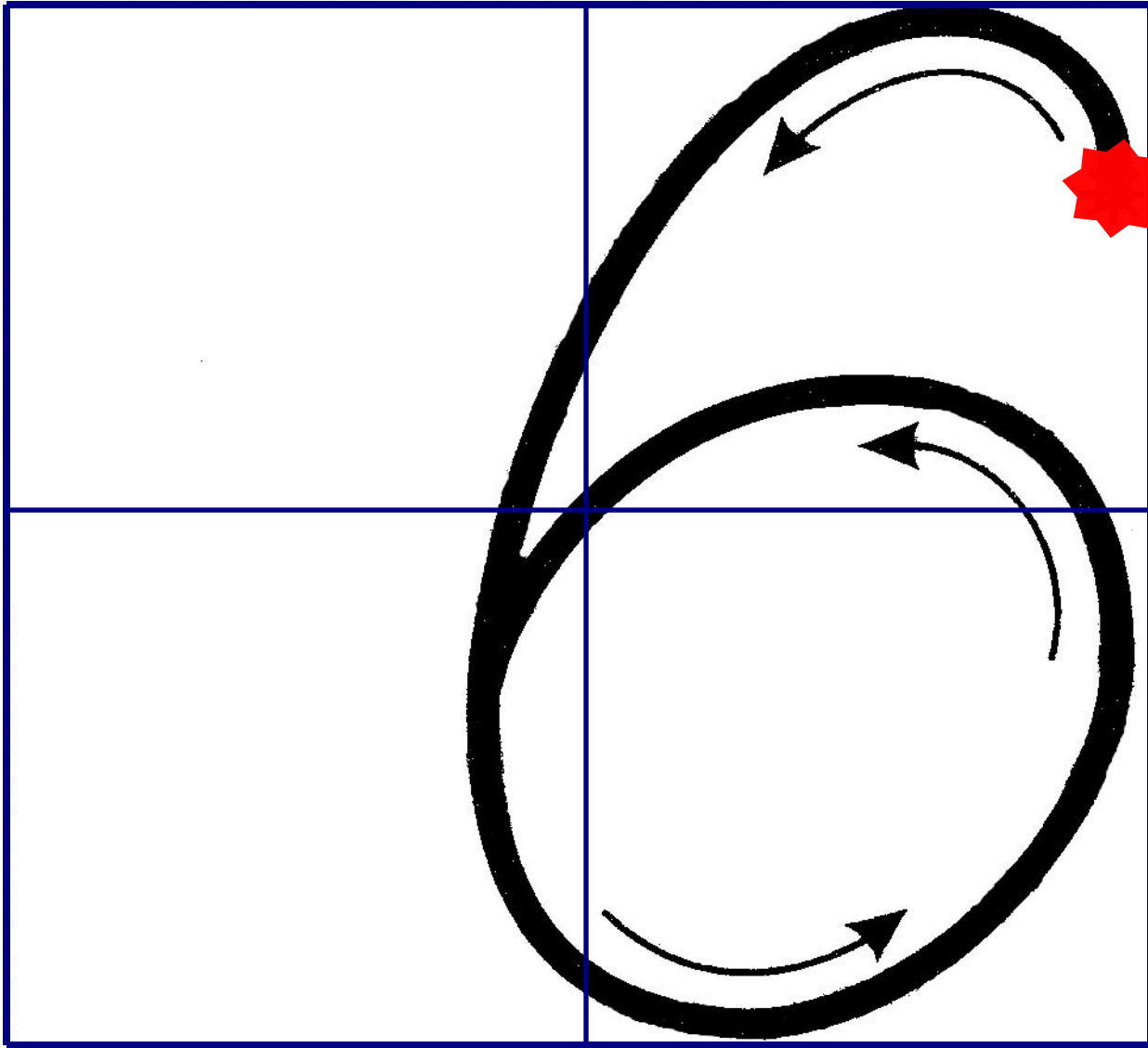
Определите тему урока.

Нет углов у цифры шесть,
Лишь дуга с кружочком есть.
Ты с дуги писать начни,
И кружочком оберни.



Цифру шесть писать легко:
Ни штришков, ни уголков!
За рукой своей следи,
Плавно линию веди!








1	5
2	4
3	3
4	2
5	1

6

Работа по учебнику





стр. 52 -

52

- 1
- 2
- 3
- 4
- 5
- 6
- 7



СРАВНИ:



Как можно получить число 6? число 7?



$$5 + 1 = 6$$

$$6 + 1 = 7$$

$$6 - 1 = 5$$

$$7 - 1 = 6$$



6



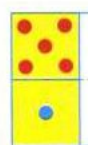
5



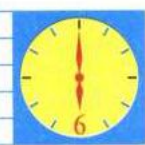
7



4



6666 6666
1,2,3,4,5,6



1 2 3 4 5 6 7

Как можно получить число 6? число 7?



$$5 + 1 = 6$$

$$6 + 1 = 7$$

$$6 - 1 = 5$$

$$7 - 1 = 6$$



6



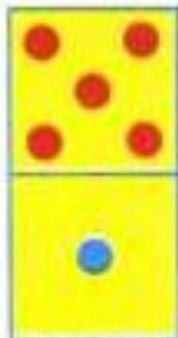
5



7



4



6 6 6 6 6 6 6 6

1, 2, 3, 4, 5, 6





Какое время показывают каждые часы?



Которым по счёту будет красный квадрат, если считать справа налево? синий квадрат? Сколько всего квадратов?

Которым по счёту будет зелёный кружок, если считать слева направо?



В лесной школе белочка и заяц начертили по одной фигуре каждый. Эти фигуры были разными.



не стал чертить



не стала

чертить



и



. Кто какую фигуру на-
чертил?

«Проверочные работы», с. 12, 13.



КАКОЕ
НЕРАВЕНСТВО
ПРОПУЩЕНО?

$$6 > 5$$

$$5 > 4$$

$$4 > 3$$

$$2 > 1$$





Какое время показывают каждые часы?



Которым по счёту будет красный квадрат, если считать справа налево? синий квадрат?

Сколько всего квадратов?

Которым по счёту будет зелёный кружок, если считать слева направо?



В лесной школе белочка и заяц начертили по одной фигуре каждый. Эти фигуры были разными.



не стал чертить



не стала

чертить

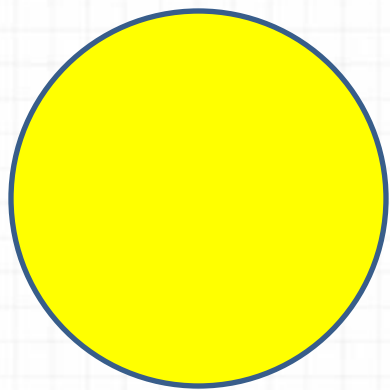



и





. Кто какую фигуру на-
чертил?

Стр.
53



**Мама – белка для детишек
Принесла из леса шишек.
Сразу все не отдала,
По одной всего дала.
Старшему - еловую,
Среднему - сосновую,
Младшему - кедровую.
Скажите, детишки,
Сколько бельчат съели по шишке?**



- Какую шишку получил старший сын?**
- А младший?**
- Какую шишку съел средний брат?**



Рефлексия

Что нового вы узнали?

Какие задания вам понравились больше?

Какие задания были для вас самыми трудными?

Оцените себя.

У меня все получилось.

Я хорошо отвечал.

Я правильно выполнил все задания.

А у кого грустное настроение? Почему?

У меня не все получилось.

Я не смог выполнить все задания правильно.



