



**«Своя игра» по технологии 6 класс
составила учитель технологии
МОБУ СОШ №12
г. Нефтекамск,
Республики Башкортостан
КАМАЛОВА КЛАРА ФАТИХОВНА**

КАТЕГОРИИ

| | | | | | |
|--------------------------------|------------------|------------------|------------------|------------------|------------------|
| ОБЩИЕ | <u>10</u> | <u>20</u> | <u>30</u> | <u>40</u> | <u>50</u> |
| ОБРАБОТКА МЕТАЛЛА | <u>10</u> | <u>20</u> | <u>30</u> | <u>40</u> | <u>50</u> |
| ОБРАБОТКА ДРЕВЕСИНЫ | <u>10</u> | <u>20</u> | <u>30</u> | <u>40</u> | <u>50</u> |
| РАЗНОЕ | <u>10</u> | <u>20</u> | <u>30</u> | <u>40</u> | <u>50</u> |

10

Сжигать пластиковые бутылки не рекомендуется из - за того, что:

- а) они могут быть вторичным сырьем для производства;**
- б) могут быть взрывы;**
- в) высокая температура горения;**
- г) образуются вредные химические вещества?**



10


г) образуются вредные химические вещества



20

Как называется наиболее точно обработанная сторона заготовки, от которой ведут разметку:

- а) правая;
- б) левая;
- в) базовая;
- г) обратная?



20


в) базовая



30

Использование роботов:

- а) облегчает труд человека;
- б) вытесняет человека из сферы производства;
- в) усложняет труд человека;
- г) не играет роли в общественном производстве?



30


а) облегчает труд человека



40

**Включать и выключать электроприборы
МОЖНО ТОЛЬКО:**

- а) в диэлектрических перчатках;**
- б) сухими руками, берясь за корпус вилки;**
- в) потянув за шнур**



40


б) сухими руками, берясь за корпус вилки



50

Укажите, какие из перечисленных объектов не относятся к технологическим машинам:

- а) сверлильный станок;
- б) автомобиль;
- в) швейная машина



50


б) автомобиль



10

К разметочному инструменту не относится:

- а) линейка;
- б) циркуль;
- в) кернер;
- г) ножницы;
- д) чертилка



10


г) НОЖНИЦЫ



20

Размер детали для построения эскиза определяют:

- а) на глаз;**
- б) с помощью сантиметровой ленты;**
- в) с помощью штангенциркуля;**
- г) с помощью металлической линейки**



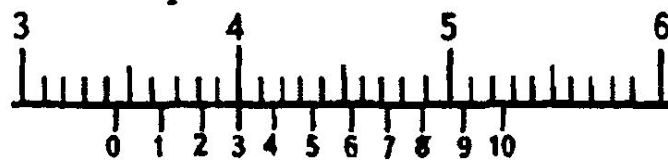
20

а) на глаз




30

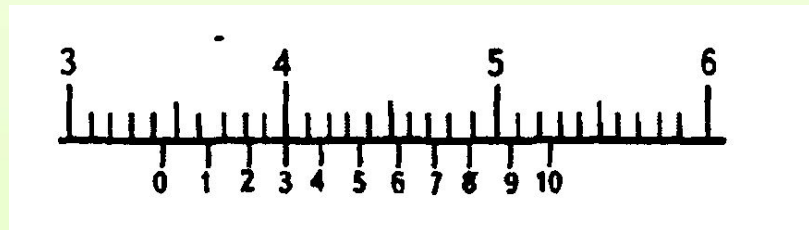
Результат измерения штангенциркулем составляет



а) 35,5 мм; б) 34,0 мм; в) 34,3 мм; г) 34,7 мм; д) 34,9 мм



30




В) 34,3 мм



40

Выберите из списка черные металлы и сплавы:

- а) чугун;
- б) медь;
- в) алюминий;
- г) сталь;
- д) кобальт



40


а) чугун;
г) сталь



50

Модель объекта сделана в масштабе 1:50.
Ее длина 200мм. Какова длина самого объекта?

- а) 50м;
- б) 20м;
- в) 10м



50


В) 10М



10

Инструменты, применяемые при разметке на древесине:

- а) линейка, столярный угольник, карандаш;**
- б) столярный угольник, чертилка, отвертка;**
- в) слесарный угольник, чертилка, карандаш?**



10


а) линейка, столярный угольник,
карандаш



20

Текстура древесины - это:

- а) рисунок поверхности древесины;**
- б) часть ствола дерева;**
- в) часть коры дерева?**




20

а) рисунок поверхности древесины



30

Твердой древесной породой является:
а) сосна; б) клен; в) осина; г) липа



30


б) клен



40

Мягкой лиственной породой является:

- а) клен;
- б) липа;
- в) береза;
- г) дуб



40


б) липа



50

Где располагается заболонь?

- а) между сердцевинной и ядром;
- б) между ядром и камбием;
- в) между камбием и лубом;
- г) между лубом и пробковым слоем.



50


б) между ядром и камбием



10

Как называется поперечный разрез древесины?

- а) пласть;
- б) кромка;
- в) торец;
- г) грань



10


в) торец



20

Как называется небольшой напильник с
мелкой насечкой:

- а) рашпиль;
- б) надфиль;
- в) лобзик;
- г) шерхебель?



20


б) надфиль



30

Как называется закаленный пруток металл,
заостренный с одного конца, служащий
для
разрубки цветного металла на небольшие
куски:

- а) напильник;
- б) тигли;
- в) зубило;
- г) гвоздь?



30


в) зубило;



40

С какой точностью можно измерить
размер штангенциркулем ШЦ- 1?

- а) до 1 мм;
- б) до 0,5 мм;
- в) до 0,2 мм;
- г) до 0,1 мм



40


г) до 0,1 мм



50

Какой из перечисленных ниже терминов не относится к термообработке металлов?

- а) отжиг;
- б) цвета побежалости;
- в) закалка;
- г) ванадий;
- д) отпуск



50

г) ванадий

