

Математика

Сьогодні
31.01.2023



Урок
№ 61




**Задачі на різницеве
порівняння. Обчислення
значень виразів.**

Сьогодні
31.01.2023

Підготовчі вправи. Гра «Веселі санчата»

 $0 + 1 =$ 

$9 - 1 =$ 

$7 + 2 =$ 

$10 - 6 =$ 

$9 + 1 =$ 

$8 - 6 =$ 



Сьогодні
31.01.2023


Підготовчі вправи. Гра «Веселі санчата»

 $10 + 0 =$ 

$9 - 7 =$ 

$7 + 3 =$ 

$10 - 5 =$ 

$2 + 1 =$ 

$8 - 4 =$ 



У засніженому дворі
бавилися **5** хлопчиків
і
4 дівчинки.
Скільки всього дітей
бавилися у дворі?



Чому саме її?

$$5 + 4 = 9$$

Яку дію ви
виконували?

9 дітей з'їжджали на санках із згірки. З'їхало **7** дітей. Скільком дітям ще залишилося з'їхати?



Чому саме її?

$$9 - 7 = 2$$

Яку дію ви виконували?

5 дітей каталися на
ковзанках, **4** дитини –
на санках.
На скільки більше
дітей каталося на
ковзанках?



Чому саме її?

$$5 - 4 = 1$$

Яку дію ви
виконували?

Сьогодні
31.01.2023


Мотивація навчальної діяльності



$$6 > 4$$

$$6 > 4 \text{ на } 2$$

У якій задачі потрібно порівняти два числа?
Це задачі на різницеве порівняння. З ними ми
ознайомимося сьогодні на уроці.



У Романа 6 іграшкових машинок і 3 трактори.



На скільки більше машинок, ніж тракторів, у Романа?

		6	-	3	=	3				

Відповідь: на 3 більше машинок.





- ➡ Туристи купили в сувенірній крамниці 5 оберегів і 8 магнітів.
- ➡ На скільки менше оберегів, ніж магнітів, придбали туристи?

Дужка зі стрілками позначає вимогу визначити, на скільки одне число більше/менше за інше.





	8	-	5	=	3		
--	---	---	---	---	---	--	--

Відповідь: на 3 менше оберегів.



Сьогодні
31.01.2023

Робота з підручником. Порівняння предметів



Яких фруктів менше? На скільки менше?


$$10 - 7 = 3$$

Сьогодні
31.01.2023

Робота у зошиті
(сторінка 2).



- Напиши за зразком.











6	6	6	6	6	6	6	6	6	6	6										
9	9	9	9	9	9	9	9	9	9	9										

Робота у зошиті

- Допоможи зайчикові зібрати врожай.
- Обведи ті качани капусти, на яких значення виразів більше за 4.



 $8 - 7$	 $2 + 3$	 $8 - 2$	 $9 - 7$
 $4 + 5$	 $4 - 3$	 $7 - 3$	 $2 + 8$

- Кожне число в таблиці зменш на 4.



10	5	8	4	7	9	6
6	1	4	0	3	5	2

- Під кожним літачком запиши по три вирази, значення яких записані на крилі.



$$4 + 3 = 7$$

$$6 + 1 = 7$$

$$9 - 2 = 7$$



$$8 + 1 = 9$$

$$7 + 2 = 9$$

$$4 + 5 = 9$$

Сьогодні
31.01.2023


Мотивація навчальної діяльності. Математично – мовленнєве завдання



Обчисліть значення виразів та дізнайтеся зашифроване слово.









<i>Математичний вираз</i>	<i>Слово</i>
$8 - 2 = 6$	М
$7 + 1 = 8$	О
$9 + 1 = 10$	Р
$8 - 0 = 8$	О
$9 - 2 = 7$	З



Шифр

0	1	2	3	4	5	6	7	8	9	10
І	С	Ч	Д	В	Ш	М	З	О	А	Р

Розшифровка та розгадування прикладів

-  1
-  2
-  3
-  4
-  6
-  8

 +  = 3

 +  = 9

 +  = 5

 +  = 10

 +  = 7

Надійка та Михайлик задумали число. Надійка збільшила своє число на 1, а Михайлик зменшив своє число на 1. Вони обоє отримали число 8. Яке число задумала Надійка, а яке — Михайлик?



$$8 - 1$$

7

9


$$8 + 1$$

збільшила на 1



8

отримали



зменшив на 1

