

Математика

Сьогодні
07.06.2023

Урок
№ 13

5

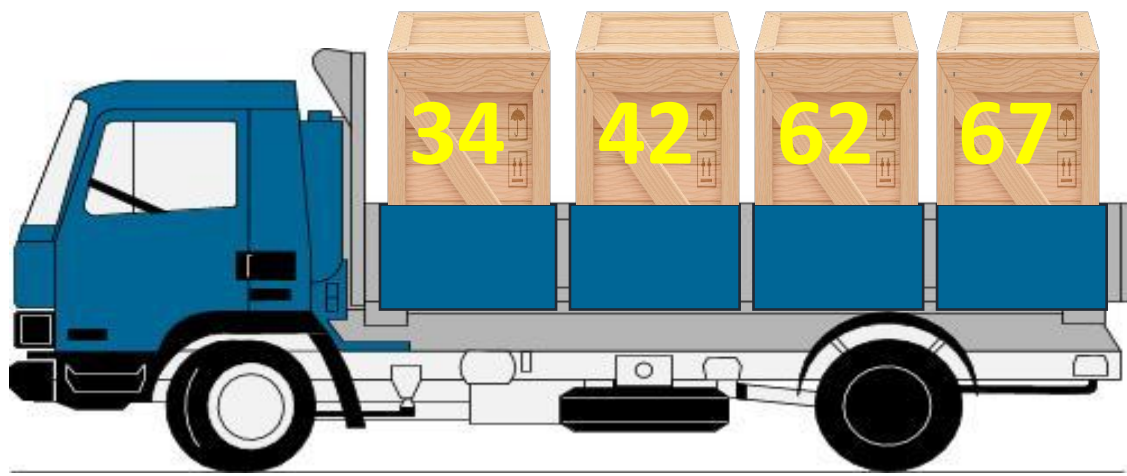
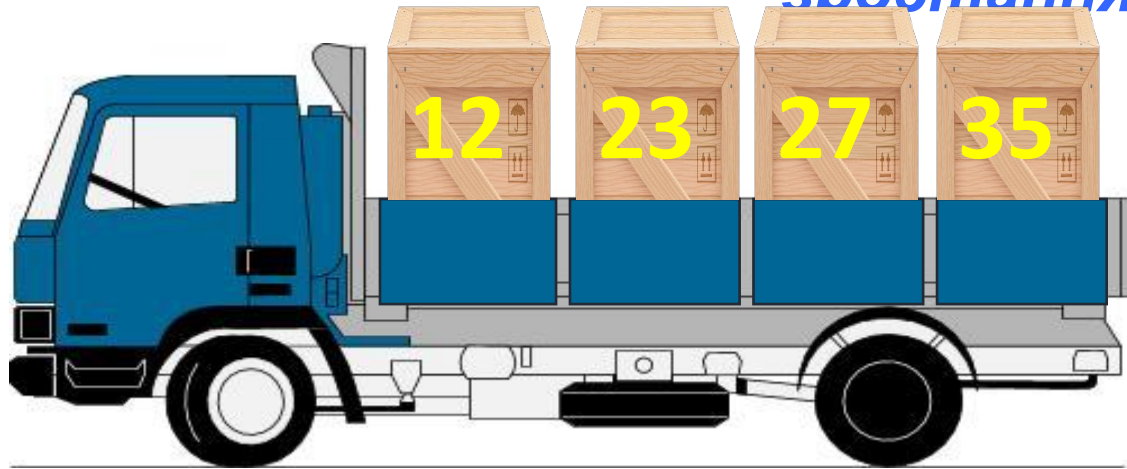


**Повторення вивченого.
Додаткові вправи.**

Сьогодні
07.06.2023

Підготовчі вправи. Гра «Погрузи вантаж»

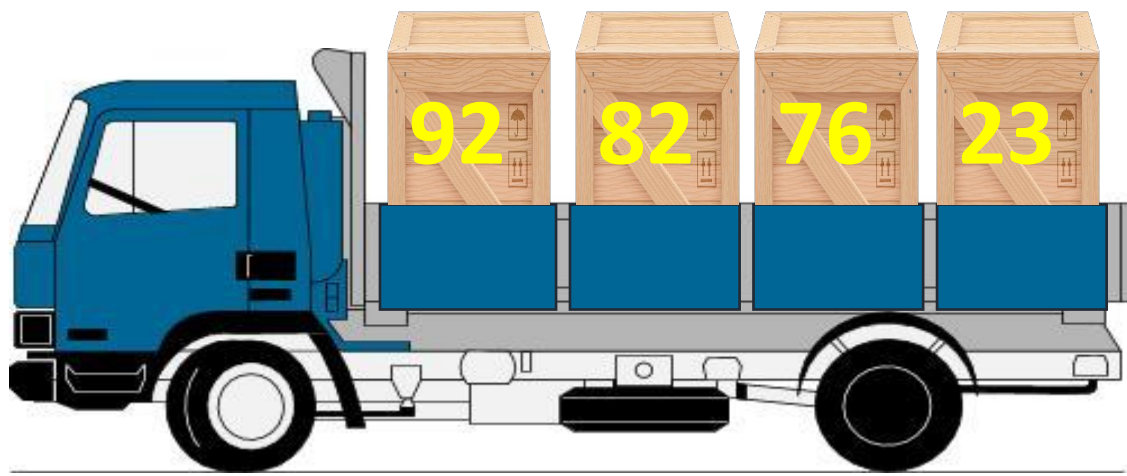
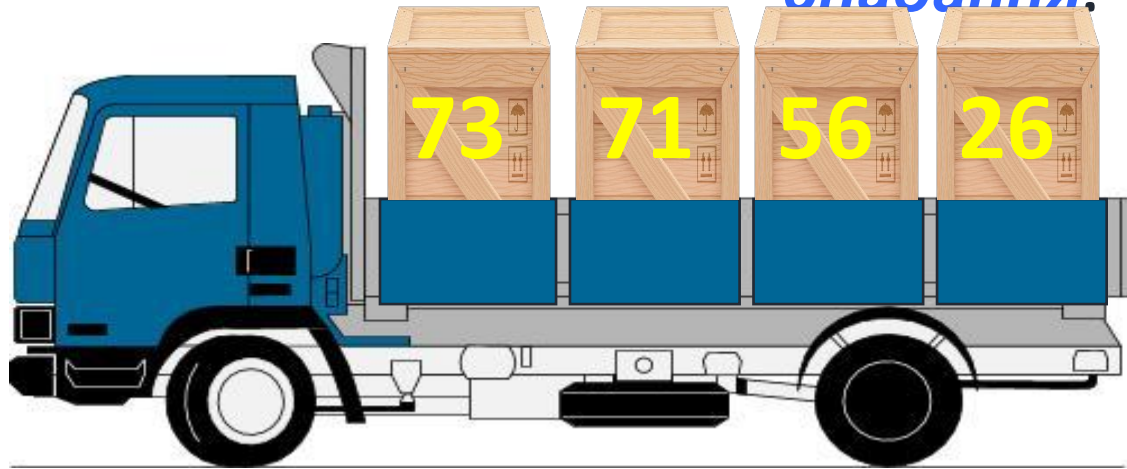
❖ Розташуйте товар у машинах в порядку зростання.



Сьогодні
07.06.2023

Підготовчі вправи. Гра «Погрузи вантаж»

❖ Розташуйте товар у машинах в порядку
спадання.







Бокс, хокей, бобслеї,
футбол,
Сноуборд і волейбол ...
Стадіон, басейни, корт –
Об'єднало слово


Спорт



Сьогодні
07.06.2023

Підготовчі вправи. Гра «Математичний футбол»






$44 + 44$
88



$15 + 5$
20



$80 + 2$
82



$91 - 90$
1



$90 - 80$
10



$90 + 10$
100

Сьогодні
07.06.2023

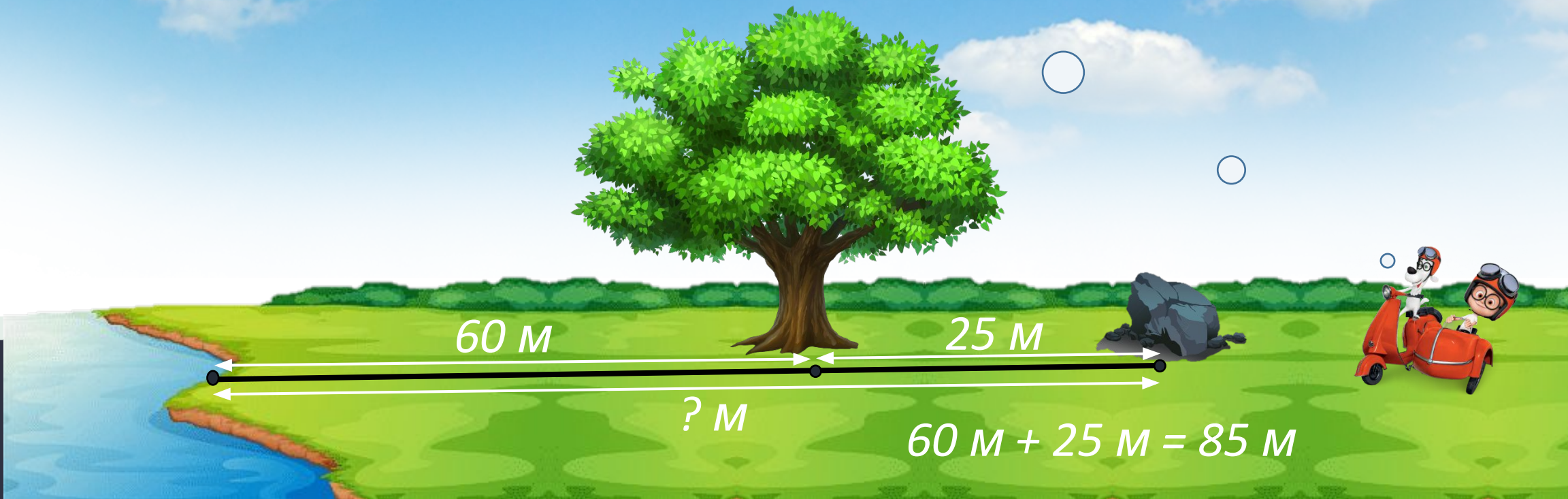
Мотивація навчальної діяльності. Робота з нумераційною таблицею

Прочитайте числа,
у складі яких є 8
одиниць.

Назвіть числа, що
на десяток менші
та більші
поданого: 20, 50, 80.


1	2	3	4	5	6	7	8	9	10
11	12	13	14	15	16	17	18	19	20
21	22	23	24	25	26	27	28	29	30
31	32	33	34	35	36	37	38	39	40
41	42	43	44	45	46	47	48	49	50
51	52	53	54	55	56	57	58	59	60
61	62	63	64	65	66	67	68	69	70
71	72	73	74	75	76	77	78	79	80
81	82	83	84	85	86	87	88	89	90
91	92	93	94	95	96	97	98	99	100

Відстань від берега озера до великого дуба дорівнює 60 м. Відстань від дуба до великого каменя — ще 25 м. На якій відстані від берега озера розташований великий камінь?



Сьогодні
07.06.2023

Робота з підручником. Робота з геометричними фігурами



Скільки ламаних ліній на малюнку?



Сьогодні
07.06.2023

Робота з підручником. Обчислення виразів

Обчисли.



$$12 + 3 - 5 = 10$$

$$42 + 3 + 1 = 46$$

$$18 - 8 - 1 = 9$$

Сьогодні
07.06.2023

Робота з підручником. Обчислення виразів

Обчисли.




$$64 - 4 + 5 = 65$$

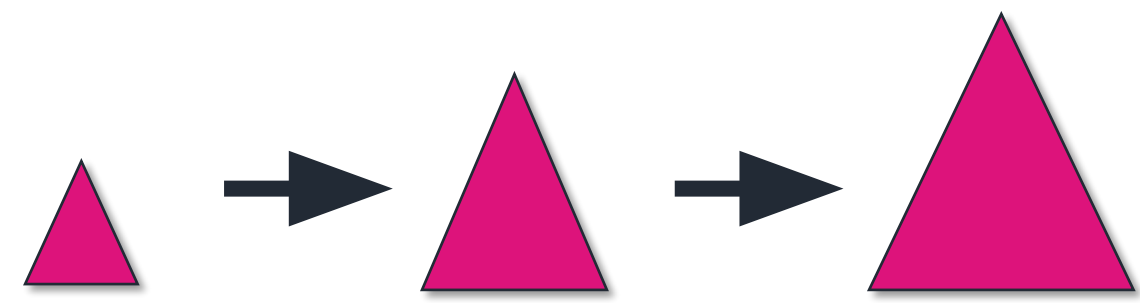
$$99 + 1 - 30 = 70$$

$$50 + 20 - 1 = 69$$

Як
змінюються
фігури?



за кольором



за розміром

Сьогодні
07.06.2023

**Робота у зошиті
(сторінка 57).**



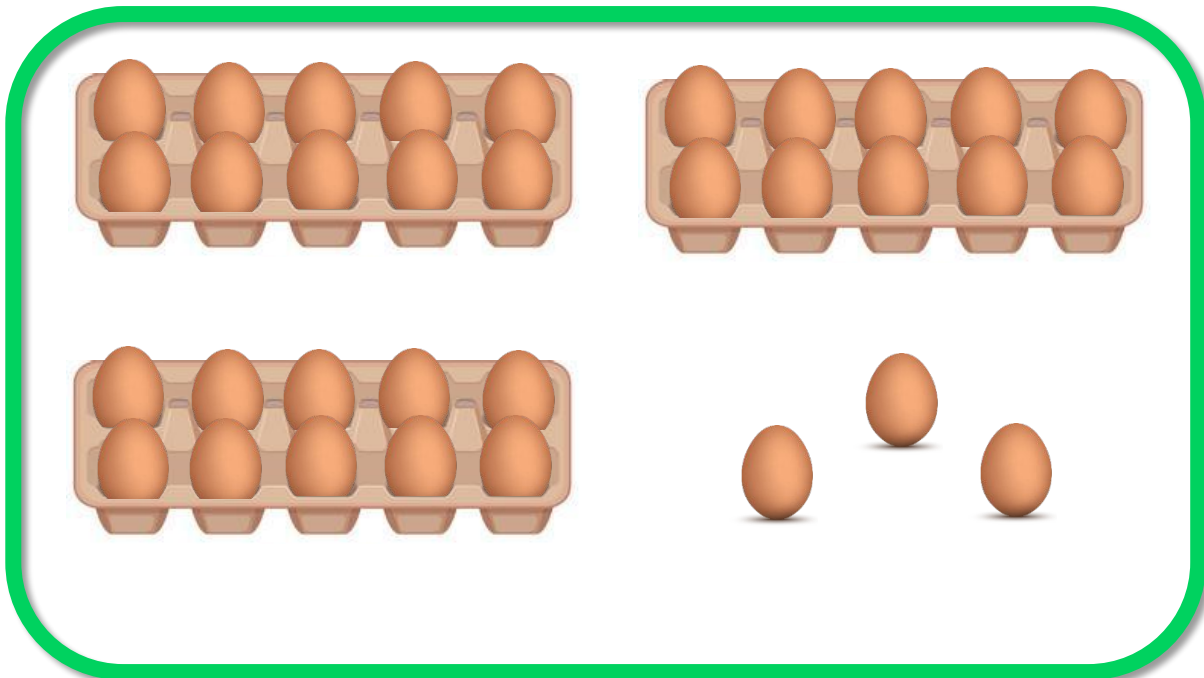
Серед чисел, 2, 3, 4, 5, 9 закресліть два числа так, щоб сума чисел, що залишились, дорівнювала 10.




$$2 + 3 + 5 = 10$$

Лічба та порівняння кількості предметів

- ❖ Скільки предметів на кожному малюнку?
- ❖ Порівняй ці числа.



33

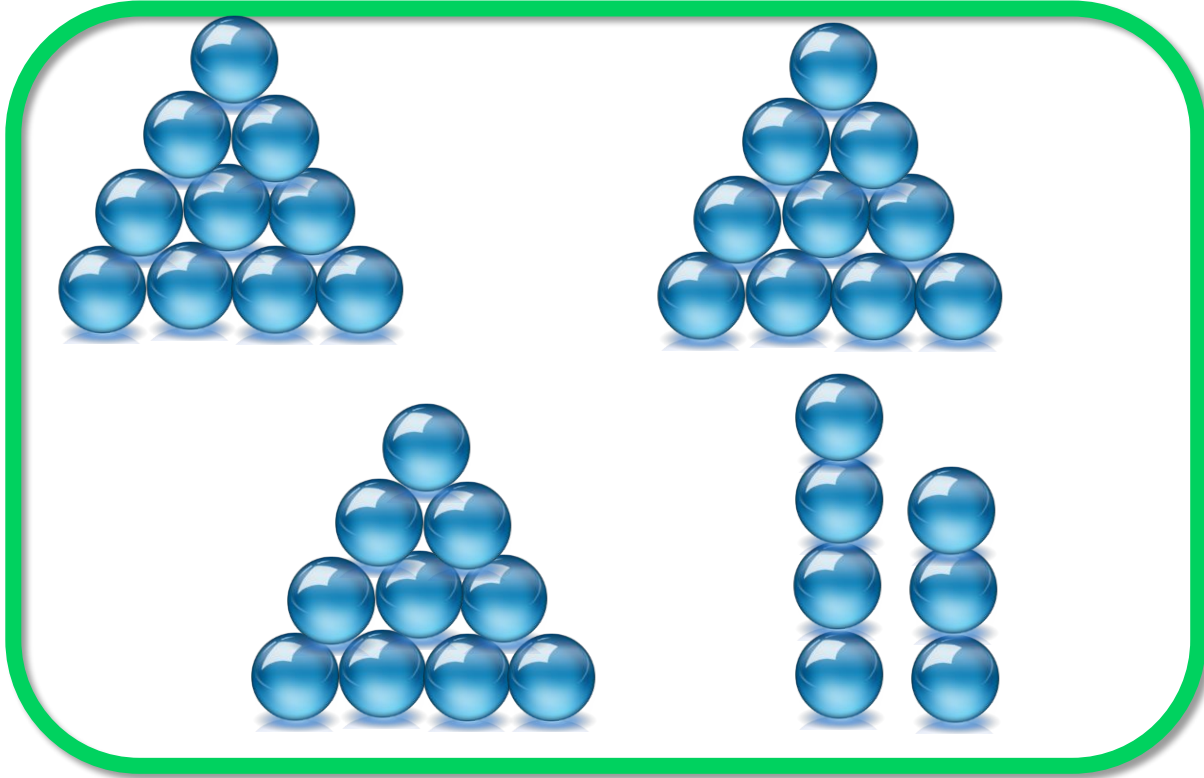


42

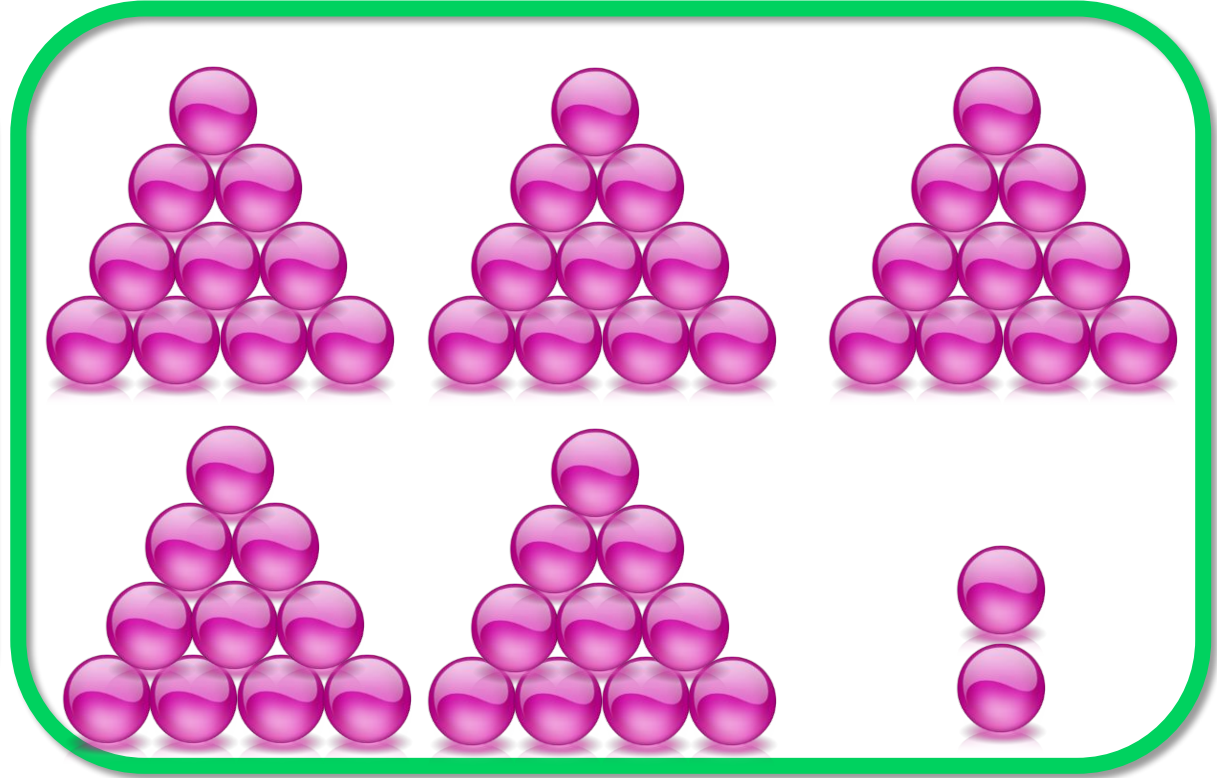
<

Лічба та порівняння кількості предметів

- ◆ Скільки предметів на кожному малюнку?
- ◆ Порівняй ці числа.



37



52

<

	9	>	2 на	7	
	5	<	9 на	4	
	3	<	7 на	4	
	5	<	10 на	5	
	1	<	8 на	7	
	4	<	6 на	2	



Сьогодні
07.06.2023

(щоби відкрити інтерактивне завдання, натисніть на помаранчевий прямокутник)

**Відкрити онлайнове
інтерактивне завдання**