

Математика

Сьогодні
08.12.2022

Урок
№49



Повторення вивченого

Всі сідайте тихо, діти,
Домовляймося не
шуміти,

На уроці не дрімати,
А старанно працювати.



**На галяві край доріжки
Полетіли влучні сніжки,
І почався білий бій,
Закрутився у сувій.
Закрутився, покотився,**




**Під горою зупинився.
Зверху сніг
І знизу сніг,
І ніхто впізнати не міг,
Де чії стирчали ніжки.
Ой, весела гра у сніжки!**



Сьогодні
08.12.2022

Гра «Хто швидше зліпить сніжки»




Сьогодні
08.12.2022

Гра «Хто швидше зліпить сніжки»





Змерзли **двоє** поросят,
Зіщулились і тремтять.

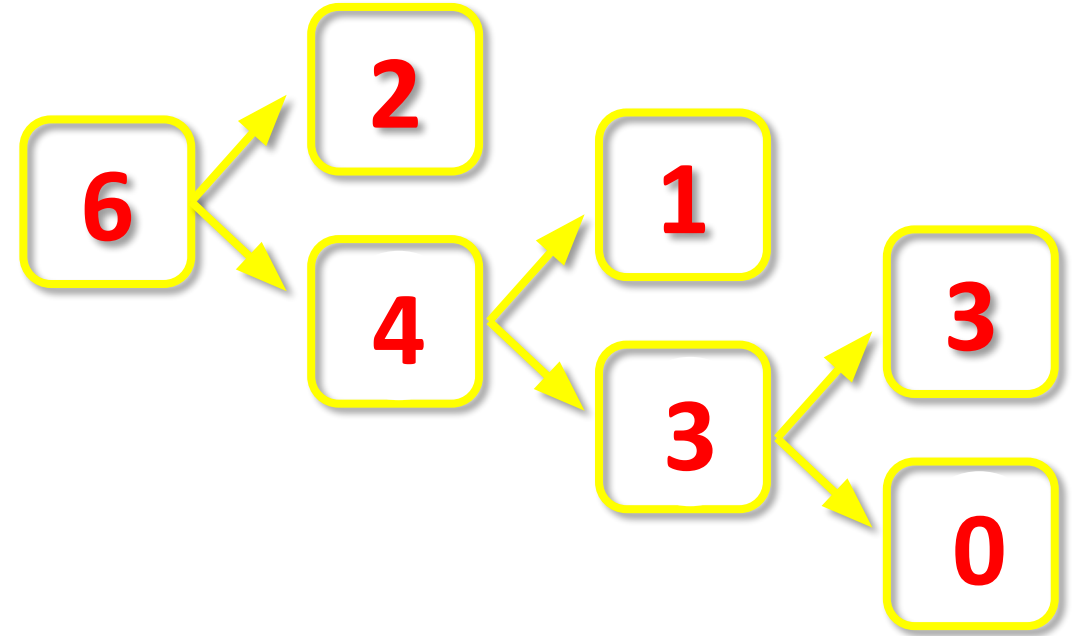
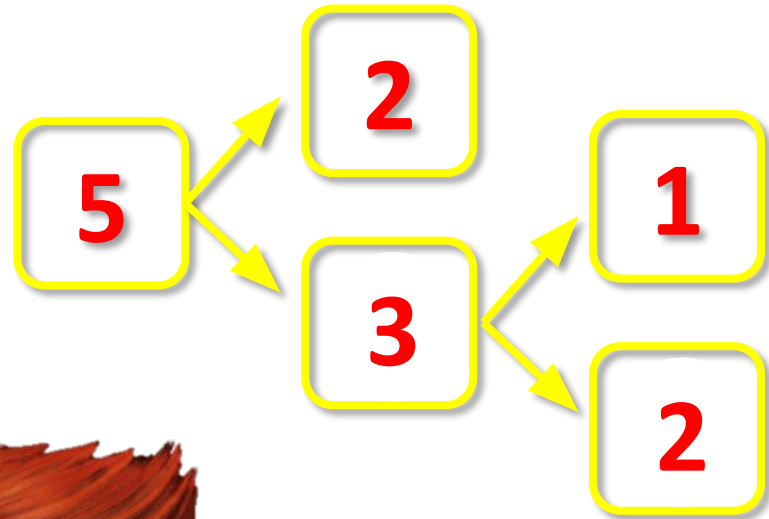
Щоб їх відігріти,
Скільки валянок
купити?



$$2 + 2 + 2 + 2 = 8$$



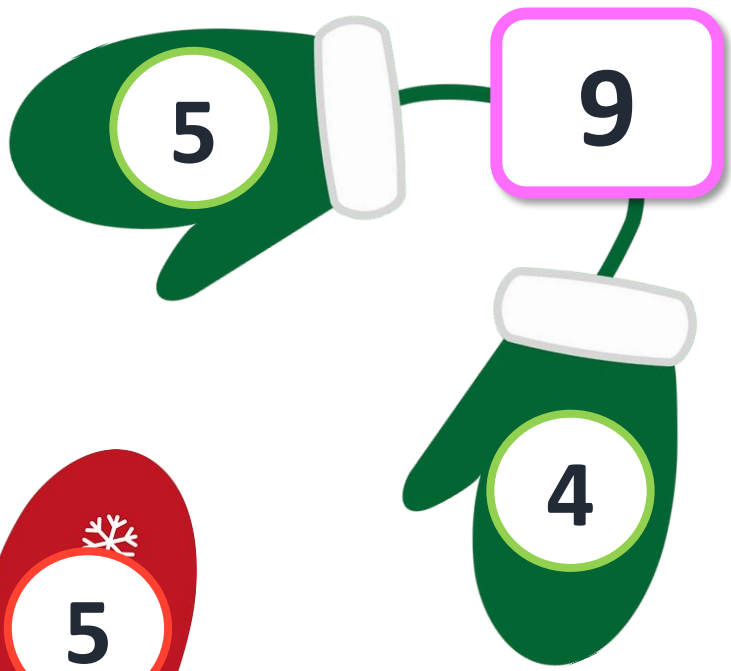
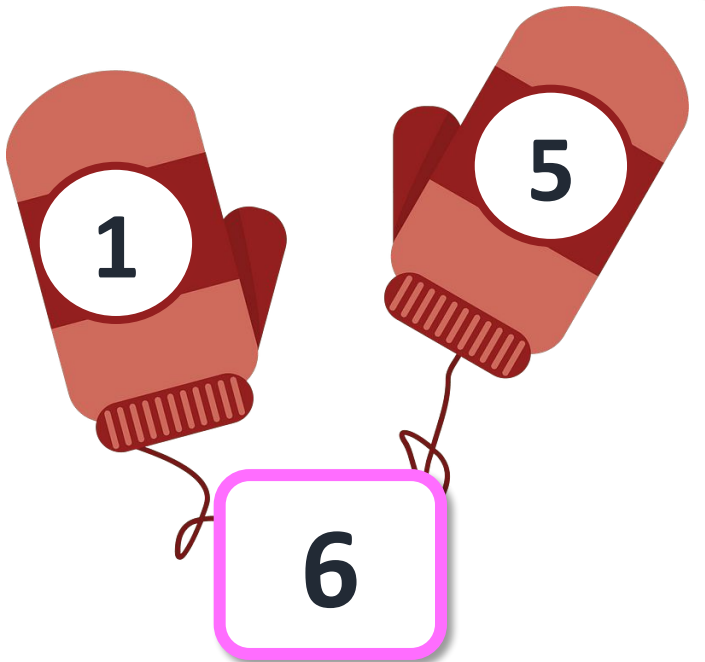





Яких чисел не вистачає в ланцюжках?

Сьогодн
08.12.2022

Склад чисел 6, 7, 8, 9





У змаганнях брали участь 5 лижників і 4 ковзанярі.



Скільки всього спортсменів брало участь у змаганнях?

		5	+	4	=	9			

Відповідь: 9 спортсменів.







- ➔ Снігову фортецю будувало 6 дітей, а в сніжки гралося 4 хлопчики.
- ➔ Скільки всього дітей були зайняті зимовими розвагами?



		6	+	4	=	1	0			

Відповідь: 10 дітей.



Розшифровка та розгадування прикладів



-  1
-  2
-  3
-  4
-  5


 +  = 7

 +  = 6

 +  = 6

 +  = 5

 +  = 6




РУХЛИВА


ВПРАВА




14. Перевір, чи стільки само курей, як курчат.



Намалюй яєць більше, ніж курей. Намалюй черв'яків менше, ніж курчат.



15. Обведи машину, яка заїде на паркінг третьою.



16. Розглянь порядок руху велогонщиків. Зафарбуй футболки у відповідні кольори.



Сьогодні
08.12.2022

(щоби відкрити інтерактивне завдання, натисніть на помаранчевий прямокутник)

**Відкрити онлайнове
інтерактивне завдання**