

Математика

Сьогодні
29.01.2023

Урок
№ 60




Різницеве порівняння чисел. Задачі.

Сьогодні
29.01.2023

Організація класу

**Дзвоник всім нам
дав наказ –
До роботи
швидше, клас!
Попрацюємо
старанно,**



**Щоб сказати у
кінці.
Що у нашій
дружній класі
Діти – просто
молодці!**



СЬОГОДН
29.01.2023

Лічба від 1 до 10 в порядку зростання та в порядку спадання



Сьогодні
29.01.2023

Повторення вивченого матеріалу. Усне розв'язування задач.




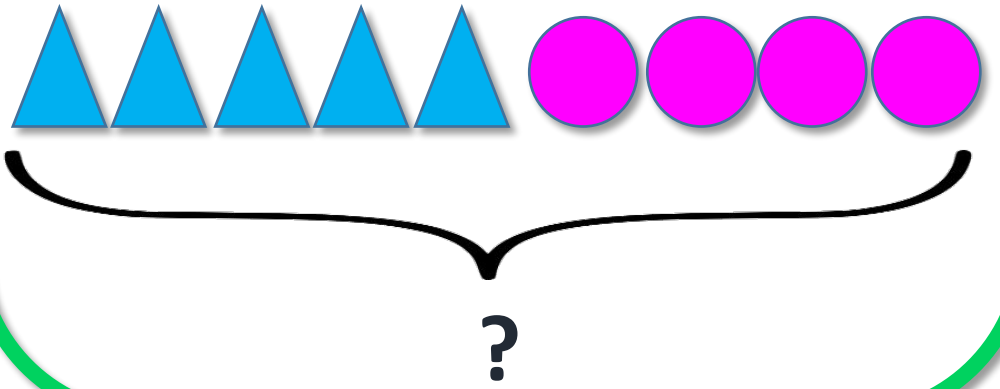
Біля годівнички Петрик побачив 2 снігурі та 6 синичок.



Скільки всього птахів побачив Петрик біля годівнички?

$$2 + 6 = 8$$

Відповідь: 8 птахів.



На ковзанах на катку
каталося



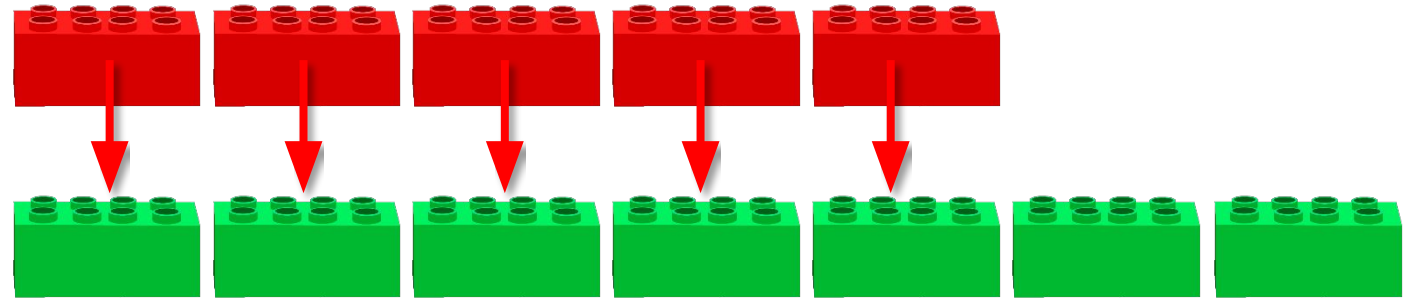

5 хлопчиків та 4 дівчаток.
Скільки всього дітей
каталося на ковзанах?

$$5 + 4 = 9$$

Відповідь: 9 дітей.

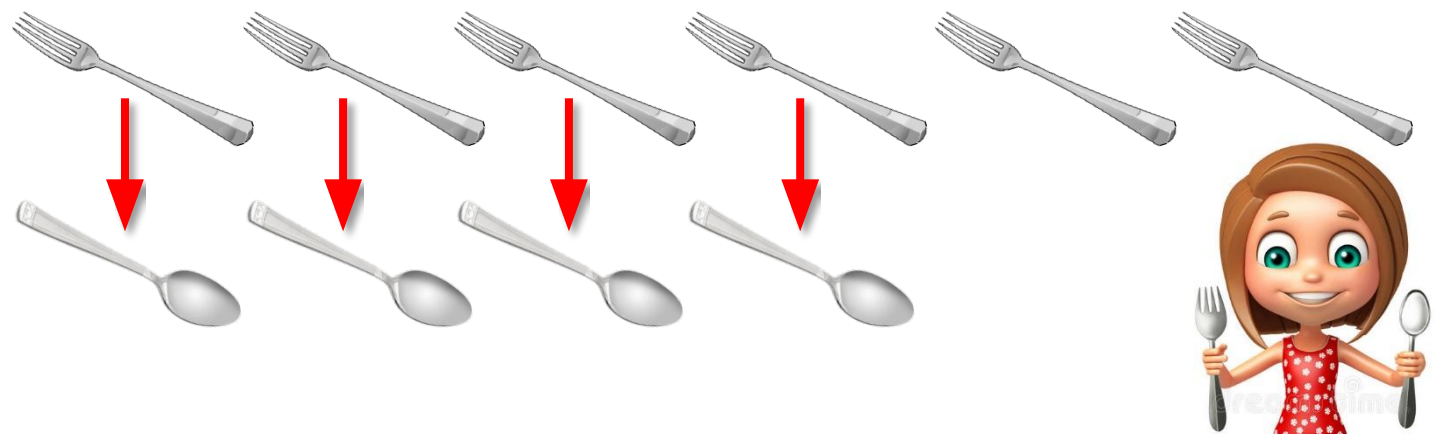







$$7 - 5 = 2$$

Викладемо 5 цеглинок червоного кольору і 7 цеглинок зеленого кольору. Складіть пари. Чого більше? Чи можете ви визначити «на скільки...»? Чому ви так вирішили? Доведіть свою думку.



$$6 - 4 = 2$$



Без пари залишилося 2 виделки. Це означає, що виделок — на 2 більше, ніж ложок, а ложок — на 2 менше, ніж виделок.



Щоб дізнатися, на скільки
одне число **більше** або
менше, ніж інше, треба від
більшого числа відняти
менше.



$$9 > 4$$

$$9 > 7$$

$$9 - 4 = 5$$

$$9 - 7 = 2$$

На скільки число 9 більше, ніж число 4; ніж число 7?

Сьогодні
29.01.2023

Робота з підручником. Порівняння чисел



$$5 < 8$$

$$5 < 10$$

$$8 - 5 = 3$$

$$10 - 5 = 5$$

На скільки число 5 менше, ніж
число 8; ніж число 10?

Зразок: $9 > 3, 9 - 3 = 6$

$$3 < 8$$

$$9 < 10$$

$$8 - 3 = 5$$

$$10 - 9 = 1$$



Визнач, яке число в кожній парі чисел більше. На скільки більше?




$$10 > 1$$

$$5 > 0$$

$$10 - 1 = 9$$

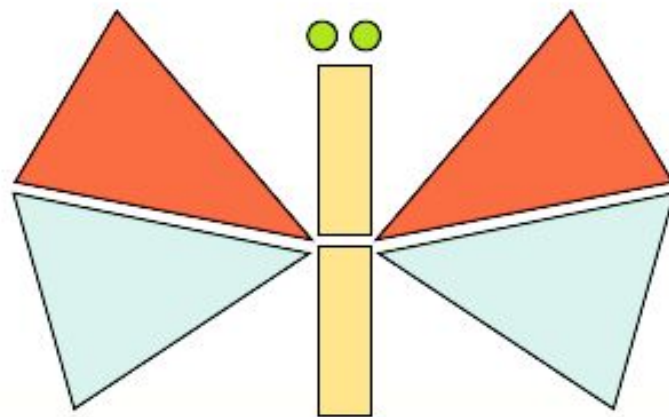
$$5 - 0 = 5$$

Визнач, яке число в кожній парі чисел більше. На скільки більше?



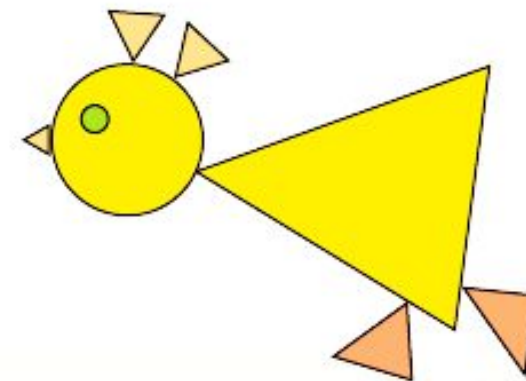
$$\triangle - 1$$

$$\bigcirc - 7$$



$$\triangle - 4$$

$$\bigcirc - 2$$



$$\triangle - 6$$

$$\bigcirc - 2$$

З яких фігур створені малюнки? Полічи трикутники та круги на кожному малюнку.



Сьогодні
29.01.2023

Настанова вчителя. Сиди правильно




Сьогодні
29.01.2023

**Робота у зошиті
(сторінка 1).**



- Кого більше: дітей чи дорослих? На скільки осіб більше?



Дітей: осіб.

Дорослих: осіб.

	6	-	4	=	2	
--	---	---	---	---	---	--

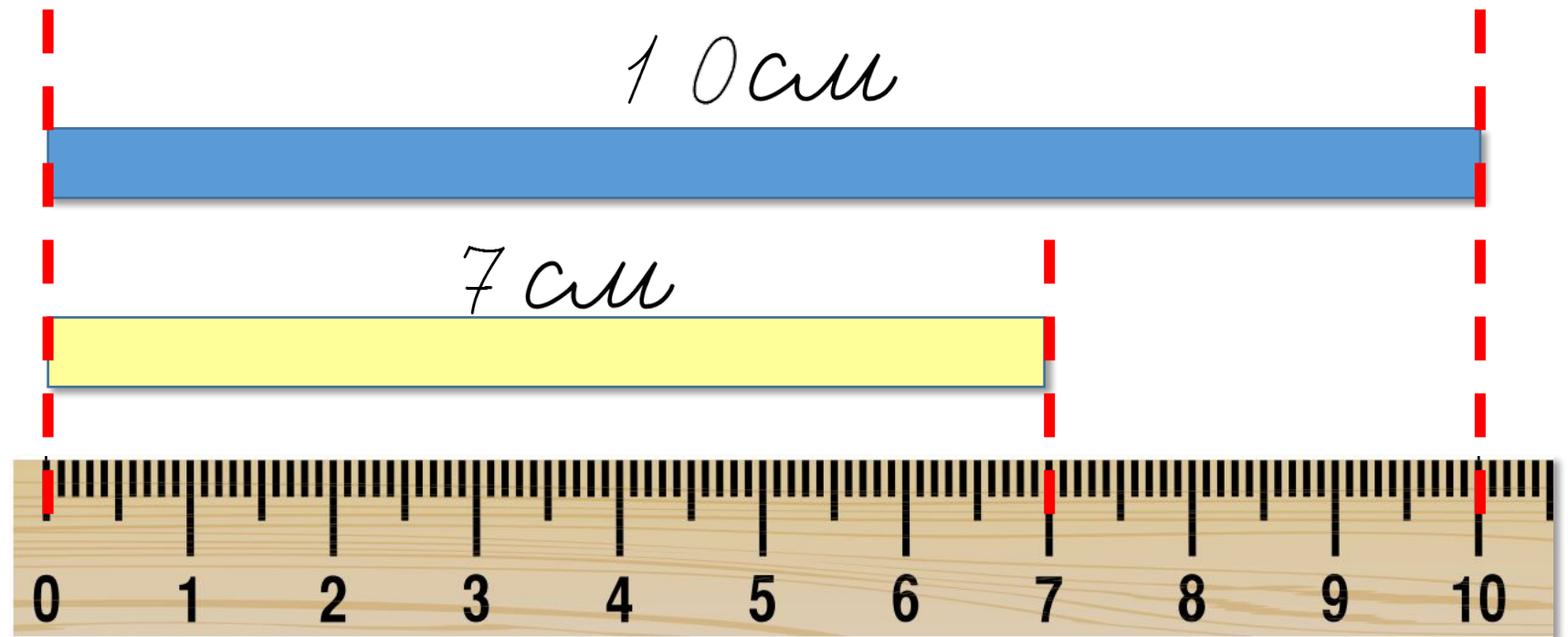
Відповідь: на

особи

Сьогодні
29.01.2023

Робота у зошиті

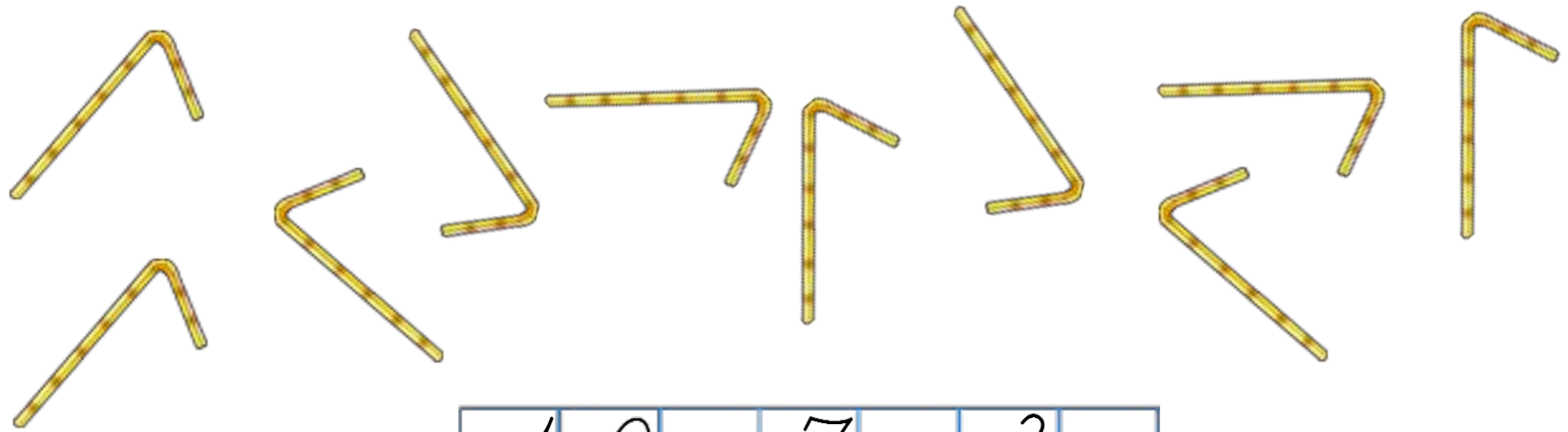
- Яка смужка довша? На скільки сантиметрів довша?



$$10 - 7 = 3$$

Відповідь: на 3 см.

• Чого більше склянок чи трубочок? На скільки більше?



1	0	-	7	=	3	
---	---	---	---	---	---	--

Сьогодні
29.01.2023

(щоби відкрити інтерактивне завдання, натисніть на помаранчевий прямокутник)

**Відкрити онлайнове
інтерактивне завдання**

Петрусь наловив риби менше, ніж Микола, а Микола менше, ніж Сергій. У кого риболовля була найбільш вдалою?



Петрус

<



Микола

<



Сергій