

Сьогодні
15.03.2023

Урок
№ 89



Числа 21 – 40.

Круглі числа. Утворення чисел.

Задача на збільшення числа на


кілька одиниць. Розпізнавання

фігур

Сьогодні
15.03.2023


Організація класу

Дзвоник всім нам
дав наказ –
До роботи
швидше, клас!
Попрацюємо
старанно,




Щоб сказати у
кінці.
Що у нашій
дружній класі
Діти – просто
молодці!


Лічба десятками в порядку зростання




→ 10




→ 20




→ 30




→ 40




→ 50




→ 60




→ 70



→ 80




→ 90



→ 100

Сьогодні
15.03.2023

Підготовчі вправи. Гра «Математичний футбол»



Сьогодні
15.03.2023

Підготовчі вправи. Гра «Математичний футбол»





**Схожий він на букву О,
Та не значить нічого.
Та будь-яку цифру враз
Збільшить аж у десять
раз.**

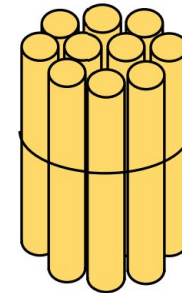


Нуль






10



Як ви вважаєте, що позначає в числі 10 цифра 0? Цифра 0 показує, що всі одиниці об'єднано в десяток і окремих одиниць немає!



- Числа, які закінчуються на нуль, називаються **круглими**.
- 10, 20, 30, 40, 50, 60, 70, 80, 90, 100 — **круглі числа**.



Поясни, як дістали число 30; число 40.



Десятки	Одиниці
1	7
2	7
3	7



Прочитай числа, записані в таблиці.
Що позначає кожна цифра в записах
цих чисел?

Назви пропущені
числа.




1	2	3	4	5	6	7	8	9	10
11	12	13	14	15	16	17	18	19	20
21	22	23	24	25	26	27	28	29	30
31	32	33	34	35	36	37	38	39	40



6

?, на 4 >



На малій сковорідці
вміщується 6 котлет, а на
великій — на 4 котлети



Більше котлет
уміщується на великій
сковорідці?



		6	+	4	=	1	0			

Відповідь: 10 котлет.

Сьогодні
15.03.2023

Робота з підручником. Обчислення виразів

Обчисли.



$$16 - 6 + 1 = 11$$

$$8 + 2 + 6 = 16$$

$$6 - 5 + 10 = 11$$

$$10 - 0 + 10 = 20$$

Сьогодні
15.03.2023

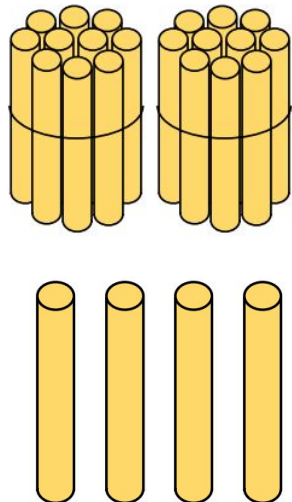
Робота у зошиті
(сторінка 21).



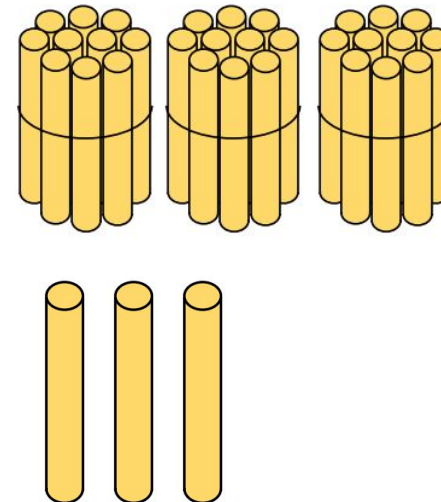
- Домалюй на кожному малюнку стільки паличок, щоб їх стало:



*двадцять
чотири*



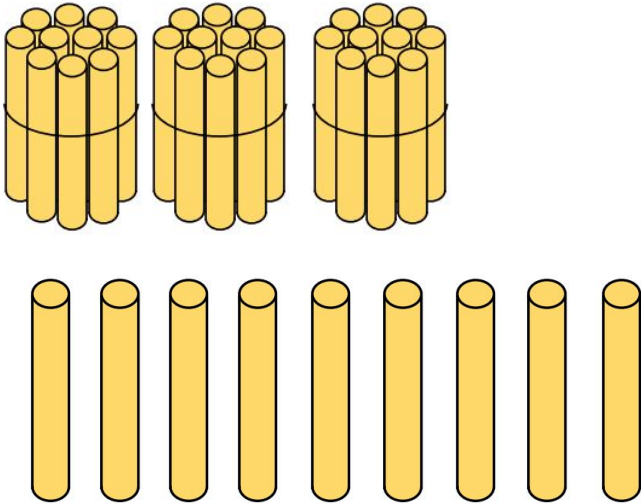
тридцять три



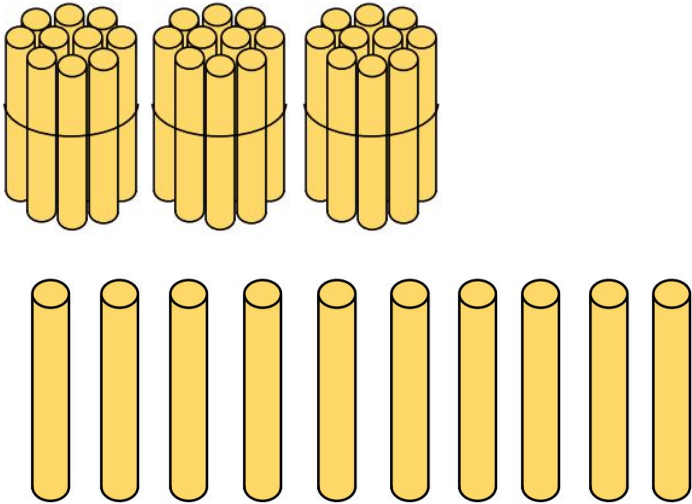
- Домалюй на кожному малюнку стільки паличок, щоб їх стало:



тридцять дев'ять



сорок



- Запиши в таблицю числа, які складаються з:



2 д. і 8

9 д. і 2

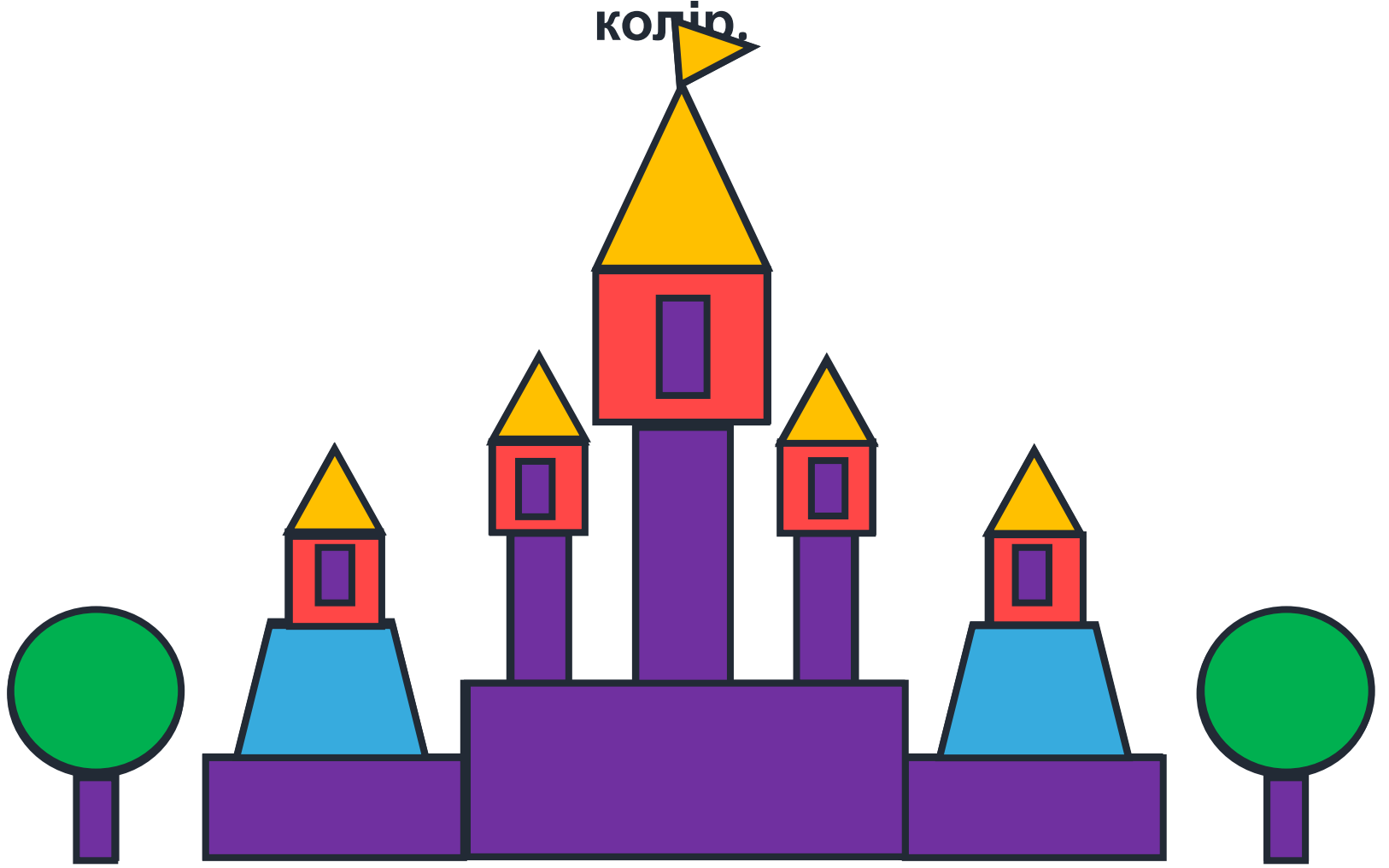
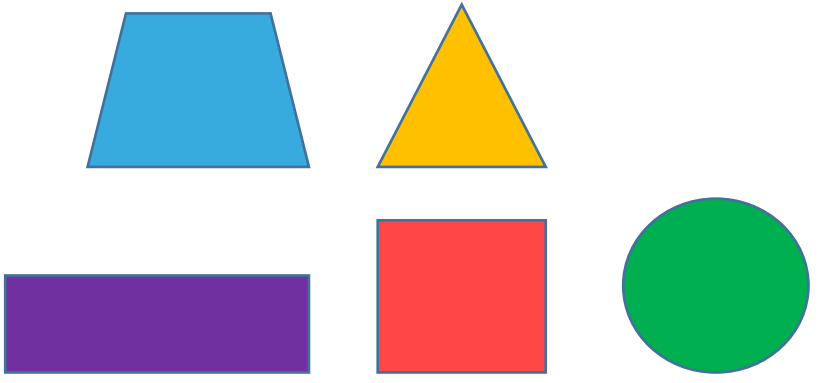
2 д. і 0

3 д. і 3

Прочитай ці
числа.

Десятк и	Одиниці
2	8
3	2
2	0
3	3

- Розфарбуй кожну фігуру на малюнку у відповідний колір.



Сьогодні
15.03.2023

Закріплення вивченого матеріалу. Гра «Вантажник»



Сьогодні
15.03.2023

(щоби відкрити інтерактивне завдання, натисніть на помаранчевий прямокутник)

**Відкрити онлайнове
інтерактивне завдання**

Які зернятка
мудрості ви
покладете у свій
рюкзачок?



**Було
просто!**



**Було
цікаво!**



**Нічого не
зрозумів!**