

Сьогодні  
21.11.2022

Урок  
№36

*Всім.pptx*  
Нова українська школа

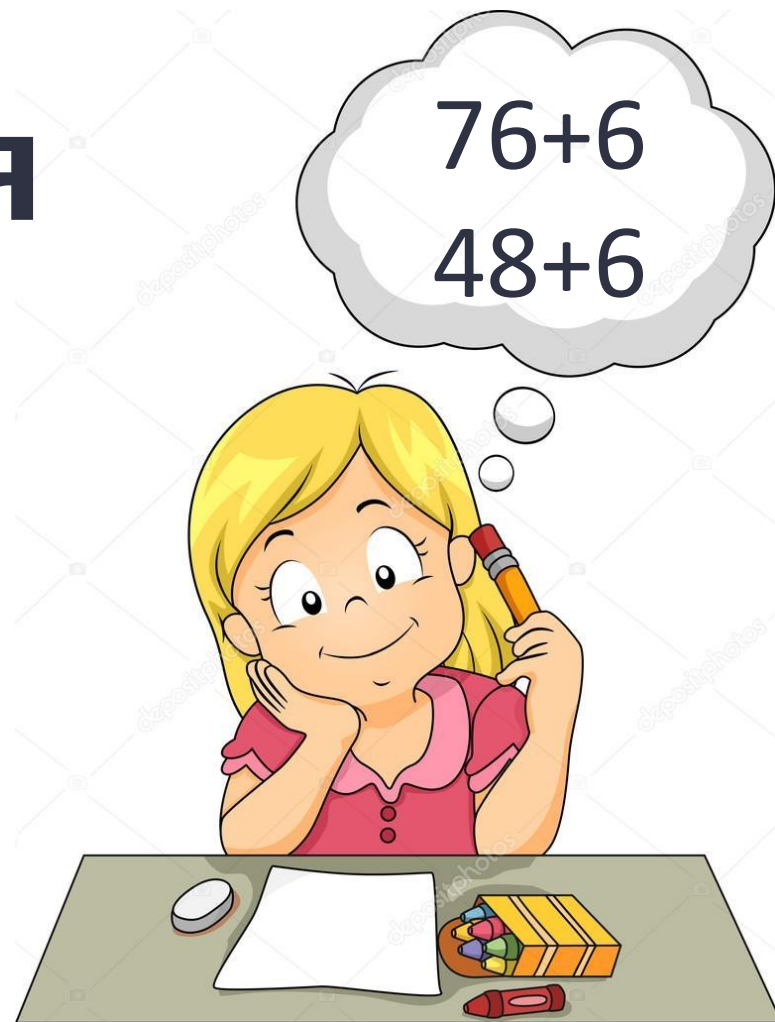
# Додавання

## ВИДУ

$$76 + 6,$$

$$48 + 6,$$

$$17 + 23$$





**Пролунав шкільний  
дзвінок,  
Починаємо урок.  
Вчити математику  
прийшла пора  
Сідайте тихо, дітвора.**

Заповни таблицю




$a$	4	8	9	3	8
$b$	7	5	6	8	8
$a + b$	11	13	15	11	16

Зошит.  
завдання

1


Зошит.  
Сторінк  
а

24





$a$	9	7	6	8	6
$b$	9	8	8	4	5
$a + b$	18	15	14	12	11



21 листопада  
Класна робота



1 2 1 2 1 2 1 2 1 2 1 2 1 2

Сьогодні  
21.11.2022

**Робота із  
підручником  
«Математика»  
Г.Лищенко,  
с. 45 - 46**



$$76 + 4 = 80$$



$$6 + 4 = 10$$

$$70 + 10 = 80$$



$$48 + 6 = 54$$




$$8 + 6 = 14$$

$$40 + 14 = 54$$





$$17 + 23 = 40$$



$$7 + 3 =$$

$$10$$

$$10 + 20 =$$

$$30$$

$$10 + 30 =$$

$$40$$



Які рівності хибні? Обчисли та запиши правильно

$$65 + 8 = 73$$

$$36 + 9 = 44$$

$$56 + 4 = 60$$

$$47 + 5 = 97$$

$$87 + 4 = 92$$

$$58 + 4 = 89$$

$$71 + 9 = 80$$

$$26 + 6 = 32$$

91

62



45

52

На будівництві трубопроводу екскаватор прокопав 96 м траншеї, а трубоукладацьник уклав 42 м труб. На скільки метрів більше залишилося укласти труб, ніж уклали?



## Задача 5

$$1) 96 - 42 = 54 \text{ (м)} - \text{залишилося;}$$

$$2) 96 - 54 = 42 \text{ (м)}$$

*Відповідь:* на 42 м більше залишилося  
ніж уклали. укласти труб,

Біля новобудови першого дня проклали 48 м водопроводу, а другого – 45 м, а третього – на 46 м менше, ніж першого і другого дня разом. Скільки метрів водопроводу проклали третього

# Задача 4

Першого  $\neq 8$  м

Другого - 45 м

Третнього - ?, на 46 м менше



## Задача 4

1)  $48 + 45 = 93$  (м) - першого і другого дня;



2)  $93 - 46 = 47$  (м)

Відповідь: 47 м водопроводу проклали третього дня.



Сьогодні  
21.11.2022

Побудуй прямокутник, ширина якого 2 см і який можна поділити на два квадрати



Вирази 6

$$56 + 42 = 98$$

$$77 - 40 = 37$$

$$54 - 6 = 48$$

$$86 - 52 = 34$$



Сьогодні  
21.11.2022

Домашні тренувальні вправи.



**Опрацювати  
задачу 8  
завдання 7,  
на сторінці 46**

СЬОГОДН  
21.11.2022

Рефлексія. Оберіть відповідну цеглинку лего.

A green LEGO brick with eight studs on top. The text is written in white cursive font on the front face.

*На уроці мені  
дуже сподобалось.*

A yellow LEGO brick with eight studs on top. The text is written in white cursive font on the front face.

*На уроці мені  
сподобалось.*

A red LEGO brick with eight studs on top. The text is written in white cursive font on the front face.

*На уроці мені  
не сподобалось.*

Сьогодні  
21.11.2022

Рефлексія. Створимо пірамідку нашого настрою.

