

СЬОГОДН  
07.11.2022

Урок  
№27




# Сантиметр. Вимірювання довжини відрізків.



Чи готові ваші  
очі бачити?

Чи готові ваші  
вуха слухати?



Чи готові ваші  
руки писати у  
зошиті?

Чи готові ваші  
ніжки відпочити  
трішки?



**Нуль за ниточку тримаю  
Це ж бо – кулька, кожен  
знає.  
Якщо нитку відпустить,  
Кулька в небо полетить.**



Сьогодні  
07.11.2022

## Гра «Яка кулька полетить у небо?»

Полетять у небо кульки  
тільки з відповіддю 0.  
Знайдіть їх.



$7 + 1$

$7 - 7$

$8 - 8$

$4 + 2$

$5 - 5$

$4 + 4$

$8 + 2$

$2 - 2$

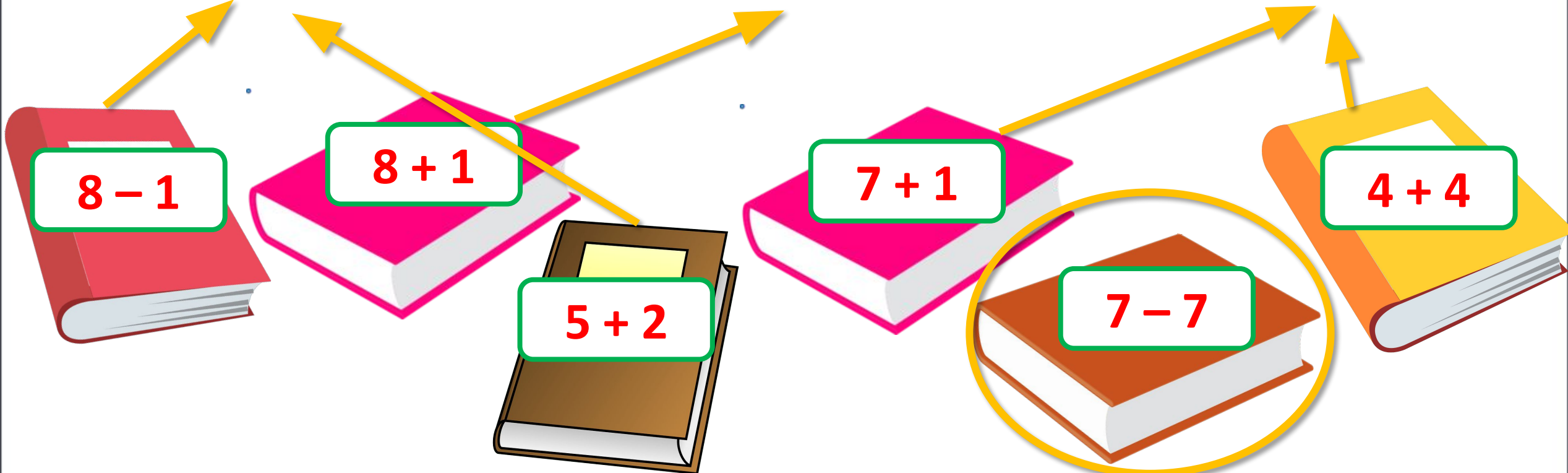


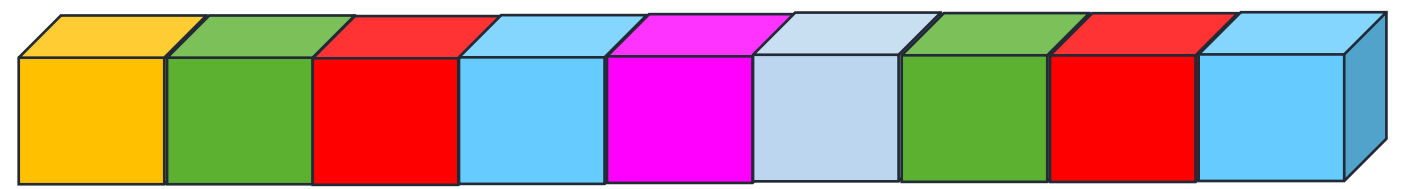


На полиці **десять** книг,  
Я узяв **одну** із них.  
Хто б із вас сказати міг  
Скільки залишилось  
книг?

# Гра «Бібліотека»

- ❖ Розклади книжки по полицях.
- ❖ Яка книга зайва? Чому?





Якщо виміряти довжину опівця, якщо міряти скріпками?

Для того щоб люди, вимірюючи, отримували однакові відповіді, було придумано єдину для всіх людей мірку. Хто знає, що це за мірка?

(Тому що різні мірки).



- Сьогодні на уроці ми вивчимо одиницю вимірювання – *сантиметр*.
- Будемо вчитися вимірювати відрізки сантиметрами.

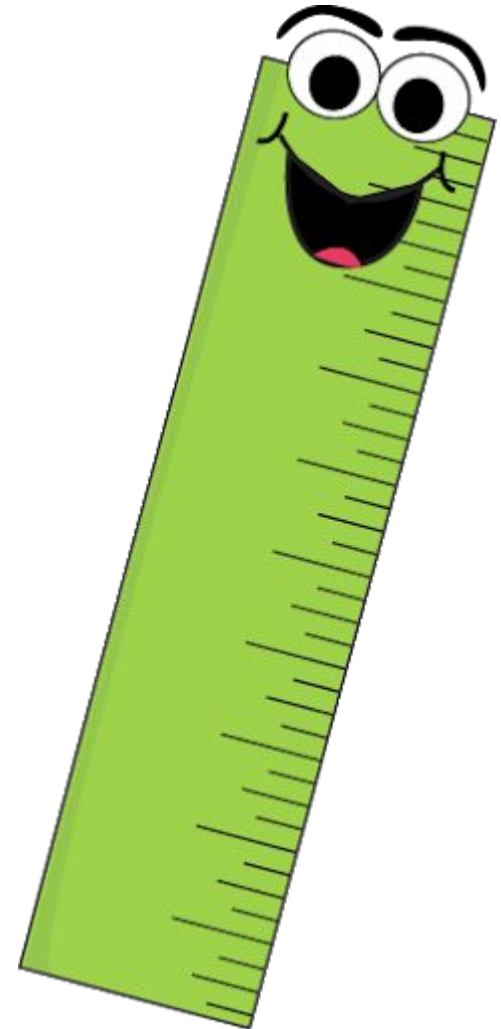


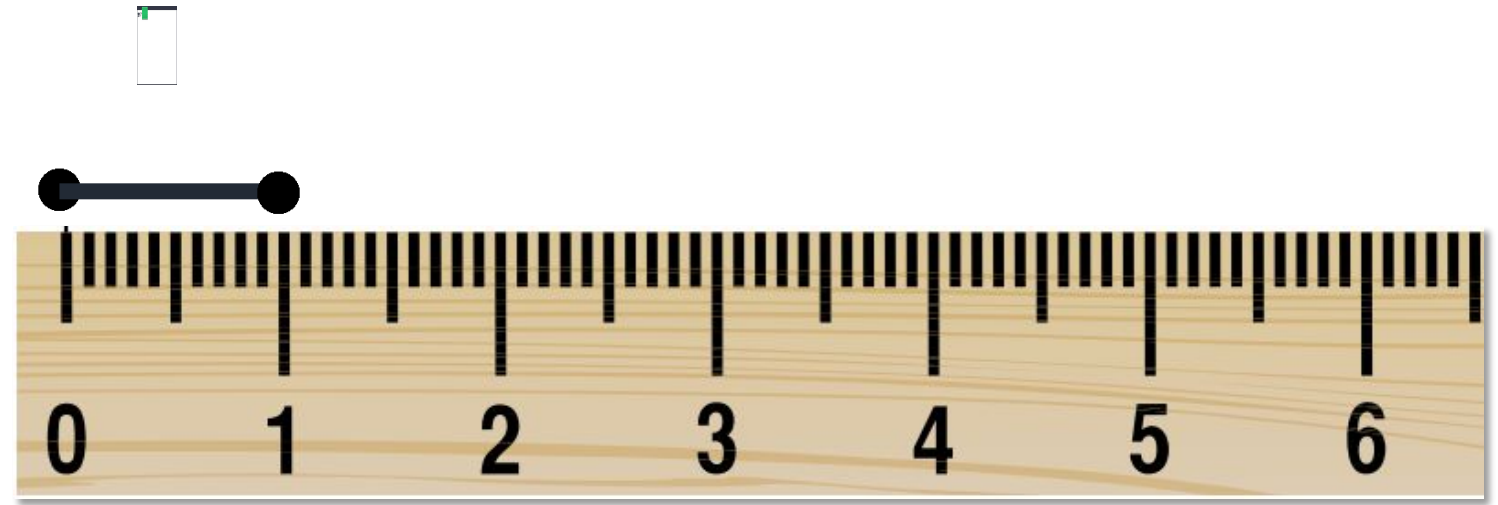




Рівно риску проведи  
І квадратик спробуй,  
Та у руки ти візьми  
Цю струнку особу.  
Натиск витримає  
стійко  
Впевнена, струнка...

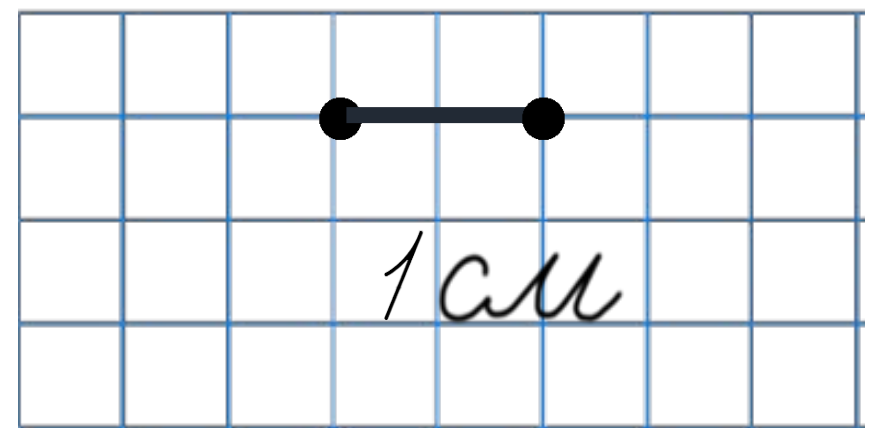
Лінійка





Для визначення довжини використовують мірку:  
**1 сантиметр.**

Коротко записують:



Сьогодні  
07.11.2022

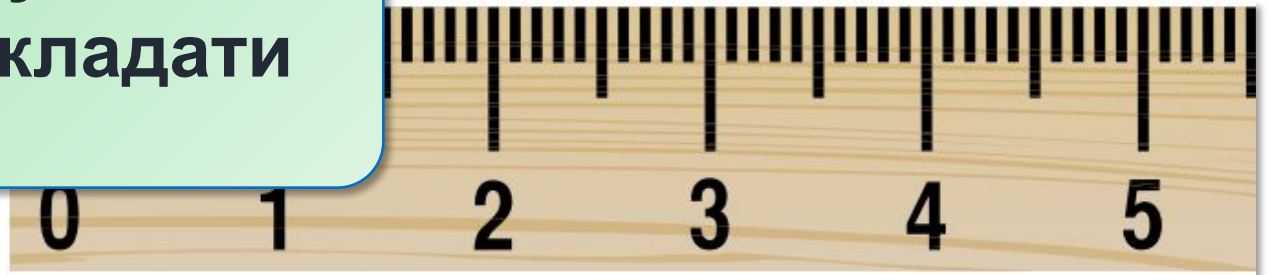
Робота з підручником. Вимірювання довжини відрізка.



❖ Яка довжина відрізка?



Зверни увагу, як правильно прикладати лінійку.

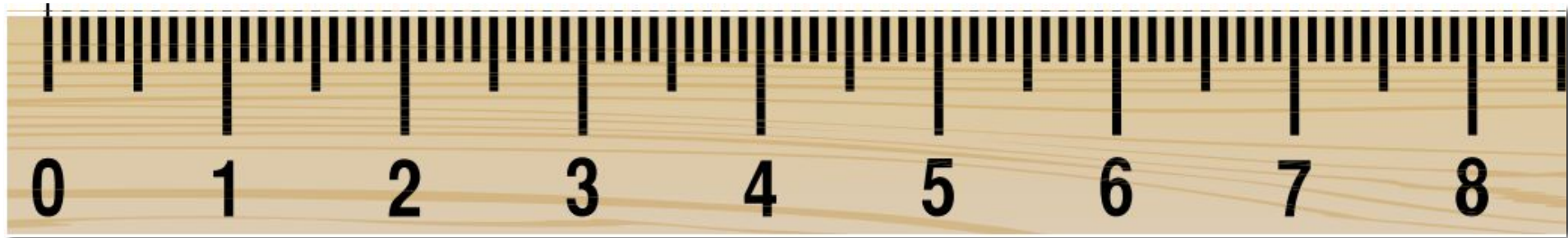


Сьогодні  
07.11.2022

Робота з підручником. Вимірювання довжини відрізка.



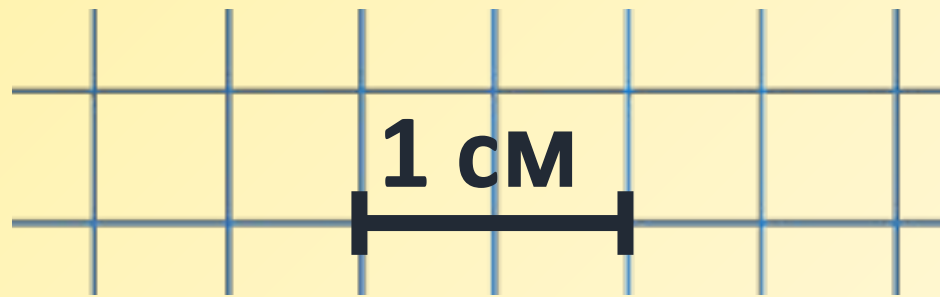
Виміряй довжину кожного відрізка.







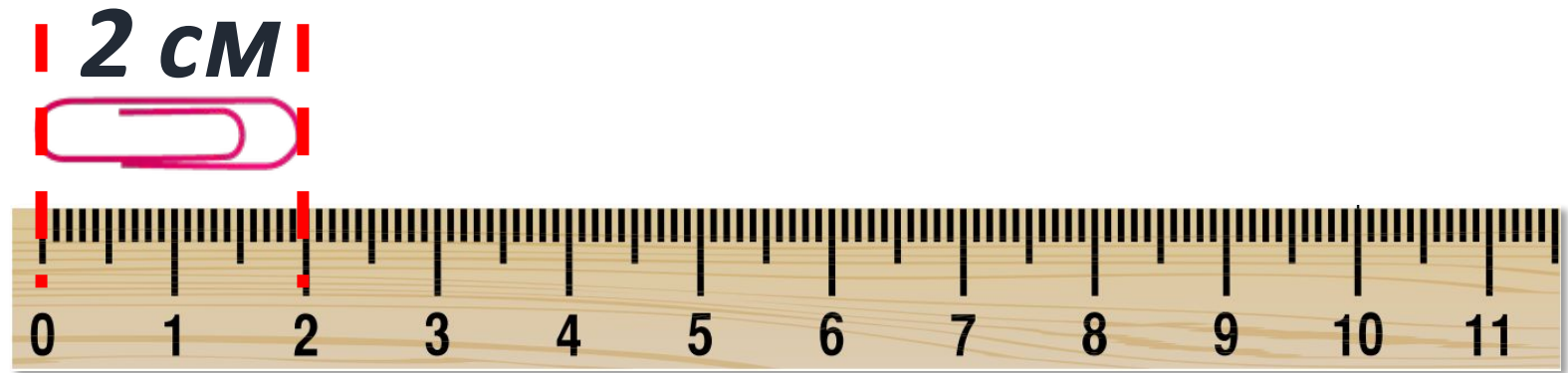

Довжину, ширину, висоту предметів можна вимірювати **сантиметрами.**

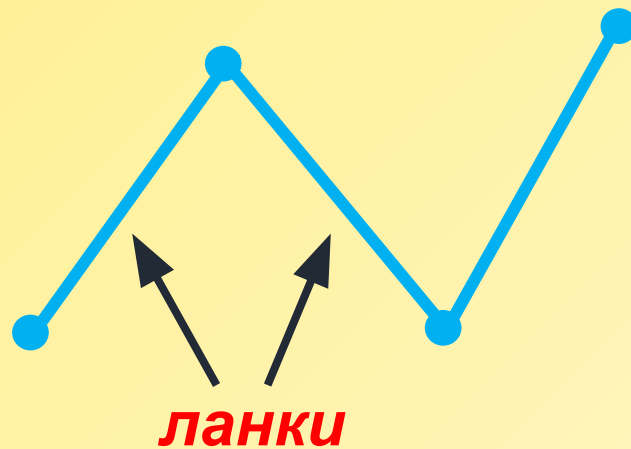


Сьогодні  
07.11.2022

Робота з підручником. Вимірювання довжини предметів

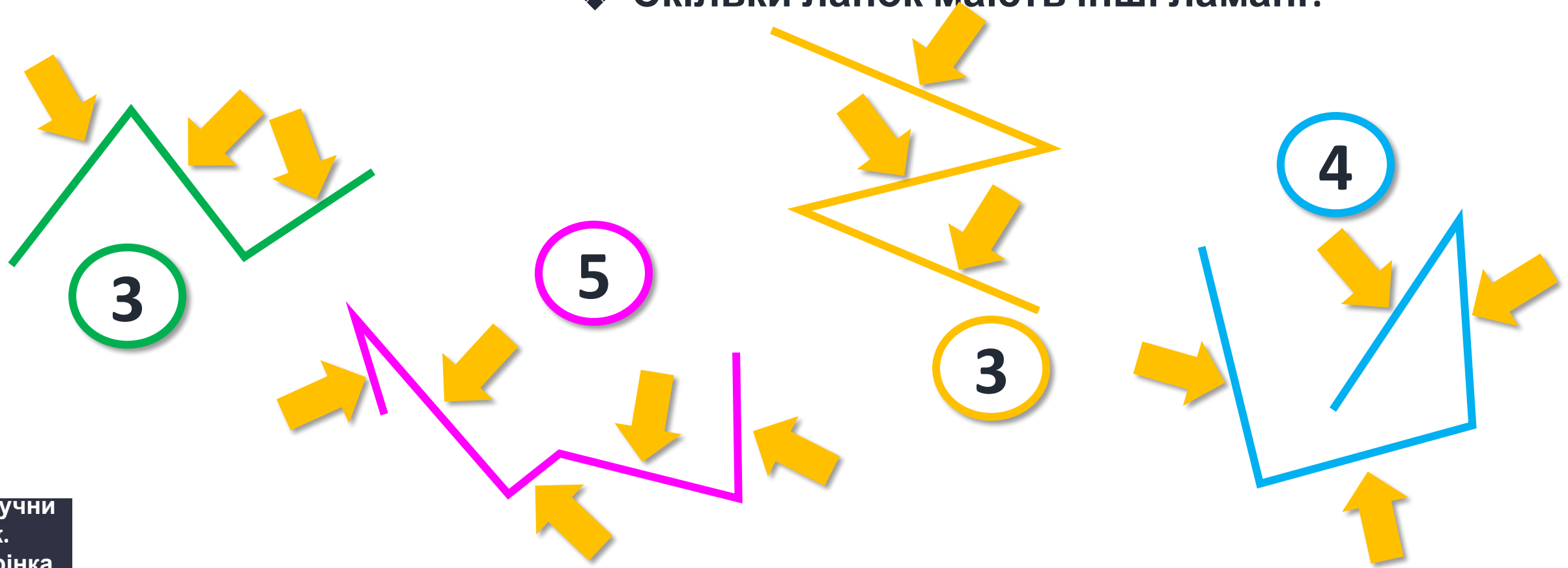
Яка довжина маркера?  
Яка довжина скріпки?





***Ламана*** складається з  
відрізків.  
Відрізки ламаної  
називаються ***ланками***.

- ❖ Ламана зеленого кольору має 3 ланки.
- ❖ Скільки ланок мають інші ламани?







# РУХЛИВА

# ВПРАВА



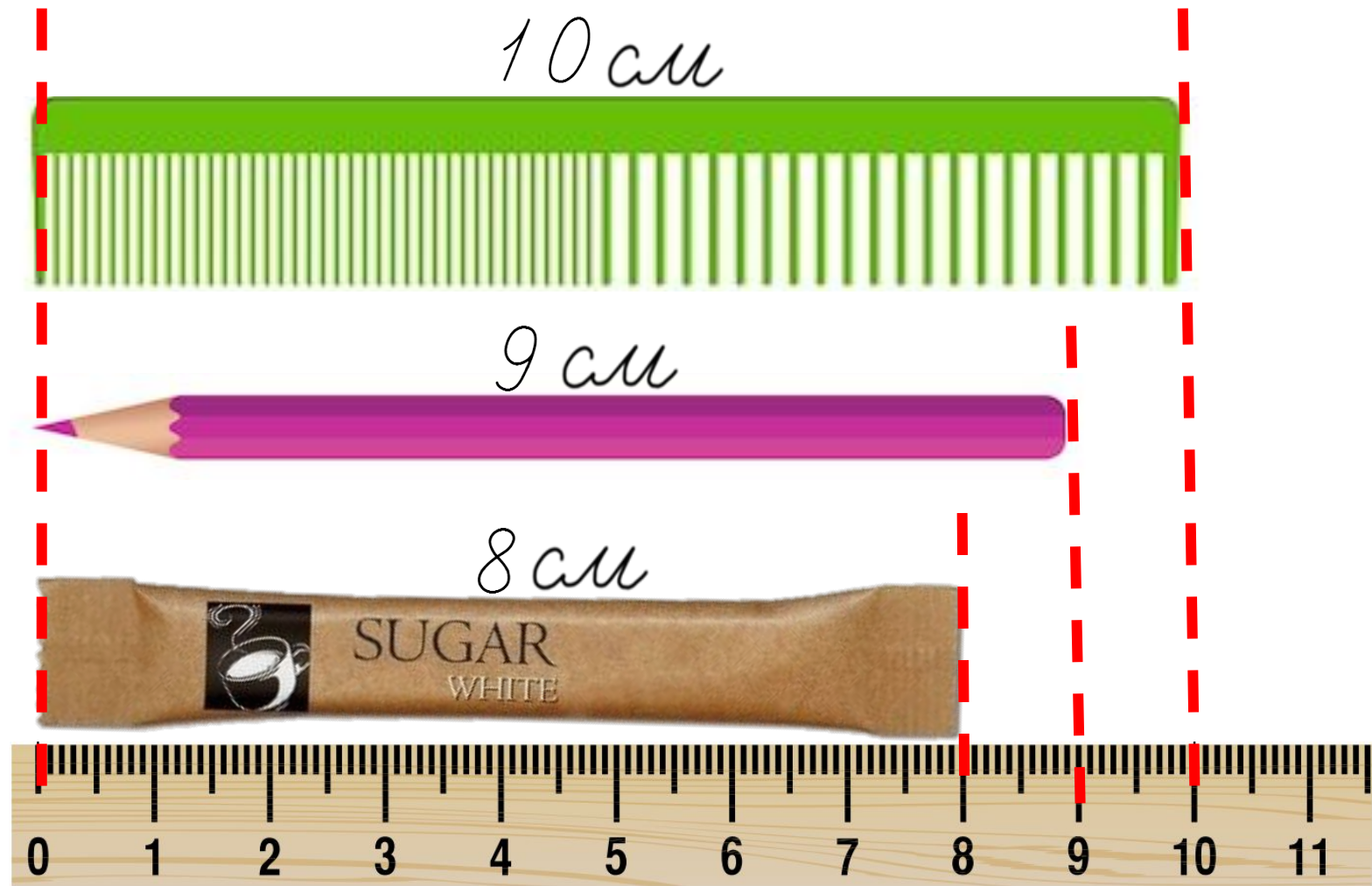
Сьогодні  
07.11.2022

**Робота у зошиті  
(сторінка 30).**




## Робота у зошиті

- Виміряй довжину кожного предмета.
- Запиши результат вимірювання.



- Напиши за зразком.



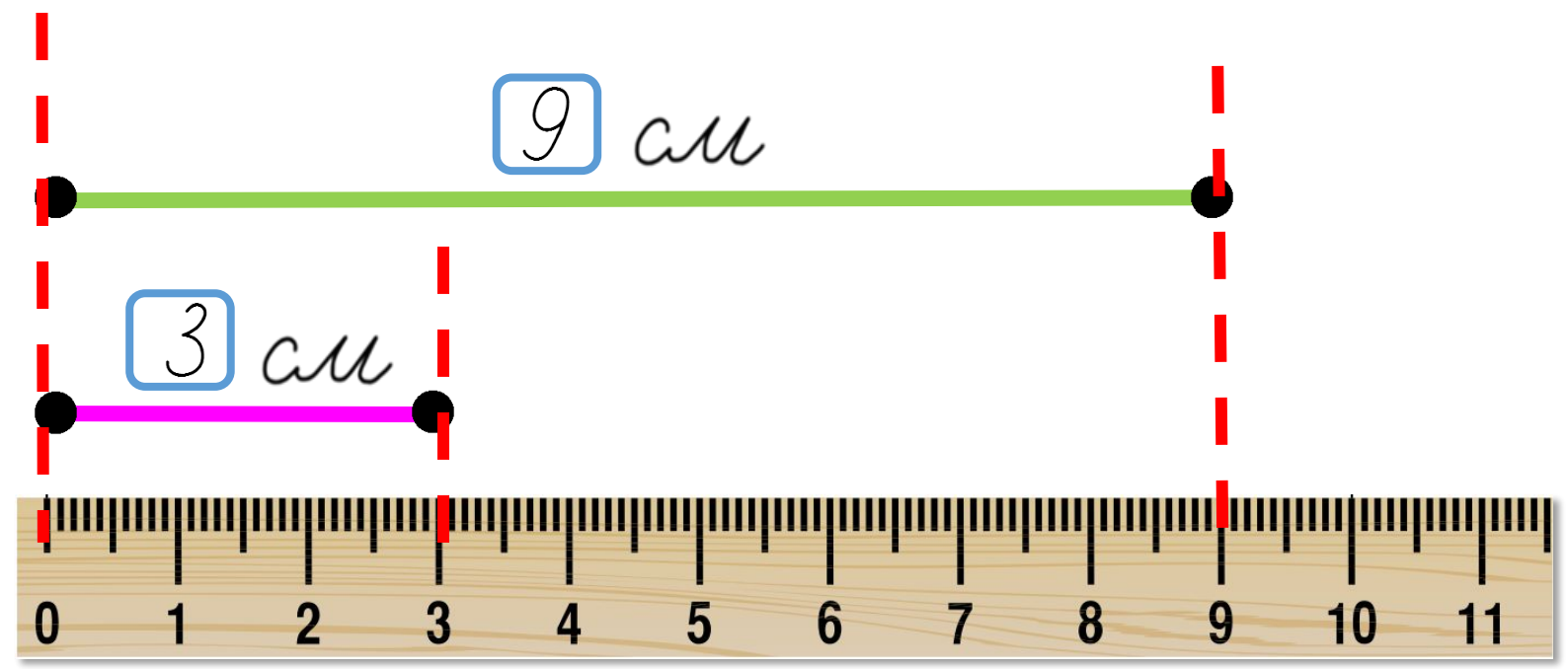
10 см	10 см	10 см	10 см






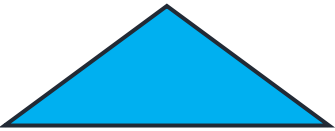


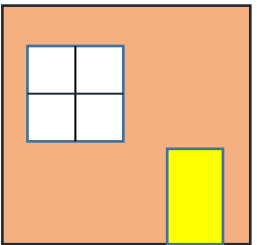
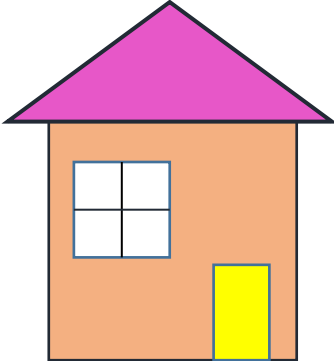
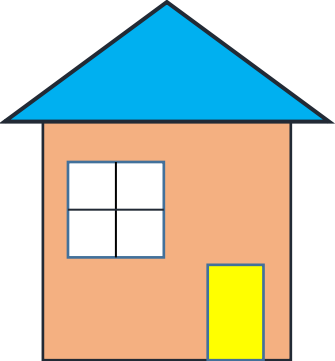
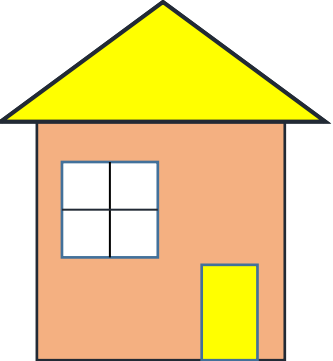

**5-6 разів**

- Виміряй довжину кожного відрізка.
- Запиши.



- Розглянь, як розфарбовані дахи в будинках.
- Продовж розфарбовувати.



У Іринки та Надійки – однакові квіти, У Іринки та Світланки – однакові вази. Визнач, де чия ваза?



Світланк  
а



Іринк  
а




Надійка

Сьогодні  
07.11.2022

*(щоби відкрити інтерактивне завдання, натисніть на помаранчевий прямокутник)*

**Відкрити онлайнове  
інтерактивне завдання**





**Мені під силу  
всі завдання**

**Було складно  
та не зрозуміло**

**Все було  
легко та**

**Мені  
потрібна**