


Сьогодні
01.11.2022

Урок
№29

Всім.pptx
Нова українська школа

Квадрат. Складені задачі з кількома запитаннями





**Ось і все!
Дзвенить дзвінок,
в гості йде до нас урок.
Сядьте зручно!
Усміхніться
і на мене подивіться!**

Гра «Гусінь». Віднови послідовність



Класна робота
зосвітня



16 16 16 16 16 16 16 16

Сьогодні
01.11.2022

**Робота із
підручником
«Математика»
Г.Лищенко,
с. 36 - 37**



Обчисли. Впиши лише вирази зі значенням 10

$$7 + 8 - 5 = 10$$

$$17 - 7 - 6 = 4$$

$$12 - 2 + 1 = 11$$

$$18 - 9 + 1 = 10$$

$$16 - 7 + 1 = 10$$

$$14 - 8 + 3 = 9$$

$$32 - 2 - 20 = 10$$

$$46 - 40 + 4 = 10$$

Вирази 1

$$7 + 8 - 5 = 10$$

$$16 - 7 + 1 = 10$$

$$18 - 9 + 1 = 10$$

$$32 - 2 - 20 = 10$$

$$46 - 40 + 4 = 10$$

Сьогодні
01.11.2022

Виміряй та дізнайся, на скільки сантиметрів довжина
прямокутника більша за ширину



ширина
прямокутник
а

довжина

прямокутника

Сьогодні
01.11.2022

Виміряй та дізнайся, на скільки сантиметрів довжина
прямокутника більша за ширину



2
CM

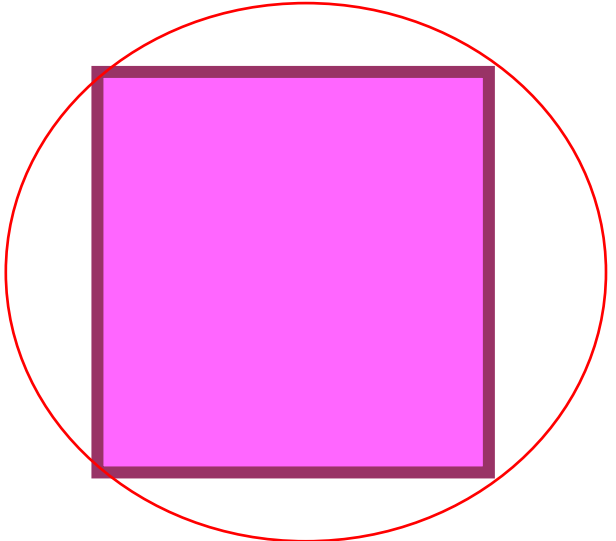




5

$$5 - 2 = 3$$

CM

Знайди прямокутники, у яких довжина дорівнює ширині







Прямокутник, у
якого всі
сторони рівні, -
квадрат

Сьогодні
01.11.2022

Побудуй квадрат зі стороною 3 см. Знайди його периметр



3
CM



$$3 + 3 + 3 + 3 = 12$$

CM

3 дачі привезли 15 кг слив і 25 кг персиків. Із 5 кг слив зварили варення. Частину персиків роздали, і їх залишилося на 10 кг більше, ніж слив. **Скільки кілограмів слив залишилося? Скільки - персиків? Скільки кілограмів персиків роздали?**

Задача 5



1) $15 - 5 = 10$ (кг) - слив залишилося;

2) $10 + 10 = 20$ (кг) - персиків залишилося;

3) $25 - 20 = 5$ (кг)




Відповідь: 5 кг персиків роздали.

Розфарбуй усі квадрати



СЬОГОДН
01.11.2022

Розфарбуй усі квадрати



Зошит.
задача
5

Зошит.
Сторінк
а
19

Які цифри пропущено в істинних рівностях?

$$10 + 5 = 15$$

$$35 - 5 = 30$$

$$46 - 6 = 40$$



**Опрацювати
задачу 8
завдання 7,
на сторінці 37**

СЬОГОДН
01.11.2022

Рефлексія. Оберіть відповідну цеглинку лего.



*На уроці мені
дуже сподобалось.*



*На уроці мені
сподобалось.*



*На уроці мені
не сподобалось.*

Сьогодні
01.11.2022

Рефлексія. Створимо пірамідку нашого настрою.

