

Математика

Сьогодні
08.11.2022

Урок
№28

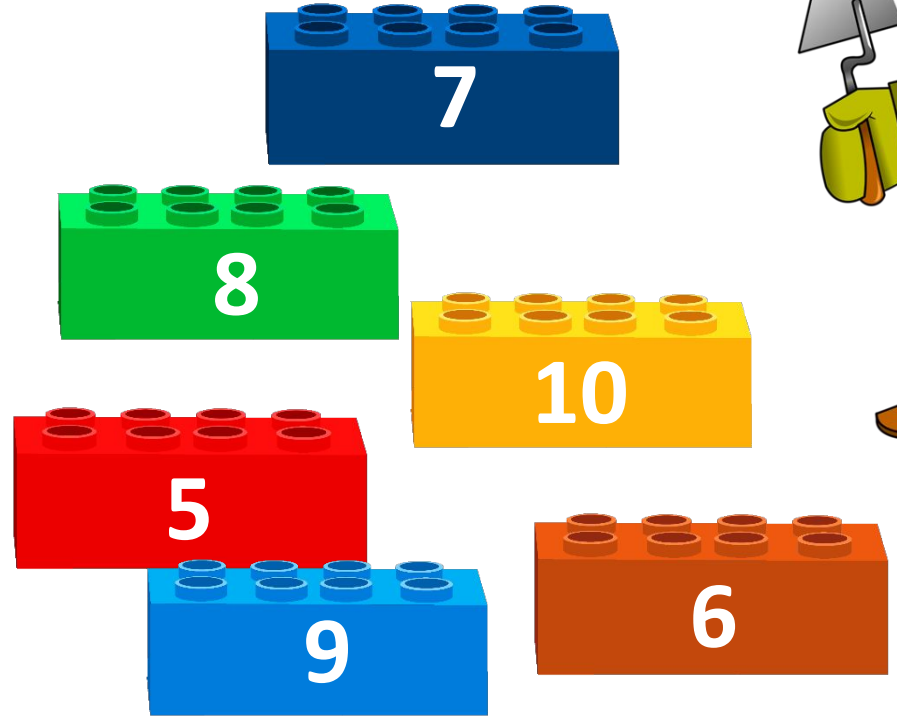
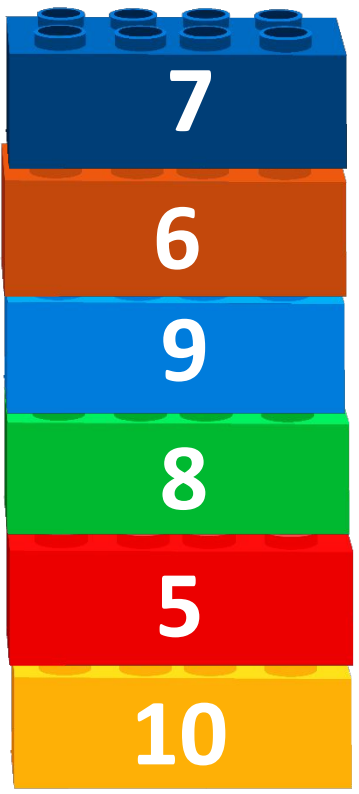


**Доба.
Замкнені і незамкнені
лінії. Повторення**

СЬОГОДН
08.11.2022

Підготовчі вправи. Гра «Збудуй вежу».

- 6 + 1
- 4 + 2
- 10 - 1
- 5 + 3
- 6 - 1
- 4 + 6






Летить над світом
чорна птиця.
Усім на світі добре
спиться.



ніч



Завітав до тітки – ночі,
Позіхнув, розплющів очі.



Всіх скликає на
сніданок,
Прокидайтеся, вже

...

ранок



Добрий вечір!

Ми назвали деякі частини доби. А що таке доба?

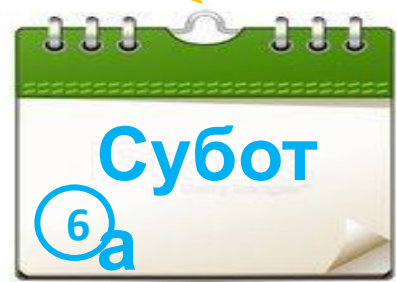

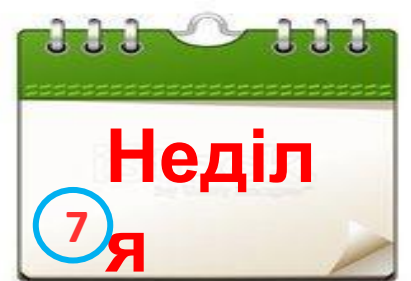


Доброго ранку!





- Сьогодні поговоримо про одиницю вимірювання часу «добу».
- Дізнаємося про різновиди ліній.





Який день тижня сьогодні?
Який день тижня був учора?

За цей час планета Земля повністю обертається навколо своєї осі.

Ранок, день, вечір, ніч – це все частини доби.

Доба – це одиниця вимірювання часу, що складається з 24 годин.




Доба
поділяється на 4
частини.



день



рано
к



вечір



ніч



Криві та ламані лінії бувають
замкнені й незамкнені.



це —

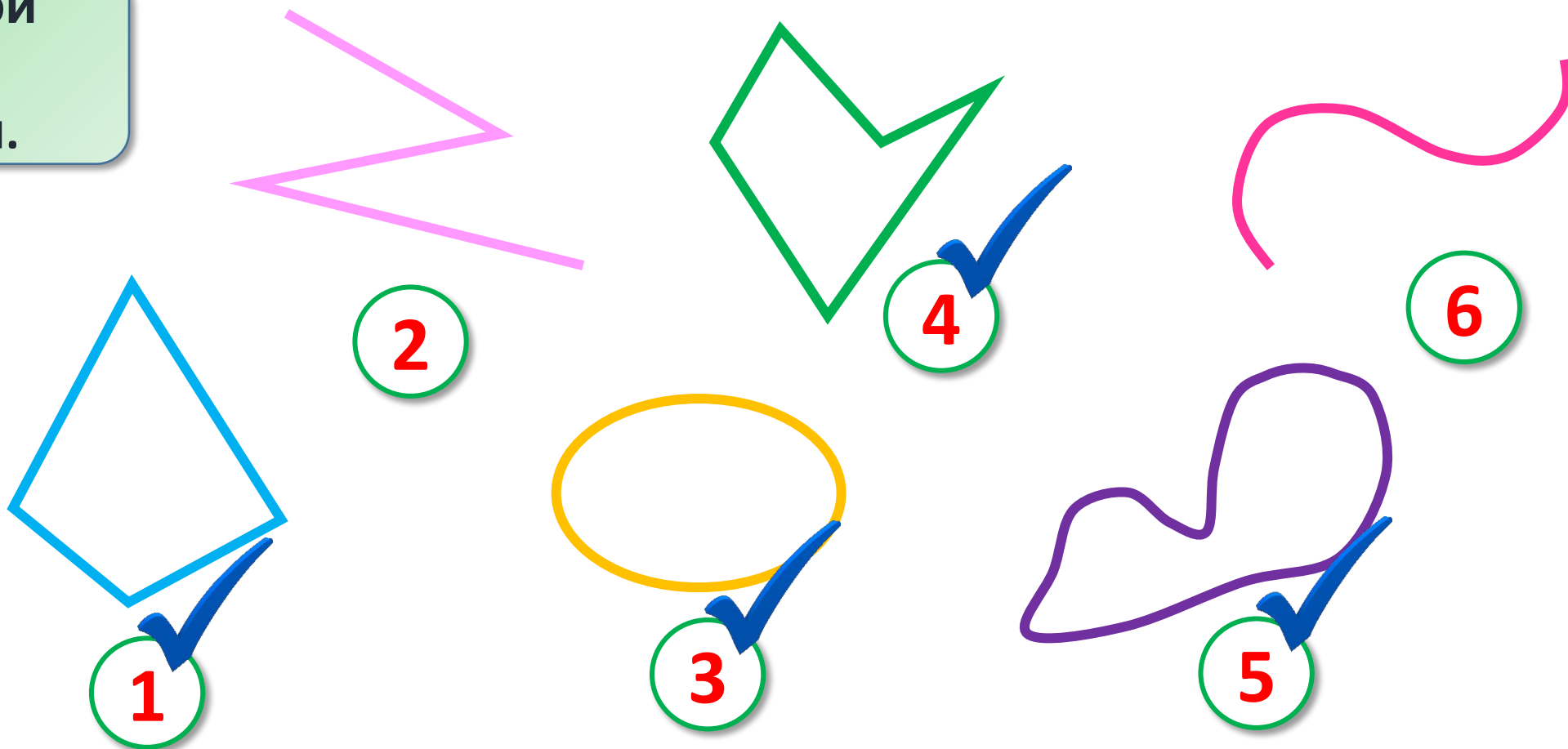
**незамкнені
лінії**



це —

замкнені лінії

Назви номери
ліній, які є
замкненими.



**Нулик – це число найменше,
Деколи й саме живе.
Як пристане до сусіда –
Має значення нове.
От стояла одиниця,**

**Біля неї нулик став,
І вже може він гордиться,
Буть найменшим перестав.
Так «один» з «нулем»-сусідом
Число «десять» разом склав.**



Сьогодні
09.11.2022

Склад числа 10. Гра «Математичні краплинки»

9 + 1

3 + 6



4 + 5

2 + 8

7 + 3

10

Які краплі потраплять у відро?




$$10 - 10 = 0$$

Викладіть на парту 10 кружечків.
Як отримати число 0? (Прибрати всі кружечки.)


Робота з підручником. Визначення кількості предметів

❖ Якому числу відповідає кількість зображених на кожному малюнку предметів.




5

6




7

8



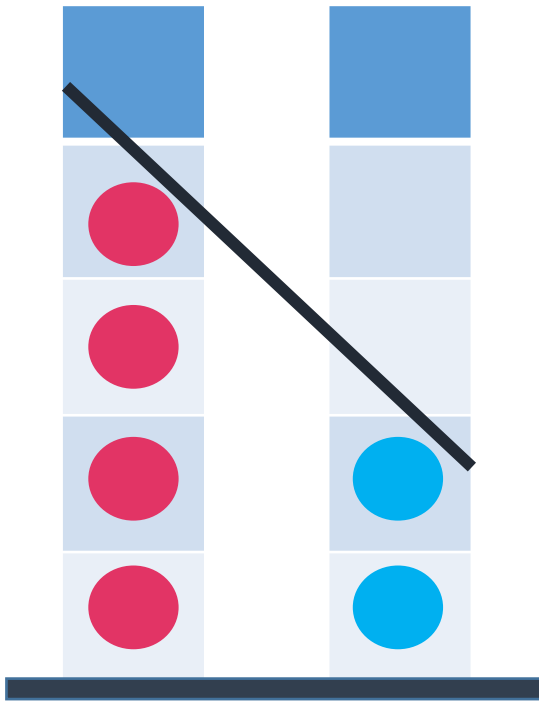
9

10

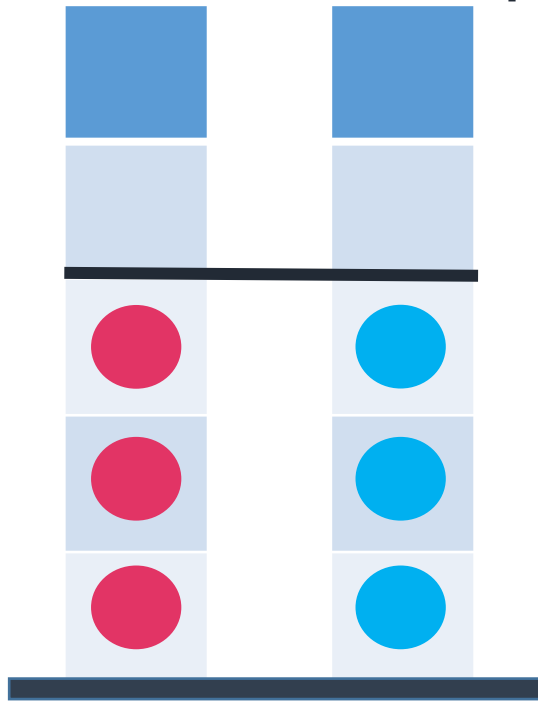


Робота з підручником. Порівняння чисел

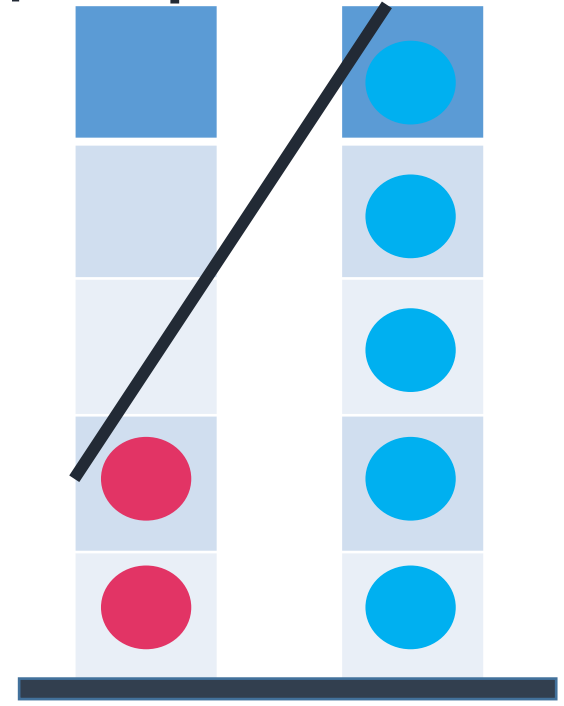
- ❖ Порівняй числа, скориставшись малюнками.
- ❖ Запиши в зошит відповідні нерівності.



$4 > 2$



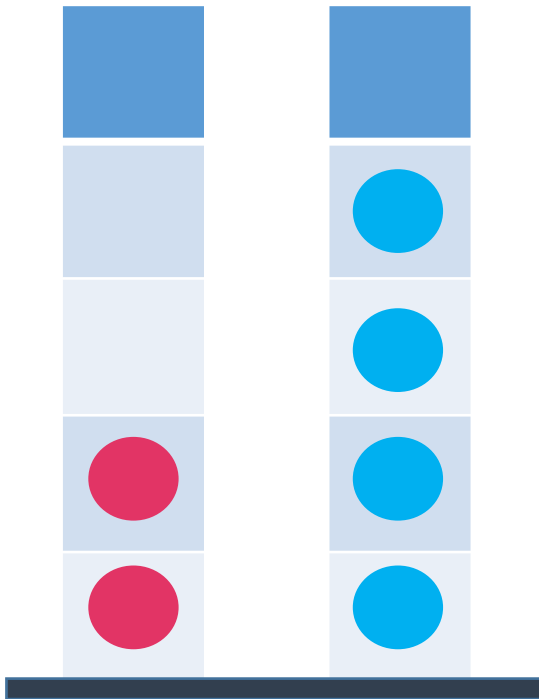
$3 = 3$



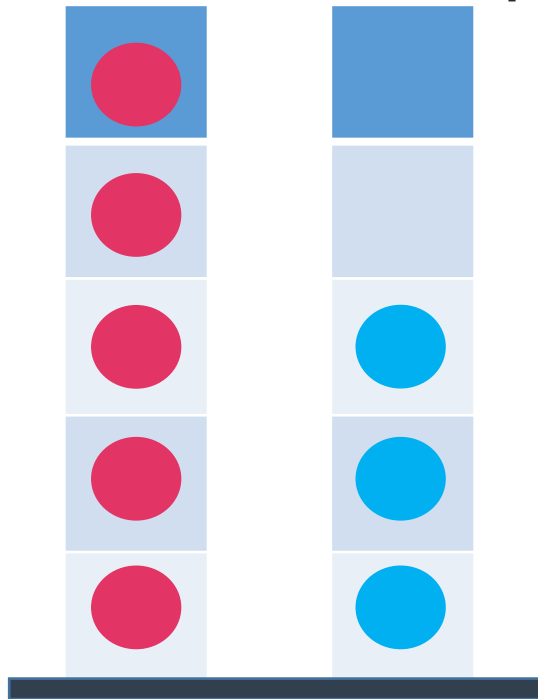
$2 < 5$

Робота з підручником. Порівняння чисел

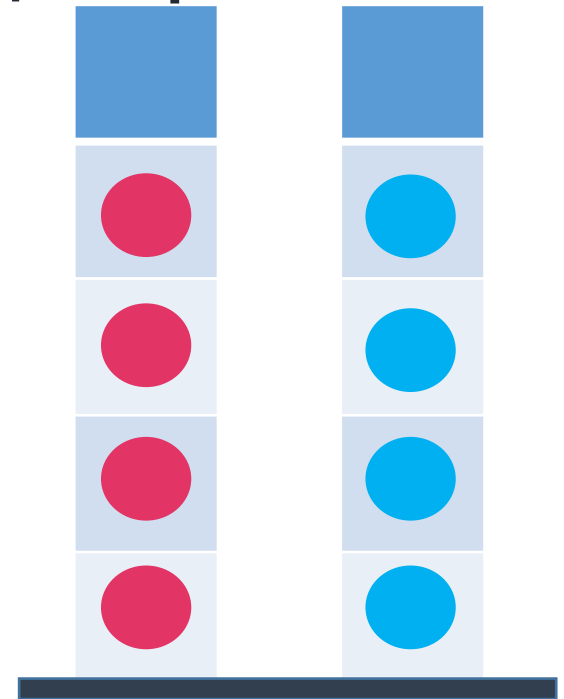
- ❖ Порівняй числа, скориставшись малюнками.
- ❖ Запиши в зошит відповідні нерівності.



$2 < 4$



$5 > 3$



$4 = 4$

Який день тижня буде завтра,
якщо вчора був вівторок?





Петрик назбирав 6 каштанів, а Ганнуся – більше, ніж Петрик та менше ніж Оксанка. Скільки каштанів назбирала Ганнуся, якщо у Оксанки 8 каштанів?



6

<



7

<



8