

Математика

Сьогодні
09.02.2023

Урок
№67



**Повторення вивченого.
Порівняння чисел з визначенням «на
скільки...». Порівняння іменованих
чисел**







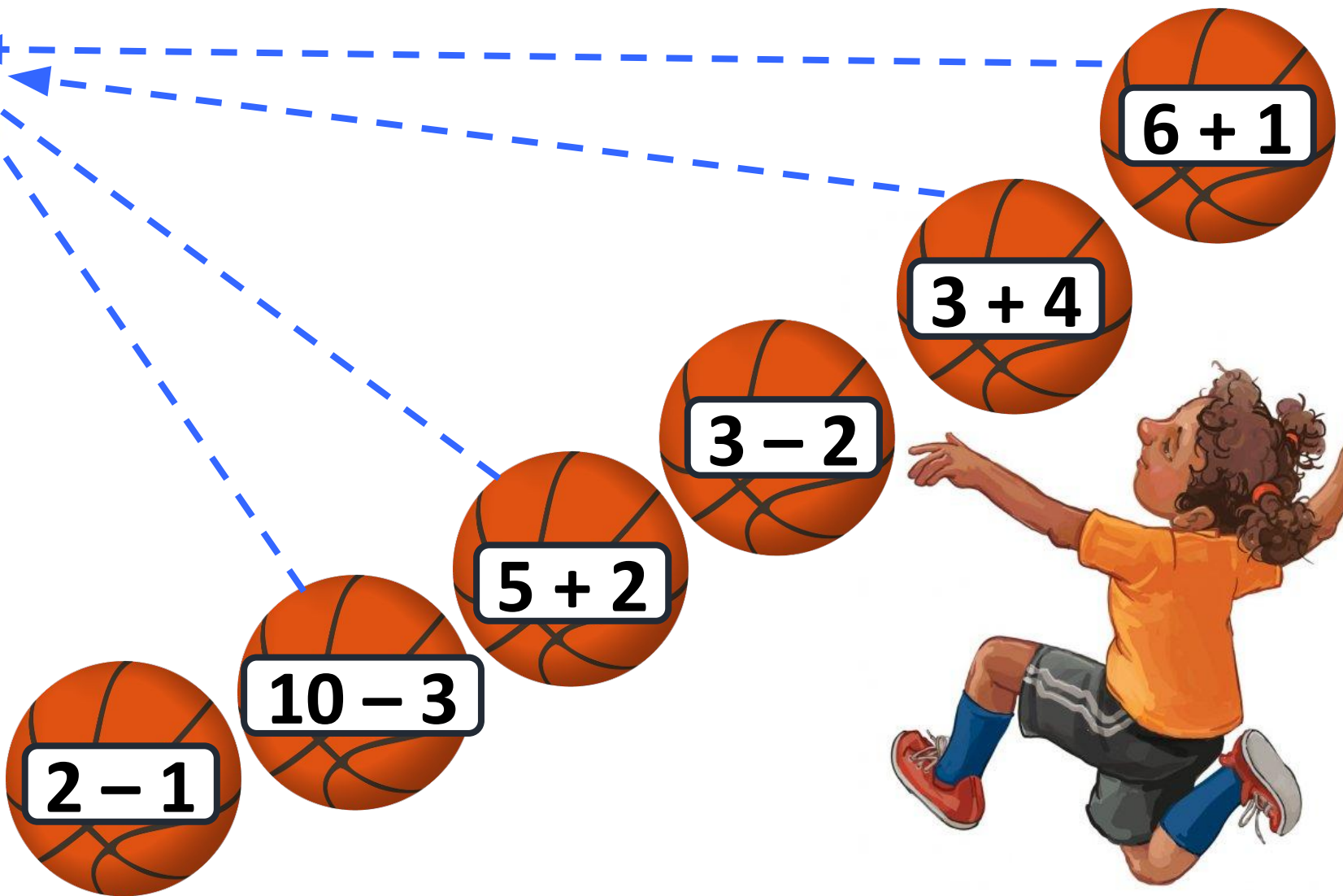
**М'яч в кільці!
Команді гол!
Ми граємо в ...**

баскетбол



Сьогодні
09.02.2023

Підготовчі вправи. Закріплення складу числа 7



Які м'ячі потраплять у кошик?



Сьогодні
09.02.2023

Мотивація навчальної діяльності. Гра «Шифр»



3

5

1

2

4

$2 + 1$	$3 + 2$	$7 - 6$	$8 - 6$	$10 - 6$
---------	---------	---------	---------	----------

Шифр

1 - O	2 - P	3 - C	4 - T	5 - П
-------	-------	-------	-------	-------

СПОРТ


Розв'яжіть приклади та дізнайтеся, яке слово зашифроване.

Скільки доданків у кожній сумі?
Обчисли.



$$\begin{array}{c} 4 \\ \hline (7) + (1) + (1) + (1) = 10 \\ 5 + 2 + 1 + 1 = 9 \end{array}$$

Яких овочів менше? На скільки менше?



$$8 - 6 = 2$$

Робота з підручником. Порівняння

- ❖ Визнач, яке число в кожній парі чисел більше.
- ❖ На скільки більше?

$$5 < 8$$

$$8 - 5 = 3$$

$$6 > 4$$


$$6 - 4 = 2$$


$$10 > 3$$


$$10 - 3 = 7$$

Робота з підручником. Порівняння

- ❖ Визнач, яке число в кожній парі чисел більше.
- ❖ На скільки більше?


$$6 > 0$$
$$6 - 0 = 6$$


$$10 > 6$$
$$10 - 6 = 4$$


$$3 > 1$$
$$3 - 1 = 2$$



➡ Зайчик закотив у комору 5 капусти. На грядці залишилося на 3 капустини більше.
➡ Скільки капусти залишилося на грядці?

		5	+	3	=	8			

Відповідь: 8 капустини.



Сьогодні
09.02.2023

Робота з підручником. Порівняння іменованих чисел

$>$ $=$ $<$



Порівняй.

$5 \text{ см} < 9 \text{ см}$

$10 \text{ см} > 1$

см

Сьогодні
09.02.2023

Робота з підручником. Порівняння іменованих чисел

$>$ $=$ $<$



Порівняй.

$7 \text{ кг} > 2 \text{ кг}$ $10 \text{ л} > 3 \text{ л}$

$4 \text{ кг} < 8 \text{ кг}$ $5 \text{ л} < 6 \text{ л}$

Сьогодні
09.02.2023

Робота з підручником. Обчислення виразів

Обчисли лише суми.



$$5 - 3 =$$

$$10 - 3 - 3 =$$

$$6 + 4 = 10$$

$$10 - 1 - 2 =$$

Сьогодні
09.02.2023

Робота з підручником. Обчислення виразів

Обчисли лише суми.



$$8 + 2 = 10$$

$$5 + 1 + 1 = 7$$

$$4 + 5 = 9$$

$$4 + 2 + 2 = 8$$

В яку скриньку ви покладете враження від уроку?



**Скринька
радісті**

**Скринька
подиву**

Скринька суму