

Математика

Сьогодні
21.11.2022

Урок
№38



Додавання і віднімання числа 3. Переставний закон



очі
дивляться



ротик
мовчить



вуха
слухають



руки, ноги
не
рухаються

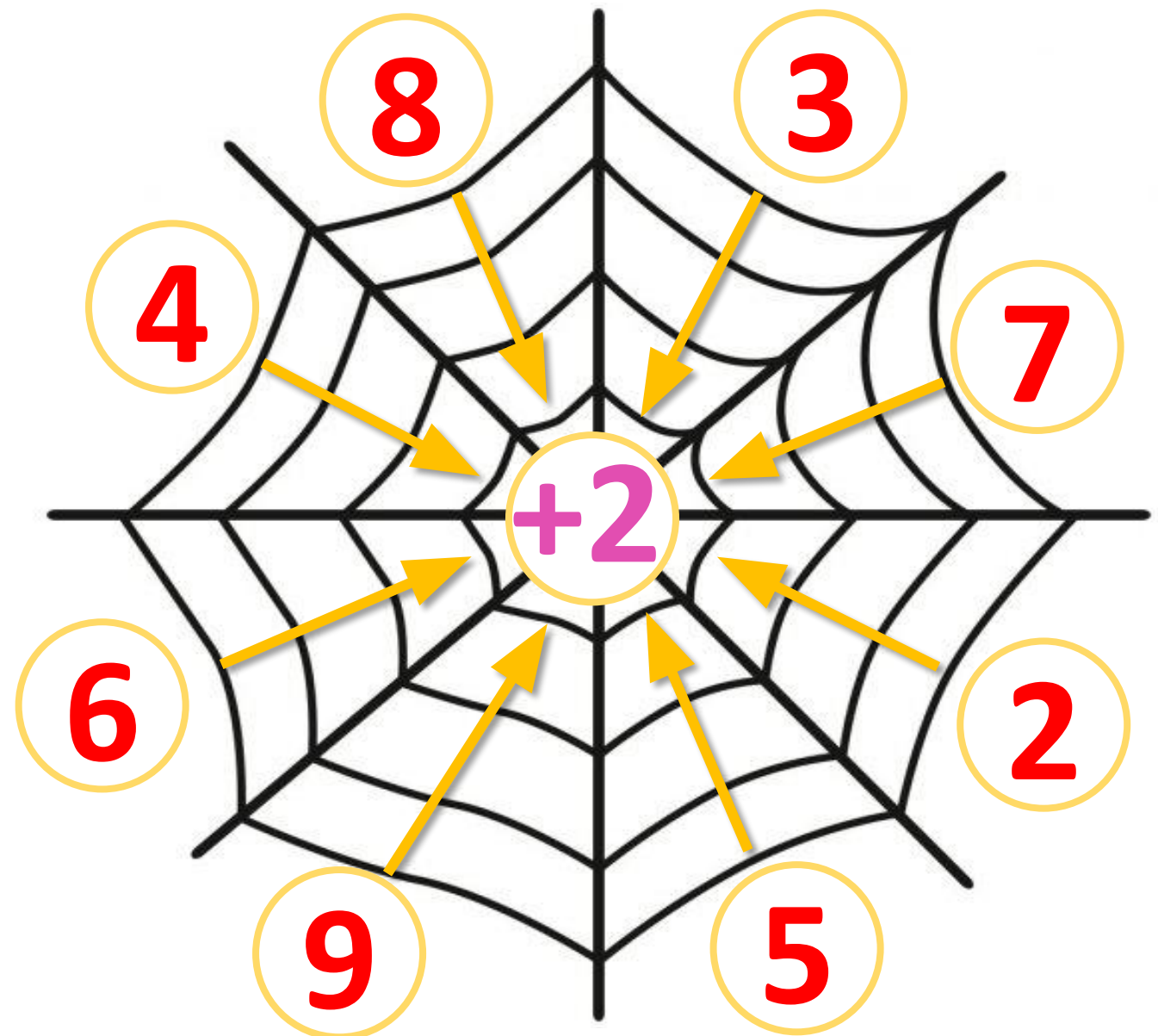


голова
працює

Дай мені 5

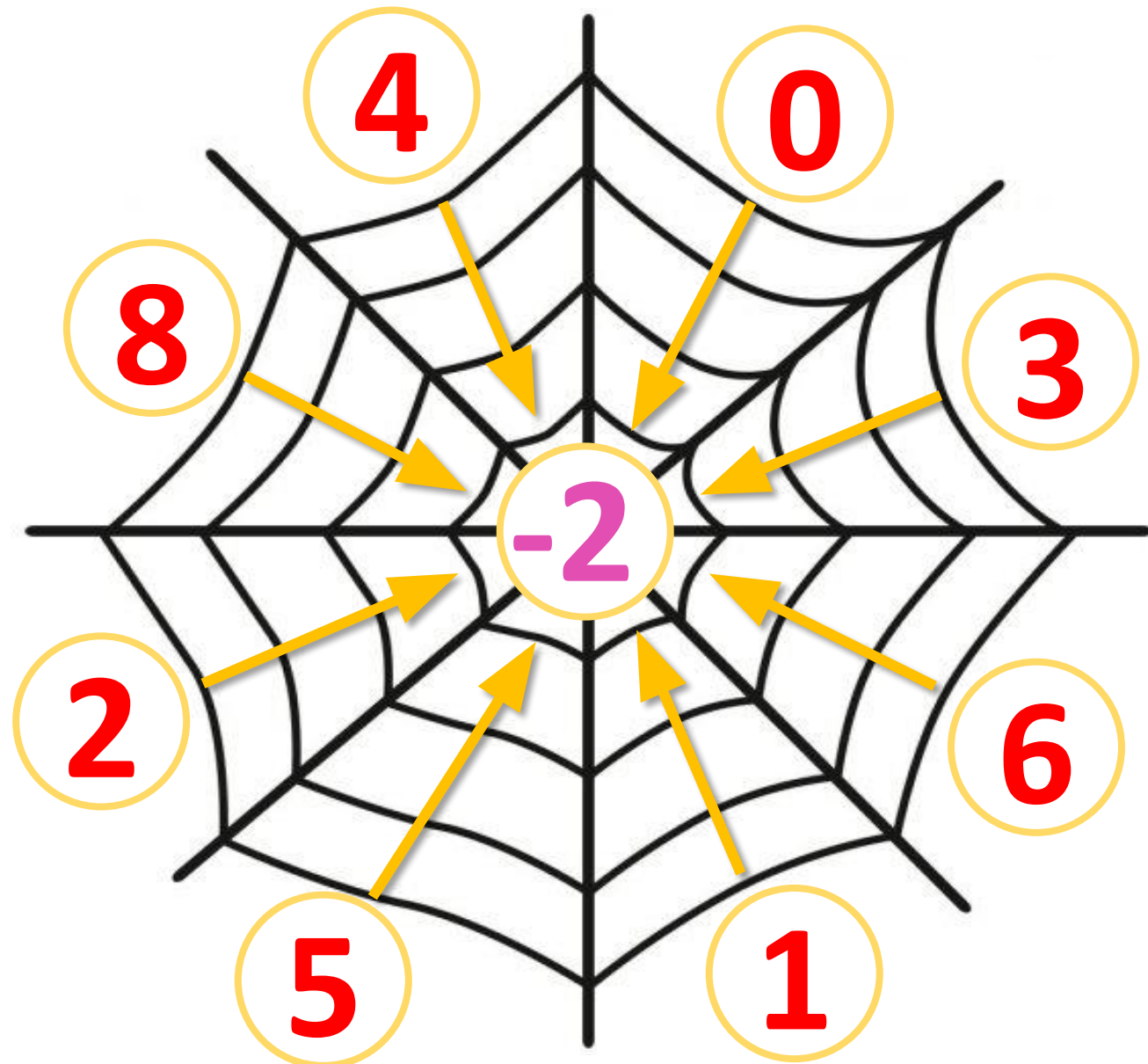
Сьогодні
21.11.2022

Математичні приклади. Гра «Математична павутинка»



Сьогодні
21.11.2022

Математичні приклади. Гра «Математична павутинка»



Мав Сергійко **десять** слив — **три** — отримав Ярослав.
 ними друзів пригостив: І Тимку дісталось **двійко**.
дві — Наталочці віддав, Скільки сливок з'їв
 Сергійко?



$$10 - 2 - 3 - 2 = 3$$

П'ять фломастерів у
Жені.
Взяв він **жовтий** і
зелений,
а в коробці на столі
залишилось тільки...
 $5 - 1 - 1 = 3$





**Раз гачок і два гачок,
А між ними – язичок.
Цифра нас зачарувала.
Ну а ми її впізнали.**

Трійка





Вивчити таблицю додавання та віднімання
числа 3.

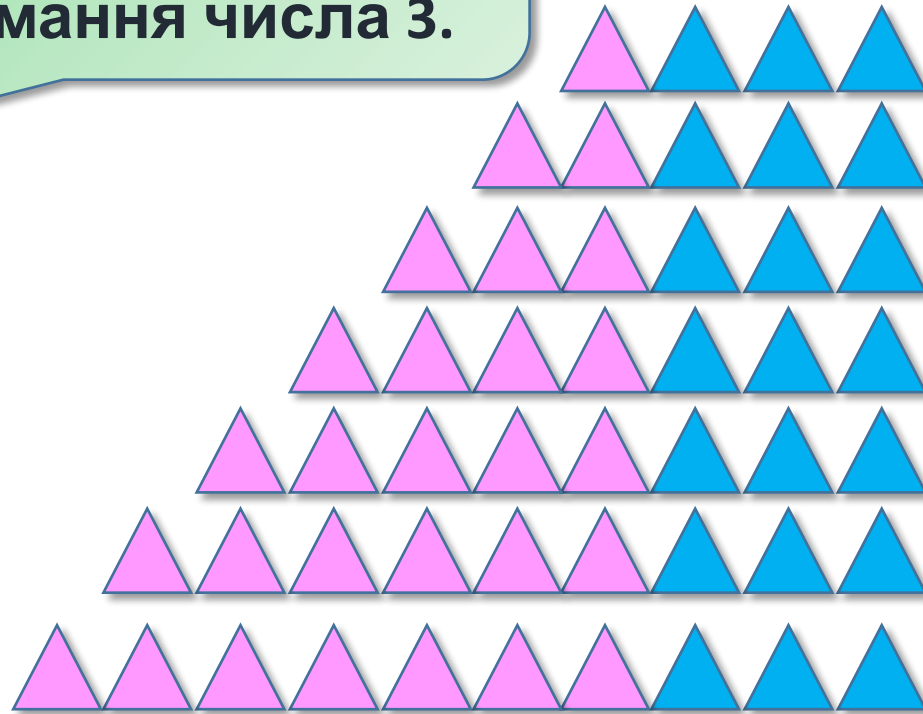


- Сьогодні на уроці ми будемо додавати і віднімати число 3.
- Вивчимо переставний закон додавання.



- ❖ Полічи фігури в кожному рядку.
- ❖ Розглянь, як утворені таблиці.

Треба запам'ятати
результати додавання
і віднімання числа 3.



$$1 + 3 = 4$$

$$2 + 3 = 5$$

$$3 + 3 = 6$$

$$4 + 3 = 7$$

$$5 + 3 = 8$$

$$6 + 3 = 9$$

$$7 + 3 = 10$$

$$4 - 3 = 1$$

$$5 - 3 = 2$$

$$6 - 3 = 3$$

$$7 - 3 = 4$$

$$8 - 3 = 5$$

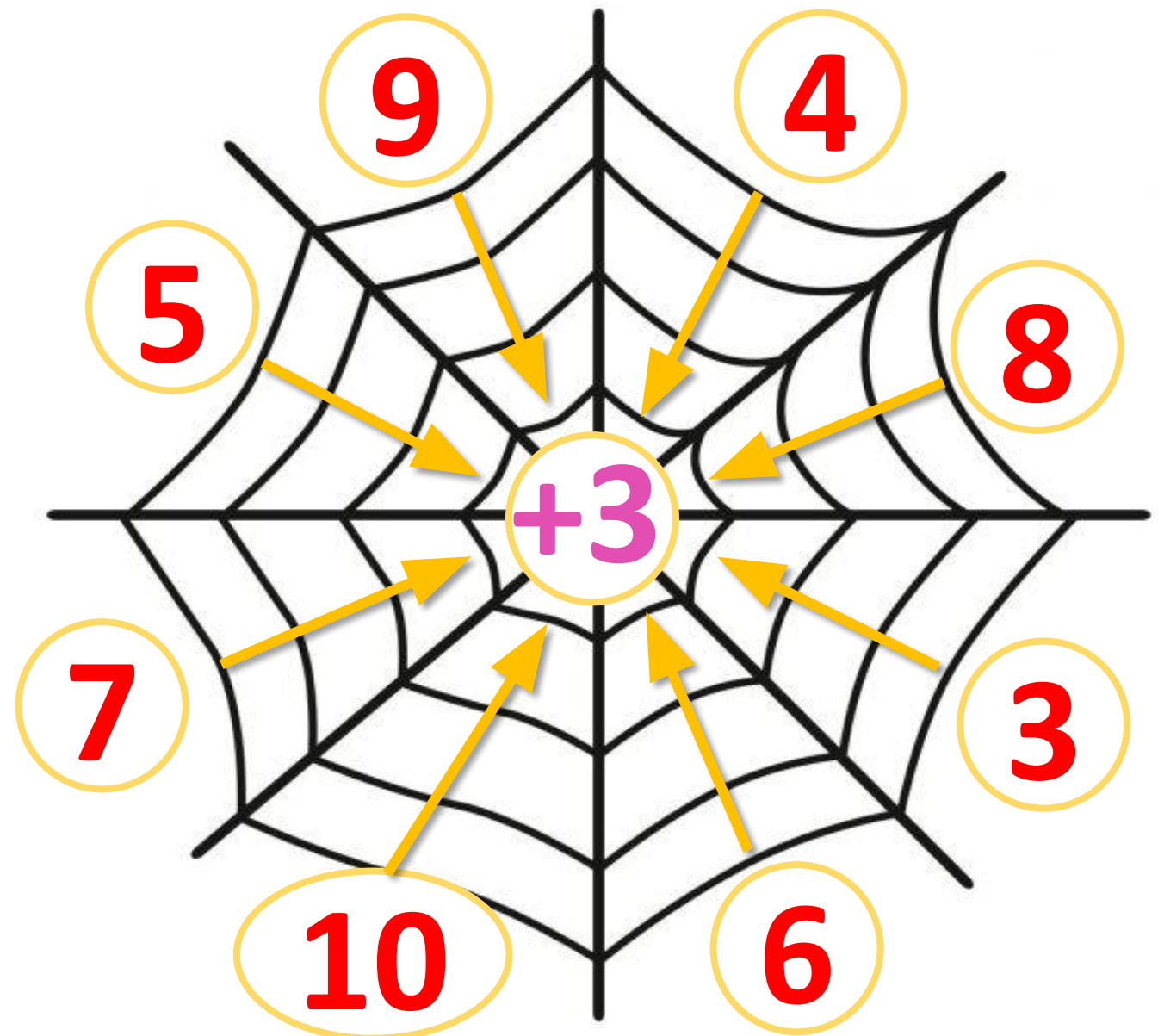
$$9 - 3 = 6$$

$$10 - 3 = 7$$



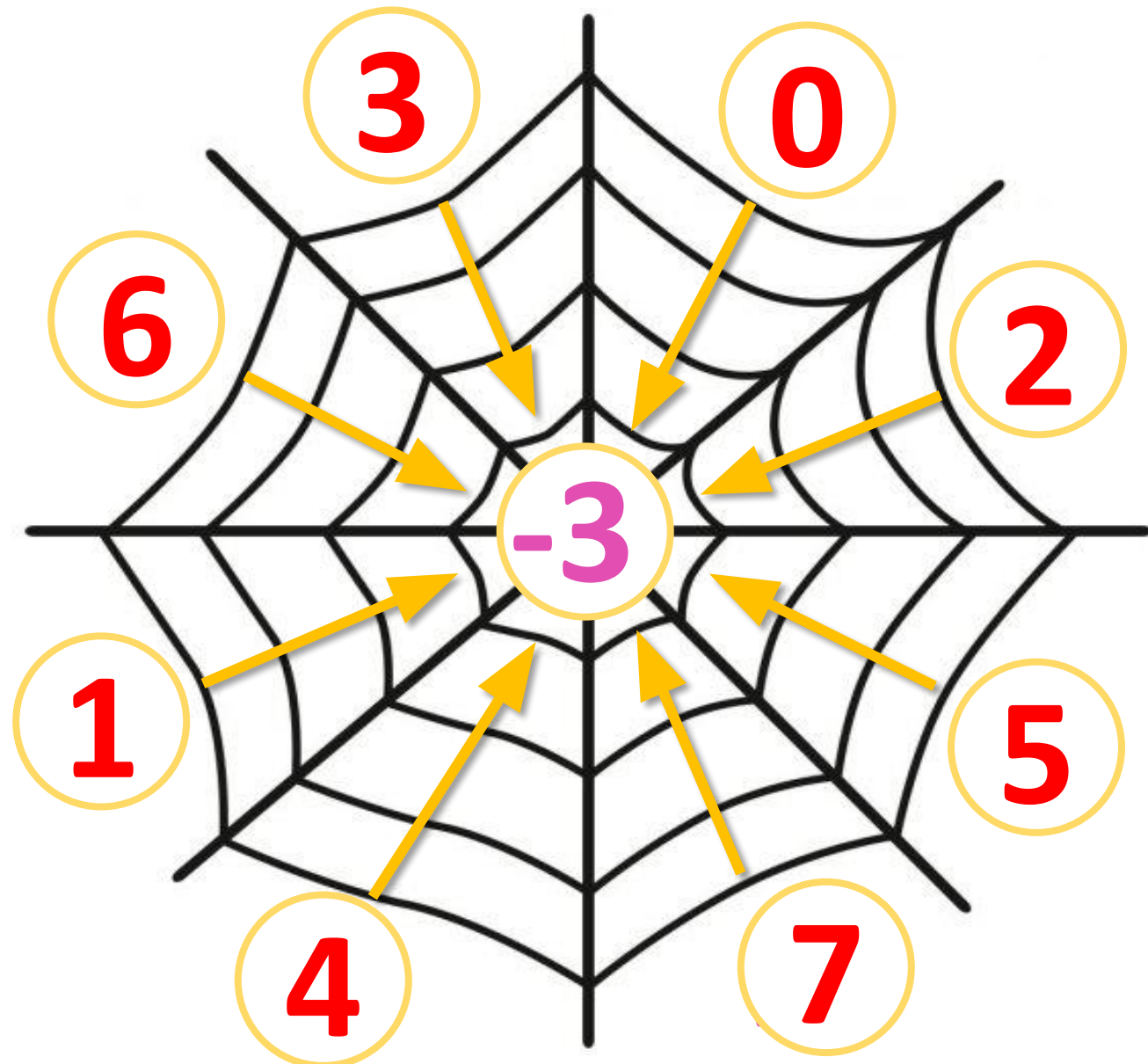
Сьогодні
21.11.2022

Математичні приклади. Гра «Математична павутинка»





Сьогодні
21.11.2022

Математичні приклади. Гра «Математична павутинка»



- ❖ Що спільного й що відмінного на малюнках?
- ❖ Що спільного й що відмінного в обчисленнях?



$$3 + 1 = 4$$



$$1 + 3 = 4$$





Від переставляння
доданків сума **не**
зміниться.

Сьогодні
21.11.2022

Робота з підручником. Обчислення виразів

Обчисли.



$$4 + 3 = 7$$

$$3 + 4 = 7$$

$$5 + 2 = 7$$

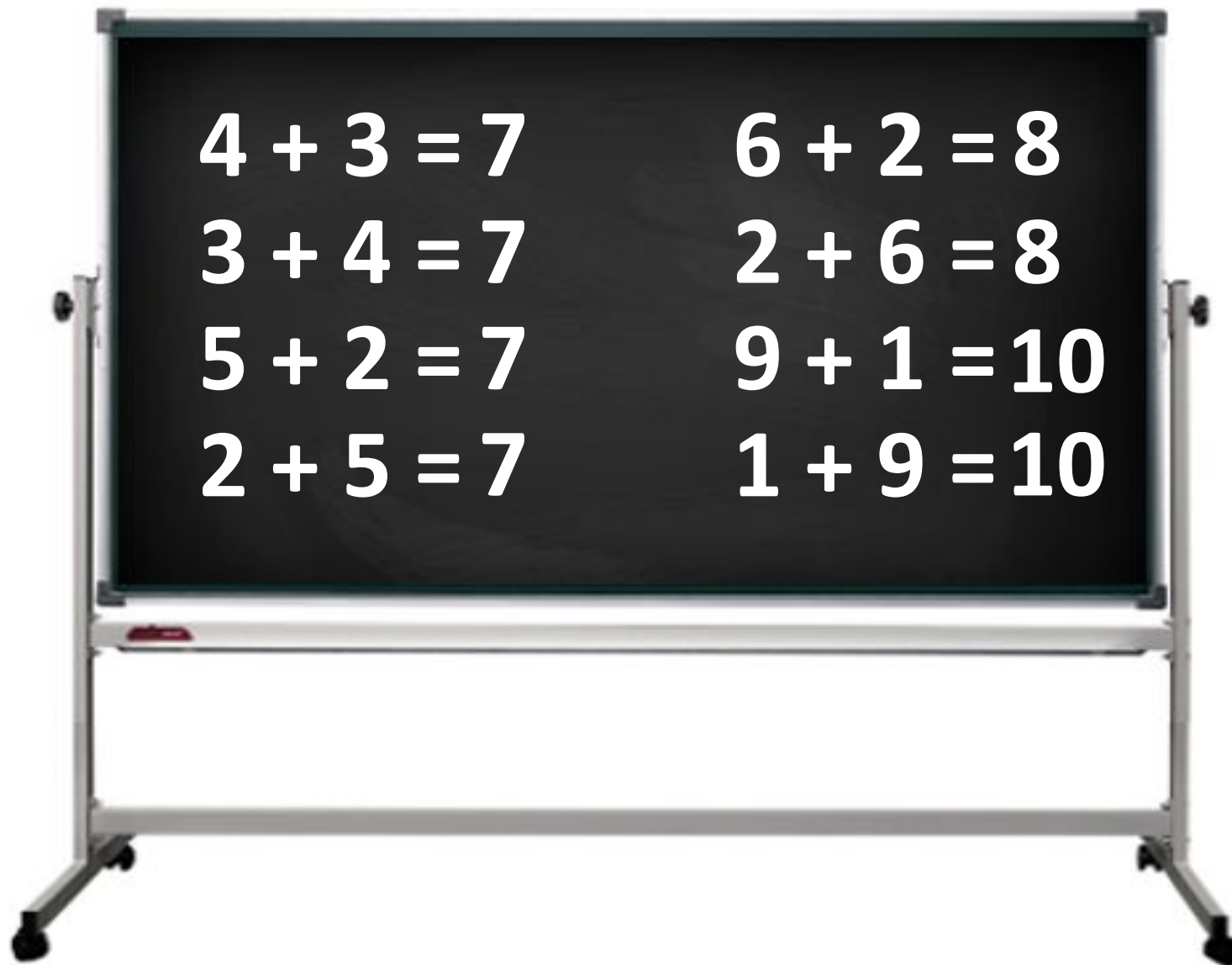
$$2 + 5 = 7$$


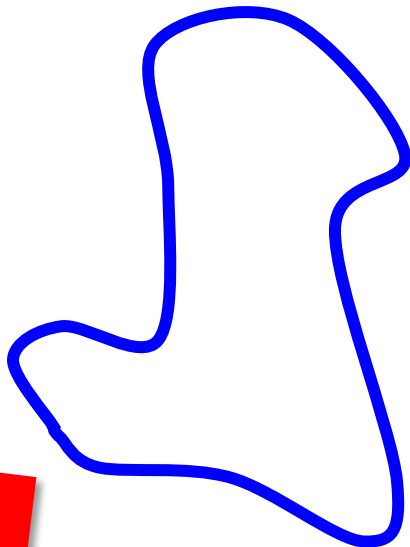



$$6 + 2 = 8$$

$$2 + 6 = 8$$

$$9 + 1 = 10$$

$$1 + 9 = 10$$





Скільки замкнених кривих на малюнку?



Сьогодні
21.11.2022

Робота у зошиті
(сторінка 37).




- Напиши за зразком.



4	4	4	4	4	4	4	4	4	4	4
9	9	9	9	9	9	9	9	9	9	9

- Виконай додавання числа 3.



$1 + 3 = 4$

$4 + 3 = 7$

$7 + 3 = 10$


$2 + 3 = 5$

$5 + 3 = 8$

$3 + 3 = 6$

$6 + 3 = 9$

- Виконай віднімання числа 3.



$$4 - 3 = 1$$

$$7 - 3 = 4$$

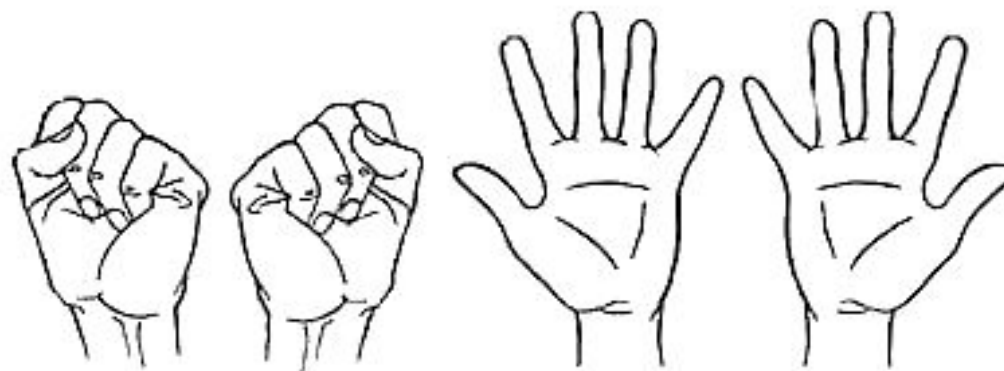
$$10 - 3 = 7$$

$$5 - 3 = 2$$

$$8 - 3 = 5$$


$$6 - 3 = 3$$

$$9 - 3 = 6$$



5-6 разів

- Обчисли, скориставшись переставним законом додавання.



$$1 + 6 = 6 + 1 = 7$$

$$2 + 7 = 7 + 2 = 9$$

$$2 + 4 = 4 + 2 = 6$$

$$3 + 5 = 5 + 3 = 8$$

- Обчисли.



$4 + 3 = 7$

$5 + 1 = 6$

$3 + 4 = 7$

$1 + 5 = 6$

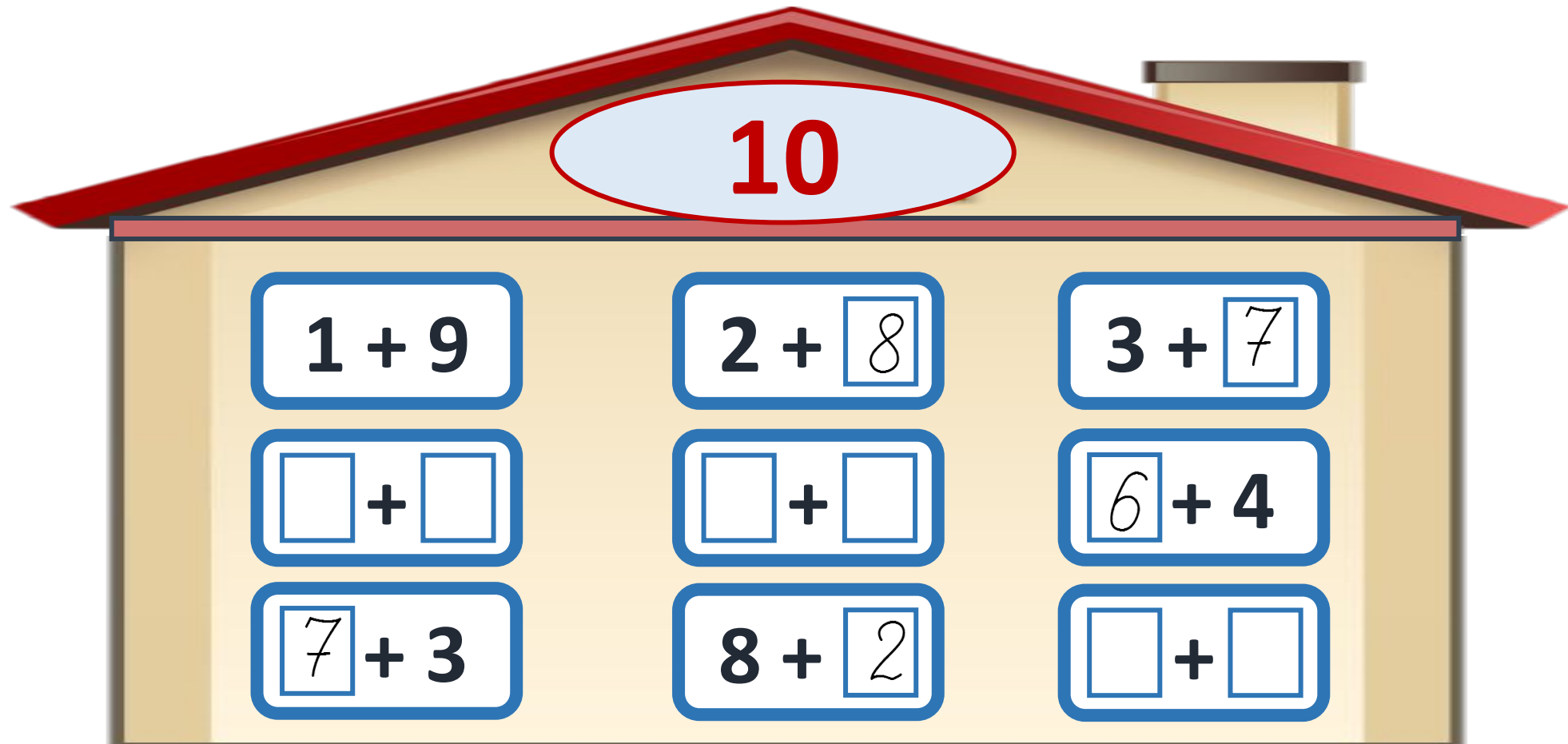
$7 + 2 = 9$

$6 + 2 = 8$

$2 + 7 = 9$

$2 + 6 = 8$

- Запиши склад числа 10.

A house-shaped graphic with a red roof and a chimney. The number 10 is written in red inside a light blue oval on the roof. The main body of the house is divided into a 3x3 grid of blue-bordered boxes, each containing a simple addition problem. The problems are: Row 1: 1 + 9, 2 + 8, 3 + 7; Row 2: empty boxes + empty boxes, empty boxes + empty boxes, 6 + 4; Row 3: 7 + 3, 8 + 2, empty boxes + empty boxes.

$1 + 9$	$2 + 8$	$3 + 7$
$\square + \square$	$\square + \square$	$6 + 4$
$7 + 3$	$8 + 2$	$\square + \square$

Скільки
тістечок
принесла
мишка?



Що змінилося?
Що залишилося
незмінним?



$$5 + 2 = 7$$

$$2 + 5 = 7$$

Цеглинку лего підійміть, зустріч нашу ОЦІНІТЬ

