

Сьогодні
06.12.2022

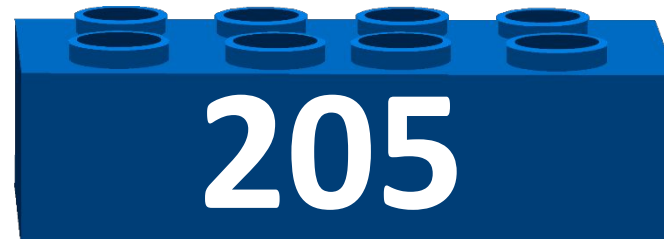
Урок
№ 67

Всім.pptx
Нова українська школа



**Час за годинником. Дії з
іменованими числами. Розв'
язування задач.**

$$200 + 65$$



$$100 + 9$$




Усний рахунок

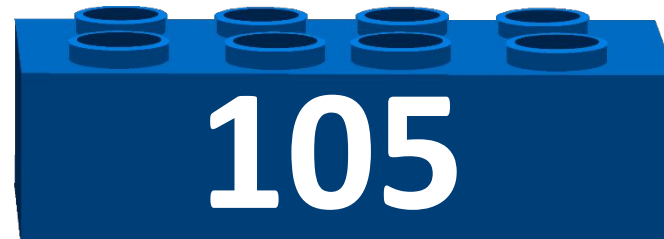

$$200 - 1$$



$$350 - 50$$



$$200 - 100$$





7 грудня
Класна робота

199 199 199 199 199 199

Знайди значення виразу, відповідь
запиши каліграфічно 200 – 1

Сьогодні
06.12.2022

Порівняй і запиши. (Щоб порівняти роби перетворення)

1
доба

<

36 год

8 год

=

$\frac{1}{3}$ доби


$\frac{1}{10}$ год

>

5 хв

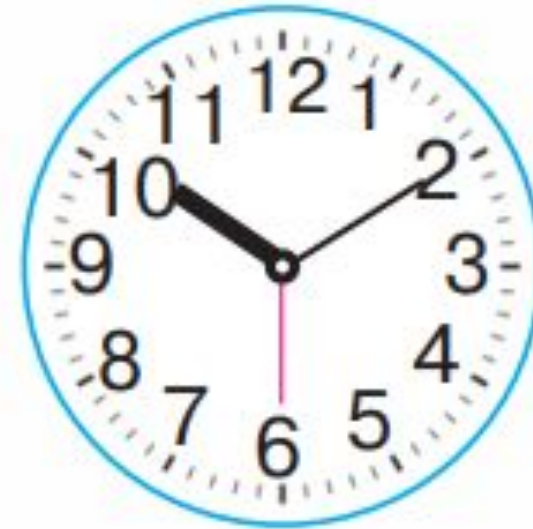
24 год

36 год



Сьогодні
06.12.2022

Чим різняться годинники?
Назви час, який показує кожний годинник



Стрілка червоного кольору показує
секунди.

Сьогодні
06.12.2022

Чим візняються годинники?
Назви час, який показує кожний годинник



Секунда — одиниця часу, що становить $\frac{1}{60}$ хв.

$$1 \text{ хв} = 60 \text{ с}$$

Сьогодні
06.12.2022

Чим різняться годинники?
Назви час, який показує кожний годинник



Секундна стрілка робить повний
оберт на циферблаті за 1 хв.

Секунди на циферблаті
позначаються так само, як і

ХВИЛИНИ.

Обчисли : $\frac{1}{6}$ доби, $\frac{1}{6}$ год, $\frac{1}{6}$ хв.

Завдання 600

$$24 : 6 = \text{год}$$

$$60 : = \text{хв}$$

$$60 : = \text{с}$$



Завдання 601

$$48 \text{ год} : 8 = \text{ год}$$

$$15 \text{ с} : 3 \text{ с} =$$

$$40 \text{ хв} : 5 = \text{ хв}$$

$$30 \text{ хв} : 10 = \text{ хв}$$


$$2 \text{ хв} \cdot 7 = \text{ хв}$$

$$18 \text{ год} + 7 \text{ год} = \text{ год}$$

$$5 \text{ с} \cdot 10 = \text{ с}$$

$$50 \text{ с} - 15 \text{ с} = \text{ с}$$





У забігу на 100 м Іван став
переможцем із
результатом 14 с. У Максима
результат на 2 с гірший, ніж у



Задача 594

$$c + c = c$$


Відповідь: за c Максим подалає 100 метрів.



Сьогодні
06.12.2022

Розв'яжи задачу.

Інструментальна композиція тривала
3 хв 35 с, а пісня — на 2 хв довше. Яка
тривалість пісні?



Підручни

к.

Задача

603

Підручни

к.

Сторінка

109

Задача 603

$$xв \quad с + \quad xв = \quad xв \quad с$$

Відповідь: $xв$ $с$ триває пісня.



СЬОГОДН
06.12.2022

Розв'яжи рівняння.



$$72 : b = 9$$

$$b =$$

$$b =$$

$$72 : = 9$$

$$9 = 9$$

$$y \cdot 8 = 64$$

$$y =$$

$$y =$$

$$\cdot 8 = 64$$

$$64 = 64$$

$$k : 7 = 5$$

$$k =$$

$$k =$$

$$: 7 = 5$$

$$5 = 5$$



**На с. 110 у підручнику,
розв'яжи задачу № 605,
знайди значення
виразів № 606.**

*Короткий запис в
щоденник
С. 110, № 605,
606*



605. З міста до села о півдні виїхав автомобіль і був у дорозі 2 год 40 хв. О котрій годині автомобіль прибув у село?

Задача 605

$$12 \text{ год} + 2 \text{ год } 40 \text{ хв} =$$

Відповідь:

Вирази 606

$$25 \text{ хв} : 5 =$$

$$49 \text{ с} : 7 =$$

$$4 \text{ год} \cdot 5 =$$

$$4 \text{ хв } 45 \text{ с} - 1 \text{ хв } 15 \text{ с} =$$