

Математика

Сьогодні  
09.05.2023

Урок  
№ 11

8



**Обчислення на основі нумерації**

Сьогодні  
09.05.2023

Підготовчі вправи. Лічба десятками в порядку зростання



10



20



30



40



50



60



70



80



90



100



10



20



30



40



50



60



70



80



90



100

Сьогодні  
09.05.2023

Утворення попереднього та наступного круглого числа











**Спритний майстер у  
стрибках:  
На деревах, по гілках.  
Вся руда, пухнастий хвіст,  
Рідний дім для неї – ліс.**

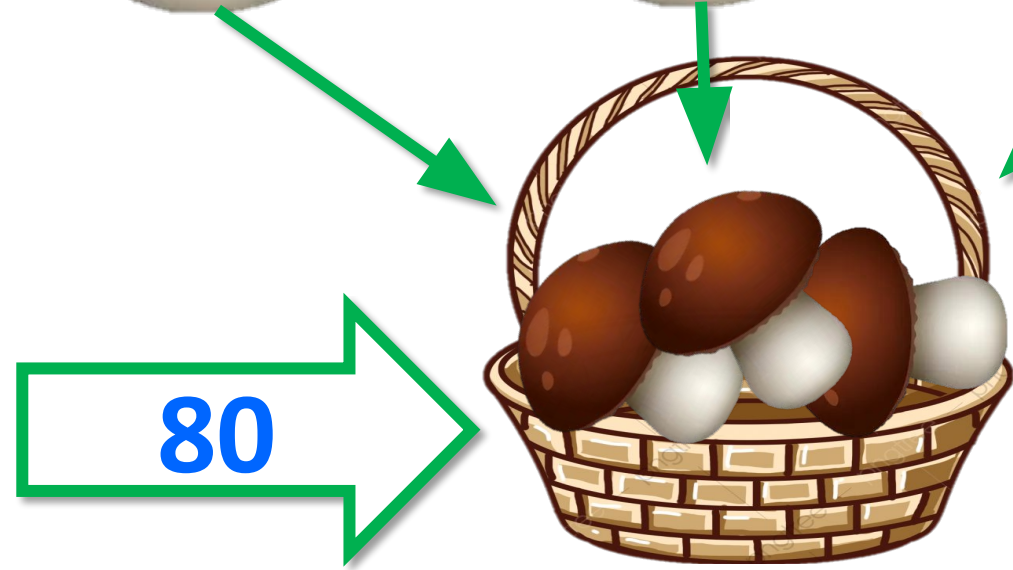
**Білка**



Сьогодні  
09.05.2023

Розвиток обчислювальних навичок. Гра «Збираємо грибочки»










По-перше, його білочка використовує щоб грітися. У люті морозні дні вона закутується своїм пишним хвостиком, як теплою ковдрою. По-друге, хвіст служить кермом під час польоту, коли вона стрибає з запаморочливої висоти. Завдяки потужним заднім лапкам ця малявка одним стрибком може долати до 15 метрів в довжину.



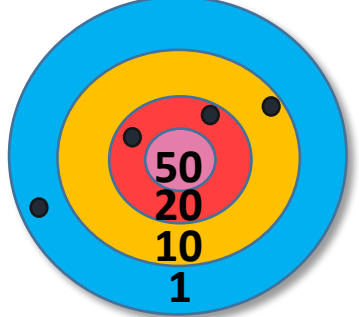




Назвіть у порядку зростання числа, що залишилися.

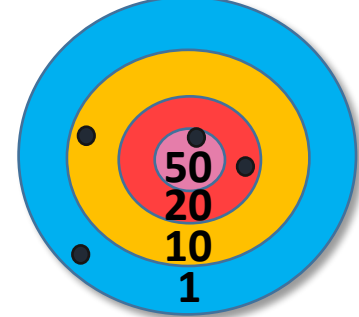
Скільки очок  
набрав кожний  
учасник змагань?  
Визнач ім'я  
переможця.

Сергій



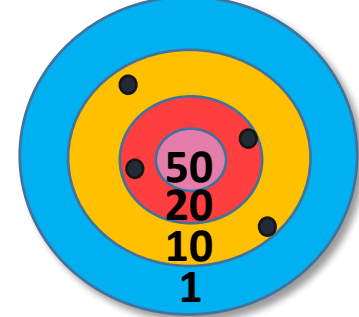
51

Артем



81

Юрко

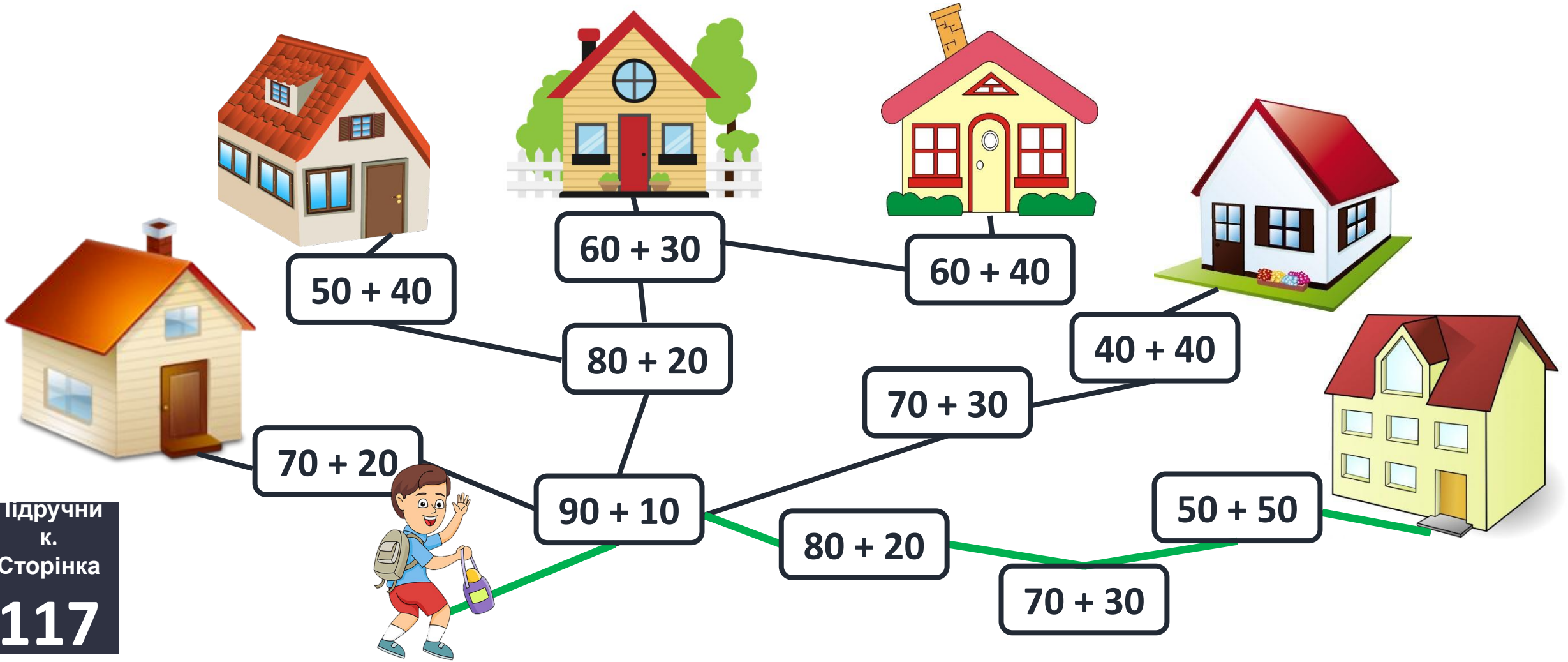


60



Робота з підручником. Робота над завданням

❖ Щоб потрапити до себе додому, Олег прямує маршрутом «100». Покажи його будинок.





Було – 18 уч.  
Вийшло ?  
Залишилося 8 уч.  
–




→ У шкільному автобусі їхало 18 учнів. На зупинці кілька учнів вийшло, і в автобусі залишилося 8 учнів.  
→ Скільки учнів вийшло на зупинці?

$$18 - 8 = 10 \text{ (уч.)}$$

**Відповідь** 10 учнів вийшло на зупинці.

- ❖ Художник зобразив 4 пірамідки, дивлячись на них згори.
- ❖ Де на малюнку та, що стоїть крайня ліворуч?



Сьогодні  
09.05.2023

Робота у зошиті  
(сторінка 43).







- Обчисли.



$$19 - 4 = 15$$

$$18 - 7 = 11$$

$$16 - 5 = 11$$

$$39 - 4 = 35$$

$$88 - 7 = 81$$


$$56 - 5 = 51$$

$$99 - 4 = 95$$

$$98 - 4 = 94$$

$$66 - 5 = 61$$

- Обчисли.



$$7 + 10 - 3 = 14$$

$$7 + 60 - 3 = 64$$

$$7 + 70 - 3 = 74$$



- Розв'яжи задачу, скориставшись схемою.

Було – 20 кг  
Використали ?  
Залишилося 10 кг



→ У сітці було 20 кг цибулі. Через тиждень у ній залишилося 10 кг.

→ Скільки кілограмів цибулі використали за тиждень?

$$\boxed{20} - \boxed{10} = \boxed{10} \text{ (кг)}$$

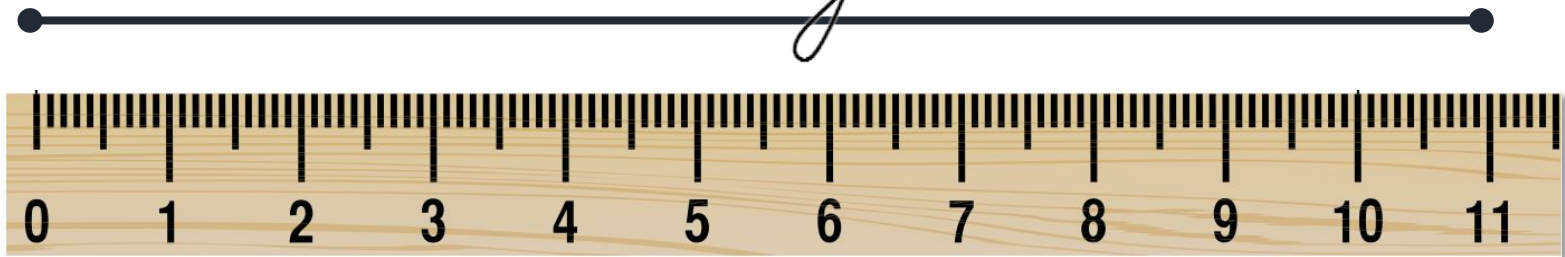
Відповідь:  $\boxed{10}$  кг.

## Робота у зошиті



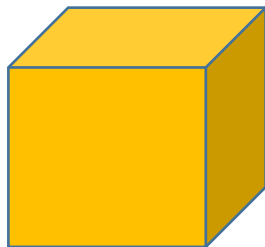
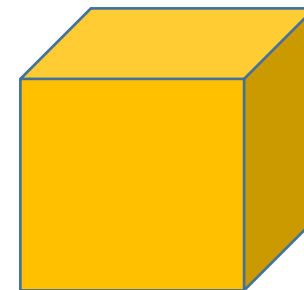



- Вимірй довжину відрізка.
- Запиши в сантиметрах; у дециметрах і сантиметрах.



$$\boxed{12} \text{ см} = \boxed{1} \text{ дм } \boxed{2} \text{ см}$$



- Обведи на малюнку всі конуси.





До свята потрібно надути 14 повітряних кульок. Частину кульок уже надули, залишилося ще 3. Скільки повітряних кульок уже надули?

$$14 - 3 = 11$$





У Петрика було 37 гривень.  
Він купив альбом. У нього  
залишилося 30 гривень.  
Скільки Петрик заплатив за  
альбом?

$$37 \text{ грн} - 30 \text{ грн} = 7 \text{ грн}$$

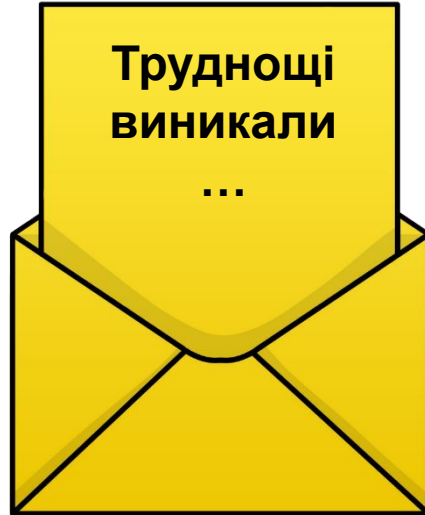
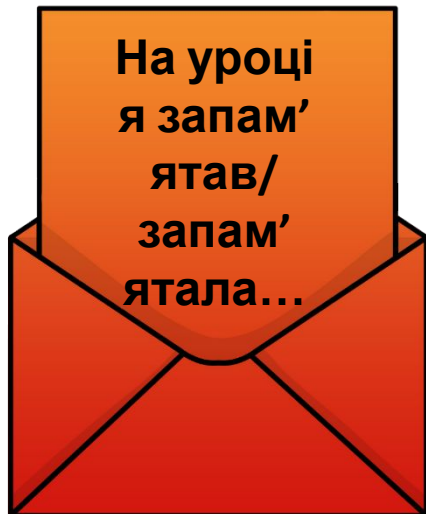
Сьогодні  
09.05.2023

*(щоби відкрити інтерактивне завдання, натисніть на помаранчевий прямокутник)*

**Відкрити онлайнове  
інтерактивне завдання**

**Сьогодні**  
**09.05.2023**

## Рефлексія «Загадкові листи»



**Обери лист, який ти хочеш  
відкрити**  
*(для відкриття по листі варто натиснути)*

