



Урок математики

Всі сідайте тихо, діти,
Домовляймося не шуміти,
Руку гарно піднімати,
На уроці не дрімати,
А знання мерщій хапати!
Щоб нам не було мороки,
Всі готові до уроку???
Тож гаразд, часу не гаймо
І урок розпочинаймо!



Девіз уроку!

Не просто слухати, **а чути!**

Не просто дивитися, **а бачити!**

Не просто відповідати, **а міркувати!**

Дружно й плідно **працювати!**



Привет!



Таблиці Шульте

| | | | | |
|-----------|-----------|-----------|-----------|-----------|
| 11 | 15 | 7 | 12 | 25 |
| 1 | 21 | 23 | 5 | 17 |
| 4 | 24 | 6 | 19 | 14 |
| 13 | 8 | 16 | 18 | 20 |
| 9 | 22 | 10 | 2 | 3 |




Математичний диктант

● ПЕРЕВІР

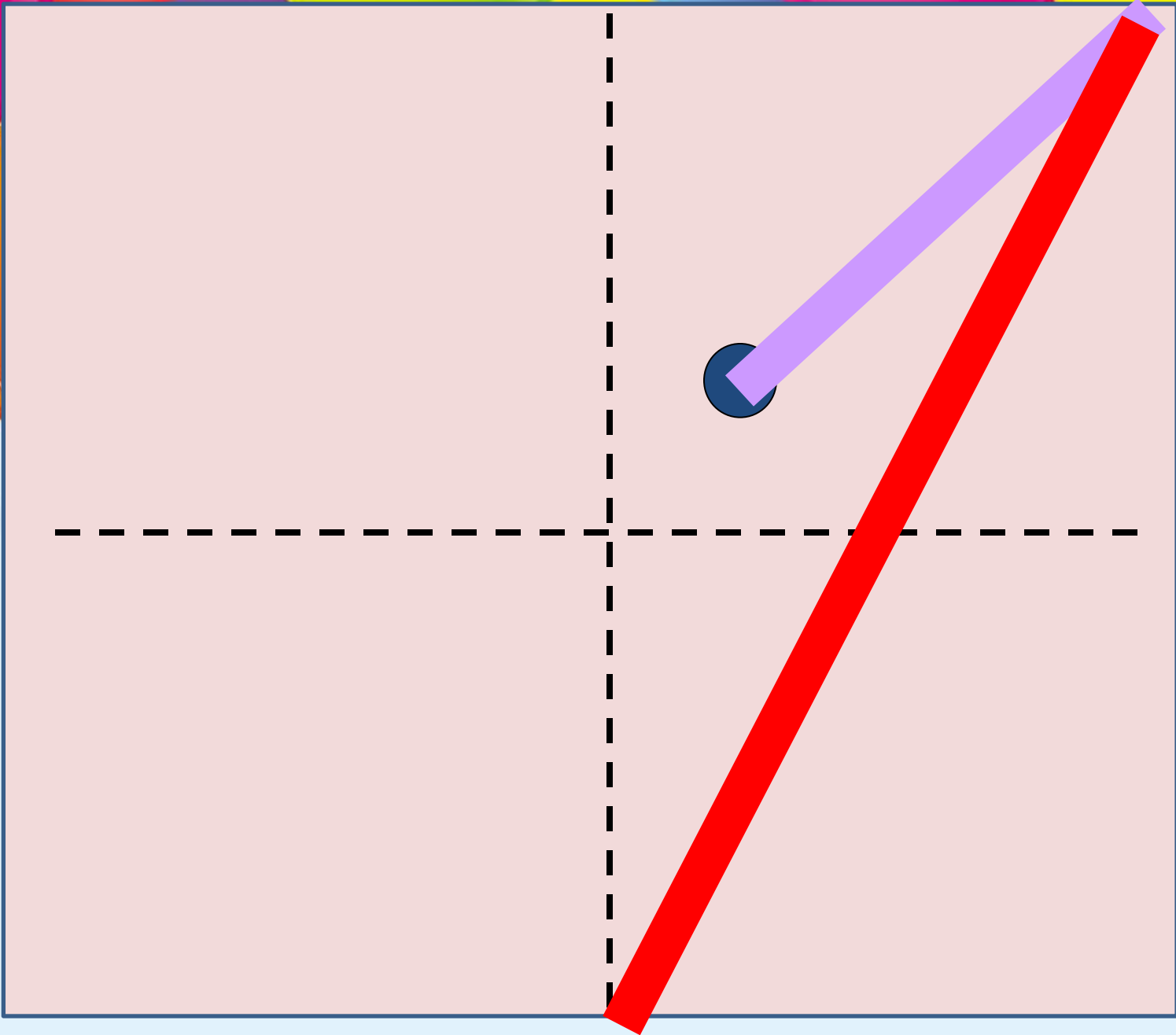
14 16 15 16

14 13 14 10



Каліграфічна хвилинка







Перевір

$$12+4=16 \quad 16$$

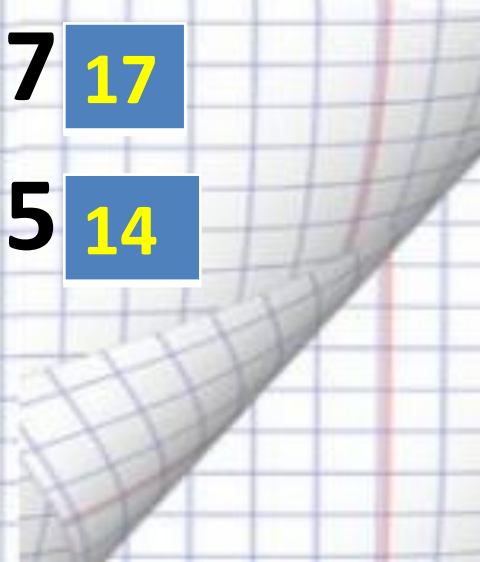
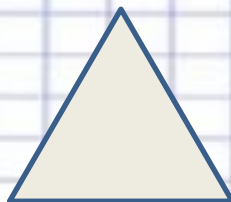
$$17-3=15 \quad 14$$

$$14-4=11 \quad 10$$

$$17-7+2=13 \quad 12$$

$$14-4+7=17 \quad 17$$

$$11+6-3=15 \quad 14$$





Порівняй

1 дм

1 см

16 см

1 дм 7 см

1 дм 4 см

13 см




Перевір

$1 \text{ дм} > 1 \text{ см}$

$16 \text{ см} < 1 \text{ дм} 7 \text{ см}$

$1 \text{ дм} 4 \text{ см} > 13 \text{ см}$



Фізкультхвилинка





Розв'яжи задачу



— 16 яблук

— ? яблук



— 4 яблука

Розв'яжи задачу



— ? яблук

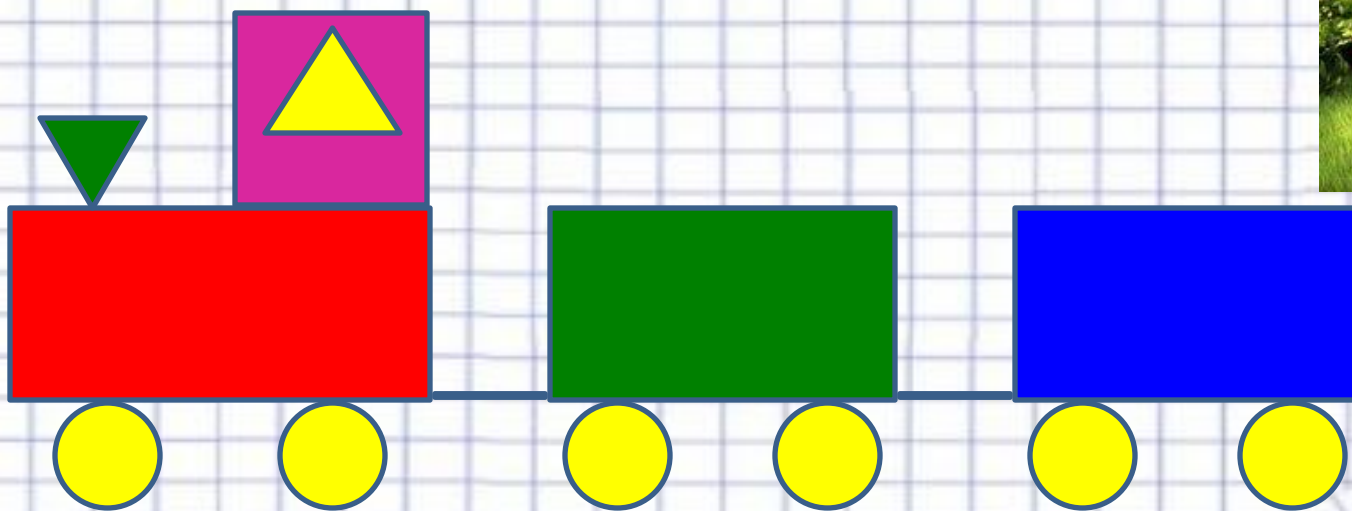


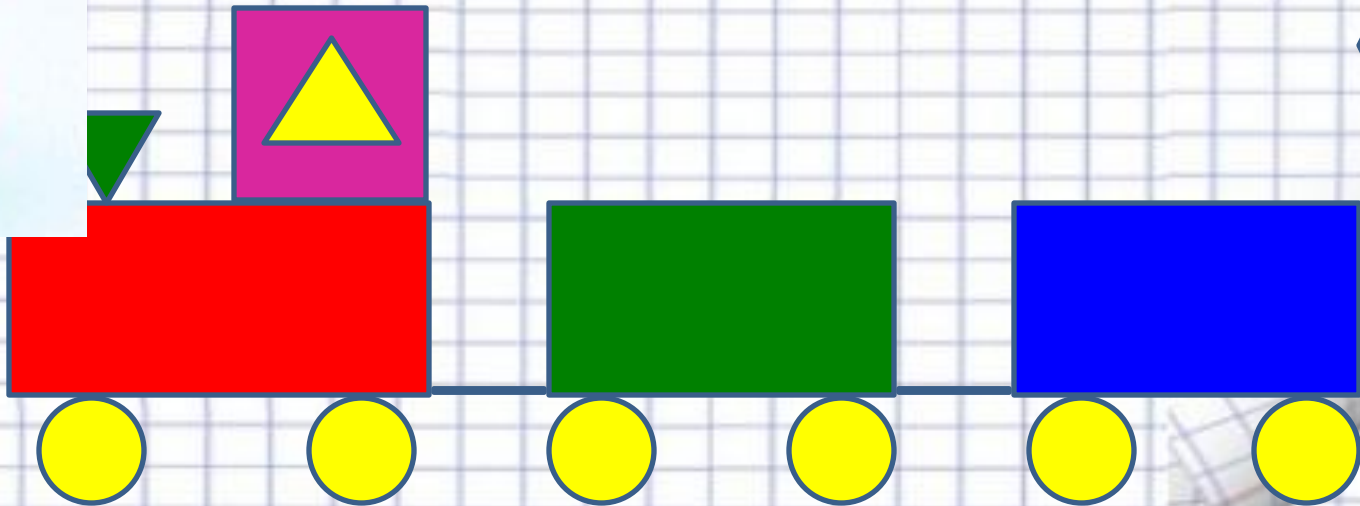

— 4 яблука

— 20 яблук



Назвіть, з яких фігур
складається поїзд.





Хвилинка цікавинка!



Дякуємо за допомогу!





• **МИ – МОЛОДЦІ!!**