

Сьогодні  
02.05.2023

Урок  
№ 11

3



**Повторення вивченого.  
Обчислення на основі нумерації.  
Порівняння числа і виразу.  
Розв'язування задач різних типів.**



очі  
дивляться



ротик  
мовчить



вуха  
слухають



руки, ноги  
не  
рухаються



голова  
працює

**Дай мені 5**



9 дес. 3 од.  
93

6 дес. 6 од.  
66

9 дес. 0 од.  
90

The image illustrates the place value composition of three numbers using smiley faces and hands holding signs:

- 58:** A smiley face holds a sign with "5 дес." (5 tens) in a blue circle and "8 од." (8 units) in a red circle.
- 6:** A smiley face holds a sign with "0 дес." (0 tens) in a blue circle and "6 од." (6 units) in a red circle.
- 21:** A smiley face holds a sign with "2 дес." (2 tens) in a blue circle and "1 од." (1 unit) in a red circle.

The numbers 58, 6, and 21 are displayed in large black font below their respective place value breakdowns.



Уточнення знань учнів про нумерацію чисел

◆ Назви числа на кульках у порядку зростання.

10 30 40 80

10 30 80 40

50 60 70 100

60 100 50 70

Підготовчі вправи. Вправа «Числові пірамідки»

- ❖ Заповніть числові «пірамідки».
- ❖ Кожне невідоме число є сумою двох чисел, розташованих нижче.



Назви «сусідів» числа  
90;  
«сусідів» числа 18;  
«сусідів» числа 53.





Сьогодні  
02.05.2023

## Вправа «Математична головоломка»

сума

$$\boxed{15} = \left( \begin{array}{c} +13 \\ -2 \end{array} \right) = \boxed{11}$$

різниця

сума

$$\boxed{45} = \left( \begin{array}{c} +44 \\ -1 \end{array} \right) = \boxed{43}$$

різниця

сума

$$\boxed{52} = \left( \begin{array}{c} +51 \\ -1 \end{array} \right) = \boxed{50}$$

різниця

сума

$$\boxed{100} = \left( \begin{array}{c} +95 \\ -5 \end{array} \right) = \boxed{90}$$

різниця



Числ	Десятки	Одиниці
94	9	4
11	1	1
92	9	2
30	3	0
73	7	3

- ◆ Назви масу кожної тваринки.
- ◆ Запиши назву найважчої тваринки; найлегшої тваринки.

7	6	кг,	2	кг
---	---	-----	---	----



2 кг



40 кг



5 кг



76 кг





**Ти солодке любиєш?  
Ну тоді про мене знаєш!  
Я над квітами літаю,  
Друзів медом пригощаю.  
Не велика й не мала,  
А зовуть мене ...**

**бджола**



Сьогодні  
02.05.2023

## Математичні приклади. Гра «Збираємо мед»




$15 - 5$	$10$	
$28 - 1$	$27$	
$95 + 5$	$100$	
$30 + 2$	$32$	
$25 - 1$	$24$	
$3 + 50$	$53$	



Сьогодні  
02.05.2023

## Робота з підручником. Збільшення числа на 1

Збільш на 1 кожне число в таблиці.



14	34	54	4	24	74	94	64	84	44
15	35	55	5	25	75	95	65	85	45

**Сьогодні**  
**02.05.2023**

## Робота з нумераційною таблицею

Знайдіть число, що має сусідів 34 та 36, 79 та 81, 20 та 22.


Назвіть найбільше число четвертого (шостого) десятка.

Назвіть числа, що мають однакову кількість десятків та одиниць.

Прочитайте числа восьмого (другого) десятка у зворотному порядку

1	2	3	4	5	6	7	8	9	10
11	12	13	14	15	16	17	18	19	20
21	22	23	24	25	26	27	28	29	30
31	32	33	34	35	36	37	38	39	40
41	42	43	44	45	46	47	48	49	50
51	52	53	54	55	56	57	58	59	60
61	62	63	64	65	66	67	68	69	70
71	72	73	74	75	76	77	78	79	80
81	82	83	84	85	86	87	88	89	90
91	92	93	94	95	96	97	98	99	100





Що тепер зайве? (20 — кругле число.) Що позначає нуль у записі цього числа?

Сьогодні  
02.05.2023

## Робота з підручником. Порівняння

$>$   $=$   $<$



Порівняй.

$$45 - 5 \boxed{>} 4$$

$$56 \boxed{<} 56 + 1$$

$$78 - 70 \boxed{>} 6$$

Сьогодні  
02.05.2023

## Робота з підручником. Порівняння

$>$   $=$   $<$



Порівняй.

$$99 + 1 \boxed{=} 100$$

$$0 \boxed{<} 10 - 1$$

$$8 \boxed{<} 80 - 0$$

Сьогодні  
02.05.2023

## Робота з підручником. Порівняння іменованих чисел

$>$   $=$   $<$



Порівняй.

4 см  $<$  7 см

7 м  $<$  17 м

5 грн  $<$  50

грн



Сьогодні  
02.05.2023

## Робота з підручником. Порівняння іменованих чисел

$>$   $=$   $<$



Порівняй.

80 кг  $<$  100 кг.

70 кг  $>$  7 кг

100 кг  $>$  10 кг

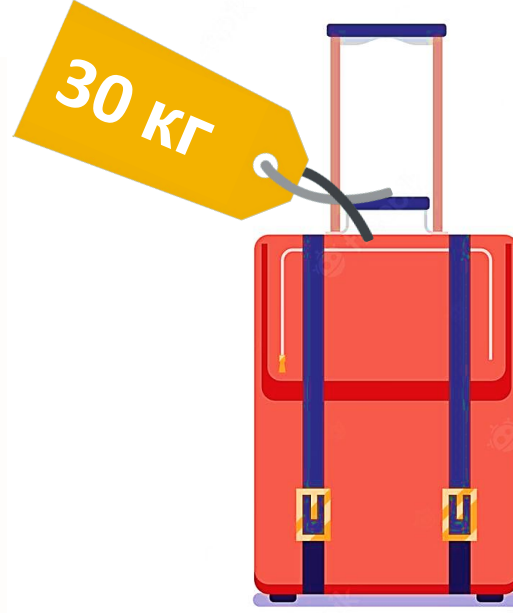
Сьогодні  
02.05.2023

## Робота з підручником. Визначення маси

❖ Біля кожного багажу записано вираз, за яким можна обчислити його масу. Визнач масу кожного багажу.



$$10 - 5 + 1$$



$$50 - 30 + 10$$



$$15 - 5 + 1$$

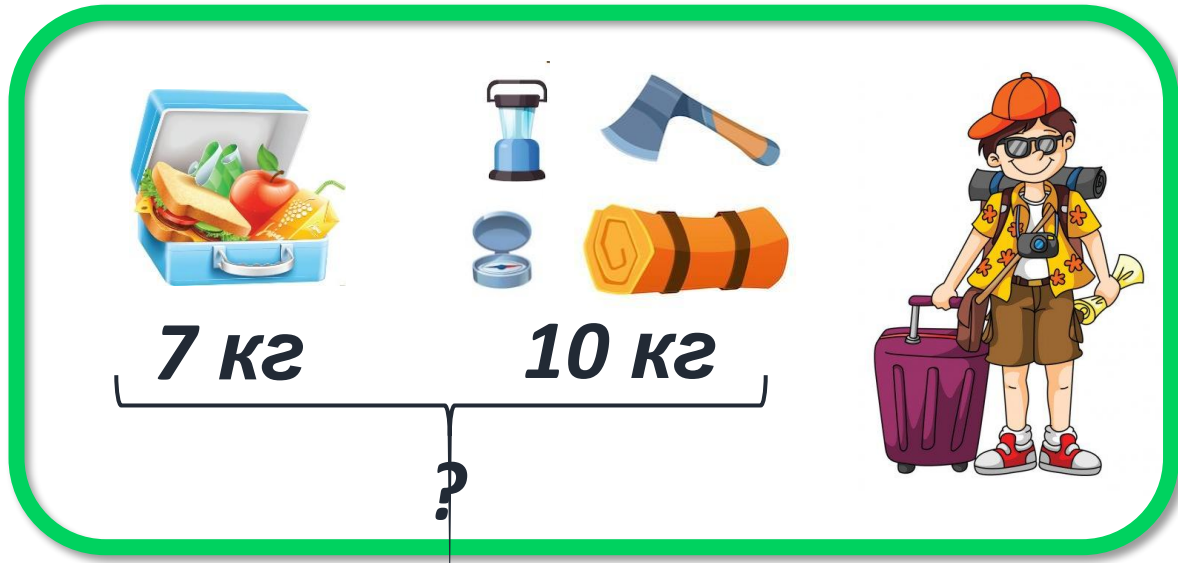


$$5 + 20$$

Сьогодні  
02.05.2023

*(щоби відкрити інтерактивне завдання, натисніть на помаранчевий прямокутник)*

**Відкрити онлайнове  
інтерактивне завдання**



**7 кг**      **10 кг**

?

➡ Вирушивши в похід, турист узяв 7 кг продуктів і 10 кг туристичного спорядження.

➡ Скільки кілограмів багажу нестиме турист?

7	кг	+	10	кг	=	17	кг
---	----	---	----	----	---	----	----

**Відповідь: 17 кг багажу нестиме турист.**




70



?

100



Для приготування горіхових ролетів кондитер використав 100 горіхів. Із них 70 горіхів — грецькі, а решта — лісові.



Скільки лісових горіхів використав кондитер?


$$100 - 70 = 30 \text{ (г.)}$$

**Відповідь: 30 лісових горіхів використав кондитер.**





**60 грн      ?, на 30 грн >**



**Квиток до кінотеатру коштує 60 грн, а квиток до мотузкового парку — на 30**



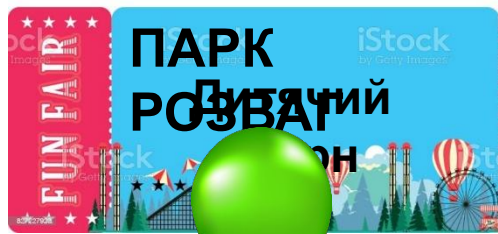
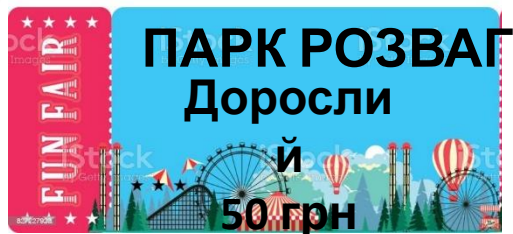
**грн дорожчий. Скільки гривень коштує квиток до мотузкового парку?**

$$6 \text{ грн} + 3 \text{ грн} = 9 \text{ грн}$$

**Відповідь: 90 грн коштує квиток**

**до мотузкового**





50 грн

?, на 40 грн <



Квиток до парку розваг для дорослих коштує 50 грн, а дитячий – на 40 грн



дешевший.  
Скільки гривень коштує квиток до парку розваг для дітей?

$$50 \text{ грн} - 40 \text{ грн} = 10 \text{ грн}$$

Відповідь: 10 грн коштує квиток до

парку розваг для дітей

