

Сьогодні
28.04.2023

Урок
№ 11

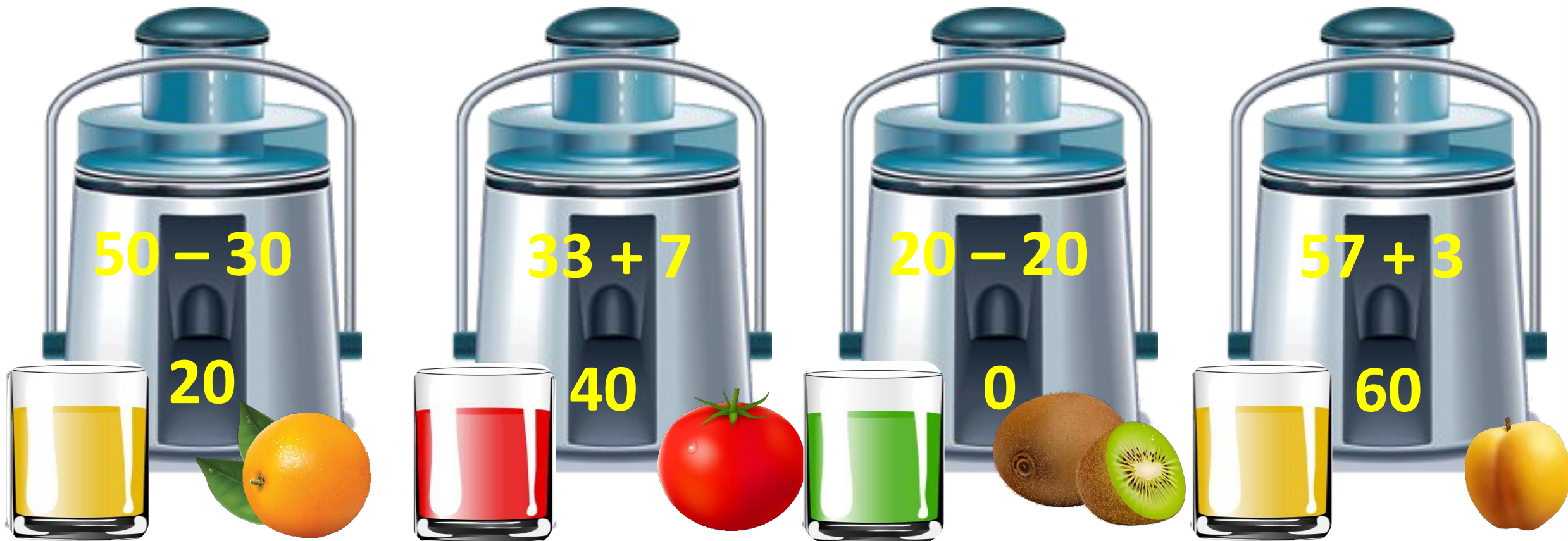
2



**Обчислення на основі нумерації.
Знаходження невідомого доданка.
Складання задачі за числовими даними.
Розпізнавання об'ємних геометричних
фігур**

Сьогодні
28.04.2023

Підготовчі вправи. Гра «Робимо сік»



Blender	Math Problem	Result	Juice Color	Fruit
1	$50 - 30$	20	Yellow	Orange
2	$33 + 7$	40	Red	Tomato
3	$20 - 20$	0	Green	Kiwi
4	$57 + 3$	60	Yellow	Apple



$54 - 10$
 44

A blender with a glass of red juice, a cherry, and the math problem $54 - 10 = 44$.



$36 + 4$
 40

A blender with a glass of yellow juice, a slice of melon, and the math problem $36 + 4 = 40$.



$69 - 9$
 60

A blender with a glass of green juice, an apple, and the math problem $69 - 9 = 60$.



$82 + 8$
 90

A blender with a glass of yellow juice, an orange, and the math problem $82 + 8 = 90$.

Сьогодні
28.04.2023

Ланцюжкові приклади


$$96 - 90 + 40 - 1 - 5 + 30 = 70$$


$$14 + 5 - 10 + 70 + 1 - 40 = 40$$

Назвіть числа, що отримали в кінці кожного ланцюжка.

Сьогодні
28.04.2023

Мотивація навчальної діяльності. Робота з нумераційною таблицею

Прочитайте числа,
у складі яких є 5
одиниць.

Назвіть сусідів
чисел 56, 78, 34, 89,
40.

Назвіть числа, що
на десяток менші
та більші
поданого: 34, 67, 82.

1	2	3	4	5	6	7	8	9	10
11	12	13	14	15	16	17	18	19	20
21	22	23	24	25	26	27	28	29	30
31	32	33	34	35	36	37	38	39	40
41	42	43	44	45	46	47	48	49	50
51	52	53	54	55	56	57	58	59	60
61	62	63	64	65	66	67	68	69	70
71	72	73	74	75	76	77	78	79	80
81	82	83	84	85	86	87	88	89	90
91	92	93	94	95	96	97	98	99	100



11 12 13



15 16 17



26 27 28



23 24 25



28 29 30



10 11 12

Сьогодні
28.04.2023

Робота з підручником. Порівняння

$>$ $=$ $<$



Порівняй.

$$39 + 1 \boxed{>} 38$$

$$45 - 40 \boxed{<} 50$$

$$67 - 7 \boxed{>} 6$$

Сьогодні
28.04.2023

Робота з підручником. Порівняння

$>$ $=$ $<$



Порівняй.

$$10 \boxed{>} 1 + 0$$

$$66 \boxed{<} 70 - 1$$


$$100 \boxed{>} 50 + 40$$

Сьогодні
28.04.2023

Робота з підручником. Розпізнавання об'ємних геометричних фігур



Зі скількох фігур
складено
піраміду?



15

8; 1; 6

Скільки в ній
кубів; конусів;
циліндрів?


$8 - 6 = 2$

На скільки менше
циліндрів, ніж
кубів?

$6 - 1 = 5$

На скільки більше
циліндрів, ніж
конусів?

❖ Скільки горіхів є в дуплі,
якщо в ньому поміщається 15 горіхів?



Ще ці 5
горіхів — і
дупло буде
повне.



Розв'яжи задачу,
скориставшись
підказкою.

$$\boxed{10} + 5 = 15$$

Сьогодні
28.04.2023

**Робота у зошиті
(сторінка 40).**



- Напиши за зразком.



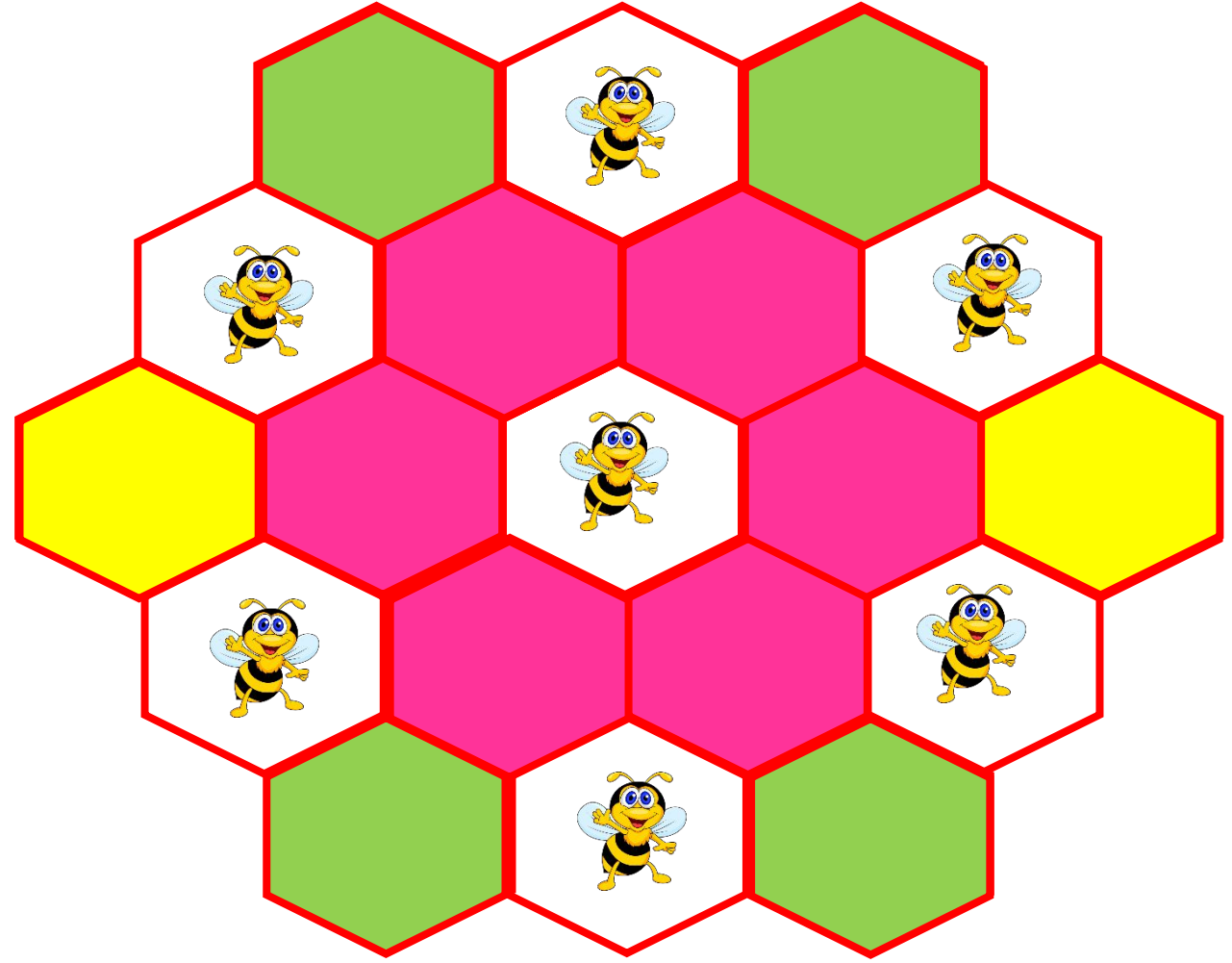
6	7	6	7	6	7	6	7	6	7	6	7	6	7	6	7
7	6	7	6	7	6	7	6	7	6	7	6	7	6	7	6

- Зафарбуй соти вказаними кольорами.


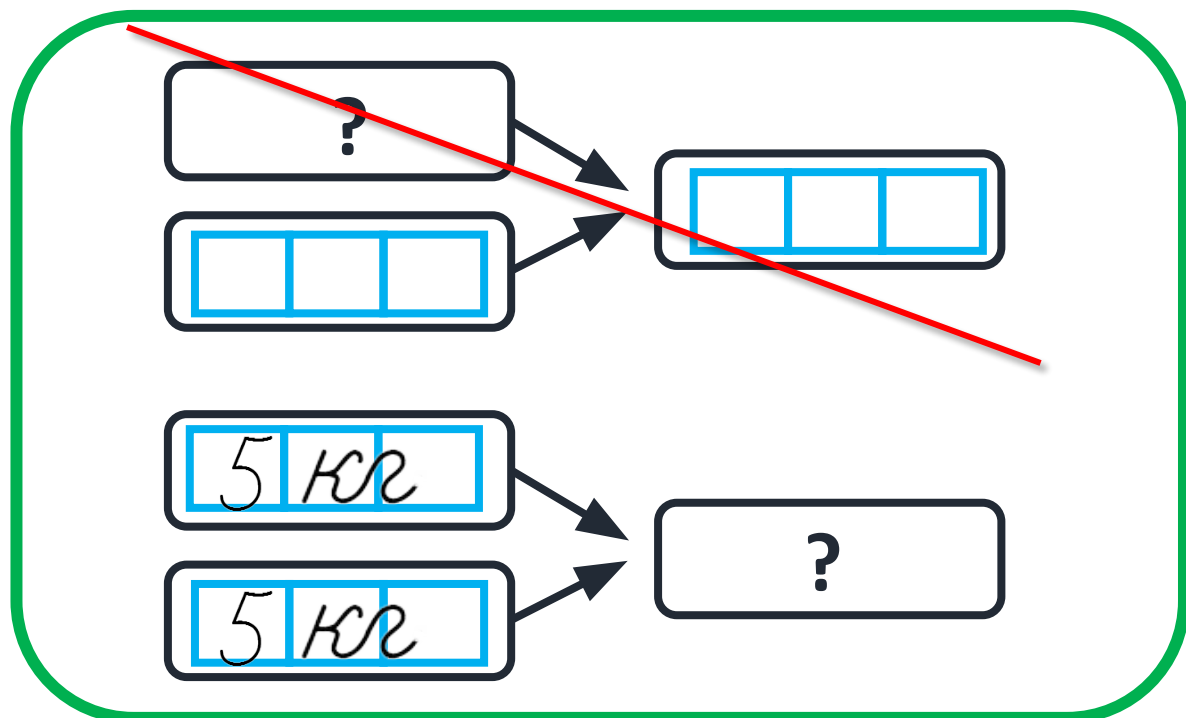
100 – 

25 – 

50 – 



- Вибери схему, яка відповідає задачі.
- Запиши в цю схему числа.
- Розв'яжи задачу.



Купили 5 кг моркви і стільки само цибулі.



Скільки всього кілограмів моркви й цибулі купили?

$$5 \text{ кг} + 5 \text{ кг} = 10 \text{ кг}$$

Відповідь 10 кг моркви й цибулі купили.

Ь:

Сьогодні
28.04.2023

(щоби відкрити інтерактивне завдання, натисніть на помаранчевий прямокутник)

**Відкрити онлайнове
інтерактивне завдання**