

Сьогодні
03.06.2021

Урок
№ 7





**Додавання й
віднімання чисел у
межах 100 на основі
нумерації. Розв’
язування задач.
Співвідношення між
одиницями
вимірювання довжини**






**Ось і знов дзвінок лунає,
Мелодійно і срібно
звучить.
Він до класу дітей скликає,
Щоб успішно нового
навчить**

$$2 + 6 =$$



$$2 + 8 =$$





$8-6=$




$10-8=$




$$9 + 6 =$$



$$18 + 2 =$$



$29 - 9 =$ 

$20 + 21 =$ 





Вересня
Класна робота

1 0 9 8 1 0 9 8 1 0 9 8



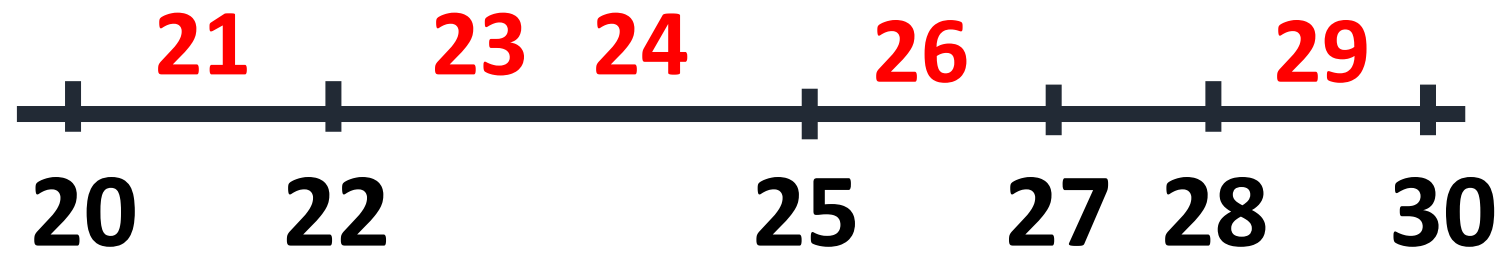
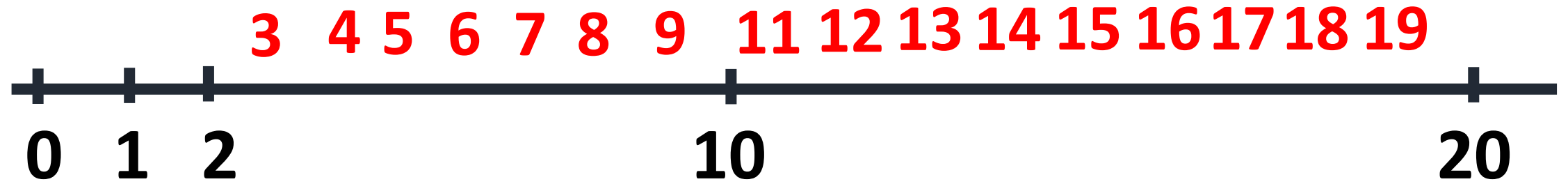
РУХЛИВА ВІТРАВА!



Сьогодні
03.06.2021

**Робота з
підручником
з математики
Антоніни Заїки
с. 10**





Сьогодні
03.06.2021

Обчисли

$50+1=$

51

$50+3=$

53

$43+1=$

44

$53+2=$

55

$43-1=$

42

$45-2=$

43

$40-1=$

39

$10-2=$

8

Сьогодні
03.06.2021

Обчисли

$30+8=$

8

$40+7=$

47

$8+30=$

38

$7+40=$

47

$38-8=$

30

$47-7=$

40

$38-30=$

8

$47-47=$


0

Першого тижня вересня було 3 дощові дні. Скільки днів було без дощу?
Яка погода зараз у нас?

1 тиждень = 7

днів

$$7 - 3 = 4$$



Сьогодні
03.06.2021

Обчисли

$88-1=87$

$85+2=87$

$88-61=27$

$85-42=43$

$54-30=24$

$85-40=45$

$54+30=84$

$85-2=83$



1 дм = см

3 дм = см

2 дм = см





BCIM
pptx

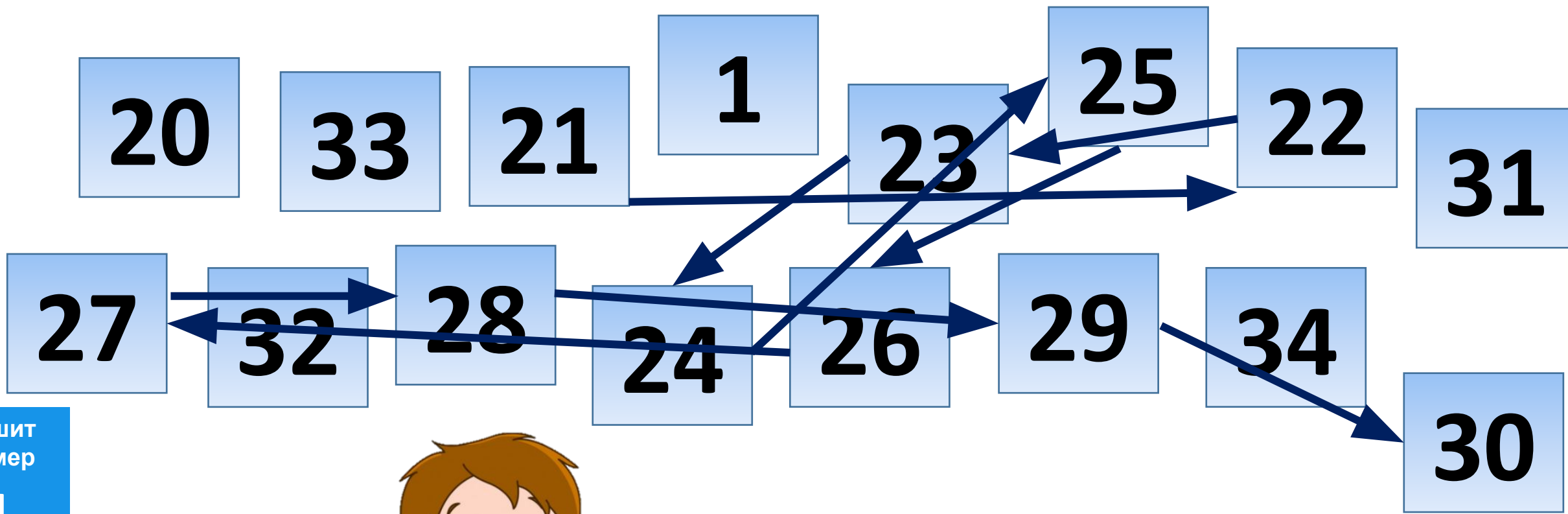
Сьогодні
03.06.2021



**Робота з зошитом
з математики
Антоніни Заїки,
Світлани
Тарнавської
с. 9**

Сьогодні
03.06.2021

З'єднай лініями числа третього десятка від найменшого до найбільшого.



Учні другого класу вели календар погоди.
Протягом двох тижнів вересня 4 дні були
похмурими, решта днів – сонячні.

1) Скільки днів учні вели календар
погоди?

1) $7+7=14$ (ДН.)

2) Скільки днів було
сонячно?

2) $14-4=10$ (ДН.)



Учні другого класу вели календар погоди.
Протягом двох тижнів вересня 4 дні були
похмурими, решта днів – сонячні.

3) Яких днів більше?

3) $10 - 4 = 6$ (дн.)

Відповідь: 1) 14 2) 10 3) 6

Сьогодні
03.06.2021

Скільки листочків зібрали діти для гербарію?



20



40

Розв'язанн $20+40=60$ (л.)

Я:


Відповідь: 60 листочків.

Вартість якої монети найбільша?

10к.

50к.

1
грн





**Опрацювати
№ 6, 7
на сторінці 10**

Сьогодні
03.06.2021

(щоби відкрити інтерактивне завдання, натисніть на помаранчевий прямокутник)

**Відкрити онлайнове
інтерактивне завдання**

Сьогодні
03.06.2021

Вправа «Інтерв'ю»

Чого ви навчилися на уроці?

Що найбільше вас вразило чи здивувало під час уроку?



Що нового ви сьогодні дізнались?

Чи було вам важко?
Якщо так, то що саме?

Продовжіть речення.
Тепер я знаю, що ...

Рефлексія. Оберіть відповідну цеглинку лего.



*На уроці мені
дуже сподобалось.*



*На уроці мені
сподобалось.*



*На уроці мені
не сподобалось.*