

Сьогодні
03.03.2023

Урок
№82



**Обчислення виду $18 - 5$.
Складання за малюнком задачі на
знаходження суми та задачі на
різницеве порівняння.**

Сьогодні
03.03.2023

Організація класу

**Любе сонечко
ясно світить,
Посилає всім
привіти,
Ніжно гріє і
ласкає,**



**До роботи
закликає.
Не баріться,
поспішайте,
І навчатись
починайте.**



Сьогодні
03.03.2023

Підготовчі вправи. Складання та обчислення виразу

- ❖ До кожного малюнка склади вираз та обчисли його значення.




$$10 + 4 = 14$$




$$10 + 2 = 12$$

Підготовчі вправи. Складання та обчислення виразу

❖ До кожного малюнка склади вираз та обчисли його значення.



$$10 + 5 = 15$$



$$10 + 10 = 20$$

Сьогодні
03.03.2023

Усні обчислення. Гра «Чи дістануться Вовчик і Капітошка м'яча?»



$5 + 3$

$5 - 4$

$- 2$

$+ 8$

$+ 4$


$+ 1$

$+ 1$



$+ 6$

Зайчик рухався по ковзанці. На льоду від ковзанів залишались сліди. Чи можеш ти впізнати у цих слідах геометричні фігури?



Розглянь
випадок
обчислення.



$$6 - 2 = 4$$

$$6 - 2 = 4$$

$$16 - 2 = 14$$



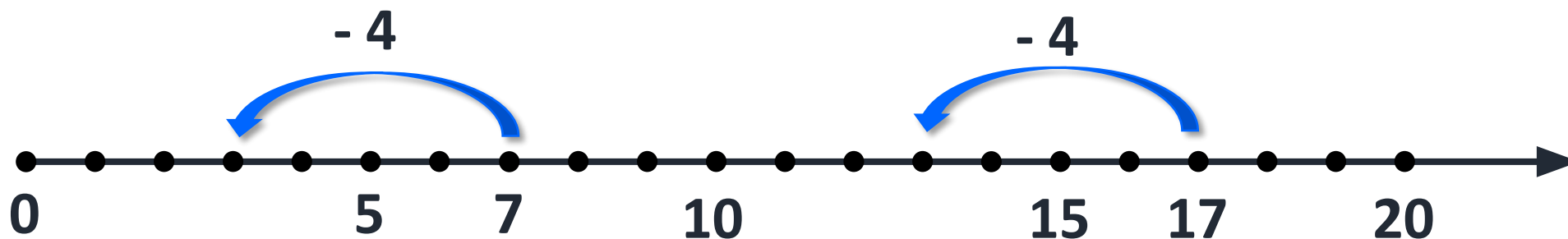
$$16 - 2 = 14$$





Одиниці
віднімаємо від
ОДИНИЦЬ.

$$16 - 2 = 14$$



$$7 - 4 = 3$$

$$17 - 4 = 13$$

Виконай обчислення,
скориставшись числовим
променем.

Сьогодні
03.03.2023

Робота з підручником. Обчислення виразів

Обчисли.



$$4 - 2 = 2$$

$$5 - 3 = 2$$

$$14 - 2 = 12$$

$$15 - 3 = 12$$

Сьогодні
03.03.2023

Робота з підручником. Обчислення виразів

Обчисли.



$$8 - 7 = 1$$

$$9 - 4 = 5$$

$$18 - 7 = 11$$

$$19 - 4 = 15$$

Сьогодні
03.03.2023

Робота з підручником. Обчислення виразів

Обчисли.



$$6 - 5 = 1$$

$$7 - 1 = 6$$

$$16 - 5 = 11$$

$$17 - 1 = 16$$

- *Яка маса картоплі й моркви разом?*

- *На скільки кілограмів картоплі більше?*



За малюнком усно склади дві задачі. Розв'яжи їх.

$$16 \text{ кг} + 3 \text{ кг} = 19 \text{ кг}$$

$$16 \text{ кг} - 3 \text{ кг} = 13 \text{ кг}$$

Сьогодні
03.03.2023

**Робота у зошиті
(сторінка 17).**



• Виконай указані дії. Результати запиши в таблицях.

- 17
- 15
- 19
- 14
- 16
- 18



- 14
- 12
- 16
- 11
- 13
- 15

- 18
- 16
- 14
- 17
- 15
- 19



- 14
- 12
- 10
- 13
- 11
- 15

Робота у зошиті


- Склади задачу за малюнком.
- Розв'яжи задачу.



| | | | | | | | | | | | | | | |
|---|---|---|---|---|---|---|----|--|--|--|--|--|--|--|
| 1 | 5 | - | 3 | = | 1 | 2 | кг | | | | | | | |
|---|---|---|---|---|---|---|----|--|--|--|--|--|--|--|

Відповідь: 1 2 кг.

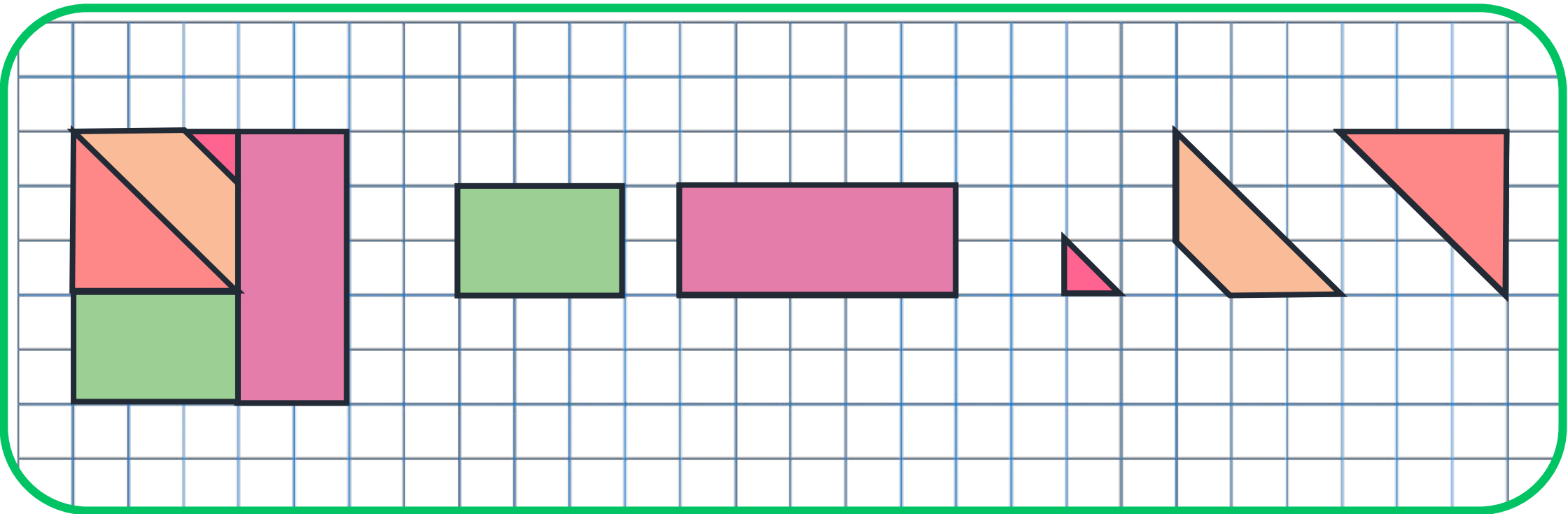
- Проклади шлях Дмитрика та шлях Оксанки за вказаними для них маршрутами. Чи потраплять вони до будиночка?








Сьогодні
03.03.2023

Робота в зошиті

- Зафарбуй кожну фігуру відповідним кольором.



Розшифровка та розгадування прикладів

| | |
|---|----|
|  | 10 |
|  | 2 |
|  | 5 |
|  | 8 |
|  | 3 |

$$\text{Red bucket} + \text{Red scarf} = 18$$

$$\text{Brown branch} + \text{Carrot} + \text{Snowman} = 10$$

$$\text{Red bucket} - \text{Red scarf} + \text{Red bucket} = 12$$

$$\text{Red scarf} + \text{Carrot} + \text{Brown branch} = 15$$

$$\text{Snowman} + \text{Snowman} + \text{Snowman} = 9$$

Сьогодні
03.03.2023

Рефлексія. Вправа «Печиво від совенят»

Найкраще
мені
вдалося...

Вдома я
розкажу
про...

Сьогодні
на уроці
я
навчився/
навчилася
...

Урок
завершую
з
настроєм
...

