

Математика

Сьогодні
18.04.2023

Урок
№ 10

5



Узагальнення і систематизація вивченого

Сьогодні
18.04.2023

Уточнення знань учнів про нумерацію чисел до 20

◆ Назви числа на кульках у порядку зростання.



3

13

18

16



8

19

7

18

Сьогодні
18.04.2023

Уточнення знань учнів про нумерацію чисел до 20

◆ Назви числа на кульках у порядку зростання.



7 11 16 20

7 11 20 16



5 9 15 17

9 17 5 15

Сьогодні
18.04.2023

Уточнення знань дітей про порядок розташування чисел у межах

100

37	38	39	40	41	42	43	44
19	20	21	22	23	24	26	27
54	55	56	57	58	59	60	61
78	79	80	81	82	83	84	85
90	91	92	93	94	95	96	97
15	16	17	18	19	20	21	22
79	80	81	82	83	84	85	86
59	60	61	62	63	64	65	66





- Це кругле число.
- У цих числах рівна кількість десятків та одиниць.
- Це числа другого десятка.
- У цьому числі 5 десятків і 7 одиниць.
- Сусіди цього числа 61 та 63.
- Якщо до цього числа додати 1, то отримаємо 8 десятків.
- Назвіть найбільше число десятого десятка.

Сьогодні
18.04.2023

Підготовчі вправи. Гра «Зайві числа»



Знайдіть у ряду чисел два зайві числа. Поясніть свій вибір.

Зайві числа 8 та 5, бо вони одноцифрові. Решта — двоцифрові.

Визначте істинність
чи хибність виразу.



$16 - \text{це } 10 + 6?$

$14 - \text{це } 1 + 4?$

$17 - 7 = 10?$



Визначте істинність
чи хибність виразу.



$$13 - 1 = 14?$$

45 — це 4 дес. і 5 од.?

2 дес. і 1 од.— це число
12?



Визначте істинність
чи хибність виразу.



$$67 \text{ — це } 6 + 7?$$

$$54 - 3 = 52?$$

$$29 + 1 = 40?$$



Сьогодні
18.04.2023

Гра «Загадкова скринька»



Сьогодні
18.04.2023

Робота з підручником. Обчислення виразів

Обчисли.



$$15 - 5 = 10$$

$$40 - 1 = 39$$

$$10 + 8 = 18$$

$$69 + 1 = 70$$

Сьогодні
18.04.2023

Робота з підручником. Обчислення виразів

Обчисли.



$$2 + 8 + 2 = 12$$

$$6 + 4 + 4 = 14$$

$$13 - 3 + 7 = 17$$

$$13 + 3 - 5 = 11$$

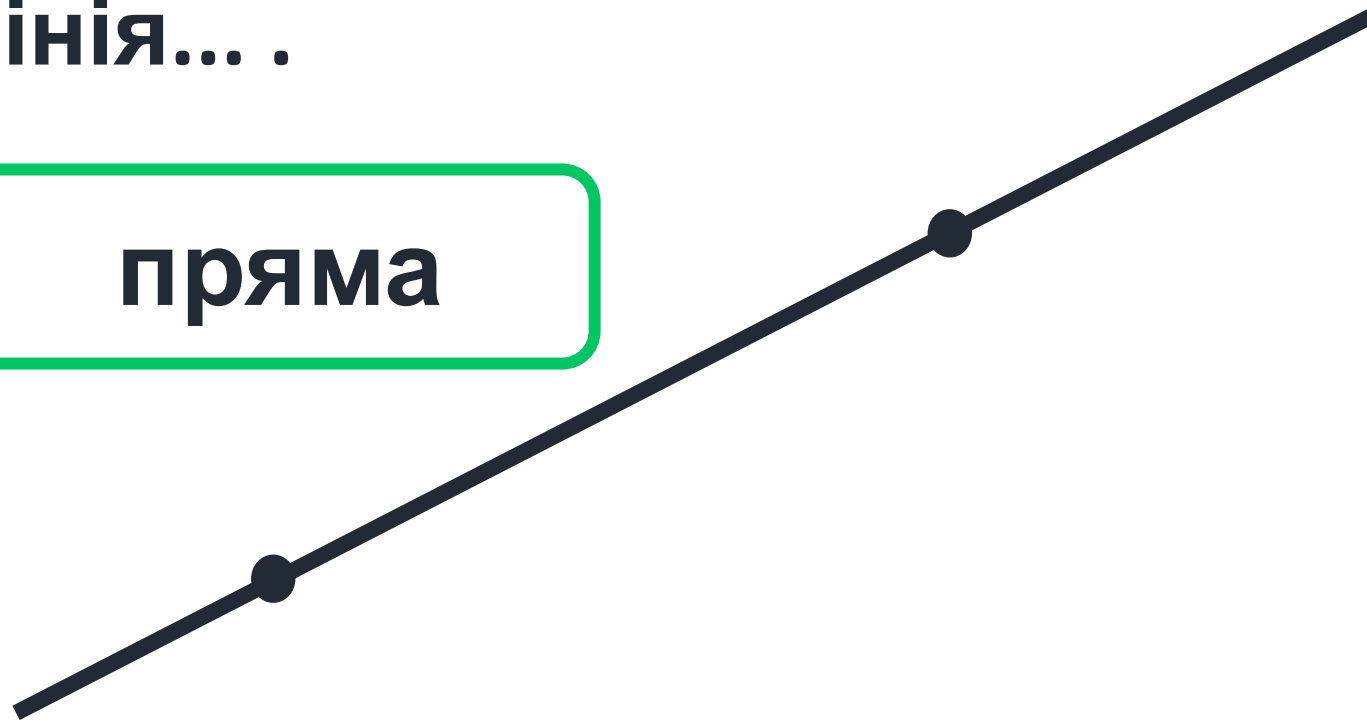


По ній довго можна йти,
І початку там нема.
Кінця-краю не знайти.
Бо це лінія... .



пряма

Які фігуру
отримаємо, якщо на
прямій поставимо
дві точки?



Сьогодні
18.04.2023

Гра «Заморочки з бочки». Відгадування загадок

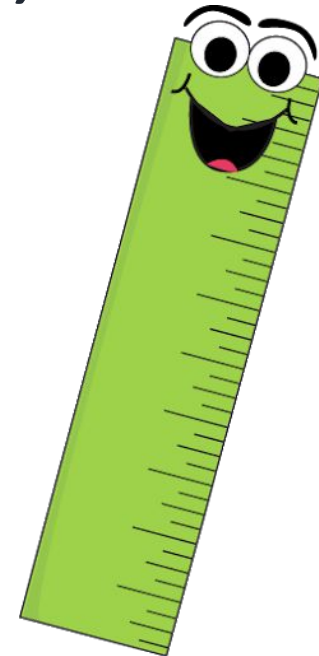


Щоб довжини виміряти.
Цей же прилад я візьму.
Інструмент цей треба мати.
Вийде не пряма, а змійка,
Як загубиться... .



лінійка

Які міри довжини
можна знайти на
лінійці?



Сьогодні
18.04.2023


Гра «Заморочки з бочки». Відгадування загадок



Їх в підручнику багато,
кожну треба
розв'язати.
Не будьте ви ледачі,
розв'язуйте ...

задачі






32



?, на 6 >



Діти в лісі назбирали 32 ягоди малини, а ожини — на 6 ягід більше.



Скільки ягід ожини назбирали діти?




		3	2	+	6	=	3	8	(яг.										
)										


Відповідь: 38 ягід ожини назбирали діти.

Сьогодні
18.04.2023


Удосконалення навичок розв'язування задач



56



4



До їдальні завезли 56 кг картоплі. Витратили за тиждень — 4 кг.




Скільки кілограмів картоплі залишилося?



$$56 - 4 = 52 \text{ (кг)}$$

Відповідь: 52 кг картоплі залишилося.



1 тижд. – 12 ст.
2 тижд. – ?, на 3 ст. >



Оксанка за тиждень
прочитала 12 сторінок, а за
другий тиждень — на 3

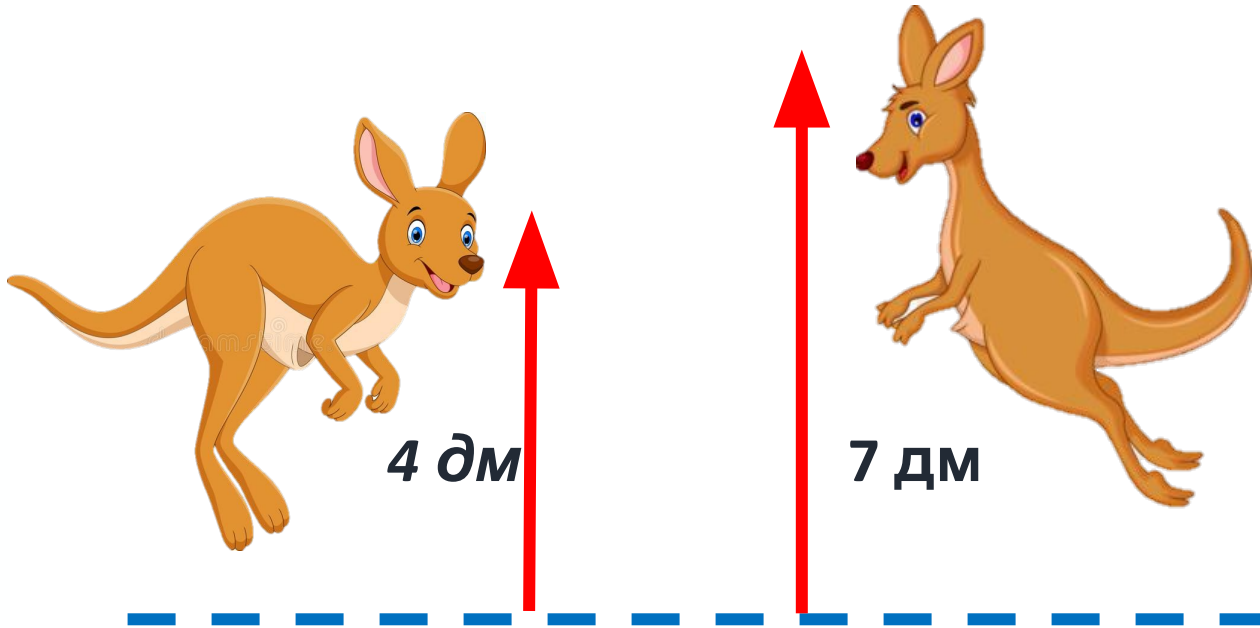


сторінки більше.
Скільки сторінок
прочитала Оксанка за
другий тиждень?

1	2	+	3	=	1	5	(ст.)
---	---	---	---	---	---	---	-------

**Відповідь: 15 сторінок
прочитала**

Двоє кенгуру стрибали у висоту.
Перший кенгуру підстрибнув на 4 дм, а другий — на 7 дм.
Хто підстрибнув вище? На скільки?




$$7 \text{ дм} - 4 \text{ дм} = 3 \text{ (дм)}$$

Відповідь: другий кенгуру підстрибнув вище на 3 дм.

Десять жвавих горобців
Приземлились на посів.
Як запорпалися в житі,
То й забули все на світі!
А тим часом кіт-хитрюга
Підбрався, як злодюга,
В гороб'ячу зграю – скік!
Одного схопив та й втік.
Отака-то прикрість
сталась,
Скільки в житі їх
зосталось?



Курка півню каже: «Друже,
Бачу, ти поправивсь
дуже».
Півень згодився: «Угу»,
І подибав на вагу.
Став Петько двома ногами
І затяг два кілограми.
- Ого-го, - гукнув, - ану,
Стану тільки на одну.
Ну, то хто з вас, діти,
скаже,
Скільки зараз півень
важить?



• Обчисли



$$30 + 4 + 3 = 37$$

$$7 - 4 + 7 = 10$$

$$80 + 2 - 0 = 82$$

$$1 + 9 + 0 = 10$$

$$10 + 6 + 4 = 20$$

$$2 + 4 + 4 = 10$$

$$90 - 2 + 1 = 89$$

$$8 - 3 + 5 = 10$$

Сьогодні
18.04.2023

(щоби відкрити інтерактивне завдання, натисніть на помаранчевий прямокутник)

**Відкрити онлайнове
інтерактивне завдання**