

Сьогодні
02.03.2023

Урок
№81



**Обчислення виду $13 + 2$.
Задачі різних типів з одним
сюжетом.**



Підготовчі вправи. Вправа «Числові пірамідки»

- ❖ Заповніть числові «пірамідки».
- ❖ Кожне невідоме число є сумою двох чисел, розташованих нижче.



Підготовчі вправи. Вправа «Числові пірамідки»

- ❖ Заповніть числові «пірамідки».
- ❖ Кожне невідоме число є сумою двох чисел, розташованих нижче.



Сьогодні
02.03.2023

Підготовчі вправи. Вправа «Числові пірамідки»

- ❖ Заповніть числові «пірамідки».
- ❖ Кожне невідоме число є сумою двох чисел, розташованих нижче.



Білка на кухні господарювала,
Мила тарілки, сушила,
складала.

Десь помила штук

дванадцять,

Потім ще *чотири*,

Дві тарілочки розбила,


Скільки цілих милишила?

$$12 + 4 - 2 = 14$$



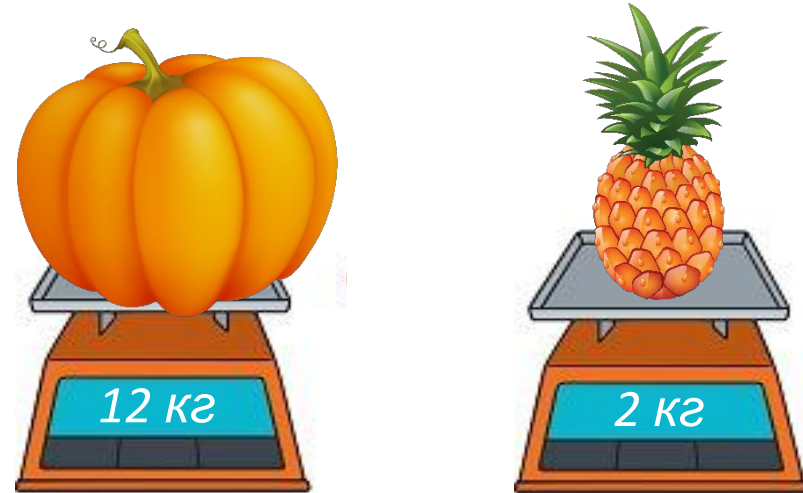
Довго в небо кіт
вдивлявся,
Зірочками милувався.
Став він зорі рахувать,
Додавать і віднімать.
Двадцять зірок налічив,
Потім сів і відпочив.

$$20 - 1 = 19$$



Раптом зірочка
зірвалась,
Полетіла й десь
сховалась.
Став кіт зірочку
шукати,
Зорі знову рахувати.
Котика допоможіть

Розглянь малюнок.
Дай відповіді на запитання.



- Що важче — ананас чи гарбуз?
- На скільки кілограмів?
- Яка маса ананаса й гарбуза разом?


$$12 \text{ кг} > 2 \text{ кг}$$

$$12 \text{ кг} - 2 \text{ кг} = 10 \text{ кг}$$

$$12 \text{ кг} + 2 \text{ кг} = 14 \text{ кг}$$





Розглянь випадок обчислення.



$$3 + 2 = 5$$

$$3 + 2 = 5$$
$$13 + 2 = 15$$



$$13 + 2 = 15$$

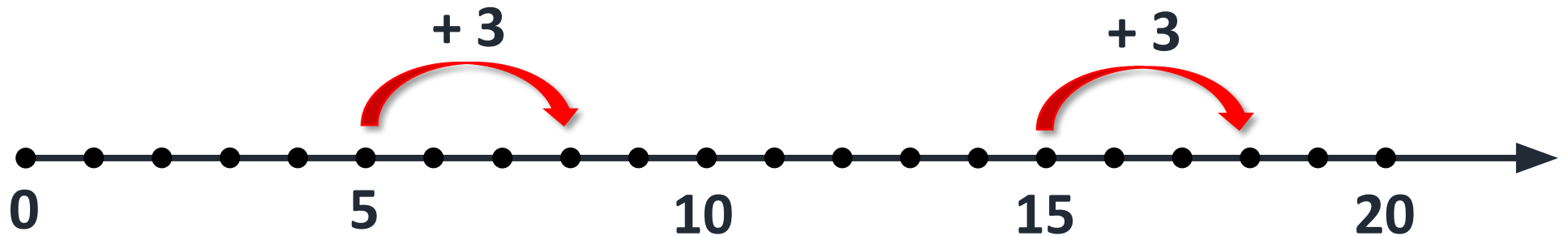


**Одиниці додаємо
до одиниць.**

$$13 + 2 = 15$$

Сьогодні
02.03.2023

Робота з підручником. Додавання виду $13 + 2$



$$5 + 3 = 8$$

$$15 + 3 = 18$$

Виконай обчислення,
скориставшись числовим
променем.

Сьогодні
02.03.2023

Робота з підручником. Обчислення виразів

Обчисли.



$$3 + 3 = 6$$

$$5 + 4 = 9$$

$$13 + 3 = 16$$

$$15 + 4 = 19$$

Обчисли.



$$6 + 2 = 8$$

$$1 + 7 = 8$$

$$16 + 2 = 18$$

$$11 + 7 = 18$$

Сьогодні
02.03.2023

Робота з підручником. Обчислення виразів

Обчисли.



$$3 + 5 = 8$$

$$2 + 5 = 7$$

$$13 + 5 = 18$$


$$12 + 5 = 17$$

Сьогодні
02.03.2023

**Робота у зошиті
(сторінка 16).**

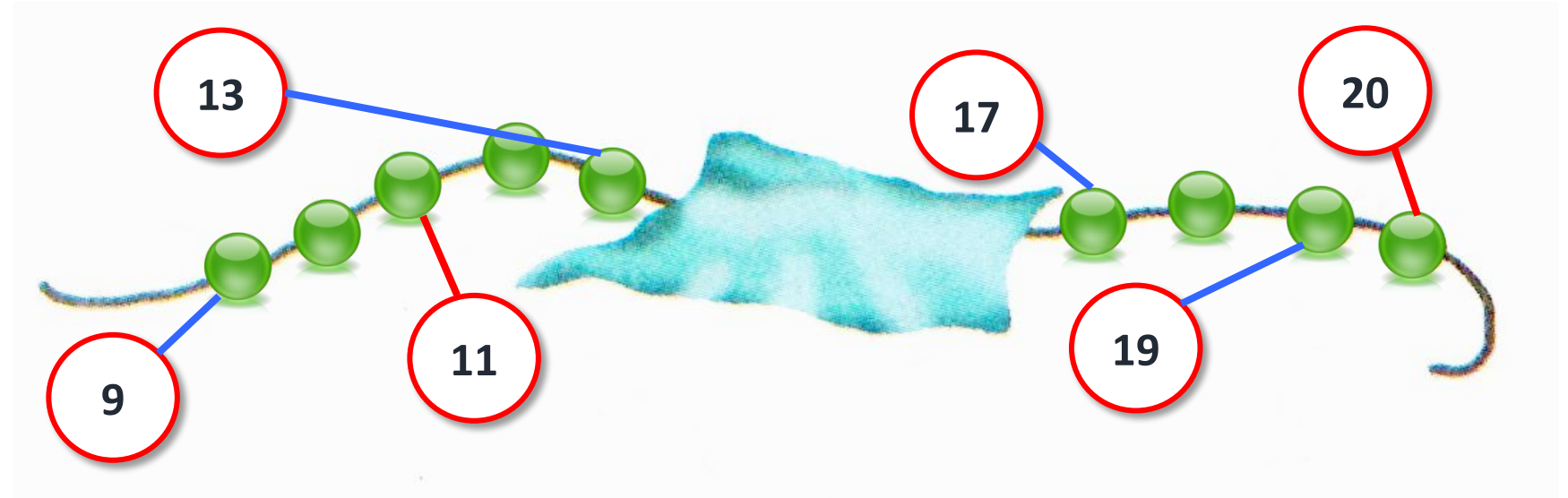


- Напиши за зразком.




1	8	1	8	1	8	1	8	1	8	1	8	1	8	1	8
1	2	1	2	1	2	1	2	1	2	1	2	1	2	1	2

- Укажи місце для кожної кульки.




Робота у зошиті

- Зафарбуй клітинку, на яку буде переміщено фішку кожного гравця.



9	10	11	12		14	15	16	17		19	20
---	----	----	----	---	----	----	----	----	---	----	----



9	10	11	12		14	15	16	17	18		20
---	----	----	----	---	----	----	----	----	----	--	----

Робота у зошиті

- Склади задачу за малюнком.
- Розв'яжи задачу.



8	+	1	1	=	1	9	грн						
---	---	---	---	---	---	---	-----	--	--	--	--	--	--

Відповідь: 1 9 грн.

- Обчисли.



15 + 2 = 17	13 + 3 + 3 = 19
15 + 3 = 18	12 + 4 + 2 = 18
17 + 1 = 18	
17 + 2 = 19	

Вінні-Пух ніс віслучкові Іа-Іа глек з 12 л меду. Після того, як Вінні розкрив глек і подивився на мед, його на 2 л поменшало. Коли ведмедик понюхав мед, його поменшало ще на 3 л. А коли Вінні покуштував, чи не зіпсувався, бува, мед, то меду не лишилося зовсім. Скільки меду потрібно було Пухові, аби покуштувати, чи не зіпсувався він?

**12 л****- 2 л - 3 л****? л****= 0 л**

Сьогодні
02.03.2023

(щоби відкрити інтерактивне завдання, натисніть на помаранчевий прямокутник)

**Відкрити онлайнове
інтерактивне завдання**