

Сьогодні  
23.03.2023

Урок  
№94



**Десятковий склад числа.  
Розкладання числа на розрядні  
доданки. Задача на знаходження  
невідомого доданка.**

Гарно й зручно ми  
сідаєм,  
Щось нове завжди  
вивчаєм.

Те, що вчили - пригадаєм,  
Будь уважний, починаєм!





17

$15 + 2$

Illustration of a beehive on a wooden stand in a garden with flowers.



13

$10 + 3$

Illustration of a beehive on a wooden stand in a garden with flowers.



25

$26 - 1$

Illustration of a beehive on a wooden stand in a garden with flowers.



16

$10 + 6$

Illustration of a beehive on a wooden stand in a garden with flowers.



0

$17 - 17$



Illustration of a beehive on a tree branch with bees flying around it, and a beehive on a wooden stand in a garden with flowers.



11



$10 + 1$



20



$15 + 5$



15



$16 - 1$



18



$10 + 8$



17



$19 - 2$



Сьогодні  
23.03.2023

## Робота з підручником. Обчислення виразів

Обчисли.



$$13 + 4 = 17$$

$$15 - 4 = 11$$

$$16 - 3 = 13$$

$$12 + 6 = 18$$

$$17 + 2 = 19$$

$$19 - 3 = 16$$

Сьогодні  
23.03.2023

## Робота з підручником. Обчислення виразів

Обчисли.



$$7 + 3 + 1 = 11$$

$$4 + 6 + 6 = 16$$

$$8 + 2 + 2 = 12$$

Сьогодні  
23.03.2023

## Робота з підручником. Обчислення виразів

Обчисли.



$$15 - 4 + 1 = 12$$

$$14 - 4 - 4 = 6$$

$$13 + 4 + 2 = 19$$

**20** тістечок в їдальні чекають дітлахів.  
 На перерві Гнат найперший цілих **10**  
 ухопив.  
 А ще купила Ніна – собі й подружкам **3**.  
 То скільки залишилось для решти  
 малюків.

$$20 - 10 - 3 = 7$$







Кози – 7  
Вівці – ?

} 18 тв.

➡ На лузі пасеться 18 тварин. Із них 7 — кози, а решта — вівці.


➡ Скільки овець пасеться на лузі?



1	8	-	7	=	1	1	(ов.)
---	---	---	---	---	---	---	-------

**Відповідь: 11 овець пасеться на лузі**

Розглянь малюнок. Скільки вишеньок на малюнку?




$$57 = 50 + 7$$

57 вишеньок – це 5 десятків вишеньок і ще 7 вишеньок.

Сьогодні  
23.03.2023

## Робота з підручником. Десятковий склад числа

Розглянь  
малюнок. Скільки  
чашок?



$$45 = 40 + 5$$

45 чашок – це 4  
десятка чашок і ще 5  
чашок.



Щоб розкласти двоцифрове число на *розрядні доданки*, треба записати його як суму круглого та одноцифрового чисел.

$$57 = 50 + 7$$

$$45 = 40 + 5$$

Сьогодні  
23.03.2023

## Робота з підручником. Розклад числа на розрядні доданки

Розклади на  
доданки кожне  
з чисел:



$$99 = 90 + 9$$

$$56 = 50 + 6 \quad 23 = 20 + 3$$

$$34 = 30 + 4 \quad 15 = 10 + 5$$

Розклади на  
доданки кожне  
з чисел:



$$99 = 90 + 9$$

$$67 = 60 + 7 \quad 28 = 20 + 8$$

$$47 = 40 + 7 \quad 71 = 70 + 1$$

Сьогодні  
23.03.2023

Робота у зошиті.  
(сторінка 25).



- Зафарбуй кожен фігуру із сумою в такий самий колір, який має кулька з відповідним числом.



The image features a central clown character holding several balloons. Each balloon has a number on it. Surrounding the balloons are various geometric shapes, each containing a simple addition problem. The goal is to color the shapes based on the sum of the numbers on the balloons.

Shape	Equation	Color
Rectangle	$60 + 9$	Red
Rectangle	$70 + 3$	Yellow
Triangle	$20 + 8$	Green
Diamond	$50 + 6$	Blue
Oval	$80 + 8$	Purple
Rectangle	$90 + 4$	Dark Blue
Trapezoid	$50 + 9$	Orange
Hexagon	$40 + 7$	Pink
Oval	$30 + 1$	Dark Green

Balloon Numbers: 88 (Purple), 73 (Yellow), 94 (Blue), 47 (Pink), 59 (Orange), 31 (Dark Green), 56 (Light Blue), 69 (Red), 28 (Light Green).






- З'єднай жолудь і лист.

Acorn Number	Leaf Addition
45	$40 + 5$
89	$80 + 9$
63	$60 + 3$
72	$70 + 2$

## Робота у зошиті

- Зафарбуй пелюстки, у яких записано числа третього десятка, олівцем фіолетового кольору, сьомого – червоного, четвертого – жовтого, другого – помаранчевого кольору.





Карлсонові на день народження подарували торт, на якому було 8 троянд із крему. Карлсон з'їв 4 троянди, а 2 троянди дав малюкові.



Скільки троянд залишилося на торті?

$$8 - 4 - 2 = 2 \text{ (тр.)}$$

**Відповідь: 2 троянди**  
залишилося






**Логічне завдання**

За допомогою підказок визначте улюблену страву кожного з дітей.

Хто з них уживає корисну їжу?

- Попкорн — улюблена страва однієї із дівчат.
- Руслан любить бутерброд або попкорн.
  - Дівчата не люблять рибу.
  - Марійка обожнює солодощі.



				
<p><b>Марійка</b></p>	<p>+</p>			
<p><b>Оля</b></p>				<p>+</p>
<p><b>Руслан</b></p>			<p>+</p>	
<p><b>Сергій</b></p>		<p>+</p>		

Сьогодні  
23.03.2023

*(щоби відкрити інтерактивне завдання, натисніть на помаранчевий прямокутник)*

**Відкрити онлайнове  
інтерактивне завдання**