

Математика

СЬОГОДН
03.05.2023

Урок
№ 11

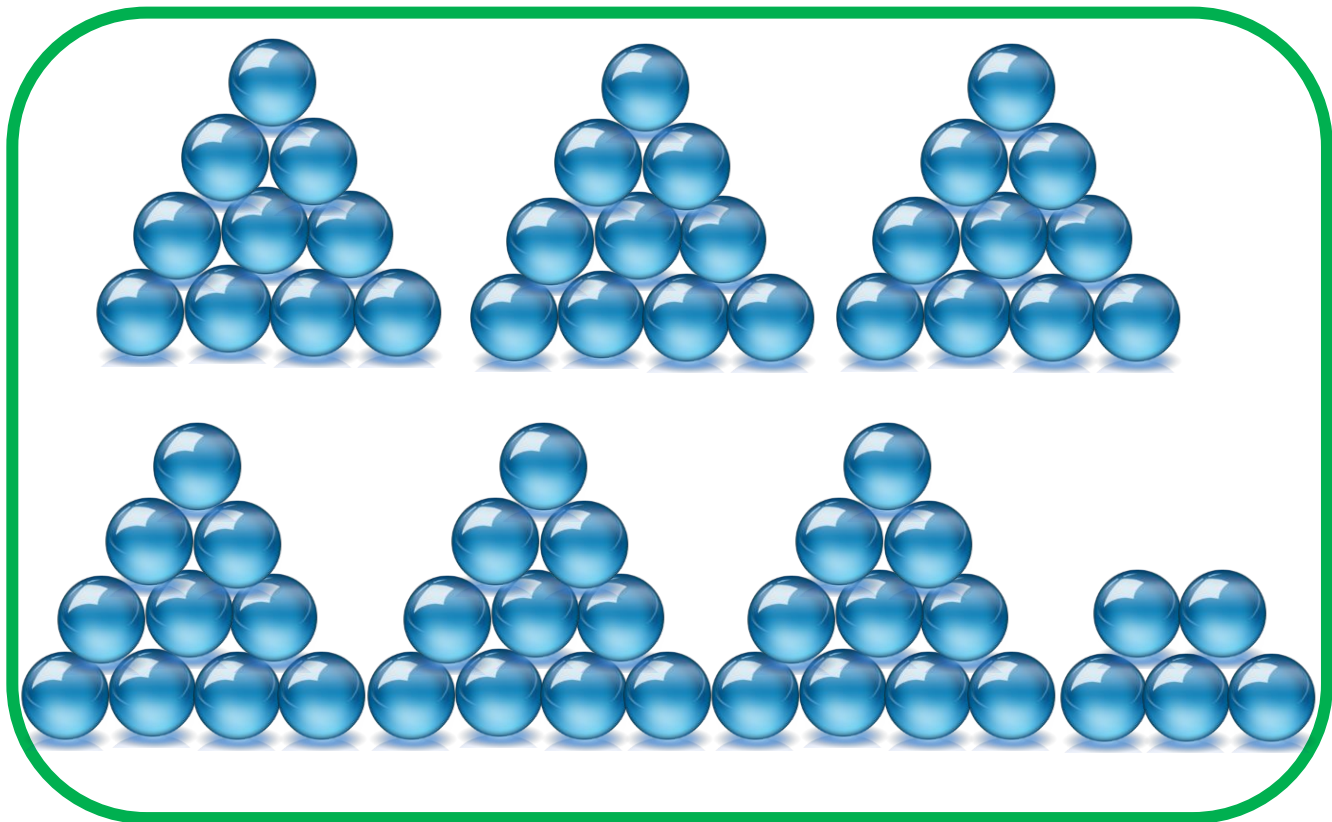
5



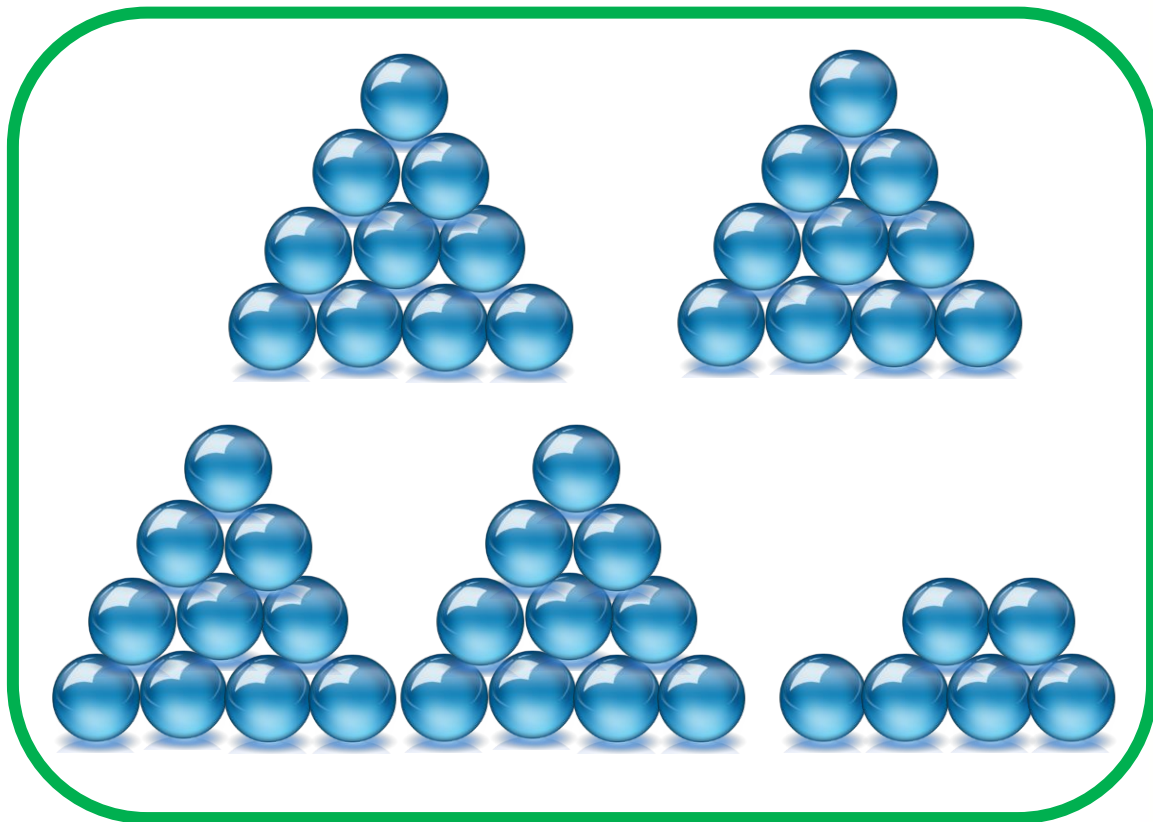
Узагальнення і систематизація ВІВЧЕНОГО

Лічба кількості предметів

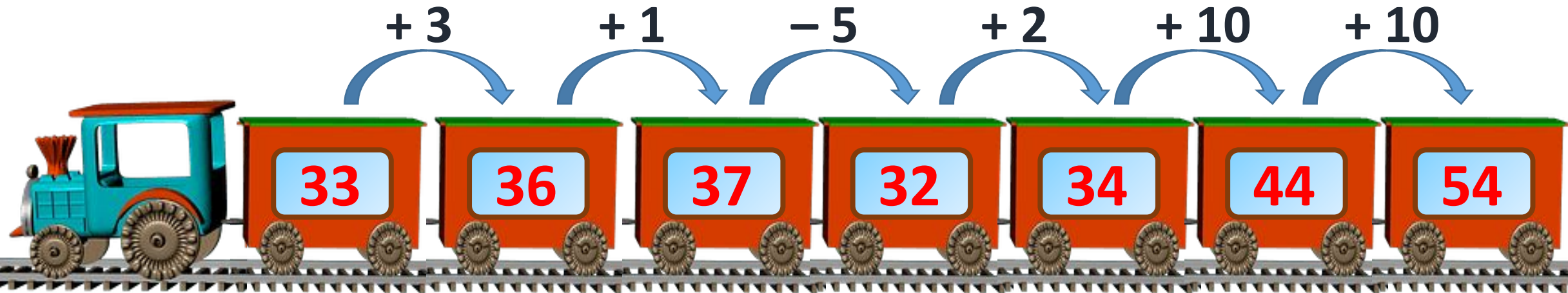
◆ Скільки кульок на кожному малюнку?



65



46



Обчисли ланцюжком.

Сьогодні
03.05.2023

Підготовчі вправи. Гра «Що сховалося в травичці?»


$$24 + 5 = 29$$


$$12 + 6 = 18$$


$$17 - 6 = 11$$


$$15 - 5 = 10$$


$$4 + 6 = 10$$

СЬОГОДН
03.05.2023

Підготовчі вправи. Гра «Що сховалося в травичці?»


$$0 + 12 = 12$$


$$4 + 10 = 14$$


$$19 - 2 = 17$$


$$18 - 8 = 10$$


$$11 + 4 = 15$$



Знайдіть у ряду чисел два зайві числа. Поясніть свій вибір.

Сьогодні
03.05.2023

Актуалізація вмінь порівнювати числа в межах 100

❖ Розташуйте числа в порядку зростання.



36

17

58

22

40

84

63

97

Сьогодні
03.05.2023

Актуалізація вмінь порівнювати числа в межах 100

❖ Розташуйте числа в порядку спадання.



17

22

36

40



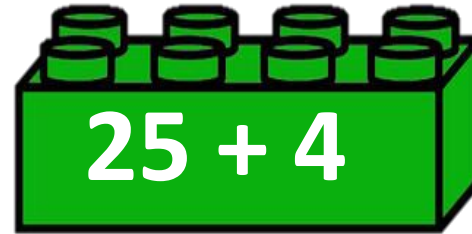
58

63


84

97

З'єднайте приклад з відповідною цеглинкою.





**40 кг****?, на 8 кг >**

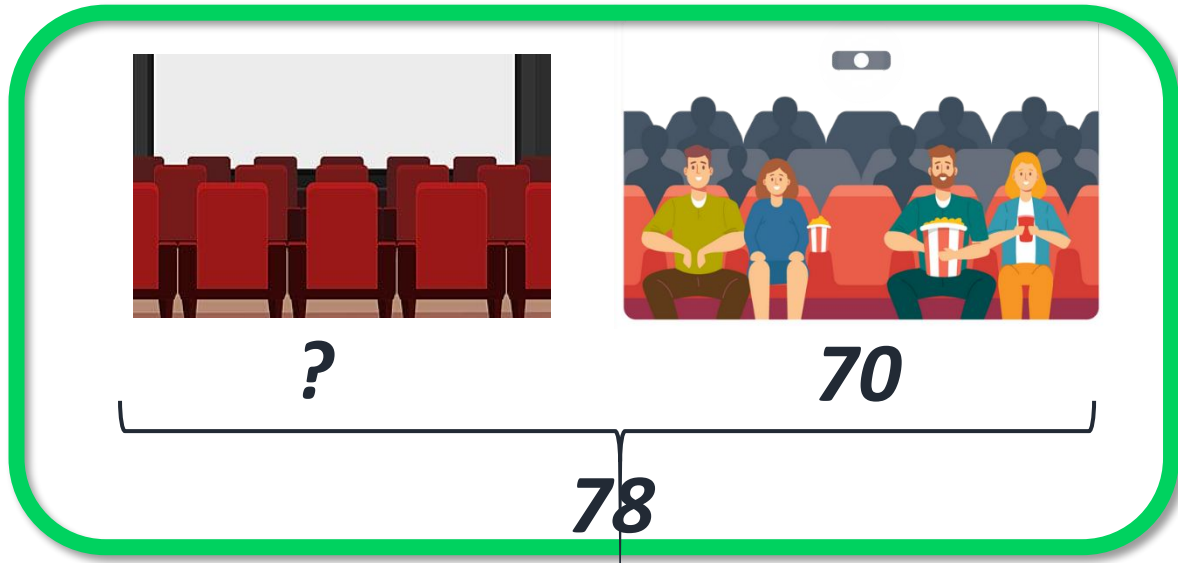
У магазин завезли 40 кг
апельсинів, а ківі — на 8 кг
більше.



Скільки кілограмів ківі
привезли в магазин?

$$40 \text{ кг} + 8 \text{ кг} = 48 \text{ кг}$$

Відповідь 48 кг ківі привезли в магазин.



➡ У кінотеатрі 78 місць. Продали на сеанс 70 квитків.

➡ Скільки вільних місць залишилося в кінотеатрі?

$$78 - 70 = 8 \text{ (м.)}$$


Відповідь 8 вільних місць залишилося.



1 клас – 32 уч.



**2 клас – ?,
на 2 уч. <**



**У першому класі 32 учні, а у
другому – на 2 учня менше.**



Скільки учнів у другому класі?

$$32 - 2 = 30 \text{ (уч.)}$$

Відповідь 30 учнів у другому класі.

Ь:

Визначте істинність
чи хибність виразу.



$$96 - \text{це } 90 + 6?$$

$$54 - \text{це } 5 + 4?$$

$$77 - 7 = 70?$$



Визначте істинність
чи хибність виразу.



$$53 - 1 = 54?$$

45 — це 4 дес. і 5 од.?

3 дес. і 1 од.— це число
13?



Визначте істинність
чи хибність виразу.



$$100 - \text{це } 90 + 10?$$

$$50 - \text{це } 5 + 44?$$

$$37 - 37 = 0?$$





У бак машини залили 49 л бензину. Використали 5 л бензину. Скільки літрів бензину залишилось у баку машини?

$$49 \text{ л} - 5 \text{ л} = 44 \text{ л}$$



За перший день у магазині
продали 35 кг цукерок, а за
другий – на 3 кг більше.
Скільки цукерок продали за
другий день?

$$35 \text{ кг} + 3 \text{ кг} = 38 \text{ кг}$$

Сьогодні
03.05.2023

(щоби відкрити інтерактивне завдання, натисніть на помаранчевий прямокутник)

**Відкрити онлайнове
інтерактивне завдання**

Сьогодні
03.05.2023

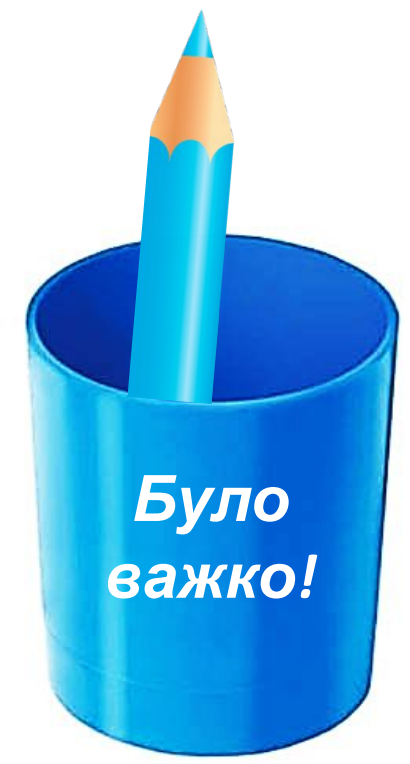
Рефлексія. Вправа «Оберіть свій олівець»



*Це було
дуже
просто!*



*Було
цікаво!*



*Було
важко!*



*Мені нічого
не вдалося*

