


Отже, друзі, увага:
Пролунав дзвінок.
Сідайте зручніше —
Почнемо скоріше урок!



Усна лічба «Ланцюжок»»

$$1 + 2 + 3 + 4$$

$$5 - 1 - 2 - 3$$



Кругові приклади

$8 - 5 = ?$

$4 - 2 = ?$

$5 - 1 = ?$

$6 - 2 = ?$



$7 + 1 = ?$

$3 + 3 = ?$

$4 + 1 = ?$

$5 + 3 = ?$

Розв'язування прикладів, що містять

три доданки

$2 + 4 = ?$

$9 - 2 = ?$

$4 + 4 = ?$

$3 + 1 = ?$

$6 + 2 = ?$



$5 - 2 = ?$

$10 - 3 = ?$

$7 - 3 = ?$


$8 - 2 = ?$

Розв'язування задач

З бідона вилили спочатку 6 л води, а
потім – ще 3 л. Скільки літрів води
вилили з бідона?





Коли у відро долили 2 л молока, то там стало 8 л. Скільки літрів молока було у відрі спочатку?




Качка має масу 2 кг, а індик — 5 кг.

**На скільки кілограмів індик
важчий від качки?**



Каліграфічна хвилинка

- Яке сьогодні число?
- Що ви можете сказати про число 5 ?
- Складіть приклади з відповіддю 5.
- Напишіть рядок цифри 5
- 5 5 5 5 5 5 5 5 5



Математичний диктант

- Знайти суму чисел 2 і 4.
- Знайти різницю чисел 8 і 3.
- 5 збільшити на 2.
- 10 зменшити на 5.
- 1 плюс 3.
- 9 мінус 6.



Фізкульхвилинка

«Раз» — підняти руки вгору,

«Два» — нагнутися додолу,

Не згинайте, діти, ноги,

Як торкнетесь підлоги.

«Три, чотири» — прямо стати,

Будем знову працювати.



Додавання і віднімання по одному і частинами. Задачі на знаходження суми.

суми.



Ліворуч 5 квадратиків, а праворуч – 2

кружечки.


Підсуньте 1 кружечок до квадратиків.

Скільки фігурок ліворуч?

Підсуньте ще 1 кружечок до квадратиків.



Скільки фігурок ліворуч?



Висновок. Ми додавали 2 кружечки по

$$\text{одному: } 5 + 1 + 1 = 7.$$

**Числа більше, ніж 3,
складати і віднімати по
одному довго. Зручніше
розбити другий доданок
на два менші числа.**

**Для цього треба добре
пам'ятати склад чисел.**




Гра “Допоможіть Незнайкові”

- $4+5=4+2+3$
- $3+6=3+\dots+\dots$
- $1+5=1+\dots+\dots$
- $2+4=2+\dots+\dots$
- $5+5=5+\dots+\dots$
- $6+4=6+\dots+\dots$



Мама принесла з магазину 2 кг моркви і
4 кг картоплі. Скільки кілограмів
овочів принесла мама?



Складіть задачу



Задачі на кмітливість

Бабуся зв'язала 4
рукавички. Скільки
онуків зможуть їх носити?



У кошику три яблука. Як
поділити їх між трьома
дітьми так, щоб одне яблуко
залишилося в кошику?

