

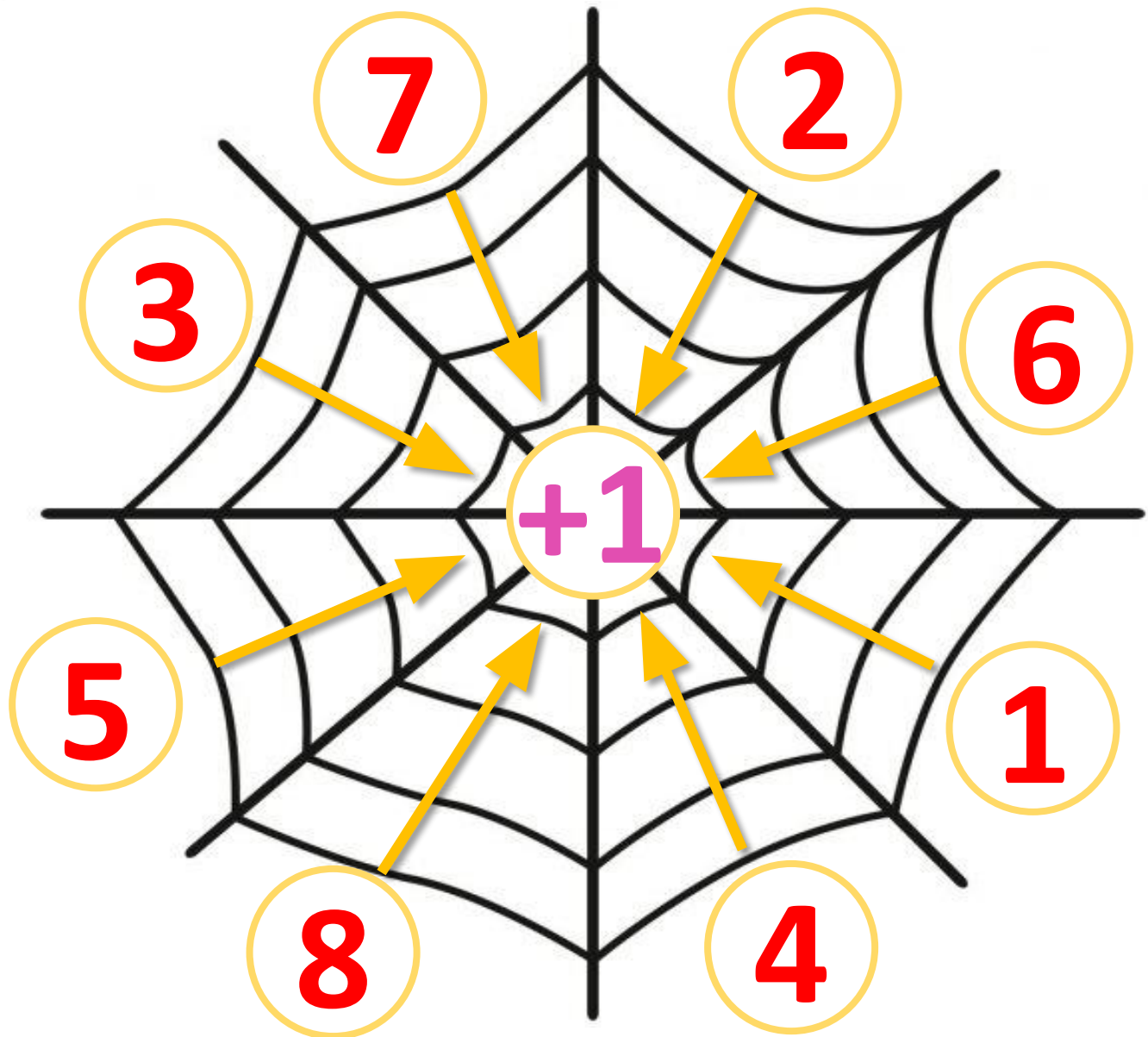
Математика

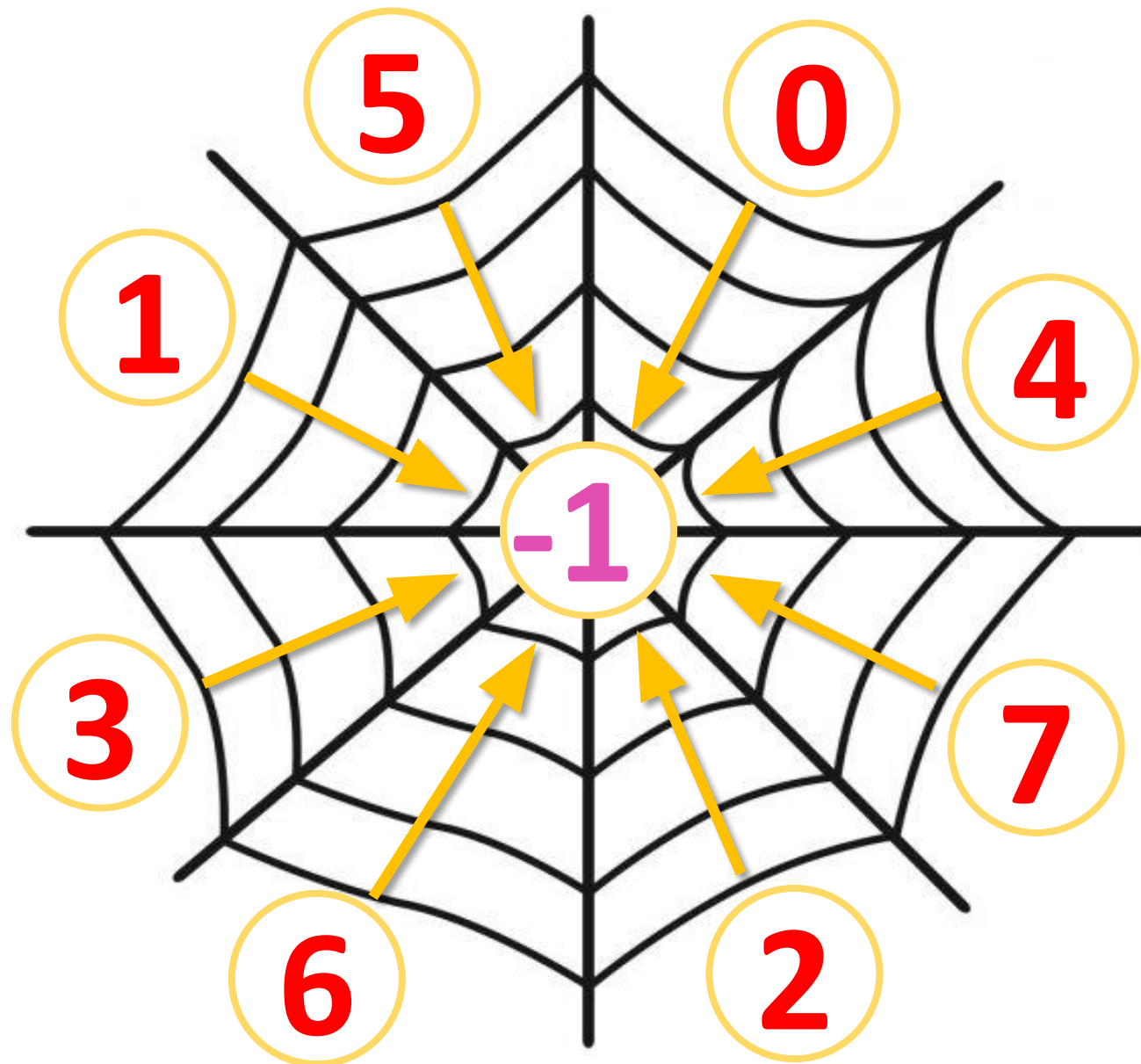
Сьогодні
21.11.2022

Урок
№45



**Вимірювання довжини.
Порівняння чисел. Розв'
язування задач**





- Скільки дощок під кожним слідом?
- Назви сліди від найкоротшого до найдовшого.



Гостроносий і малий,
Сірий, тихий і незлий.
Вдень ховається.
Вночі
Йде шукать собі харчі.
Весь із тонких голочок
Як він зветься?

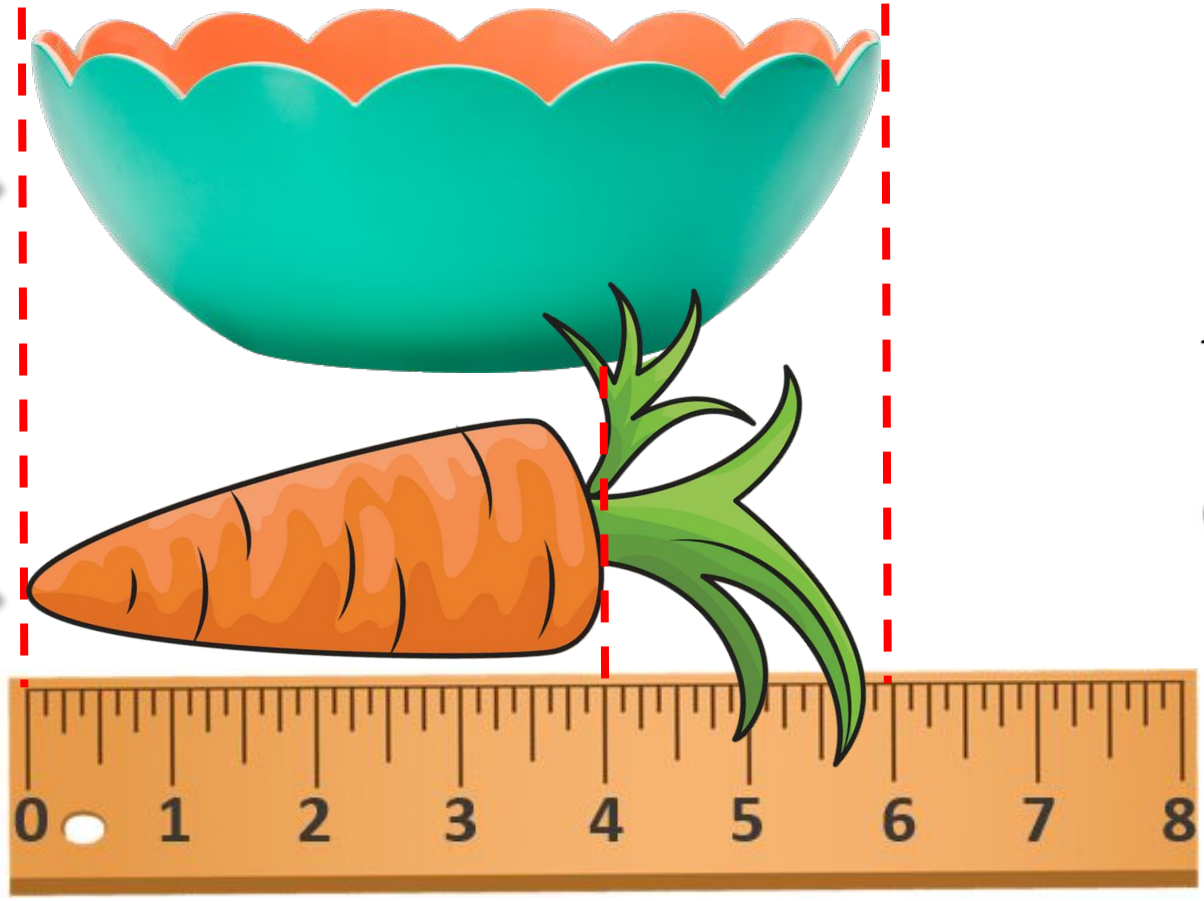


Іжачок



6 см

4 см





- Сьогодні ми продовжимо вимірювати довжини відрізків, предметів.
- Порівнювати числа, результатів вимірювання.
- Скласти і розв'язувати задачі.



ВИМІРЮВАННЯ ДОВЖИНИ



1. Виконай дії.



$$\begin{array}{r} 0 + 2 \\ 3 + 0 \\ 3 - 3 \end{array}$$



$$\begin{array}{r} 4 + 1 \\ 5 + 1 \\ 7 - 1 \end{array}$$



$$\begin{array}{r} 7 + 1 \\ 8 - 0 \\ 8 + 0 \end{array}$$

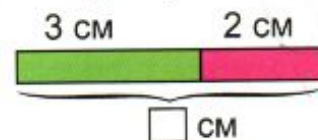


$$\begin{array}{r} 8 - 8 \\ 5 + 2 \\ 7 - 2 \end{array}$$

2. Яка довжина бруска пластиліну? Розглянь, як лінійкою вимірюють довжину.



3. Склади й розв'яжи задачу за малюнком і схемою.



$$\square \text{ см} + \square \text{ см} = \square \text{ см}$$

4. Порівняй.

3 і 5

5 і 3

5 і 5

3 см і 7 см



5. Порівняй. Поясни.

6 + 2 і 7



$$\begin{array}{r} 6 + 2 \\ 7 \end{array}$$



Виміряй довжину зошита в гумках, олівцях.

Порівняй результати.

Чому вони різні?



$0 + 2 = 2$

$7 + 1 = 8$

$3 + 0 = 3$

$8 - 0 = 8$

$3 - 3 = 0$

$8 + 0 = 8$

$4 + 1 = 5$

$8 - 8 = 0$

$5 + 1 = 6$

$5 + 2 = 7$

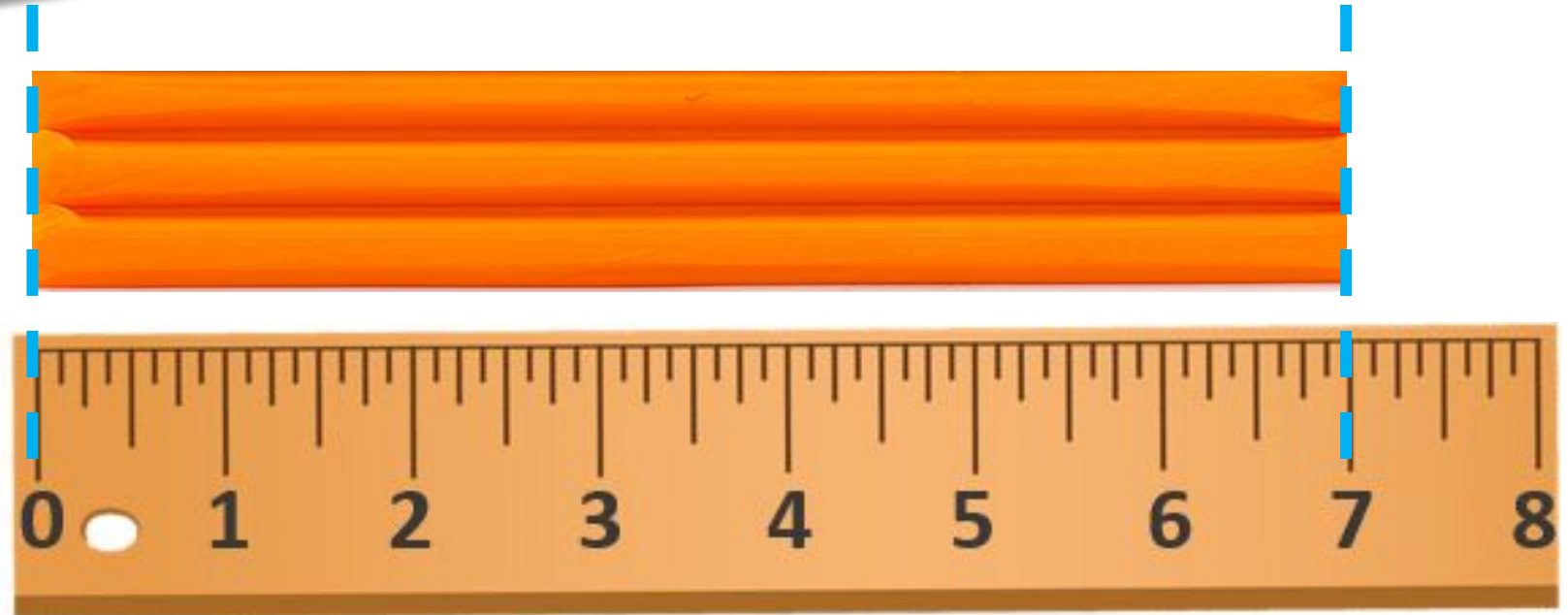
$7 - 1 = 6$

$7 - 2 = 5$

Хто зі звірят живе в лісі? Які звірята є домашніми тваринами?



Яка довжина бруска пластиліну? Розглянь, як лінійкою вимірюють довжину.



7 см

Умова

Довжина зеленої смужки 3 см, а довжина рожевої смужки 2 см.

Запитання:

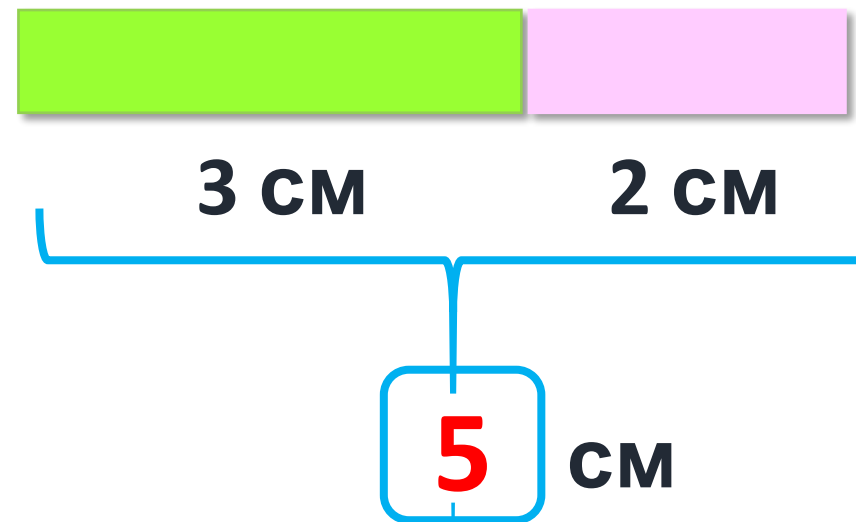
Яка довжина обох смужок разом?

Розв'язок:

$$\boxed{3} \text{ см} + \boxed{2} \text{ см} = \boxed{5} \text{ см}$$

Відповідь:

5 сантиметрів.



$$7 - 1 = 6$$

$$7 - 2 = 5$$

$$3 \text{ C} + 2 \text{ C} = 5 \text{ C}$$

$$3 \text{ M} < 5 \text{ M} \quad \text{M} \quad 5 = 5 \text{ M}$$

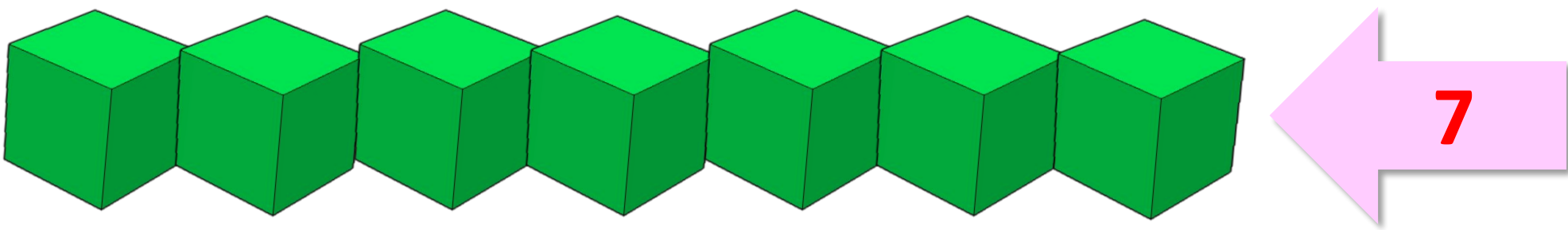
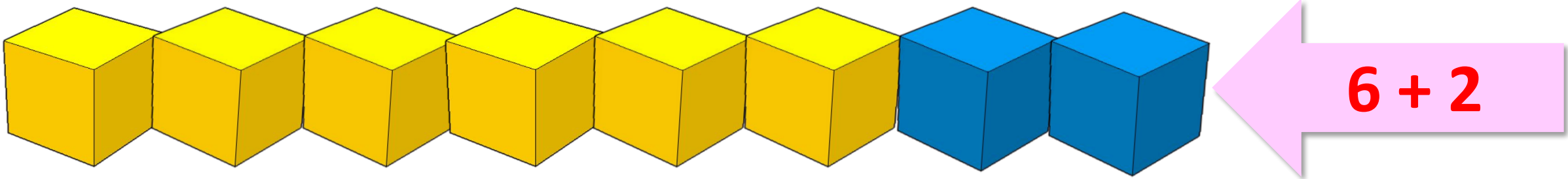
$$5 > 3$$


$$3 \text{ C} < 7 \text{ C}$$

M M

Сьогодні
21.11.2022

□ Порівняй. Поясни.



8 
 $6 + 2 > 7$

$7 - 1 = 6$

$7 - 2 = 5$

$3 \text{ C} + 2 \text{ C} = 5 \text{ C}$

$3 \text{ M} < 5 \text{ M} \quad \text{M } 5 = 5 \text{ M}$

$5 > 3 \quad 3 \text{ C} < 7 \text{ C}$

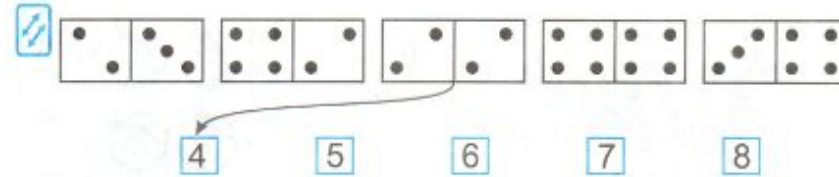
$6 + 2 > 7 \quad \text{M} \quad \text{M}$

Сьогодні
21.11.2022

**Робота у зошиті
(сторінка 47).**



1. З'єднай за зразком.



2.

$3 + 2 =$	$0 + 8 =$	$8 - 0 =$
$3 + 0 =$	$8 + 0 =$	$8 - 8 =$

3. Яка довжина відрізків?



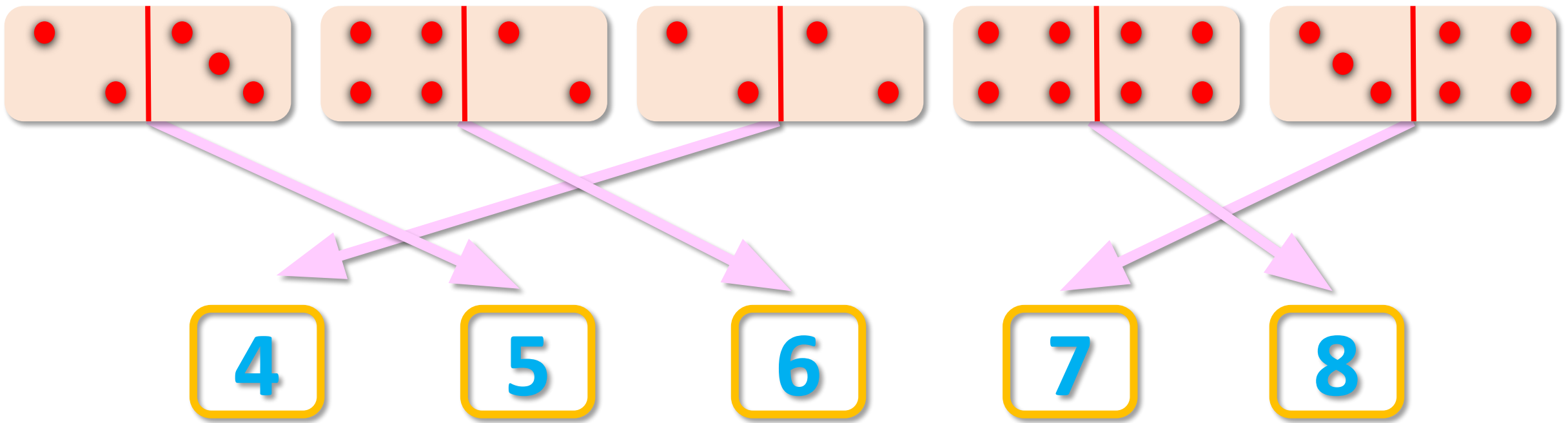
4.

$7 < 8$	$4 > 8$	$5 < 7$	$6 < 5$
$5 < 8$	$8 < 4$	$6 < 7$	$6 < 6$

5. Наведи сторони многокутників. Назви многокутники.



- З'єднай за зразком.



Робота у зошиті

- Обчисли.



$$3 + 2 = 5$$

$$0 + 8 = 8$$




$$8 - 0 = 8$$

$$3 + 0 = 3$$

$$8 + 0 = 8$$

$$8 - 8 = 0$$

- Яка довжина відрізків?




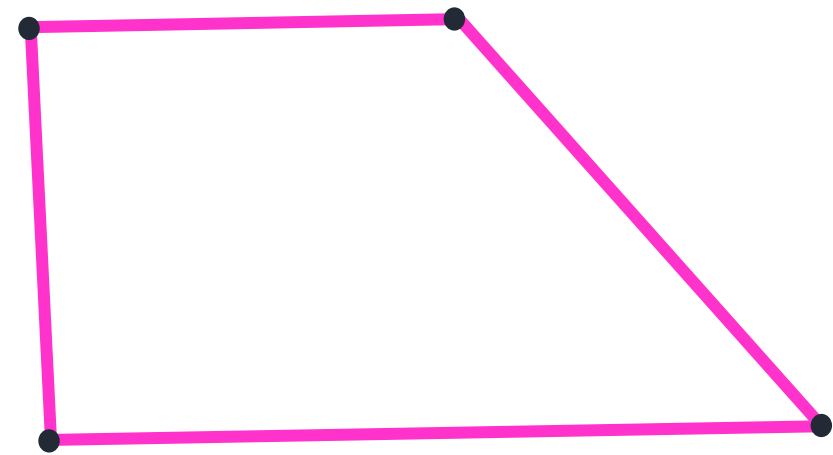
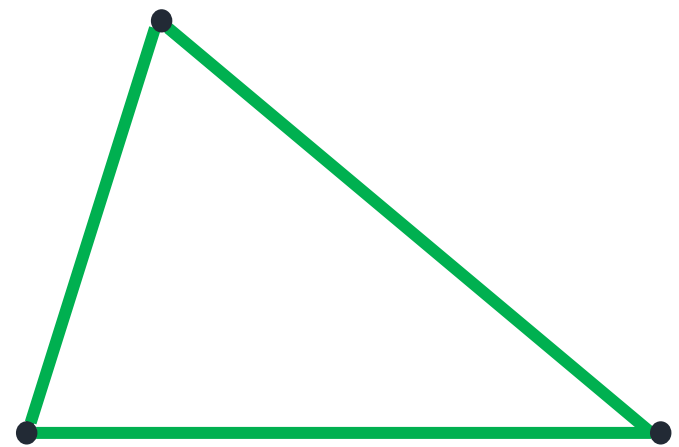
Робота у зошиті

- Порівняй.



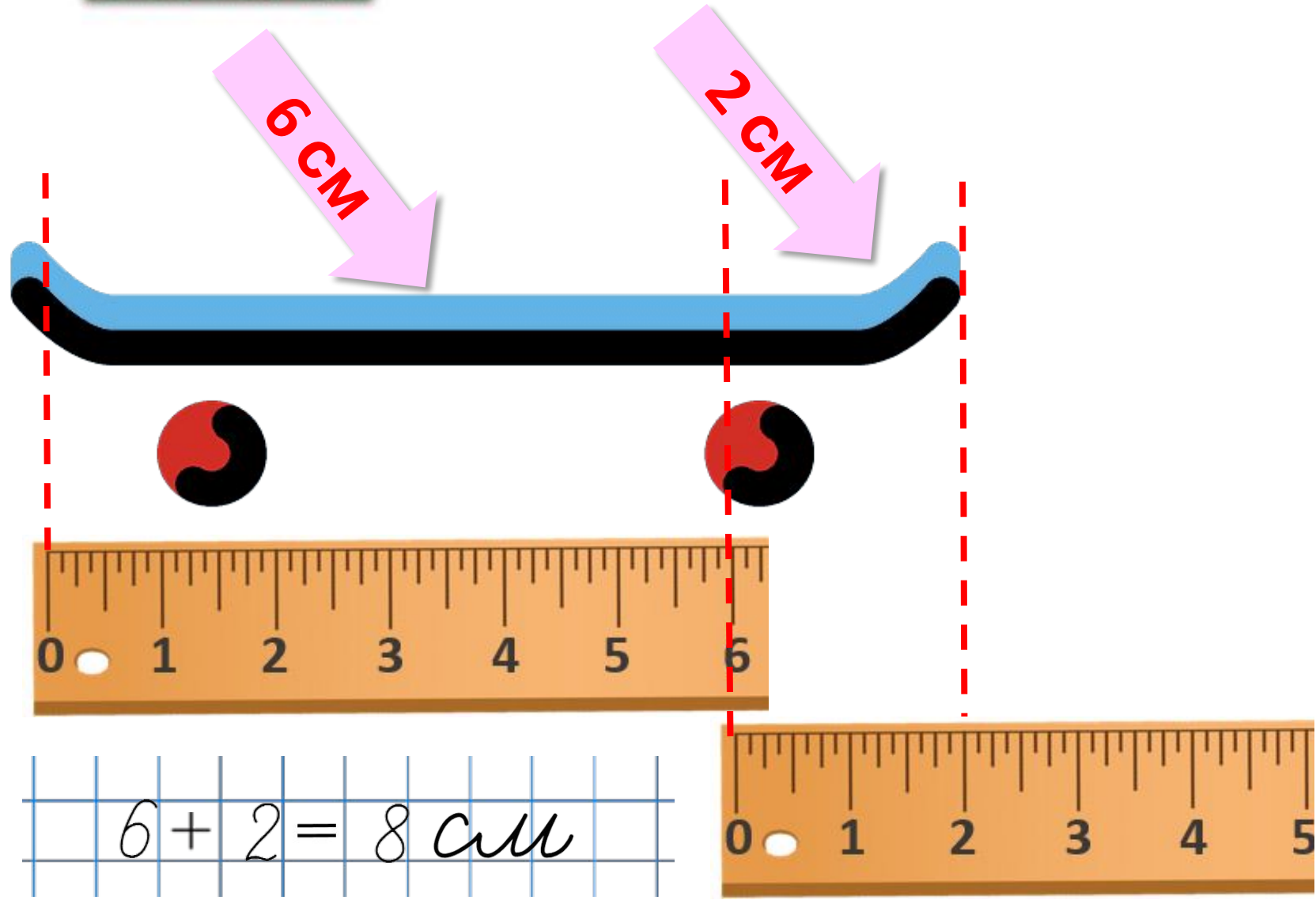
7 < 8	4 < 8	5 < 7	6 > 5
5 < 8	8 > 4	6 < 7	6 = 6

- Наведи сторони многокутників. Назви многокутники.



Сьогодні
21.11.2022

Закріплення матеріалу. Гра «Визнач довжину»





**Чого ви навчилися
на уроці?**

**Яке завдання
видалося
складнішим за
інші?**





Я не міг, не хотів це робити.

Я це робив, але не вдалося.

Я це робив з допомогою.

Я це робив, хоча були помилки.

Я це робив, але не відразу.

Я це зробив.

Це було дуже просто!

Такий вигляд має робота, яку виконували під час уроку

$$0 + 2 = 2$$

$$7 + 1 = 8$$

$$3 + 0 = 3$$

$$8 - 0 = 8$$

$$3 - 3 = 0$$

$$8 + 0 = 8$$

$$4 + 1 = 5$$

$$8 - 8 = 0$$

$$5 + 1 = 6$$

$$5 + 2 = 7$$

$$7 - 1 = 6$$

$$7 - 2 = 5$$

$$3 \text{ см} + 2 \text{ см} = 5 \text{ см}$$

$$3 < 5$$

$$5 = 5$$

$$5 > 3$$

$$3 \text{ см} < 7 \text{ см}$$

$$6^8 + 2 > 7$$