

МАТЕМАТИЧНИ Й ДИКТАНТ

45

1

5

2

99

8



73

56

20



Порівняти. Поставити знаки <


> =



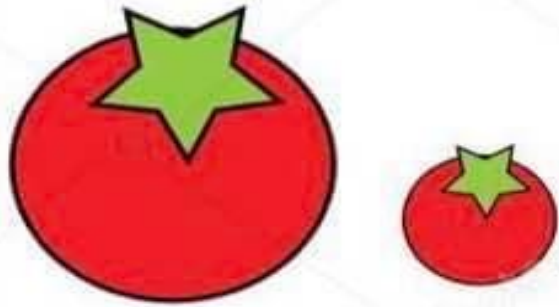
Порівняти. Поставити знаки $>$ $<$

$=$

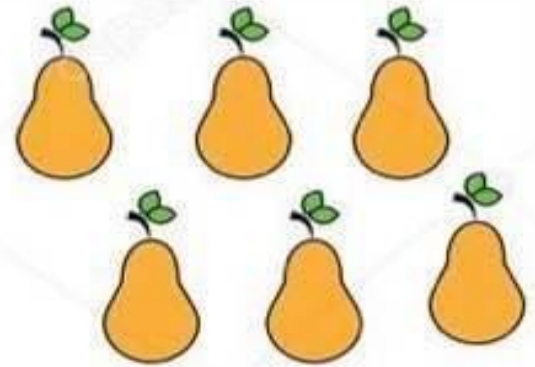





4 3 5




2 7 4




6 11 4



10 8 9



9 8 11



7 3 1



4

5

9



8

7


4



7

3


4



2

3

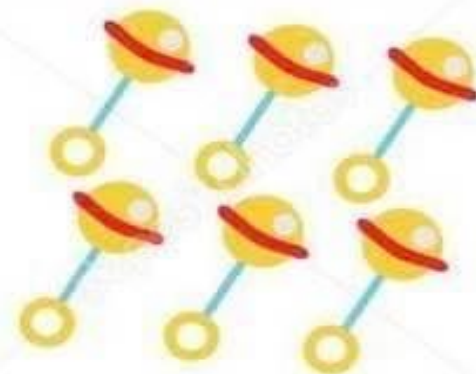
5



10

8


12






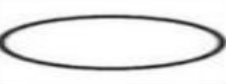


9

11

6



Обчисли приклади

• $5+2 =$

$50+20=$

• $3-1 =$

$30-10=$

• $4-2=$

$40-20=$

• $7-4=$

$70-40=$

• $4+3=$

$40+30=$

Математичний диктант

Знайди суму 13 і 2

Знайди різницю 13 і 2

Число 10 збільшити на 8

Число 10 зменшити на 8

Запиши найбільше одноцифрове число

Запиши найменше двоцифрове число

Записуй лише відповідь!



Математичний диктант

Знайди суму 13 і 2

Знайди різницю 13 і 2

Число 10 збільшити на 8

Число 10 зменшити на 8

Запиши найбільше одноцифрове число

Запиши найменше двоцифрове число

Запиши числа у порядку зростання

Записуй лише відповідь!



Математичний диктант

Знайди суму 13 і 2

Знайди різницю 13 і 2

Число 10 збільшити на 8

Число 10 зменшити на 8

Запиши найбільше одноцифрове число

Запиши найменше двоцифрове число

Запиши числа у порядку зростання

Обведи всі непарні числа

Записуй лише відповідь!



Математичний диктант

Знайди суму 13 і 2

Знайди різницю 13 і 2

Число 10 збільшити на 8

Число 10 зменшити на 8

Запиши найбільше одноцифрове число

Запиши найменше двоцифрове число

Запиши числа у порядку зростання

Обведи всі непарні числа

Зроби
перевірку!

15	11	18	2	9	10
2	9	10	11	15	18



1. Білочка Рудя вийняла з торбинки 5 грибочків. Після того в торбинці залишилося 2 грибочки. Скільки грибочків було в торбинці спочатку?



1. Білочка Рудя вийняла з торбинки 5 грибочків. Після того в торбинці залишилося 2 грибочки. Скільки грибочків було в торбинці спочатку?



$$2+5=7 \text{ (гр.)}$$



Довідничок

зменшуване

від'ємник

різниця

$$\textcircled{?} - \underline{5} = \underline{2}$$

Схема:

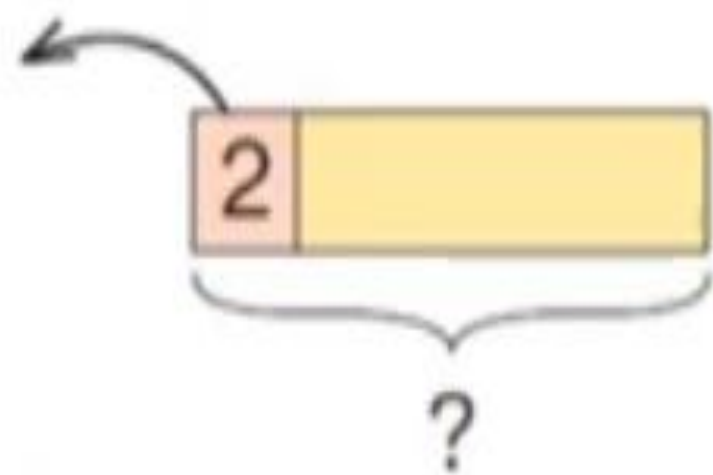
5	+ 2
---	-----

} ?

Підказка: +

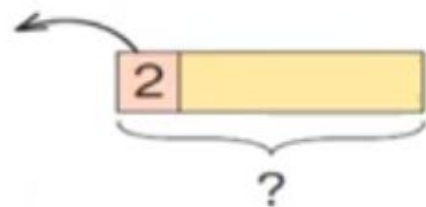
Щоб знайти невідоме зменшуване, треба до різниці додати від'ємник.

2. Перемалюй і доповни схему. Розв'яжи задачу.
Каченята грали у футбол. Після того як на штрафну лаву сіло двоє каченят, на полі залишилося 14 гравців. Скільки всього каченят грало в футбол?

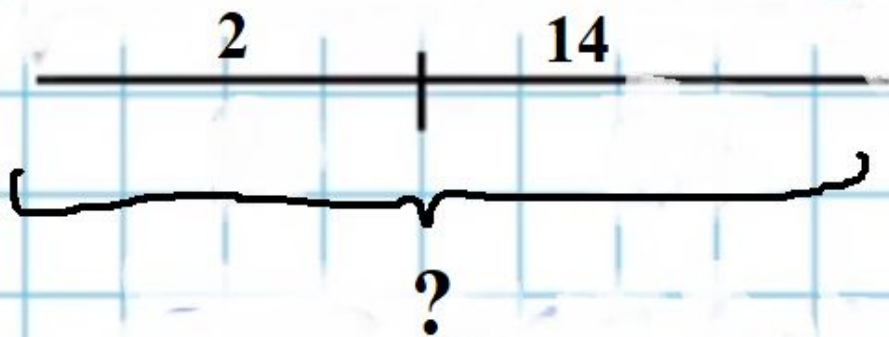




2. Перемалюй і доповни схему. Розв'яжи задачу.
Каченята грали у футбол. Після того як на штрафну лаву сіло двоє каченят, на полі залишилося 14 гравців. Скільки всього каченят грало в футбол?



Зроби перевірку



$$\dots + \dots = \dots$$

(К.)

Відповідь: каченят грало в футбол

$$\square - 2 = 12$$

$$\square - 3 = 16$$

$$\square - 30 = 50$$

$$\square - 10 = 10$$

$$\square - 8 = 11$$

$$\square - 40 = 60$$

$$X - 20 = 120$$

$$X + 40 = 140$$

$$50 + x = 500$$

$$X - 30 = 600$$

$$X + 80 = 980$$

$$100 + X = 600$$

Щоб знайти невідоме зменшуване, треба до різниці додати від'ємник

Ослик надував повітряні кульки. 6 кульок луснуло, а 10 вціліло. Скільки кульок намагався надути ослик?

Було - ? к.

Луснуло - 6

Вціліло - 10 к.

..... + =(к.)

Відповідь: кульок намагався надути ослик.

