




Южно-Уральский
государственный
университет

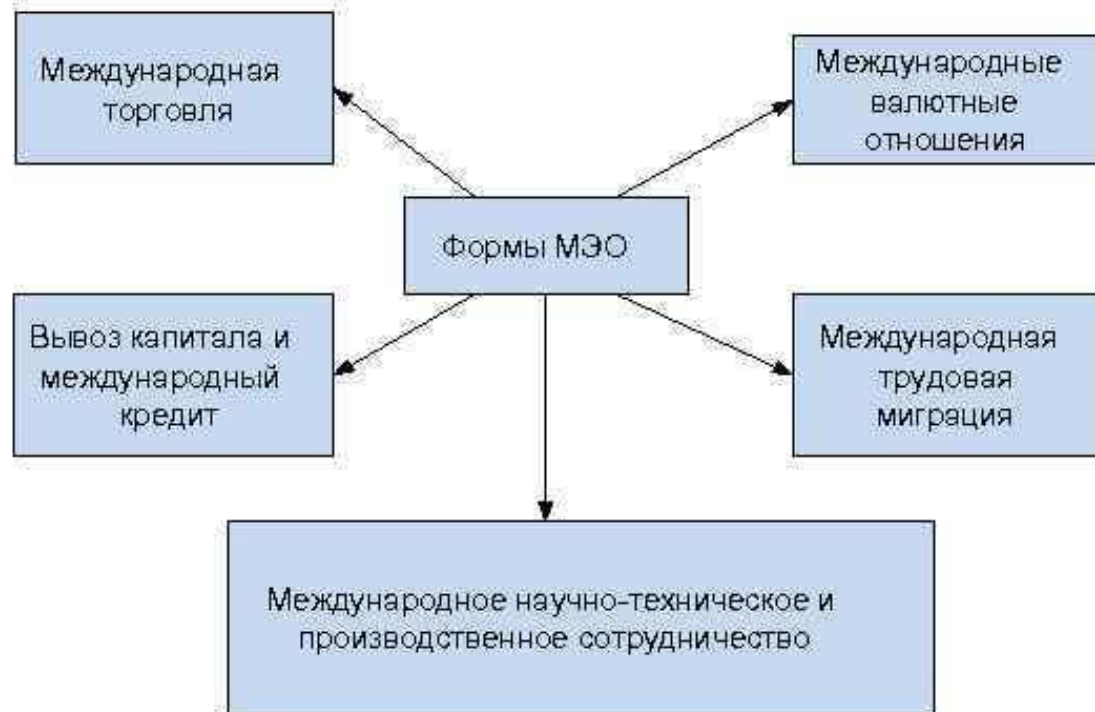
Мировая экономика


Основы международной торговли



Мировая экономика – это совокупность экономик отдельных стран, связанных между собой системой международных экономических отношений.

Формы международных экономических отношений (МЭО)





Международная торговля – это обмен товарами и услугами между различными странами. В основе этого обмена лежит международное разделение труда.

Экспорт – это товары и услуги, которые вывозятся за границу с целью продажи на мировом рынке.

Импорт – это товары и услуги, которые ввозятся в страну с целью их продажи на внутреннем рынке.

Сальдо торгового баланса – разность между стоимостью экспорта и импорта за определённый период.

Кому выгоден обмен?

Сказка про двух Васей*

	Огород в день (м ²)	Рыба в день (штука)
Василь Василич	20	20
Васька	5	10

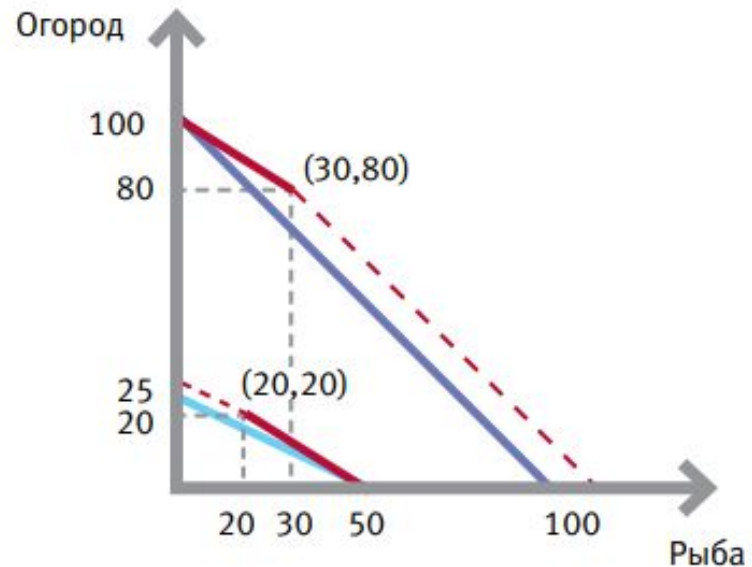
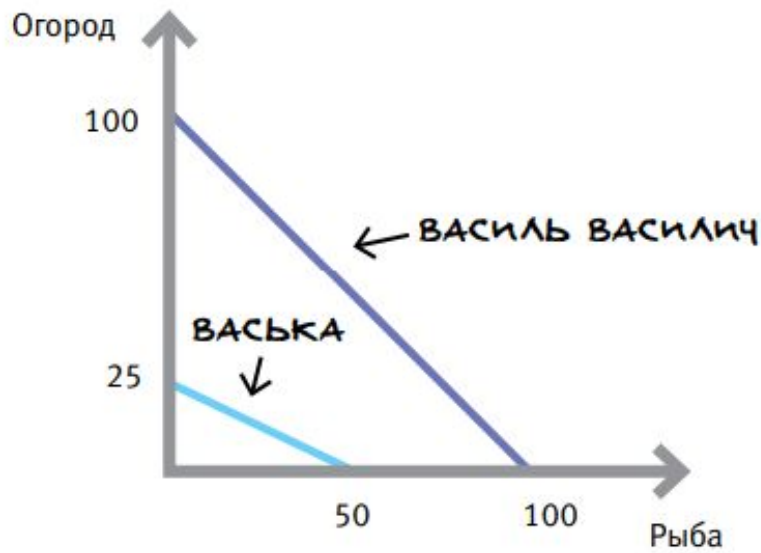
	Альтернативная стоимость 1 м ² огорода	Альтернативная стоимость 1 рыбы
Василь Василич	1 рыба	1 м ² огорода
Васька	2 рыбы	1/2 м ² огорода

Сравнительное преимущество – способность производить товар с меньшими альтернативными издержками

Абсолютное преимущество – способность произвести большее количество продукции с использованием одного и того же вида ресурсов

* здесь и далее использованы материалы из книги М. Бойко. *Азы экономики.* – М., 2015.

Границы производственных возможностей



Типы торговой политики

Свободная торговля – это тип торговой политики, при котором движение товаров между странами осуществляется без каких-либо барьеров и ограничений

Протекционизм – это политика, направленная на защиту внутренних производителей от внешней конкуренции

Аргументы против международной торговли

1. В отдельных отраслях происходит потеря рабочих мест
2. Потеря самодостаточности и соответственно снижение обороноспособности страны
3. Потеря доходов бюджета

Почему не все товары пересекают границу

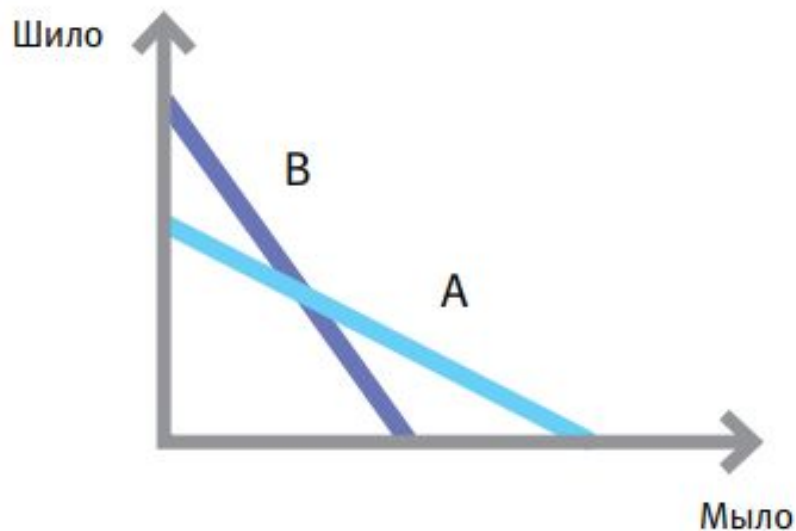
Транзакционные издержки – это издержки, необходимые для совершения сделки

Для существования торговли необходимы следующие условия:

1. Альтернативные издержки производства благ, которыми собираются обмениваться участники торговли, должны быть различными

2. Транзакционные издержки на совершение сделки не должны превышать выигрыш от торговли

Определите, глядя на рисунок, какой товар будет продавать страна А, а какой страна Б, если они начнут торговать друг с другом



Барт Симпсон может за час решить 1 задачу по математике или написать 1/2 страницы выдуманного текста. Лиз Симпсон за это же время решает 5 задач и пишет десять страниц текста. Время, выделенное на уроки, составляет 4 часа.

- Лиз.
- a. Постройте кривые производственных возможностей для Барта и для Лиз.
 - b. Кто обладает абсолютным преимуществом при решении задач?
 - c. Кто обладает абсолютным преимуществом при написании текста?
 - d. Кто обладает сравнительным преимуществом при решении задач?
 - e. Кто обладает сравнительным преимуществом при написании текста?
 - f. Как им нужно распределять свою работу, если они работают в команде?
 - g. Барт предлагает Лиз решать за нее задачи в обмен на то, что она будет писать за него его сочинение. Разумно ли будет Лиз на это согласиться (если представить, что все что она хочет – это побыстрее освободиться, чтобы начать читать свою любимую книжку по квантовой физике).
 - h. На каком количестве задач за страницу текста они договорятся, если Лиз интересуют только полностью решенные задачи?