



МБОУ СОШ №30

Урок математики

в 6-А классе

«Путешествие в Африку»

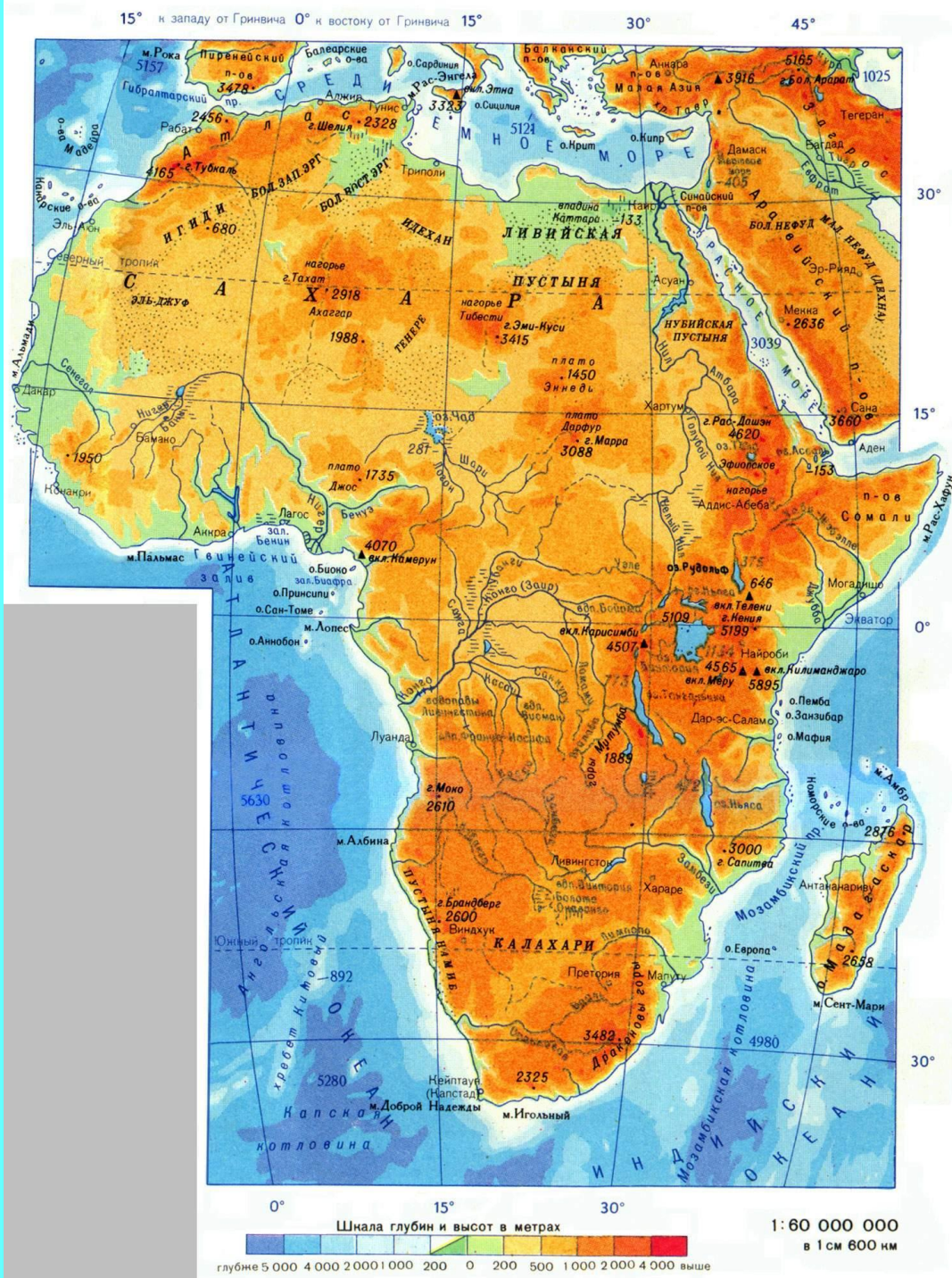
(все действия с десятичными дробями)

Автор:

Будрица Елена Геннадьевна.

Отгадайте название этого континента.

1. Климат здесь жаркий и влажный.
2. Экватор проходит точно по середине континента.
3. На нём расположена самая большая пустыня мира – Сахара.





- Площадь континента.
- Столицы ряда государств Африки.
- Животный мир и мир птиц.



Задание №1.



Даны числа:

2,845; 3,9; 1,1; 4,75; 4,6; 3,85; 4,805; 4,45

а) Назовите те из них, которые больше 2,4 ,
но меньше 4,8.

2,845; 3,9; 4,75; 4,6; 3,85; 4,45.

Сколько чисел осталось?



Задание №1.


Даны числа:

2,845; 3,9; 1,1; 4,75; 4,6; 3,85; 4,805; 4,45


б) Расположите числа в порядке возрастания.

1,1; 2,845; 3,85; 3,9; 4,45; 4,6; 4,75; 4,805.

Какое число стоит на первом месте?



Задание №1.





Даны числа:

2,845; 3,9; 1,1; 4,75; 4,6; 3,85; 4,805; 4,45

в) Найдите сумму этих чисел.


30,3






- *- второй по величине континент на земном шаре.*
- *- площадь всех островов Африки 1,1 млн. кв. км.*
- *- её площадь равна 30,3 млн. кв. км.*

Задание №2:




- **Конго.**
 $(1,2+0,9):(0,9-0,55)$
- **Ливия.**
 $0,42 \times 50 - 45 : 36$
- **Ангола.**
 $10 - 2,55 \times (7,1 - 3,7)$
- **Марокко.**
 $(5,71 + 3,39) : 3,5 - 1,7$
- **Кения.**
 $18 - 10,5 : 25 + 5$
- **Заир.** 3,02
 $\times 25 + 24 : 5$
- **Луанда:** 1,33
- **Киншаса:** 80,3
- **Браззавиль:** 6
- **Аддис-Абеба:** 1,26
- **Найроби:** 22,58
- **Триполи:** 19,75
- **Рабат:** 0,9



- 
-
- Конго.
 - Ливия.
 - Ангола.
 - Марокко.
 - Кения.
 - Заир.

- Браззавиль.
- Триполи.
- Луанда.
- Рабат.
- Найроби.
- Киншаса.



Задание №3: Дешифровка.



1) $27,5 + X = 41,83$

К- 69,33 Ж- 14,33 Р- 14,7 С- 13,78

3) $X : 1,4 = 2,05$

М- 5,6 Р- 2,87 К- 8,53 Ч- 7,6

2) $X - 7,18 = 14,2$

И- 21,38 А- 1,12 О- 1,43 У- 8,6

4) $8,3 \times X = 10,79$

Н- 13 А- 1,3 Р- 3,4 В- 5,79

5) $2,25 : X = 1,5$

М-38,63 П- 2,61 Т- 4,39 Ф-1,5

1	2	3	4	5



1

2

3

4

5


Ж

И

Р

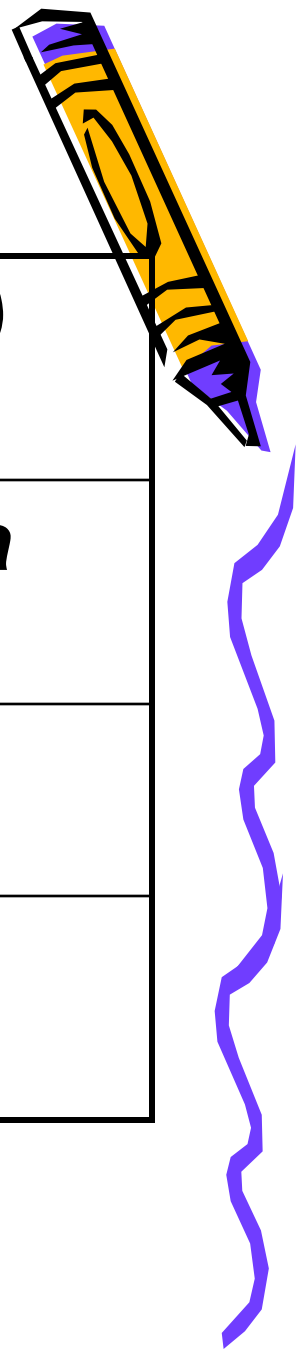
А

Ф





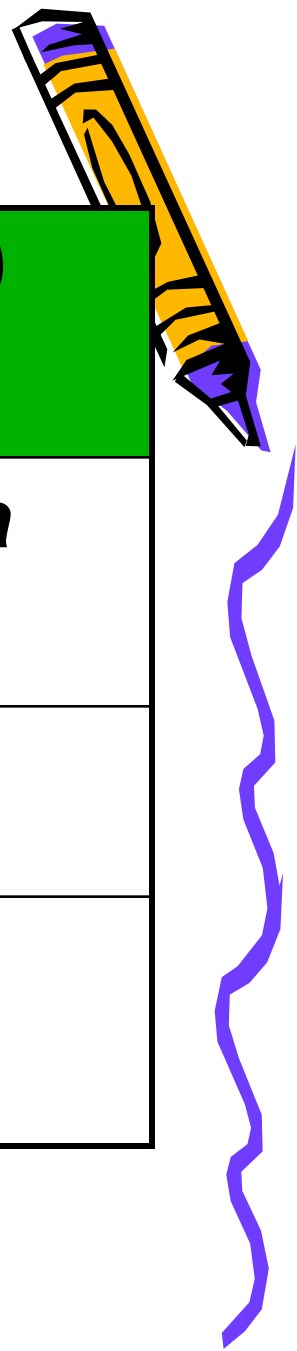
Задание №4:



<i>Розовый фламинго (1,5)</i>	<i>Альбатрос(44)</i>
<i>Лирохвост (8,2)</i>	<i>Райская птица (4,3)</i>
<i>Павлин (3,5)</i>	<i>Марабу (2,5)</i>
<i>Птица – секретарь (7,4)</i>	<i>Какаду (15)</i>



Задание № 4:

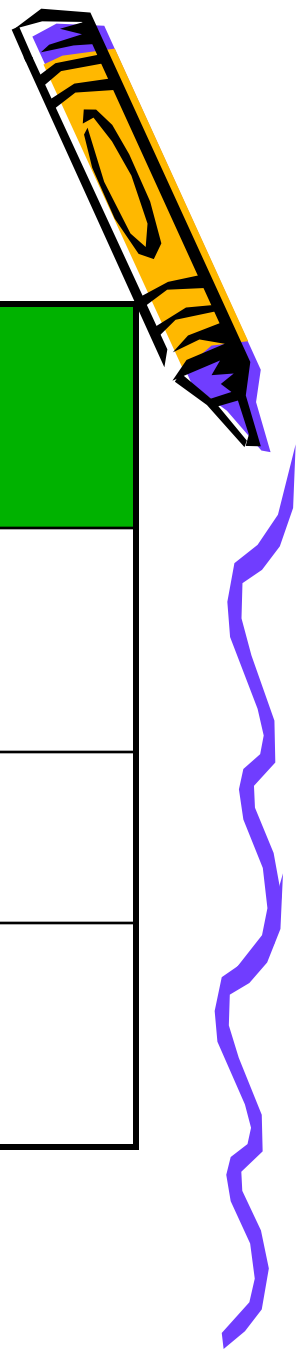


<i>Розовый фламинго (1,5)</i>	<i>Альбатрос(44)</i>
<i>Лирохвост (8,2)</i>	<i>Райская птица (4,3)</i>
<i>Павлин (3,5)</i>	<i>Марабу (2,5)</i>
<i>Птица – секретарь (7,4)</i>	<i>Какаду (15)</i>




Задание № 4:

<i>Розовый фламинго (1,5)</i>	<i>Альбатрос(44)</i>
<i>Лирохвост (8,2)</i>	<i>Райская птица (4,3)</i>
<i>Павлин (3,5)</i>	<i>Марабу (2,5)</i>
<i>Птица – секретарь (7,4)</i>	<i>Какаду (15)</i>



Задание № 4:




Розовый фламинго (1,5)	Альбатрос(44)
Лирохвост (8,2)	Райская птица (4,3)
Павлин (3,5)	Марабу (2,5)
Птица – секретарь (7,4)	Какаду (15)



Задание № 4:

Розовый фламинго (1,5)	Альбатрос(44)
Лирохвост (8,2)	Райская птица (4,3)
Павлин (3,5)	Марабу (2,5)
Птица – секретарь (7,4)	Какаду (15)





Притча.

Шел вождь племени, а навстречу ему три человека, которые везли под горячим солнцем тележки с камнями для строительства. Вождь остановился и задал каждому вопрос. У первого спросил: «Что ты делал целый день?» И тот с ухмылкой ответил, что целый день возил проклятые камни. У второго вождь спросил: «А что ты делал целый день?», и тот ответил: «А я добросовестно выполнял свою работу». А третий улыбнулся, его лицо засветилось радостью и удовольствием: «А я принимал участие в строительстве храма!»

