

7

27

8

71

32

54

90

86

12

14

39

48

5

Считаем быстро и правильно

$$2 \cdot 7 + 40 = 54$$


$$16 - 8 + 24 = 32$$

$$18 - 9 + 45 = 54$$





99



14

39


48

5



**Восстановите неравенство**

$$25 + 8 > 25 +$$




**(7, 6, 5, 4, 3, 2, 1)**





90



**Решите уравнения**

$$x+40=52$$

$$x=52-40$$

$$\underline{x=12}$$

$$12+40=52$$


$$52=52$$







99



14

39

48

5



**ЗАДАЧИ**




**НА**



**ДЕЛЕНИЕ**



**БЫЛО 6 КРУЖКОВ**



**РАЗЛОЖИЛИ НА 3 КУЧКИ**




**СКОЛЬКО КРУЖКОВ В КАЖДОЙ КУЧКЕ?**

**$6 : 3 = 2$  (кр.) – в каждой кучке    В 1 КУЧКЕ**

**ДЕЛЕНИЕ НА РАВНЫЕ ЧАСТИ**

**БЫЛО 6 КРУЖКОВ**




**РАЗЛОЖИЛИ НА КУЧКИ ПО 3 В КАЖДУЮ**

**СКОЛЬКО ВЫШЛО КУЧЕК?**

$$6 : 3 = 2 \text{ (куч.)} - \text{вышло}$$

**ДЕЛЕНИЕ ПО СОДЕРЖАНИЮ**




DOM  
подарка



DOM  
подарка







**DOM**  
подарка

**DOM**  
подарка

**DOM**  
подарк

**DOM**  
подарка

# ФИЗМИНУТК





**СКОЛЬКО ЦВЕТОВ В КАЖДОЙ ВАЗЕ?**

**12**

**$12 : 4 = 3$  (цв.) - в каждой вазе**

**Расставили в 4 вазы**





**ВО СКОЛЬКО ВАЗ ПОСТАВИЛИ ЦВЕТЫ? 12**

**12: 3 = 4 (в.) с цветами**

**РАССТАВИЛИ В ВАЗЫ ПО 3 В КАЖДУЮ**





2 пуч. – 10 р.

1 пуч. – (?) р.

$$10 : 2 = 5 \text{ (р.)}$$

Ответ: 5 редисок в каждом пучке.

Десять редисок разложили на две равные части и связали в пучки. Сколько редисок в каждом пучке?

Желаю

успехов!





1 ряд – 6 т.

? рядов – 12

т.

$$12:6=2 \text{ (р.)}$$

2 ряда – 12

т. ○

1 ряд - ? т.

$$12:2=6 \text{ (т.)}$$