



ЗАДАЧИ




НА



ДЕЛЕНИЕ

БЫЛО 6 КРУЖКОВ



РАЗЛОЖИЛИ НА 3 КУЧКИ




СКОЛЬКО КРУЖКОВ В КАЖДОЙ КУЧКЕ?

$6 : 3 = 2$ (кр.) – в каждой кучке В 1 КУЧКЕ

ДЕЛЕНИЕ НА РАВНЫЕ ЧАСТИ

БЫЛО 6 КРУЖКОВ




РАЗЛОЖИЛИ НА КУЧКИ ПО 3 В КАЖДУЮ

СКОЛЬКО ВЫШЛО КУЧЕК?

$$6 : 3 = 2 \text{ (куч.)} - \text{вышло}$$

ДЕЛЕНИЕ ПО СОДЕРЖАНИЮ




DOM
подарка



DOM
подарка





DOM
подарка

DOM
подарка

DOM
подарк

DOM
подарка

СКОЛЬКО ЦВЕТОВ В КАЖДОЙ ВАЗЕ?

12

$12 : 4 = 3$ (ЦВ.) В КАЖДОЙ ВАЗЕ

Расставили в 4 вазы



ВО СКОЛЬКО ВАЗ ПОСТАВИЛИ ЦВЕТЫ? 12

12: 3 = 4 (В.) С ЦВЕТАМИ

РАССТАВИЛИ В ВАЗЫ ПО 3 В КАЖДУЮ






10 ред. – 2 пуч.

? ред. – 1 пуч.

$10 : 2 = 5$ (ред.) в одном (каждом) пучке.

Десять редисок разложили на две равные части и связали в пучки. Сколько редисок в каждом пучке?

Составить задачу на деление по содержанию



Желаю

успехов!

