


Здравствуйте!



Сложение и вычитание десятичных дробей

(в мире животных)





Цели урока:



- 1. Уметь выполнять сложение и вычитание десятичных дробей.**
- 2. Проверить усвоение материала по изученной теме.**



Этапы урока



**История
дробей**

**Решение
уравнений**

Устная работа


**Восстановлени
е
картинки**

**Зашифрованно
е
слово**

**Логическая
задача**



История дробей.




Первое понятие дроби появилось в древнем Египте.

Слово «дробь» от слова «дробить, разбивать, ломать на части».



Есть поговорка: «Попасть в дроби», что означает у немцев «Попасть в трудное положение».





Вычисли устно.

Какой кошке поклонялись древние индейцы?



Ягуар

4


Рысь

4,0

Гепард

д

4,1



ВЫЧИСЛИ

какую птицу

называли

птицей-легендой?



11

Священны
й ибис



12

Венценос
ый
журавль



10

Белый и черный
аисты



ВЫЧИСЛИ

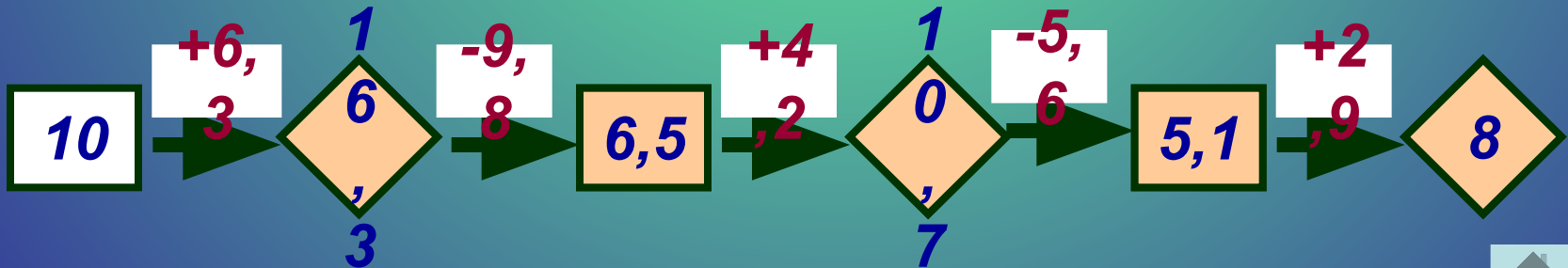
Из шкурок какого зверька шилась
королевская мантия?



Белка 9

Горноста́й 8

Собо́ль 10



Зашифрованное слово

Решите примеры. Отбросьте в таблице ответы и буквы, им соответствующие. Оставшиеся буквы позволят вам прочитать название самой высокой птицы, которая обитает в России.

1) $7,4 + 3,2 = 10,6$
2) $18,6 + 4,2 = 22,8$
3) $7,5 - 0,7 = 6,8$
4) $5,9 + 0,3 = 6,2$

5) $50,2 - 20,2 = 30$
6) $3 - 0,4 = 2,6$
7) $9,5 - 4,3 = 5,2$
8) $4,2 + 2,06 = 6,26$



6,2	62	10,6	5,3	5,2	22,8	22,6	6,08
	Ж		У			Р	А
6,8	30	7,57	6,26	8,2	2,6	82	
		В		Л		Ь	



Решение уравнений

Задание. Найти корень уравнения.

1

1) $x - 2,9 = 3,93$

2) $6,7 - z = 2,8$

3) $(y + 3,5) - 4,8 = 2,4$

2

1) $x + 3,54 = 8,2$

2) $y - 2,7 = 3,4$


3) $(7,1 - z) + 3,9 = 4,5$




СЛОЖИ ПАЗЛ

$8,12+31,$ 5	$12,1-8,$ 7	$17-0,87$
$6,5-4,8$ 37	$7,2+15,6$ 8	$10,09+1,$ 1
$5-0,61$	$11,2+9,$ 6	$33,7-4$

22,8
8
1




20,8
4



3,4
2



11,1
9
5




1,66
3
3



16,1
3
6



29,7
7



39,6
2
8



4,39
9




Решаем №764 (а,б,в,г); №771.



Отгадай

Сигналы с упрощенными правилами. Собирай карточки с верными равенствами. Найди «верные» карточки. Прочитай полученное слово.

1) $5\text{м}17\text{см}=5,17$

И М

2) $12\text{см}=1,2\text{м}$

Д

3) $4\text{м}7\text{см}=4,7\text{м}$

В

4) $320\text{см}=3,2\text{м}$

Г

5) $154\text{дм}=15,4\text{м}$

Р



6) $30\text{м}=0,03\text{км}$

6)

У

7) $3\text{км}250\text{м}=3,25\text{к}$

7)

М Ш

8) $3\text{кг}65\text{г}=3,065\text{кг}$

8)

К

9) $4\text{т}27\text{кг}=4,27\text{т}$

9)

Я

10) $16\text{ц}=1,6\text{т}$

10)

А

Логическая задача

Задача: В лесу проводился кросс. Обсуждая его итоги, одна белка сказала:

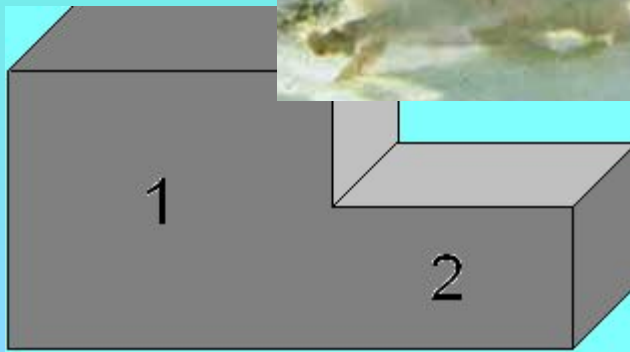
*«Первое место занял заяц,
а второй была лиса».*

Другая возразила:

*«Заяц занял второе место, а лось был
первым».*

*На что филин заметил, что в высказывании
каждой белки одна часть верная, а другая
– нет.*

Кто был первым и кто вторым?



Домашнее задание



- П.4.3
- Знать правило



Вырази своё отношение к уроку



**У меня все
получилось и я
доволен!**



**У меня не совсем
все получилось!**



**У меня ничего не
получилось!**