



Точки, прямые, отрезки

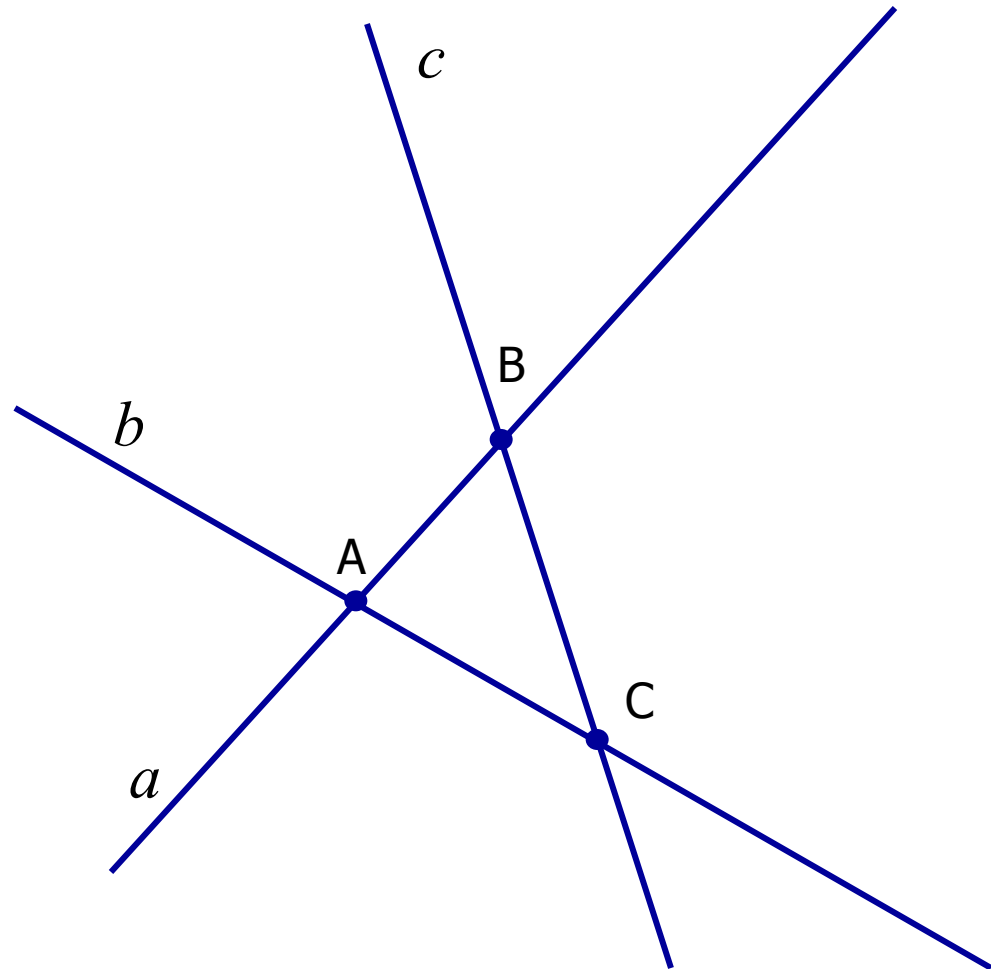
Задания для устного счета
Упражнение 1

7 класс



Ответьте на вопросы:

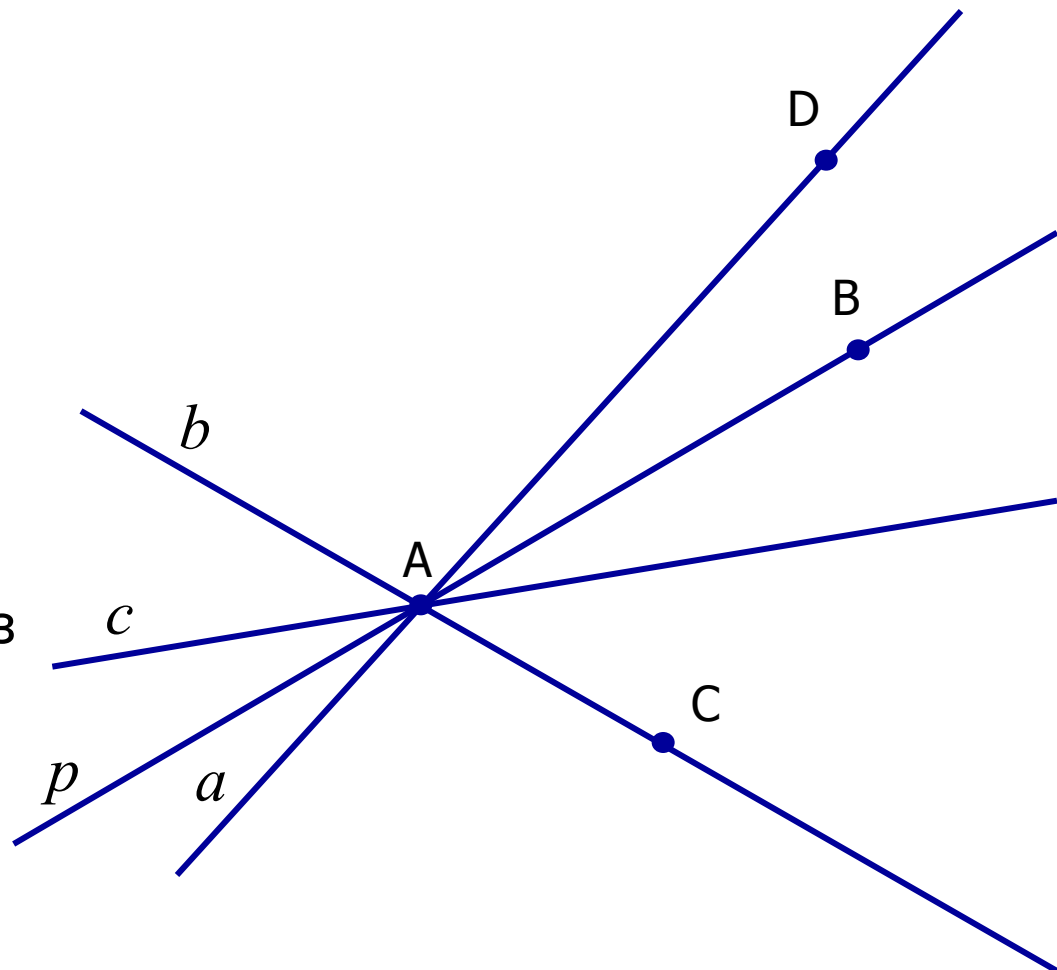
- В какой точке пересекаются прямые a и b ?
- В какой точке пересекаются прямые a и c ?
- В какой точке пересекаются прямые c и b ?
- Какие точки лежат на прямой a ?
- Какие точки не лежат на прямой c ?





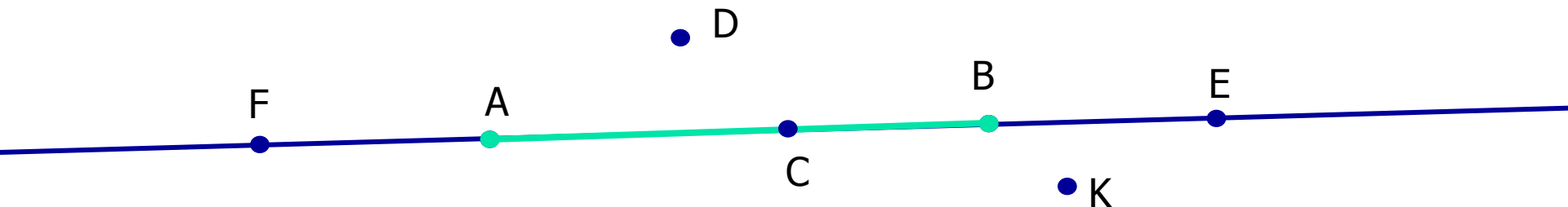
Ответьте на вопросы:

- Сколько прямых можно провести через точку A ?
- Сколько прямых провели через точку A ? Назовите эти прямые.
- На какой прямой лежат точки A и B ; A и C ?
- Какая прямая проходит через точки A и D ?
- Проходит ли какая-нибудь прямая через точки B и C ?





Ответьте на вопросы:



- Сколько прямых можно провести через точки A и B?
- Как называется часть прямой, ограниченная точками A и B?
- Какие точки лежат на отрезке AB?
- Какие точки лежат на прямой AB?
- Какие точки не лежат на прямой AB?
- Какие точки не лежат на отрезке AB?
- Какие точки лежат на прямой CF?




Ответьте на вопросы:

D

A

C

B

- 
- Какие точки лежат на прямой AB?
 - Назовите все отрезки, которые лежат на данной прямой.

