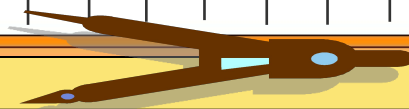





# Десятичные дроби

## Тест

Учитель математики МБОУ ЕСОШ № 11 ст. Егорлыкская  
Душина Л.А.





Запишите в виде десятичной дроби число  
*сто одна целая сто одна  
десятитысячная*


**а) 101,101**

**б) 101,0101**

**в) 1011,01**

**г) 101,00101**

**Молодец!**





Какое из чисел расположено на координатной прямой правее остальных?

Отлично!




5,083

5,1

5,0217

5,0999





Выполните действия:

$$(17,947 - 13,0016 + 1,5094) - (3,816 + 5,14 - 3,99)$$

Здорово!




1,53

1,4888

11,4208

1,496





Округлите число 15,9476 до  
СОТЫХ




15,94

16,0

15,95

15,9





Какую цифру можно поставить вместо , чтобы получить верное неравенство  $27, \text{}376 < 27,2299$ ?

Молодец!




0 или 1

таких нет

любую

2





Решите уравнение:

$$3x + 7,4x - 3,6 - 1,5x = 5,834$$




16

1,6

10,6

Молодец! Впиши  
верный ответ

другой ответ





Представьте число  $4\frac{13}{16}$  в виде десятичной дроби




**Отлично!**

**0,8125**

**4,125**

**4,8125**

**другой ответ**







Найдите скорость течения реки, если за 5 ч  
катер прошел по течению 96,5 км, а за 4,8 ч  
против течения – 81,6 км

Ты гений!  
Впиши ответ



1,7 км / ч

другой ответ

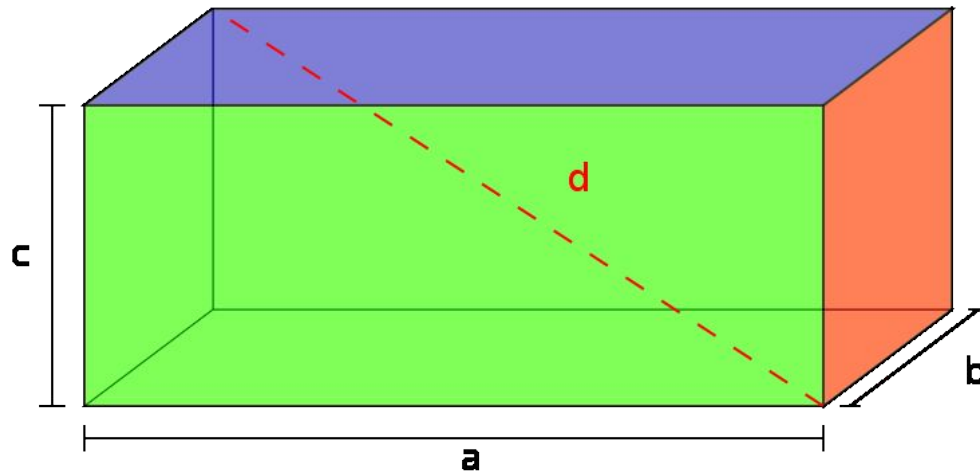
7,45 км / ч

3 км / ч





Найдите объем прямоугольного параллелепипеда, если его длина равна 6,9 см, ширина в 2,5 раза меньше длины, а высота на 0,36 см меньше ширины




45,7056 см<sup>3</sup>

47,61 см<sup>3</sup>



47,1 см<sup>3</sup>

другой ответ





Найдите среднее арифметическое чисел  
5,83; 15,76; 14,931 и 23,519




**Классно!**

30,02

60,04

15,01

240,16





# Тест пройден ! Оцени себя!

Если нет  
ошибок

Если 3-4  
ошибки



Если 1-2  
ошибки

Если более  
4 ошибок



Повтори теорию и  
попробуй ещё раз

